



# أوراق عمل

الدراسات الاجتماعية

الصف الرابع الابتدائي

الفصل الدراسي الثاني

الاسم /

الفصل /



أضع علامة (✓) أمام العبارة الصحيحة، وعلامة (x) أمام العبارة الخاطئة فيما يلي:

- كوكب زُحل من مكونات المجموعة الشمسية.
- الأرض جزء من المجموعة الشمسية التي خلقها الله عز وجل.
- الاكتشافات العلمية لم تسهم في تحديد شكل الأرض.

مم تتكون المجموعة الشمسية؟

.....

.....

.....

أختار الإجابة الصحيحة:

لا نرى الشكل الكروي للأرض لأنها .....		
أ- كبيرة جداً	ب- صغيرة جداً	ج- متوسطة
الرؤية للشكل الكروي للأرض تكون من ارتفاعات .....		
أ- متوسطة	ب- منخفضة جداً	ج- عالية جداً
الأرض .....		
أ- مسطحة	ب- كروية	ج- بيضاوية



أضع علامة (✓) أمام العبارة الصحيحة، وعلامة (x) أمام العبارة الخاطئة فيما يلي:

- يعيش السكان في كل قارات العالم عدا القارة القطبية الجنوبية لشدة الحرارة والجفاف بها.
- يقل عدد السكان في المناطق الساحلية ويزداد في الصحاري.
- شبه الجزيرة هي أرض يابسة محاطة بالماء من جميع الجهات.

أصل المجموعة (أ) بما يناسبها من المجموعة (ب):

(ب)
منطقة خصبة تمتاز بوجود النباتات والمياه الجوفية
أرض منخفضة تجري فيها مياه الأمطار
أرض واسعة ومفتوحة وقليلة الماء والأمطار
كتلة صغيرة مرتفعة ولها قمة.
أرض مرتفعة قليلاً وواسعة ومنبسطة
أرض واسعة ومنبسطة

(أ)
الجبل
الهضبة
السهل
الواحة
الوادي
الصحراء

أكمل الفراغات التالية بما يناسبها مما بين القوسين:

(الجبال - أستراليا - شبه الجزيرة - آسيا)

- أكثر القارات سكاناً هي قارة .....
- يقل عدد السكان في .....
- ..... هي أرض يابسة محاطة بالماء من ثلاث جهات.



أضع علامة (✓) أمام العبارة الصحيحة، وعلامة (x) أمام العبارة الخاطئة فيما يلي:

- يتشابه المناخ والفصول في نصف الكرة الجنوبي ونصف الكرة الشمالي.
- الشمس تشرق من الغرب.
- للأرض حركة واحدة.

ماذا يحدث إذا دارت الأرض حول الشمس؟

.....

.....

.....

أكمل الفراغات التالية بما يناسبها

(البيئي - حرارية - البشري - متنوعة - حركتان)

- دوران الأرض يؤدي إلى فصول مناخية .....
- الأرض لها .....
- تنوع الفصول الأربعة يؤدي إلى التنوع ....., والتنوع في النشاط .....



أضع علامة (✓) أمام العبارة الصحيحة، وعلامة (x) أمام العبارة الخاطئة فيما يلي:

- يظهر القمر بأشكال مختلفة عند دورانه حول الأرض مقابل الشمس.
- السنة القمرية هي المدة التي يأخذها القمر ليتم ١١ دورة.
- السنة الهجرية تبدأ بشهر المحرم وتنتهي بشهر ذي الحجة.

أقارن بين كسوف الشمس وخسوف القمر:

خسوف القمر	كسوف الشمس

أكمل الفراغات التالية بما يناسبها:

(القمر - الهجرية - شهر)

- القمر يدور حول الأرض مرة كل .....
- السنة القمرية تسمى بالسنة ..... عند العرب والمسلمين.
- جرم سماوي تابع للأرض غير مضيء، وهو يعكس لنا ضوء الشمس، ونحن لا نرى منه سوى الجهة المضيئة، وأما الجهة الأخرى لا نراها؛ لأنها مظلمة.



أضع علامة (✓) أمام العبارة الصحيحة، وعلامة (X) أمام العبارة الخاطئة فيما يلي:

- تساعد الخريطة على معرفة المدن داخل الوطن ومعرفة المسافات بينها.
- الخريطة من أحدث الوسائل التي ابتكرها الإنسان من أجل معرفة المظاهر الطبيعية والمكان الذي نعيش فيه.
- الخريطة لها ٦ عناصر أساسية.

أصل المجموعة (أ) بما يناسبها من المجموعة (ب):

(ب)	(أ)
يحدد اتجاه الشمال ومن خلاله تعرف باقي الاتجاهات.	عنوان الخريطة
نسبة ما بين الأبعاد على الطبيعة والابعاد على الخريطة	مفتاح الخريطة
رموز وألوان تشير إلى ما أدرج داخل الخريطة.	مقياس الرسم
هو ما يحيط بالخريطة من الخارج.	تحديد الاتجاه
يقصد به موضوع الخريطة ونوعها.	الإطار

أكمل الفراغات التالية بما يناسبها:

**(الأماكن - الخريطة - إلكترونية)**

- الخريطة الرقمية هي خريطة ..... يمكن الحصول عليها من التطبيقات الحاسوبية مثل جوجل إيرث.
- الخريطة تساعد على تحديد ..... ومواقعها.
- ..... هي رسم توضيحي لسطح الأرض أو جزء منه.



أضع علامة (✓) أمام العبارة الصحيحة، وعلامة (x) أمام العبارة الخاطئة فيما يلي:

- لكل فرد في الأسرة قدرات، وإمكانات، ومهارات.
- المدرسة لا تشبه الأسرة.
- الأسرة هي أساس المجتمع وتتكون من الأب والأم والأولاد.

ما أهمية الأسرة؟

.....

.....

.....

.....

أكمل الفراغات التالية بما يناسبها:

(العمل - صفات خاصة - طموحات)

- لكل فرد في الأسرة ..... في المستقبل.
- من مهام الأسرة ..... معاً.
- لكل فرد في الأسرة ..... تميزه عن غيره.



أضع علامة (✓) أمام العبارة الصحيحة، وعلامة (x) أمام العبارة الخاطئة فيما يلي:

- من واجبات الطلبة الحصول على الكتب المدرسية.
- يحق لطلبة المدارس تناول وجبة غذائية صحية وقت الفسحة.
- المواطن الصالح هو المواطن الذي لا يتقيد بالنظام.

أقارن بين الحقوق والمسؤوليات:

المسؤوليات	الحقوق

أكمل الفراغات التالية بما يناسبها:

(بالمسؤولية- الحقوق- بالنظام- يحضر مبكراً)

- المواطن الصالح هو المواطن الذي يتقيد .....، ويشعر .....، ويؤدي الواجبات، وينتمي لوطنه، ويحرص على أمنه.
- ..... ما يستحقه الطلبة في حياتهم.
- من واجبات الطالب أن .....



أضع علامة (✓) أمام العبارة الصحيحة، وعلامة (x) أمام العبارة الخاطئة فيما يلي:

- عوامل النجاح ٧ عوامل.
- العمل الجماعي يكون بين اثنين أو أكثر.
- يهدف العمل الجماعي إلى تحقيق المتطلبات الشخصية.

هل يمكن أن يؤدي شخص واحد عمل الجميع؟ ولماذا؟

.....

.....

.....

.....

أختار الإجابة الصحيحة:

عند العمل معاً ننهي العمل .....، وبجودة أفضل.		
أ- بسرعة	ب- ببطء	ج- باعتدال
من عوامل نجاح العمل الجماعي .....		
أ- نحدد الهدف	ب- نخطط للعمل	ج- أ وب معاً
العمل الجماعي يعتمد على ..... عوامل تساعد على نجاحه.		
أ- ٦	ب- ٥	ج- ٧



# أوراق عمل

الدراسات الاجتماعية

الصف الرابع الابتدائي

الفصل الدراسي الثاني

الاسم /

الفصل /



بسم الله الرحمن الرحيم

ورقة عمل درس ( الأرض )

اسم الطالب : ..... الصف : رابع / .....

=====

س / ما المقصود بالأرض ؟

ج / .....



س / ما شكل الأرض ؟

ج / .....

س / هل التقطت صورة الكرة الأرضية في الشكل التالي من مكان

مرتفع من الأرض أو من الفضاء ؟

ج / .....



بسم الله الرحمن الرحيم

ورقة عمل درس ( الأرض )

اسم الطالب : ..... الصف : رابع / .....

=====

س / ما المقصود بالأرض ؟

ج / .....



س / ما شكل الأرض ؟

ج / .....

س / هل التقطت صورة الكرة الأرضية في الشكل التالي من مكان

مرتفع من الأرض أو من الفضاء ؟

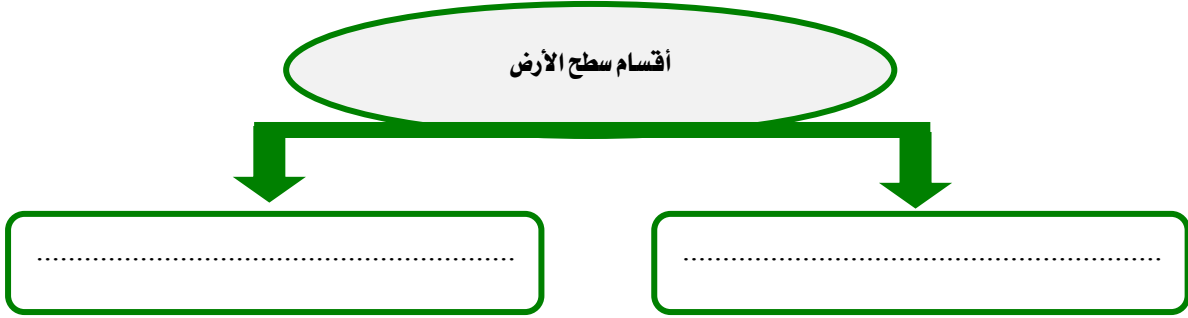
ج / .....



بسم الله الرحمن الرحيم  
ورقة عمل درس ( أشكال سطح الأرض )

اسم الطالب : ..... الصف : رابع / .....

س / ينقسم سطح الأرض إلى قسمين ، أذكرهما ؟



س / أكمل الفراغات التالية بما يناسب :

أ - من أشكال اليابسة على سطح الأرض :

الجبال و ..... و ..... و .....

ب - من أشكال الماء على سطح الأرض :

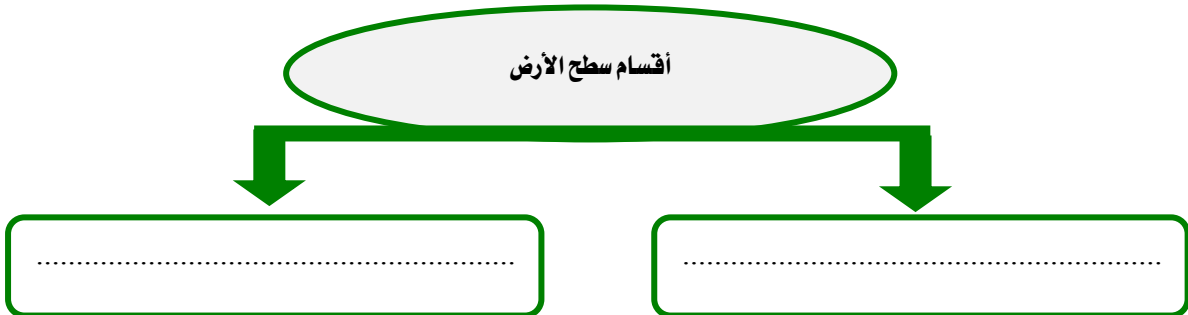
المحيطات و ..... و .....



بسم الله الرحمن الرحيم  
ورقة عمل درس ( أشكال سطح الأرض )

اسم الطالب : ..... الصف : رابع / .....

س / ينقسم سطح الأرض إلى قسمين ، أذكرهما ؟



س / أكمل الفراغات التالية بما يناسب :

أ - من أشكال اليابسة على سطح الأرض :

الجبال و ..... و ..... و .....

ب - من أشكال الماء على سطح الأرض :

المحيطات و ..... و .....



بسم الله الرحمن الرحيم  
ورقة عمل درس ( دوران الأرض )

اسم الطالب : ..... الصف : رابع / .....

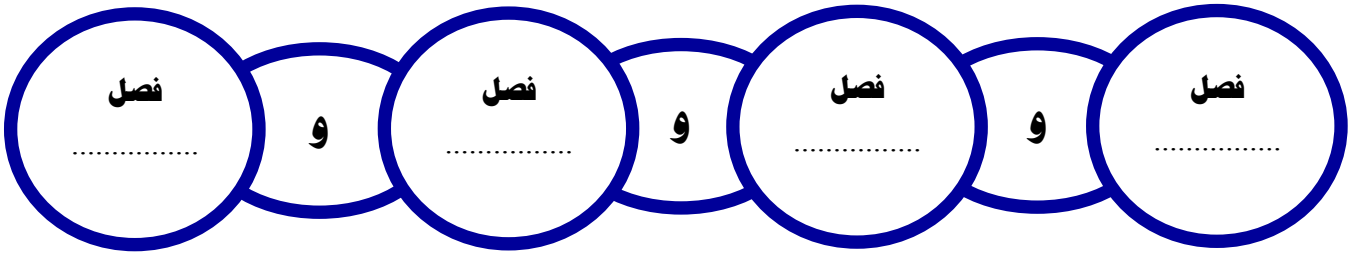
س / أكمل الفراغات التالية بما يناسب :

للأرض حركتان :

• الأولى : ..... وينتج عنها تعاقب ..... و .....

• الثانية : ..... وتنتج عنها .....

س / اكتب في الشكل الآتي الفصول الأربعة :



بسم الله الرحمن الرحيم  
ورقة عمل درس ( دوران الأرض )

اسم الطالب : ..... الصف : رابع / .....

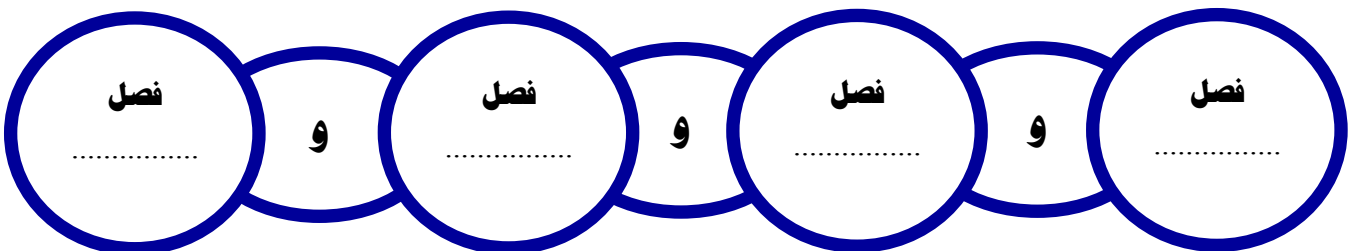
س / أكمل الفراغات التالية بما يناسب :

للأرض حركتان :

• الأولى : ..... وينتج عنها تعاقب ..... و .....

• الثانية : ..... وتنتج عنها .....

س / اكتب في الشكل الآتي الفصول الأربعة :





بسم الله الرحمن الرحيم

ورقة عمل درس ( دوران القمر حول الأرض )

اسم الطالب : ..... الصف : رابع / .....

س / ما المقصود بالقمر ؟

ج / .....

س / أكمل الفراغات التالية بما يناسب :

- أ - نحن نرى الجزء ..... فقط من القمر .
- ب - نسمي القمر المكتمل .....
- ج - عندما يبدأ الشهر فإننا نرى .....

س / ضع علامة (  $\checkmark$  ) أمام العبارة الصحيحة وعلامة (  $\times$  ) أمام العبارة الخاطئة فيما يلي :

- ١ - يدور القمر حول الأرض مرة كل شهر
- ٢ - كسوف الشمس هو احتجاب ضوء الشمس عن جزء من الأرض ، وذلك عندما يتوسط القمر بينهما



بسم الله الرحمن الرحيم

ورقة عمل درس ( دوران القمر حول الأرض )

اسم الطالب : ..... الصف : رابع / .....

س / ما المقصود بالقمر ؟

ج / .....

س / أكمل الفراغات التالية بما يناسب :

- أ - نحن نرى الجزء ..... فقط من القمر .
- ب - نسمي القمر المكتمل .....
- ج - عندما يبدأ الشهر فإننا نرى .....

س / ضع علامة (  $\checkmark$  ) أمام العبارة الصحيحة وعلامة (  $\times$  ) أمام العبارة الخاطئة فيما يلي :

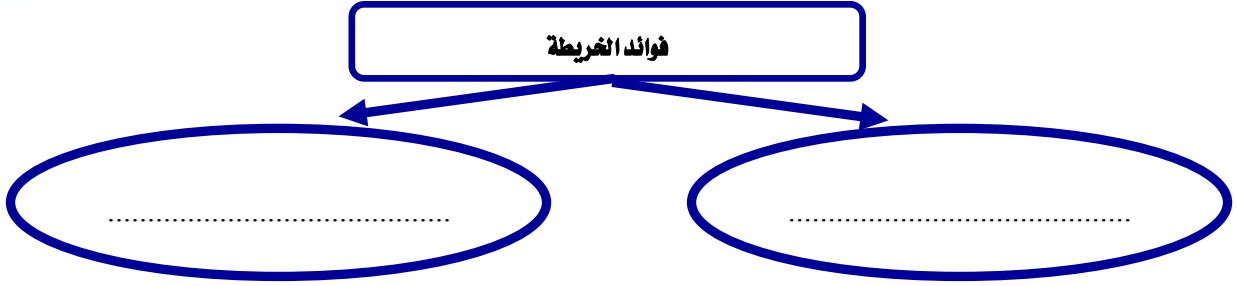
- ١ - يدور القمر حول الأرض مرة كل شهر
- ٢ - كسوف الشمس هو احتجاب ضوء الشمس عن جزء من الأرض ، وذلك عندما يتوسط القمر بينهما



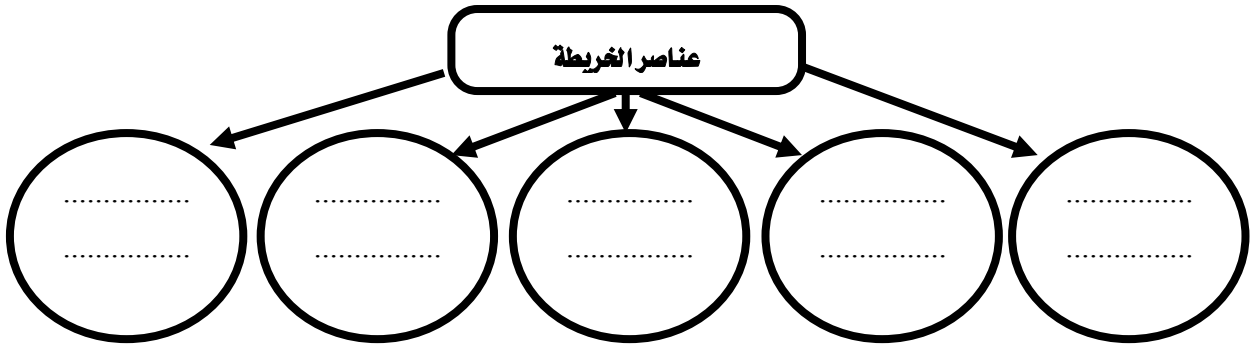
بسم الله الرحمن الرحيم  
ورقة عمل درس ( الخريطة )

اسم الطالب : ..... الصف : رابع / .....

س / اذكر فوائد الخريطة ؟



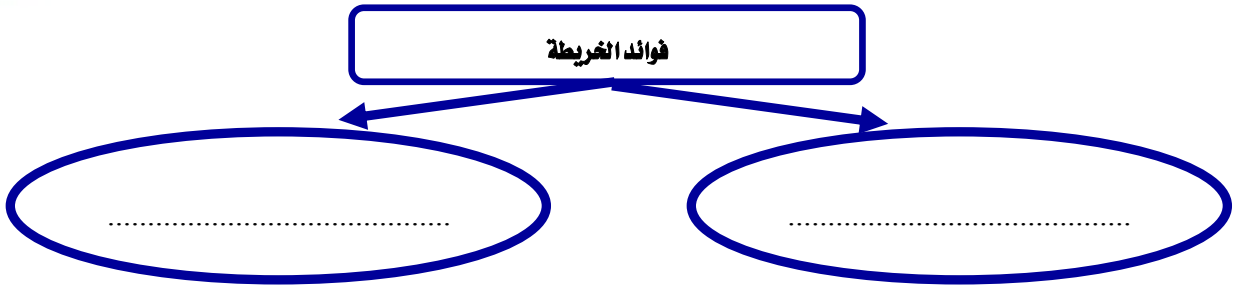
س / اذكر عناصر الخريطة في الشكل التالي :



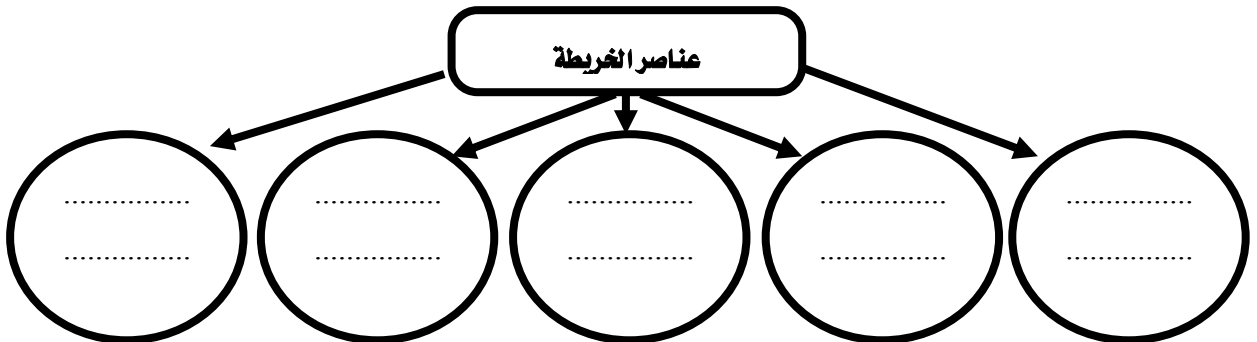
بسم الله الرحمن الرحيم  
ورقة عمل درس ( الخريطة )

اسم الطالب : ..... الصف : رابع / .....

س / اذكر فوائد الخريطة ؟



س / اذكر عناصر الخريطة في الشكل التالي :





بسم الله الرحمن الرحيم  
ورقة عمل درس ( الأسرة والمجتمع )

اسم الطالب : ..... الصف : رابع / .....

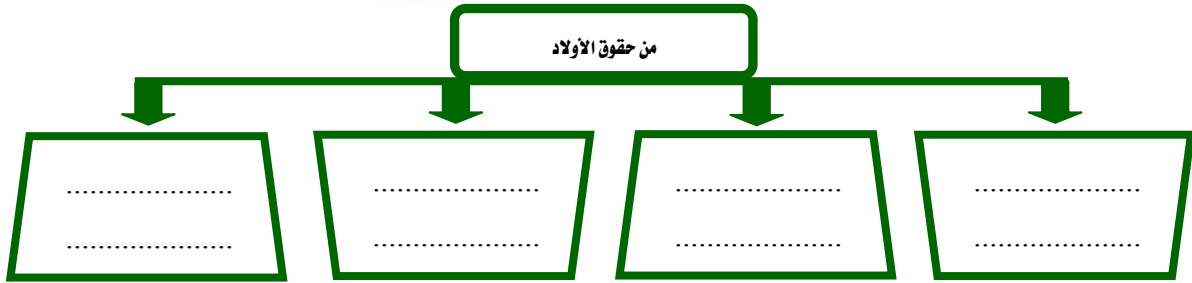
س / أكمل الفراغات التالية بما يناسب :

أ- الأسرة أساس ..... وتتكون من ..... و..... و.....

ب- يتكون المجتمع من عدة .....  
س / أكمل حقوق الأب والأم في الشكل التالي :



س / للأولاد حقوق على الوالدين ، فما هي ؟



بسم الله الرحمن الرحيم  
ورقة عمل درس ( الأسرة والمجتمع )

اسم الطالب : ..... الصف : رابع / .....

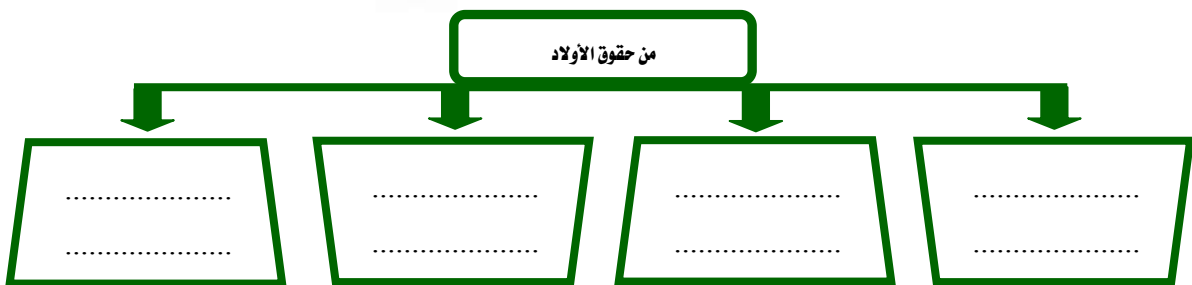
س / أكمل الفراغات التالية بما يناسب :

أ- الأسرة أساس ..... وتتكون من ..... و..... و.....

ب- يتكون المجتمع من عدة .....  
س / أكمل حقوق الأب والأم في الشكل التالي :



س / للأولاد حقوق على الوالدين ، فما هي ؟





بسم الله الرحمن الرحيم

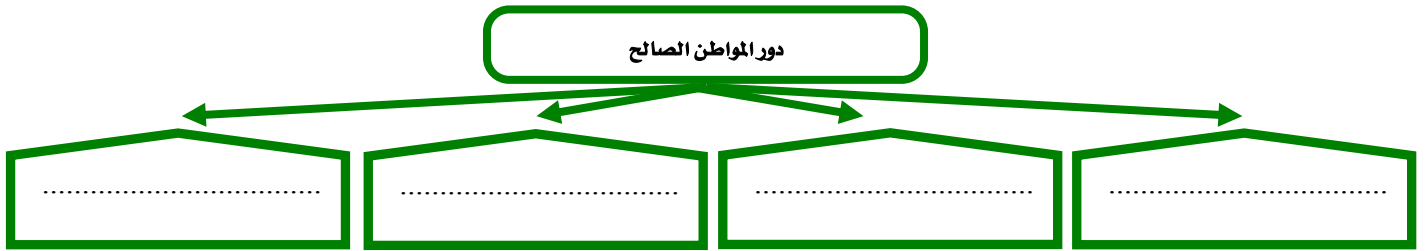
ورقة عمل درس ( الحقوق والمسؤوليات )

اسم الطالب : ..... الصف : رابع / .....

س / ضع علامة ( √ ) أمام العبارة الصحيحة وعلامة ( × ) أمام العبارة الخاطئة فيما يلي :

- ١- الحقوق ما يستحقه الطلبة في حياتهم
- ٢- من واجباتي في المدرسة أن احضر مبكراً
- ٣- من مسؤولياتي احترام حقوق الآخرين ومعلوماتهم

س / يؤدي المواطن الصالح دوراً مهماً في خدمة وطنه بعدة أمور ، اذكرها :



بسم الله الرحمن الرحيم

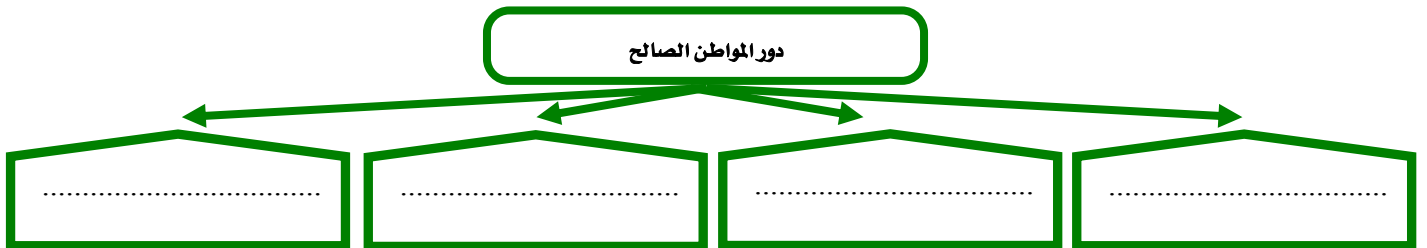
ورقة عمل درس ( الحقوق والمسؤوليات )

اسم الطالب : ..... الصف : رابع / .....

س / ضع علامة ( √ ) أمام العبارة الصحيحة وعلامة ( × ) أمام العبارة الخاطئة فيما يلي :

- ١- الحقوق ما يستحقه الطلبة في حياتهم
- ٢- من واجباتي في المدرسة أن احضر مبكراً
- ٣- من مسؤولياتي احترام حقوق الآخرين ومعلوماتهم

س / يؤدي المواطن الصالح دوراً مهماً في خدمة وطنه بعدة أمور ، اذكرها :





بسم الله الرحمن الرحيم

ورقة عمل درس ( العمل الجماعي )

اسم الطالب : ..... الصف : رابع / .....

س / اذكر ثلاثاً من فوائد العمل الجماعي :



س / ضع علامة ( √ ) أمام العبارة الصحيحة وعلامة ( × ) أمام العبارة الخاطئة فيما يلي :

- ١- العمل الجماعي يكون بين اثنين أو أكثر
- ٢- تحديد الهدف من العمل من العوامل التي تحقق النجاح في العمل الجماعي
- ٣- نوزع العمل من اجل نجاح العمل الجماعي

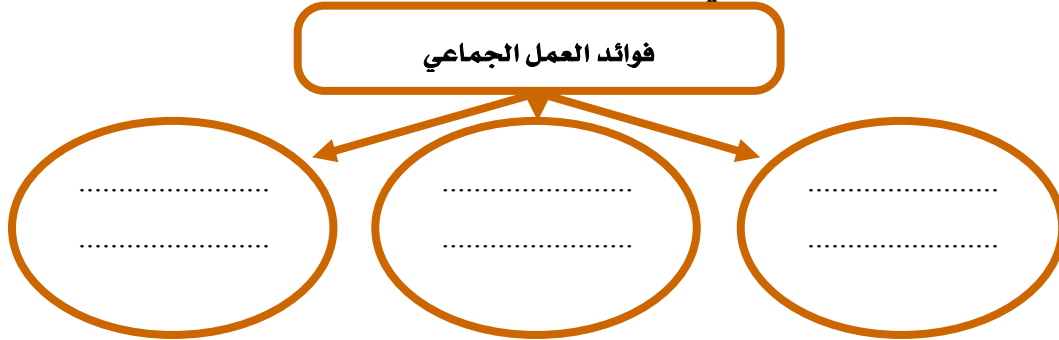


بسم الله الرحمن الرحيم

ورقة عمل درس ( العمل الجماعي )

اسم الطالب : ..... الصف : رابع / .....

س / اذكر ثلاثاً من فوائد العمل الجماعي :



س / ضع علامة ( √ ) أمام العبارة الصحيحة وعلامة ( × ) أمام العبارة الخاطئة فيما يلي :

- ١- العمل الجماعي يكون بين اثنين أو أكثر
- ٢- تحديد الهدف من العمل من العوامل التي تحقق النجاح في العمل الجماعي
- ٣- نوزع العمل من اجل نجاح العمل الجماعي



بسم الله الرحمن الرحيم

ورقة عمل درس ( شبه الجزيرة العربية : الموقع والحضارة )

اسم الطالب : ..... الصف : رابع / .....

س / أكمل الفراغات التالية بما يناسب :

- ..... ومن الشرق .....
- ..... ومن الجنوب ..... ومن الشمال .....

س / تعد شبه الجزيرة العربية مهد الحضارات اذكر اهمها :



س / ضع علامة ( √ ) أمام العبارة الصحيحة وعلامة ( × ) أمام العبارة الخاطئة فيما يلي :

- ١ - تقع شبه الجزيرة العربية في الجنوب الغربي من قارة آسيا
- ٢ - من واجبتنا تجاه الحضارات القديمة في وطننا المملكة العربية السعودية المحافظة عليها
- ٣ - تقع حضارة ثمود في مدائن صالح في مصر



بسم الله الرحمن الرحيم

ورقة عمل درس ( شبه الجزيرة العربية : الموقع والحضارة )

اسم الطالب : ..... الصف : رابع / .....

س / أكمل الفراغات التالية بما يناسب :

- ..... ومن الشرق .....
- ..... ومن الجنوب ..... ومن الشمال .....

س / تعد شبه الجزيرة العربية مهد الحضارات اذكر اهمها :



س / ضع علامة ( √ ) أمام العبارة الصحيحة وعلامة ( × ) أمام العبارة الخاطئة فيما يلي :

- ١ - تقع شبه الجزيرة العربية في الجنوب الغربي من قارة آسيا
- ٢ - من واجبتنا تجاه الحضارات القديمة في وطننا المملكة العربية السعودية المحافظة عليها
- ٣ - تقع حضارة ثمود في مدائن صالح في مصر

بسم الله الرحمن الرحيم

ورقة عمل درس ( شبه الجزيرة العربية : السكان وأحوالهم )

اسم الطالب : ..... الصف : رابع / .....

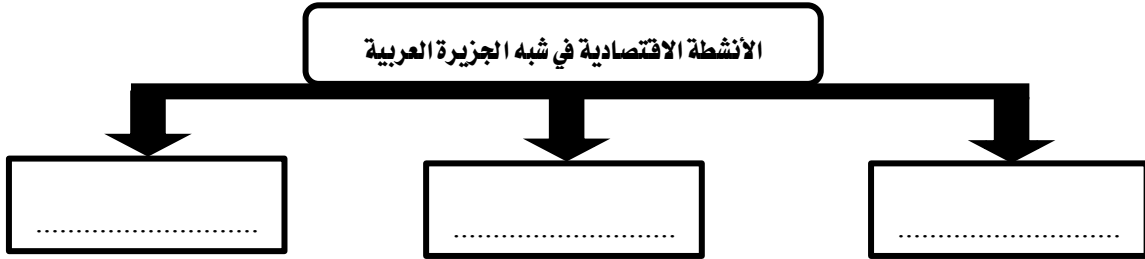
س / سكن العرب أرض شبه الجزيرة العربية منذ آلاف السنين ، وينقسمون إلى قسمين أذكرهما :

١ - .....  
٢ - .....

س / ضع علامة ( √ ) أمام العبارة الصحيحة وعلامة ( × ) أمام العبارة الخاطئة فيما يلي :

- ١ - الحنيفية هي ملة إبراهيم عليه السلام
- ٢ - اتسم العرب بالقيم الأخلاقية الحميدة
- ٣ - كانت النزاعات والحروب هي السمة البارزة بين القبائل في شبه الجزيرة العربية قبل الإسلام

س / عدد أهم الأنشطة الاقتصادية في شبه الجزيرة العربية :



بسم الله الرحمن الرحيم

ورقة عمل درس ( شبه الجزيرة العربية : السكان وأحوالهم )

اسم الطالب : ..... الصف : رابع / .....

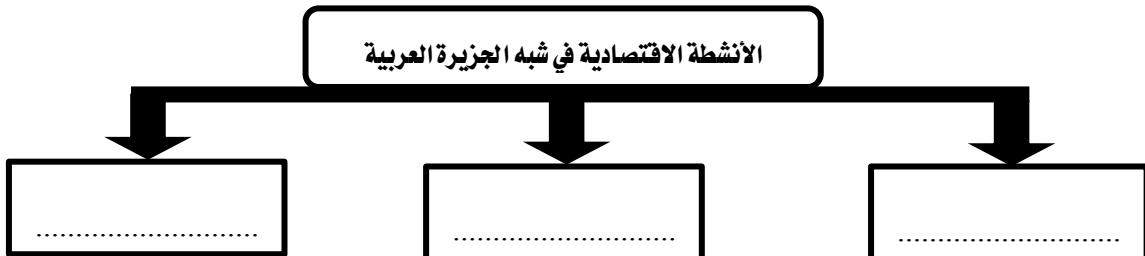
س / سكن العرب أرض شبه الجزيرة العربية منذ آلاف السنين ، وينقسمون إلى قسمين أذكرهما :

١ - .....  
٢ - .....

س / ضع علامة ( √ ) أمام العبارة الصحيحة وعلامة ( × ) أمام العبارة الخاطئة فيما يلي :

- ١ - الحنيفية هي ملة إبراهيم عليه السلام
- ٢ - اتسم العرب بالقيم الأخلاقية الحميدة
- ٣ - كانت النزاعات والحروب هي السمة البارزة بين القبائل في شبه الجزيرة العربية قبل الإسلام

س / عدد أهم الأنشطة الاقتصادية في شبه الجزيرة العربية :



بسم الله الرحمن الرحيم  
ورقة عمل درس ( قبلة المسلمين )

اسم الطالب : ..... الصف : رابع / .....

س / أكمل الفراغات التالية بما يناسب :

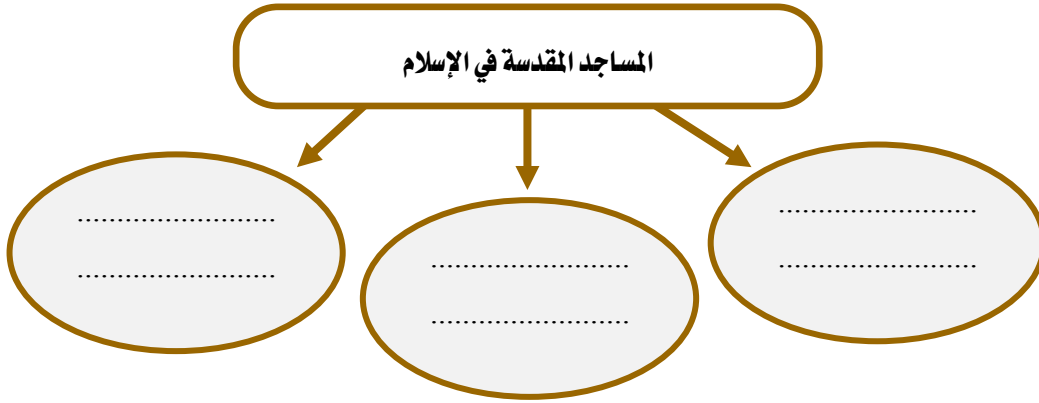
- أول قبلة للمسلمين قبل الكعبة المشرفة هي .....

- تقع قبلة المسلمين في ..... وفيها المدن المقدسة الآتية

و.....

- يقع بيت المقدس في ..... ويقع مسجد القبلتين في .....

س / عدد المساجد المقدسة في الإسلام :



بسم الله الرحمن الرحيم  
ورقة عمل درس ( قبلة المسلمين )

اسم الطالب : ..... الصف : رابع / .....

س / أكمل الفراغات التالية بما يناسب :

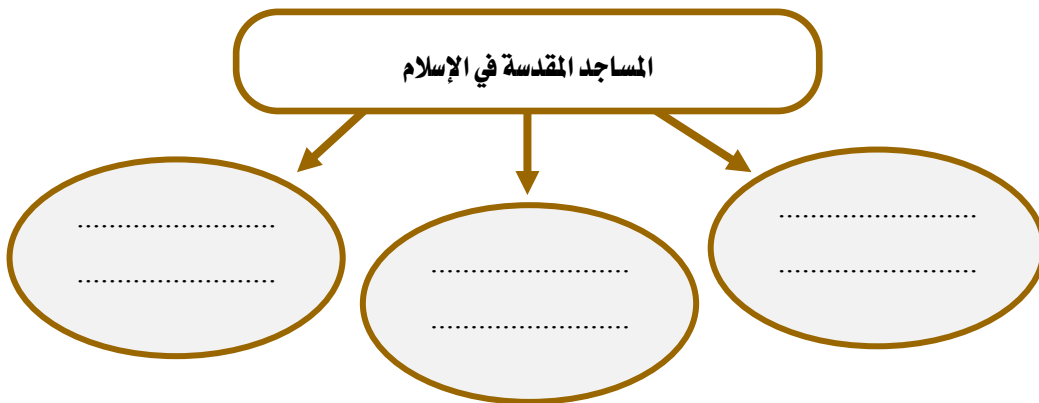
- أول قبلة للمسلمين قبل الكعبة المشرفة هي .....

- تقع قبلة المسلمين في ..... وفيها المدن المقدسة الآتية

و.....

- يقع بيت المقدس في ..... ويقع مسجد القبلتين في .....

س / عدد المساجد المقدسة في الإسلام :





بسم الله الرحمن الرحيم

ورقة عمل درس ( الأثار )

اسم الطالب : ..... الصف : رابع / .....

س / في وطني المملكة العربية السعودية أثار تعود في تاريخها إلى آلاف السنين أذكرها :

..... / ٢

..... / ١

..... / ٤

..... / ٣

س / اختر الاجابة الصحيحة من بين الأقواس فيما يلي :

( جدة - الرياض - الطائف )

١ - يقع المتحف الوطني في بلادي في

( القصيم - نجران - جازان )

٢ - تقع أثار الأخدود في

( العلا - الدمام - الرياض )

٣ - تقع مدائن صالح في

س / لماذا نهتم بالآثار؟

ج / .....



بسم الله الرحمن الرحيم

ورقة عمل درس ( الأثار )

اسم الطالب : ..... الصف : رابع / .....

س / في وطني المملكة العربية السعودية أثار تعود في تاريخها إلى آلاف السنين أذكرها :

..... / ٢

..... / ١

..... / ٤

..... / ٣

س / اختر الاجابة الصحيحة من بين الأقواس فيما يلي :

( جدة - الرياض - الطائف )

١ - يقع المتحف الوطني في بلادي في

( القصيم - نجران - جازان )

٢ - تقع أثار الأخدود في

( العلا - الدمام - الرياض )

٣ - تقع مدائن صالح في

س / لماذا نهتم بالآثار؟

ج / .....



بسم الله الرحمن الرحيم

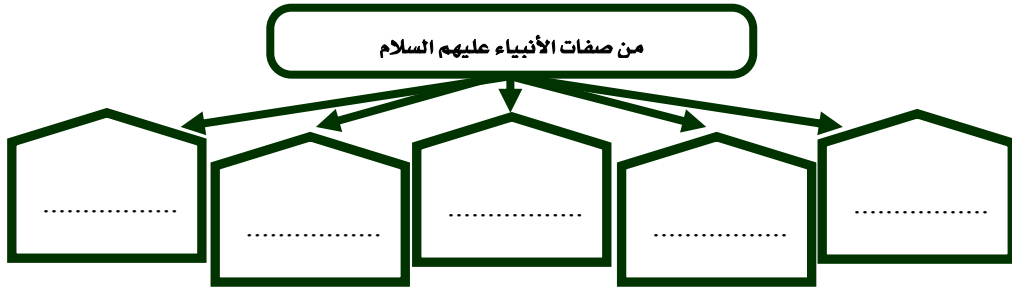
ورقة عمل درس ( آدم ونوح عليهم السلام )

اسم الطالب : ..... الصف : رابع / .....

س / ضع علامة ( √ ) أمام العبارة الصحيحة وعلامة ( × ) أمام العبارة الخاطئة فيما يلي :

- ١- أول نبي من أنبياء الله تعالى هو آدم عليه السلام
- ٢- جميع البشر بمختلف ألوانهم وأشكالهم هم من ذرية آدم عليه السلام
- ٣- أخذ نبي الله نوح يدعو قومه إلى توحيد الله ٩٥٠ عاماً
- ٤- أمر الله عز وجل نوح عليه السلام ببناء الحصون والقلاع لنجاتهم

س / اذكر صفات الأنبياء عليهم السلام :



بسم الله الرحمن الرحيم

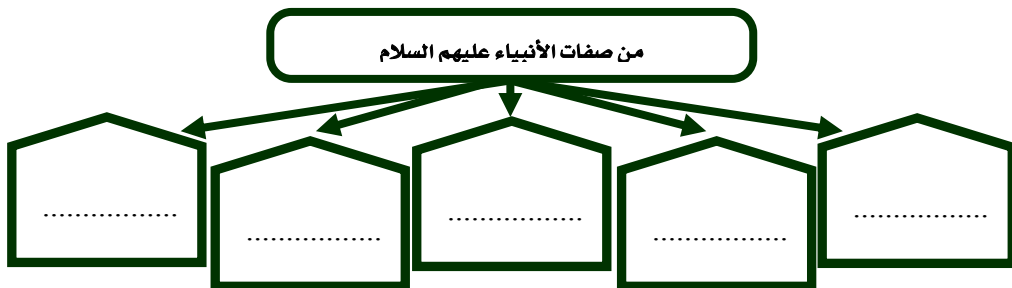
ورقة عمل درس ( آدم ونوح عليهم السلام )

اسم الطالب : ..... الصف : رابع / .....

س / ضع علامة ( √ ) أمام العبارة الصحيحة وعلامة ( × ) أمام العبارة الخاطئة فيما يلي :

- ١- أول نبي من أنبياء الله تعالى هو آدم عليه السلام
- ٢- جميع البشر بمختلف ألوانهم وأشكالهم هم من ذرية آدم عليه السلام
- ٣- أخذ نبي الله نوح يدعو قومه إلى توحيد الله ٩٥٠ عاماً
- ٤- أمر الله عز وجل نوح عليه السلام ببناء الحصون والقلاع لنجاتهم

س / اذكر صفات الأنبياء عليهم السلام :



بسم الله الرحمن الرحيم  
ورقة عمل درس ( أولو العزم من الرسل )

اسم الطالب : ..... الصف : رابع / .....

أولو العزم من الرسل

س / اذكر أولو العزم من الرسل فيما يلي :

..... .....	..... .....	..... .....	..... .....	..... .....
----------------	----------------	----------------	----------------	----------------

س / اكتب أسماء الكتب السماوية المنزلة على الأنبياء عليهم السلام أمام كل نبي فيما يلي :

الكتب المنزل عليهم	الأنبياء عليهم السلام
.....	١ - موسى عليه السلام
.....	٢ - عيسى عليه السلام
.....	٣ - محمد صلى الله عليه وسلم

س / بماذا يلقب الأنبياء التالية أسمائهم :

..... ٢ - موسى عليه السلام	..... ١ - إبراهيم عليه السلام
..... ٣ - عيسى عليه السلام	

بسم الله الرحمن الرحيم

ورقة عمل درس ( أولو العزم من الرسل )

اسم الطالب : ..... الصف : رابع / .....

أولو العزم من الرسل

س / اذكر أولو العزم من الرسل فيما يلي :

..... .....	..... .....	..... .....	..... .....	..... .....
----------------	----------------	----------------	----------------	----------------

س / اكتب أسماء الكتب السماوية المنزلة على الأنبياء عليهم السلام أمام كل نبي فيما يلي :

الكتب المنزل عليهم	الأنبياء عليهم السلام
.....	١ - موسى عليه السلام
.....	٢ - عيسى عليه السلام
.....	٣ - محمد صلى الله عليه وسلم

س / بماذا يلقب الأنبياء التالية أسمائهم :

..... ٢ - موسى عليه السلام	..... ١ - إبراهيم عليه السلام
..... ٣ - عيسى عليه السلام	

بسم الله الرحمن الرحيم

ورقة عمل درس ( نسب النبي محمد صلى الله عليه وسلم ونشأته )

اسم الطالب : ..... الصف : رابع / .....

س / اذكر نسب نبينا محمد صلى الله عليه وسلم ؟

ج / .....

س / صل ما في المجموعة ( أ ) بما يناسبها في المجموعة ( ب ) بالاستعانة بالأرقام :

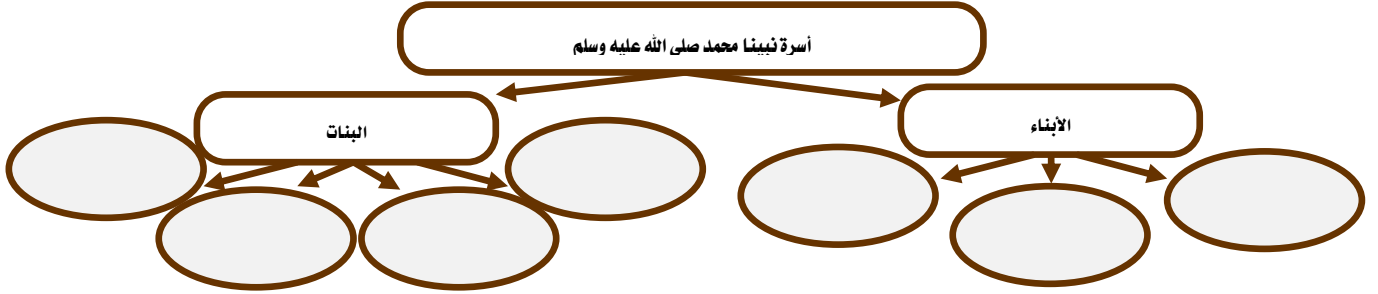
( أ )	( ب )
١- ولد نبينا محمد صلى الله عليه وسلم	( ) خديجة رضي الله عنها
٢- مرضعة نبينا محمد صلى الله عليه وسلم	( ) حليلة السعدية
٣- من زوجات نبينا محمد صلى الله عليه وسلم	( ) في عام الفيل

س / اشتهر نبينا محمد صلى الله عليه وسلم بصفتين اذكرهما ؟

٢- .....

١- .....

س / عدد أسرة نبينا محمد صلى الله عليه وسلم في الشكل التالي ؟



بسم الله الرحمن الرحيم

ورقة عمل درس ( نسب النبي محمد صلى الله عليه وسلم ونشأته )

اسم الطالب : ..... الصف : رابع / .....

س / اذكر نسب نبينا محمد صلى الله عليه وسلم ؟

ج / .....

س / صل ما في المجموعة ( أ ) بما يناسبها في المجموعة ( ب ) بالاستعانة بالأرقام :

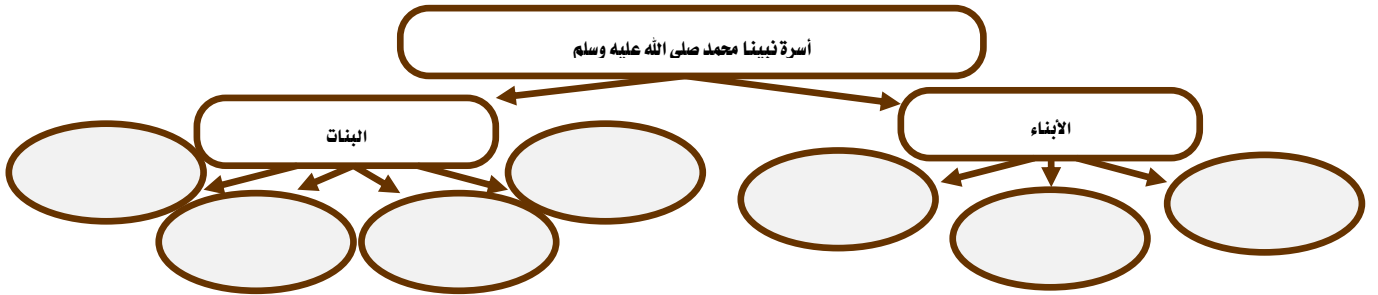
( أ )	( ب )
١- ولد نبينا محمد صلى الله عليه وسلم	( ) خديجة رضي الله عنها
٢- مرضعة نبينا محمد صلى الله عليه وسلم	( ) حليلة السعدية
٣- من زوجات نبينا محمد صلى الله عليه وسلم	( ) في عام الفيل

س / اشتهر نبينا محمد صلى الله عليه وسلم بصفتين اذكرهما ؟

٢- .....

١- .....

س / عدد أسرة نبينا محمد صلى الله عليه وسلم في الشكل التالي ؟





بسم الله الرحمن الرحيم

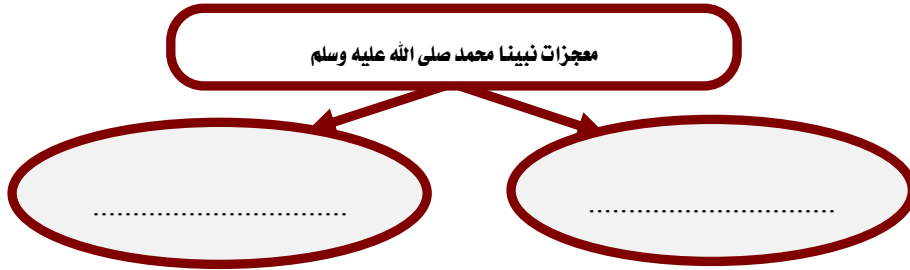
ورقة عمل درس ( بعثة النبي محمد صلى الله عليه وسلم )

اسم الطالب : ..... الصف : رابع / .....

س / ضع علامة ( √ ) أمام العبارة الصحيحة وعلامة ( × ) أمام العبارة الخاطئة فيما يلي :

- ١ - نزل الوحي على نبيينا محمد صلى الله عليه وسلم في غار حراء
- ٢ - أول من آمن بدعوة نبيينا محمد صلى الله عليه وسلم من الرجال أبو بكر الصديق رضي الله عنه
- ٣ - أول هجرة في الإسلام إلى الحبشة

س / اذكر معجزات نبيينا محمد صلى الله عليه وسلم :



بسم الله الرحمن الرحيم

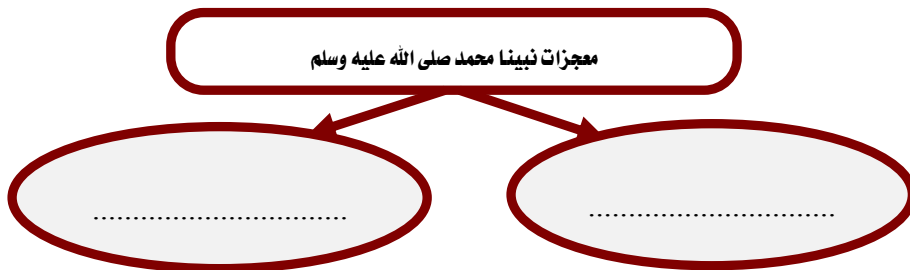
ورقة عمل درس ( بعثة النبي محمد صلى الله عليه وسلم )

اسم الطالب : ..... الصف : رابع / .....

س / ضع علامة ( √ ) أمام العبارة الصحيحة وعلامة ( × ) أمام العبارة الخاطئة فيما يلي :

- ١ - نزل الوحي على نبيينا محمد صلى الله عليه وسلم في غار حراء
- ٢ - أول من آمن بدعوة نبيينا محمد صلى الله عليه وسلم من الرجال أبو بكر الصديق رضي الله عنه
- ٣ - أول هجرة في الإسلام إلى الحبشة

س / اذكر معجزات نبيينا محمد صلى الله عليه وسلم :





بسم الله الرحمن الرحيم

ورقة عمل درس ( الهجرة إلى المدينة المنورة )

اسم الطالب : ..... الصف : رابع / .....

س / ضع علامة ( √ ) أمام العبارة الصحيحة وعلامة ( × ) أمام العبارة الخاطئة فيما يلي :

- ١- هاجر نبيينا محمد صلى الله عليه وسلم إلى المدينة عندما اشتد أذى المشركين له
- ٢- نشر نبيينا محمد صلى الله عليه وسلم الأمن والسلام في مجتمع المدينة
- ٣- تدل وثيقة المدينة على التسامح

س / حرص نبيينا محمد صلى الله عليه وسلم عندما وصل إلى المدينة على القيام بعدة أعمال ، اذكر اثنين منها :

١- .....

٢- .....

س / اختر الإجابة الصحيحة فيما يلي :

أ- هاجر مع نبيينا محمد صلى الله عليه وسلم :

- أبو بكر الصديق رضي الله عنه  عمر بن الخطاب رضي الله عنه  علي بن أبي طالب رضي الله عنه
- ب- من معالم المدينة المنورة :
- المسجد النبوي  غار حراء  الكعبة المشرفة



بسم الله الرحمن الرحيم

ورقة عمل درس ( الهجرة إلى المدينة المنورة )

اسم الطالب : ..... الصف : رابع / .....

س / ضع علامة ( √ ) أمام العبارة الصحيحة وعلامة ( × ) أمام العبارة الخاطئة فيما يلي :

- ١- هاجر نبيينا محمد صلى الله عليه وسلم إلى المدينة عندما اشتد أذى المشركين له
- ٢- نشر نبيينا محمد صلى الله عليه وسلم الأمن والسلام في مجتمع المدينة
- ٣- تدل وثيقة المدينة على التسامح

س / حرص نبيينا محمد صلى الله عليه وسلم عندما وصل إلى المدينة على القيام بعدة أعمال ، اذكر اثنين منها :

١- .....

٢- .....

س / اختر الإجابة الصحيحة فيما يلي :

أ- هاجر مع نبيينا محمد صلى الله عليه وسلم :

- أبو بكر الصديق رضي الله عنه  عمر بن الخطاب رضي الله عنه  علي بن أبي طالب رضي الله عنه
- ب- من معالم المدينة المنورة :
- المسجد النبوي  غار حراء  الكعبة المشرفة



بسم الله الرحمن الرحيم

ورقة عمل درس ( غزوات النبي محمد صلى الله عليه وسلم )

اسم الطالب : ..... / الصف : رابع / .....

س / صل الأحداث بسنة وقوعها بالاستعانة بالأرقام في الجدول الآتي :

سنة وقوعها	الغزوة
( ) سنة ٨ هـ	١ - غزوة بدر
( ) سنة ٦ هـ	٢ - غزوة أحد
( ) سنة ٥ هـ	٣ - غزوة الأحزاب
( ) سنة ٣ هـ	٤ - صلح الحديبية
( ) سنة ٢ هـ	٥ - فتح مكة

س / ضع علامة ( √ ) أمام العبارة الصحيحة وعلامة ( × ) أمام العبارة الخاطئة فيما يلي :

- ١ - انتصر المسلمون في معركة بدر
- ٢ - هزم المسلمون في معركة أحد لمخالفة الرماة لأوامر النبي صلى الله عليه وسلم
- ٣ - سلمان الفارسي صاحب فكرة حفر الخندق
- ٤ - صلح الحديبية عقد بين المسلمين وكفار قريش



بسم الله الرحمن الرحيم

ورقة عمل درس ( غزوات النبي محمد صلى الله عليه وسلم )

اسم الطالب : ..... / الصف : رابع / .....

س / صل الأحداث بسنة وقوعها بالاستعانة بالأرقام في الجدول الآتي :

سنة وقوعها	الغزوة
( ) سنة ٨ هـ	١ - غزوة بدر
( ) سنة ٦ هـ	٢ - غزوة أحد
( ) سنة ٥ هـ	٣ - غزوة الأحزاب
( ) سنة ٣ هـ	٤ - صلح الحديبية
( ) سنة ٢ هـ	٥ - فتح مكة

س / ضع علامة ( √ ) أمام العبارة الصحيحة وعلامة ( × ) أمام العبارة الخاطئة فيما يلي :

- ١ - انتصر المسلمون في معركة بدر
- ٢ - هزم المسلمون في معركة أحد لمخالفة الرماة لأوامر النبي صلى الله عليه وسلم
- ٣ - سلمان الفارسي صاحب فكرة حفر الخندق
- ٤ - صلح الحديبية عقد بين المسلمين وكفار قريش