

ضع-ي المصطلح المناسب أمام العبارة المناسبة فيما يأتي :

التغير الفيزيائي-الانكماش الحراري- المركب- التغير الكيميائي-الرواسب-الصدأ]

- ١-..... تغير في حجم المادة أو شكلها أو حالتها دون التغير في تركيبها .
- ٢-.....نقصان حجم المادة نتيجة تغير درجة حرارتها.
- ٣-.....مادة نقية تتألف من اتحاد عنصرين أو أكثر .
- ٤-.....مركب يتكون نتيجة اتحاد الحديد مع الأكسجين.
- ٥-.....يحدث عندما ترتبط الذرات لإنتاج مواد جديدة .
- ٦-.....مادة صلبة تتكون نتيجة التفاعل الكيميائي بين مكونات محلولين مختلفين

اختر-ي الإجابة الصحيحة :

١-ما الحالة التي لها طاقة أعلى ؟

أ-الصلبة      ب-السائلة      ج-الغازية

٢-ما الذي يحدث عند ارتفاع درجة حرارة جسم ما ؟

أ-ينكمش      ب- يتمدد      ج- يتجمد

٣-ما المركب الذي يشوه الفلز؟

أ-ثاني أكسيد الكربون      ب-الحمض      ج-أكسيد الفلز

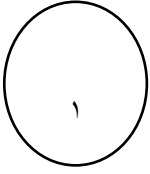
٤-أي التغيرات التالية تغير كيميائي

أ-انصهار الجليد      ب-حرق الخشب      ج-ذوبان الملح

صل-ي من المجموعة [ أ ] ما يناسب المجموعة [ ب ] بوضع الرقم أمام العبارة التي تناسبه؟


المجموعة [ أ ]	الإجابة	المجموعة [ ب ]
١.التسامي .	[ ]	هي الدرجة التي تبدأ فيها المادة الصلبة التحول إلى سائل .
٢.درجة الانصهار.	[ ]	هي حالة الحركة لجزيئات المادة الصلبة .
٣.التمدد الحراري	[ ]	تحول المادة من الحالة الصلبة مباشرة للحالة الغازية .
٤-درجة التجمد	[ ]	زيادة حجم المادة نتيجة تغير درجة حرارتها .
	[ ]	درجة الحرارة التي تبدأ عندها المادة في التجمد.

صح أم خطأ/

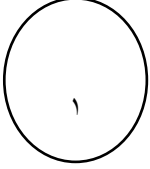


١-درجتا التجمد و الانصهار متساويتين للمادة نفسها ( ) .

٢-في الحالة السائلة تتحرك جزيئات المادة حركة اهتزازية ( ) .



من خلال الصورة أمامك وضح-ي بالرموز معادلة تكون الماء؟



--

ما الدليل على حدوث تفاعل كيميائي في الصور التي أمامك؟



--	--	--	--

