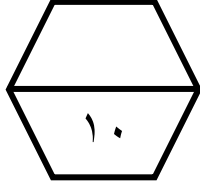



اسم الطالب / .....

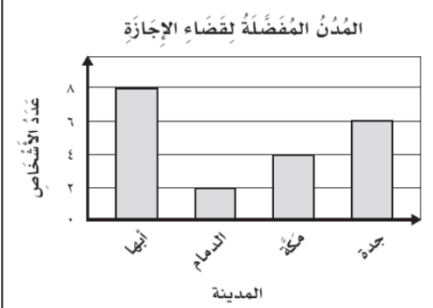
ورقة عمل ( الأسبوع الرابع عشر ) للصف الثالث الابتدائي الفصل الدراسي الثاني للعام الدراسي ١٤٤٧ هـ




المهارات
تفسير التمثيل بالأعمدة
الاحتمال

ضع علامة ( $\checkmark$ ) أمام العبارة الصحيحة وعلامة ( x ) أمام العبارة الخاطئة :	
أ ) يمكن استعمال الكلمات لوصف الاحتمال	<input checked="" type="checkbox"/>
ب ) الاحتمال يعبر عن إمكانية وقوع حدث ما	<input checked="" type="checkbox"/>

	<p>أستعمل التمثيل المجاور، والذي يبين عدد زوار أجنحة المعرض السياحي وأجيب عن الأسئلة الآتية :</p> <p>أ ) ما عدد الطلاب الذين زاروا الجناح البحريني ؟ ..... ١٢ .....</p> <p>ب ) كم يزيد عدد الطلاب الذين زاروا الجناح البحريني على الذين زاروا الجناح المصري ؟ ..... ٢ = ١٠ - ١٢ .....</p> <p>ج ) ما عدد الطلاب الذين زاروا الجناح الكويتي ؟ ..... ١١ .....</p>
--	--

	<p>أستعمل التمثيل المجاور، وأجيب عن الأسئلة الآتية :</p> <p>أ ) ما المدينة الأكثر تفضيلاً ؟ ..... <b>البحر</b> .....</p> <p>ب ) ما المدينة الأقل تفضيلاً ؟ ..... <b>الدمام</b> .....</p> <p>ج ) ما عدد الأشخاص الذين يفضلون جدة ؟ ..... ٦ .....</p>
---	---

	<p>صف احتمال وقوف المؤشر على كل عدد في القرص ذي المؤشر الدوار، وأكتب : أكيد ، أو أكثر احتمالاً، أو أقل احتمالاً، أو مستحيل</p>
عدد أقل من ٥ ..... <b>أكبر</b> .....	العدد ( ٥ ) ..... <b>مستحيل</b> .....
العددين ( ٣ ، ١ ) ..... <b>أكثر احتمالاً</b> .....	العدد ( ٤ ) ..... <b>أقل احتمالاً</b> .....