

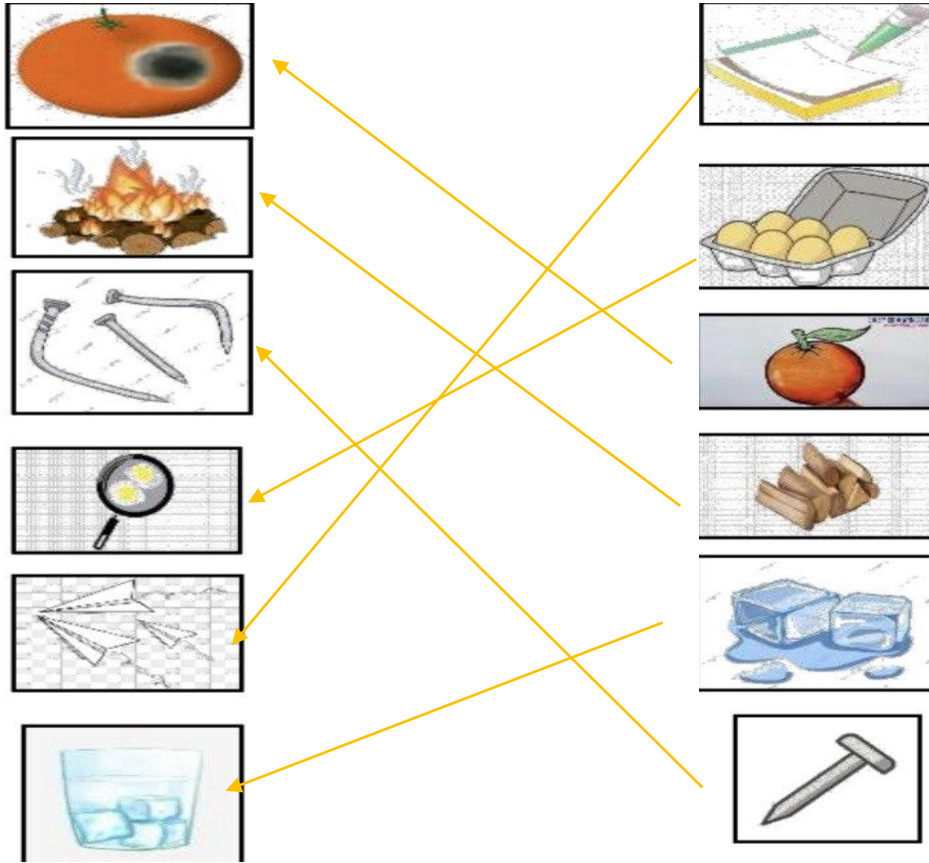
		المملكة العربية السعودية
		الإدارة العامة للتعليم بمنطقة .....
		المدرسة الابتدائية .....

\* ( تقويم مهارات علوم أولى ابتدائي الفترة الثانية \_ الفترة الدراسية الثانية ١٤٤٧ ) \*

الاسم : .....	( (نموذج إجابة) ) .....	الفصل : .....
---------------	-------------------------	---------------

(٦ درجات)





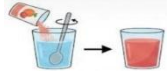
• ( أ ) صل اي بين المادة وكيف تغيرت :



(٤ درجات)

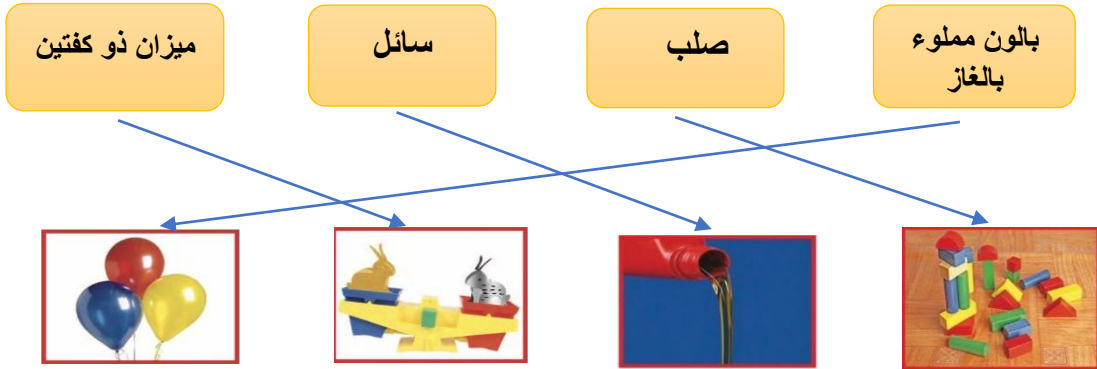
ب ( أكمل الجمل بالكلمات المناسبة :



	الكتاب		تختلط المواد الصلبة بشكل تام بالماء أي أنها .....
	المخلوط		عندما ..... المادة تغير الحرارة من خصائصها
	تحترق		سلطة الخضار مثال على .....
	تذوب		مثال على المادة الصلبة .....

( ٤ درجات )

السؤال الثاني : أ) - صلي كل كلمة بما يناسبها :



( ٦ درجات )

ب) \* اختر اي الإجابة الصحيحة :



١- أي السوائل التالية لا يختلط بالماء :		
العصير	الزيت	الحليب
٢- من أمثلة المواد السائلة :		
الاكسجين	الكتاب	العصير
٣- مادة لها كتله وشكلها ثابت :		
المادة السائلة	المادة الصلبة	المادة الغازية
٤- ماذا يحدث عند تحريك الملح في الماء :		
يذوب	يطفو	ينغمر
٥- لقياس طول الكتاب استخدم :		
الميزان	دوارة الرياح	المسطرة
٦- المادة التي تنتشر لتملأ المكان :		
المادة السائلة	المادة الغازية	المادة الصلبة

صغيرتي

" نقي بنفسك ..... فاتي مميزة "



معلمتك / وداد الحربي .