

٥ - ١٠
الأشكال المستوية :
الأضلاع والرؤوس



أ. أحمد الأحمد
@ahmad9963



أَصِفُ الأشكالَ المُستَوِيَّةَ بِحَسَبِ عَدَدِ
أَضْلَاعِهَا وَرُؤُوسِهَا.

ضِلْعٌ رَأْسٌ


عَدَدُ أَضْلَاعِ المُرَبَّعِ
يُسَاوِي عَدَدَ رُؤُوسِهِ.

٣ أَضْلَاعٍ وَ ٣ رُؤُوسٍ

ضِلْعٌ رَأْسٌ

٤ أَضْلَاعٍ وَ ٤ رُؤُوسٍ

ضِلْعٌ ٠ رَأْسٌ ٠



فكرة الدرس

أصف الشكل
المستوي بحسب
عدد أضلاعه
ورؤوسه .

المفردات
الضلع

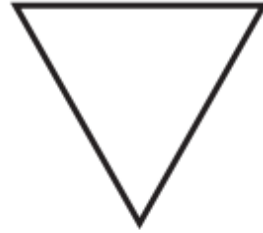
أ.أحمد الأحمدى

@ahmad9963




أَكْتُبْ عَدَدَ الْأَضْلَاعِ وَعَدَدَ الرَّؤُوسِ:

أَضْلَاعٍ
رُؤُوسٍ




٢

أَضْلَاعٍ
رُؤُوسٍ



١

ضِلْع
رَأْس
.....



٤

أَضْلَاعٍ
رُؤُوسٍ



٣



أَشْرَحُ أَوْجُهَ التَّشَابُهِ وَالْاِخْتِلَافِ بَيْنَ الشَّكْلِ السُّدَائِسِيِّ وَالْمُرَبَّعِ.



أَحَوِّطُ الْأَشْكَالَ الَّتِي تَتَّفِقُ مَعَ الْوَصْفِ:

أَتَدْرَبُ



٦ ٤ أَضْلَاعٍ وَ ٤ رُؤُوسٍ



٧ ٣ أَضْلَاعٍ وَ ٣ رُؤُوسٍ




٨ ٠ ضِلْعٍ ٠ رَأْسٍ



أَكْتُبُ اسْمَ الشَّكْلِ، ثُمَّ أَذْكَرُ صِفَتَيْهِ لَهُ:

.....
.....

.....



٩

.....
.....

.....



١٠





أحل المسألة

التفكير المنطقي: هل كل مستطيل مربع؟ أوضِّح إجابتي .

.....

.....

أ.أحمد الأحمدى

@ahmad9963

