

الاسم :
الرقم :
المدة : ساعتان

امتحان شهادة التعليم الأساسي والاعدادية الشريعة نوراً عام ٢٠٢٢
(الصفحة الثانية)

الإحصائيات:

(٢٠ درجة)

سؤال الجغرافية: (٢٠٠ درجة)

سؤال الأول: اذكر الإجابة الصحيحة معنا يأتي وانقلها إلى ورقة إجابته:

١- من طرق تعليمه إنشاء الجيوبومات (المنزلة الجيولوجي):

١	توفر فرص عمل	ب	تنشيط السياحة	ح	دراسة شكل الصخور	د	زيادة الدخل الوطني
٢	من طرق حماية التربة من التملح:	ب	استخدام الأسمدة الكيماوية	ج	نقل استخدام الأسمدة	د	شق قنوات تصريف المياه

٢- من طرق حماية التربة من التملح:

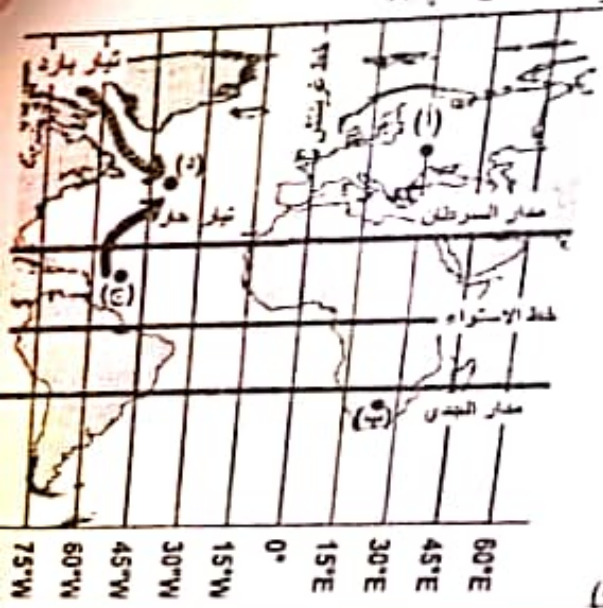
سؤال الثاني: أجب عن الأسئلة الآتية: (١٠٠ درجة) (٢٠ لكل من السؤال الأول والثاني والثالث، ٣٠ للرابع، ١٠ للخامس)

- ١- أجب صح / غلط عن اثنتين فقط معنا يأتي مع تصحيح العبارة المغلوطة: (لا يقبل التصحيح بالنفي).
 - أ- بشكل قوس قرح المغلوب عند اجتياز الأشعة الشمسية لقطيرات الماء العالقة في الجو.
 - ب- توطن الصناعات ثقيلة الوزن قرب المدن الكبرى.
 - ج- تنخفض نزحة الحرارة عند سطح كوكب المريخ أثناء العواصف الغبارية.
- ٢- فسّر الآتي بحمل علمية دقيقة:

- ١- عدم صلاحية الأنهار في المناطق الجبلية لنقل النهري. ب- تأكل طبقة الأوزون.
- ٣- استنتج من النص الآتي اثنين من المظاهر التضاريسية محدداً عامل تشكل كل منهما:

يعد سهل البقاع الأنيديامي بين سلسلي جبال لبنان الالتوائية ويخترقه نهر الليطاني الذي حفر واديه من الشمال إلى الجنوب.

- ٤- حلل الشكل المحاور الذي يمثل جزء من خريطة العالم ثم أجب:
 - أ - إذا كانت الساعة السادسة صباحاً عند خط غرينتش فكم تكون الساعة عند المدينة (أ)؟
 - ب- ما هو الفصل في النقطة (ب) عندما تكون أشعة الشمس عمودية على مدار السرطان؟
 - ج- أي القطبين (ج - د) أكثر ازدهاراً بالثروة السمكية؟ فسّر إجابته.
 - د- كيف يؤثر موسم هطول الأمطار في نظام جريان الأنهار؟



السؤال الثالث: حلل النص الآتي، ثم أجب عن الأسئلة: (٤٠ درجة)

تتصف البادية في إحدى الدول بكثافة سكانية منخفضة، ومناخ حار وجاف، وتربة مفككة ذات نفوذية وقلوية عالية، أقيم في هذه البادية محمية طبيعية للغزلان والطيور النادرة قرب موقع أثري قديم.

- ١- فسّر انخفاض الكثافة السكانية في البادية.
 - ٢- استنتج من النص نوعاً واحداً للسياحة مبيئاً مفوماته.
 - ٣- استنتج مشكلة واحدة تعاني منها تربة البادية، واقترح حلاً واحداً لمعالجتها.
 - ٤- ما الأداة الجغرافية المناسبة لدراسة التوزيع السكاني.
- السؤال الرابع: ارسم خريطة الجمهورية العربية السورية، مسقياً الحدود البرية والبحرية وثبت عليها مع التسمية ما يأتي:

(٤٠ درجة)

١- مجرى نهر الفرات. ٢- موقع مدينة اللاذقية.

يتبع في الصفحة الثالثة

اولاً: النظرية الوطنية: (نظام حديث) (٢٠٠ درجة)

- ١- اجب عن الأسئلة الآتية:
 - ١- ضع كلمة (صح) أمام العبارة الصحيحة وكلمة (خطأ) أمام العبارة غير الصحيحة، وانقلها إلى ورقة
 - ١- () التنوع الثقافي من أبرز سمات المجتمع السوري.
 - ٢- () تتصف الأعمار والمعلومات التي تقدمها وسائل الإعلام بأنها صادقة دائماً.
 - ٣- () تم منح لواء استكشرون عن الوطن الأم سورية بتأمر فرنسي - تركي.
 - ٤- () من فوائد استخدام الطاقة المتجددة تحقيق التنمية المستدامة.
- ٢- اكتب في ورقة إجابتك العبارات الواردة في المجموعة (أ) وما يناسب كلاً منها في المجموعة (ب):
 - المجموعة (أ): - حلاء آخر جندي فرنسي عن سورية - ١٧ نيسان ١٩٤٦ م
 - المجموعة (ب): - ٦ تشرين الأول ١٩٧٣ م

٣- اختر الإجابة الصحيحة مما يأتي؛ وانقلها إلى ورقة إجابتك:

- ١- تُعد اللغة من عناصر الهوية الوطنية لأنها:
 - أ- الشعور لدى أبناء الوطن بارتباطهم به.
 - ب- الإجازات الفكرية والمادية لأبناء الوطن.
 - ج- وصول الفرد إلى مرحلة الإبداع يعني أنه:
 - أ- قارئ للكتب
 - ب- ناقد للأفكار
 - ج- ناقل للأفكار
 - د- منتج للأفكار
 - د- على أهمية المشاركة في المناسبات الوطنية.
- ب - اجب عن سؤاين فقط من الأسئلة الآتية:
 - ١- ما سمات المثابر؟
 - ٢- قارن بين المجتمع السوري قديماً والمجتمع السوري حديثاً من حيث: التعليم - الأسرة - دور المرأة
 - ٣- دراسة حالة:

تستغل الدول الغربية وعلى رأسها الولايات المتحدة الأمريكية حقوق الإنسان للتدخل في الشؤون الداخلية عبر هيمنتها على منظمة الأمم المتحدة ولا سيما مجلس الأمن الذي أصدر القرار رقم /١٩٧٣/ الذي للتدخل العسكري في ليبيا بزريعة إنقاذ الشعب الليبي وتقديم المساعدة له، وكان من نتائج هذا التدخل الدولة الليبية ووقوع آلاف الضحايا.....

- أ- ما الفكرة الرئيسية في النص؟
- ب- بين الهدف المعلن لتدخل الولايات المتحدة الأمريكية في الشأن الليبي.
- ج- ما النتائج المترتبة عن التدخل العسكري في ليبيا؟

الاسم :
الرقم :
المدة : ساعتان

امتحان شهادة التعليم الأساسي والإعدادية الشرعية

نورة عام ٢٠٢٢م
(الصفحة الثالثة)

الإحصائيات

مدة التصحيح (٢٠٠ دقيقة)

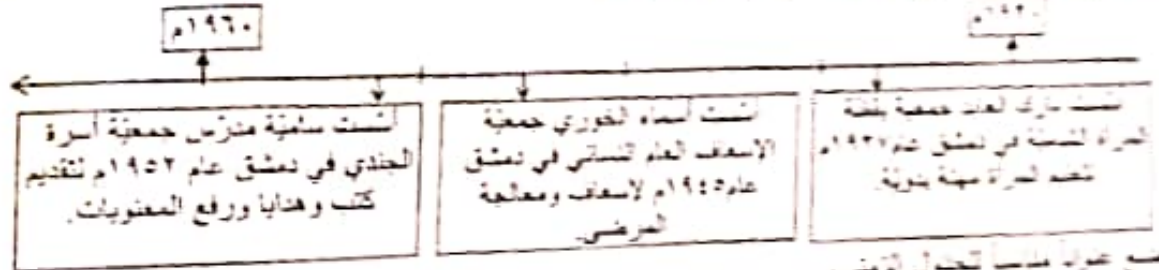
تسوية كؤود اقرأ النص التاريخي الآتي، ثم أجب: (٧٠ درجة)

عند تولد الثورة بعد الاستقلال على يد اقتصاد وطني متين ومقاطعة السلع والشركات الأجنبية، والتأميم كإحدى هذه السياسات، تتخلص من سطوة ثول ثورية ورفض لتبعية الاقتصادية، كما نفع وعي السوريين إلى رفض سورية الارتباط بالأحلاف السياسية كحلف بغداد عام ١٩٥٥م، الذي رفضه ثول الغربية، وقد شكلت الوحدة التي قامت من سورية ومصر عام ١٩٥٨م حلاً للمشكلات ووسيلة للتغاضي للاعتداءات.

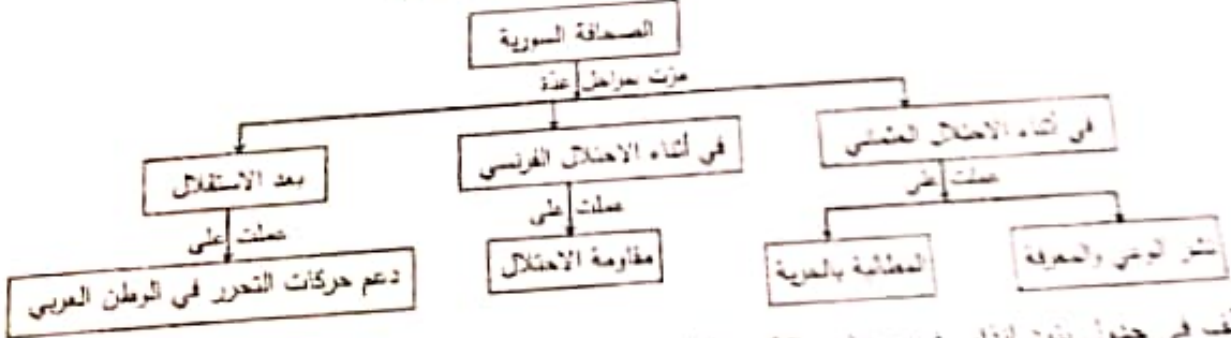
- ١- اذكر الثورة في نص*
- ٢- عر سم ثول ثورية تعرض سياسة الأحلاف بعد الحرب العالمية الثانية.
- ٣- اذكر ثول التي رفضها لسبب رتبعة.

السبب	النتيجة
..... أ	سياسة اقتصاد وطني متين
رفض سورية الارتباط بالأحلاف السياسية ب
..... ج	شكلت الوحدة بين سورية ومصر

سؤال الثاني: اقرأ ثول ترمس الآتي، ثم أجب: (٧٠ درجة)



- ١- مع عدواً مناسباً تتحول الترمس.
 - ٢- اختر الإجابة الصحيحة من يأتي، وانقلها إلى ورقة إجابتك:
أ - الوحدة الترمسية التي قامت على أساسها التحول الترمسي: حطب - قرون - عقود - أعوام.
ب - تأسس جمعية لفضة المرأة الشامية في القرن: السابع عشر - الثامن عشر - التاسع عشر - العشرين.
 - ٣- استخرج من ثول ترمس دور المرأة السورية في المجتمع.
١- ما أهمية عمل الجمعيات في المجتمع؟
- سؤال الثالث: أجب عن أحد السؤالين الآتيين: (٦٠ درجة)
- ١- أعد تبويب المعلومات الواردة في خريطة المفاهيم الآتية لتشكّل فصلاً تاريخياً:



٢- صنف في جدول بنود إنذار عوزو عام ١٩٢٠م الواردة في النص الآتي من الناحية (السياسية - الاقتصادية):
وجه التحول عوزو إنذاراً إلى الحكومة العربية في دمشق عام ١٩٢٠م تضمن: قبول الائتلاف الفرنسي، التوقف عن دعم الثوار، التصرف بمكة (إربق - حلب) الحديدية، وقبول العملة الورقية التي أصدرتها فرنسا، وإلغاء التجنيد الإجباري في سورية.