

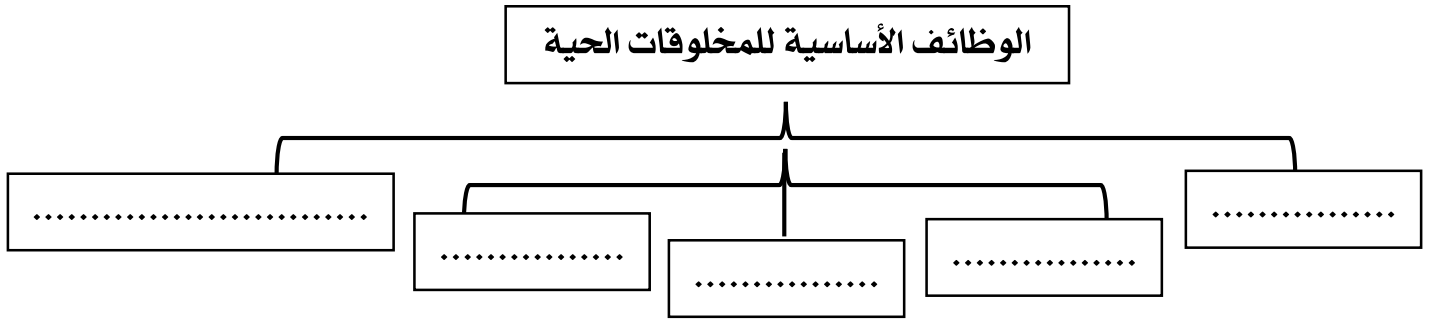
الاسم	الفصل ٤ /	مادة العلوم الصف الرابع	تقويم المهارات
-------	-----------	-------------------------	----------------

المهارة (٢) (تحديد الوظائف الأساسية للمخلوقات الحية)

السؤال الأول : (أ) أختار الإجابة الصحيحة فيما يلي وذلك بتظليل الدائرة الصحيحة :

١_	حركة نبات دوار الشمس مع ضوء الشمس تعد مثالا على
أ	<input type="radio"/> التكاثر <input type="radio"/> ب إخراج الفضلات <input type="radio"/> ج الاستجابة
٢_	زيادة طول المخلوق الحي يعد مثالا على
أ	<input type="radio"/> النمو <input type="radio"/> ب الحركة <input type="radio"/> ج إخراج الفضلات
٣_	إنتاج مخلوقات حية جديدة من النوع نفسه يعرف باسم
أ	<input type="radio"/> التغذية <input type="radio"/> ب التكاثر <input type="radio"/> ج التنفس

(ب) أكمل المخطط التالي:



أتقن لم يتقن

المهارة (٣) (تسمية أصغر تركيب في المخلوق الحي مع المقارنة بين الخلية النباتية والخلية الحيوانية) *

السؤال الثاني : (أ) أكمل الفراغات بما أراه مناسباً من الكلمات التالية :

(الخلية – البلاستيدات الخضراء – النواة – الجدار خلوي)

- ١- تتحكم في نشاطات الخلية.
- ٢- أصغر وحدة أساسية في أجسام المخلوقات الحية.
- ٣- يحيط بالخلية النباتية ويوفر لها الحماية والدعامة.
- ٤- تساعد الخلية النباتية على صنع الغذاء بواسطة ضوء الشمس.



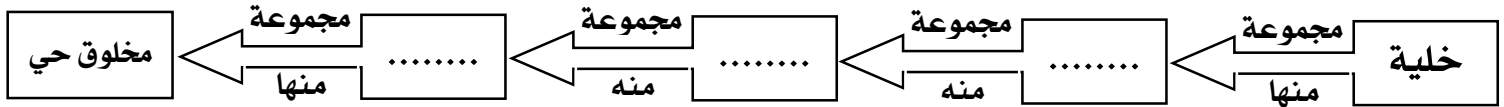
(ب) أضع علامة (√) أمام العبارات الصحيحة وعلامة (×) أمام العبارات الخاطئة :

١	يوجد السيتوبلازم بالخلية الحيوانية والخلية النباتية ويحيط بالنواة.
٢	جسمي يتكون من خلايا وكذلك أجسام النمل والنبات.
٣	تحتوي الخلية الحيوانية على بلاستيدات خضراء وكلوروفيل.
٤	توجد فجوة عصارية بالخلية النباتية مسؤولة عن تخزين الماء والغذاء.
٥	توجد مخلوقات حية تتكون أجسامها من خلية واحدة.

أتقن لم يتقن

المهارة (٤) (تحديد العلاقة بين النسيج والعضو والجهاز)

السؤال الثالث : (أ) أكمل الفراغات بما أراه مناسباً:



(ب) أصل من العمود (١) ما يناسبه من العمود (٢) :


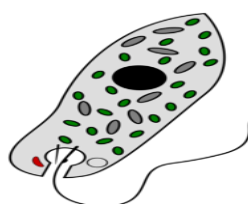


الإجابات	العمود (٢)	العمود (١)	٤
	مجموعة من الأعضاء	النسيج	١
	مجموعة متنوعة من الأنسجة	الجهاز	٢
	مجموعة من الخلايا المتشابهة التي تقوم بنفس الوظيفة	العضو	٣

أتقن لم يتقن

المهارة (٥) (تصنيف المخلوقات الحية إلى ممالك)*

السؤال الرابع : أكتب اسم المملكة التي ينتمي إليها كل مخلوق موضح بالصورة :

(المملكة الحيوانية - المملكة النباتية - مملكة الفطريات - مملكة الطلائعيات)

			
شجرة	طحلب	الجمل	المشروم
.....

أتقن لم يتقن

انتهت الأسئلة