

٢٠

## اختبار الفترة لمادة العلوم للصف الثالث ابتدائي الفصل الدراسي الثاني

اسم الطالبة: .....

اختر الإجابة الصحيحة:



١- فتحة في القشرة الأرضية تندفع منها الصهارة:

أ	الزلازل	ب	البراكين	ج	الإعصار	د	الفيضان
---	---------	---	----------	---	---------	---	---------

٢- يشكل مخلوط المعادن وفتات الصخور:

أ	الرياح	ب	التربة	ج	التجوية	د	الزلازل
---	--------	---	--------	---	---------	---	---------





٣- بقايا مخلوقات حية عاشت في الماضي البعيد:

أ	الماء	ب	الوقود	ج	الاحفورة	د	البركان
---	-------	---	--------	---	----------	---	---------

٤- طبقة التربة التي تحتوي على بقايا المخلوقات المتحللة:

أ	السطحية	ب	تحت السطحية	ج	الصخرية	د	تحت الصخرية
---	---------	---	-------------	---	---------	---	-------------

٥- لا يمثل احفورة:

أ		ب		ج		د	
---	---	---	--	---	---	---	---

ضع علامة ✓ او ✗ امام العبارات التالية:



١- التربة الغنية بالدبال يكون لونها أبيض.	✗
٢- يحتاج الوقود الأحفوري إلى ملايين السنين لكي يتكون.	✓
٣- التربة مورد طبيعي.	✓
٤- تسبب البراكين في نمو النباتات بشكل كبير.	✗
٥- الطبقات نوع من الاحافير.	✓

ضع المصطلحات التالية في مكانها المناسب:



التجوية

الوقود

التعرية

١-	.....الوقود.....	مادة يتم حرقها للحصول على الطاقة.
٢-	.....التجوية.....	تفتت الصخور الى أجزاء اصغر.
٣-	.....التعرية.....	نقل الفتات الصخري من مكان الى مكان اخر.

اصنف الموارد التالية حسب الجدول:




(النفط - الماء - الرياح - الفحم الحجري - الشمس - الغاز الطبيعي)

موارد طاقة غير متجددة	موارد طاقة متجددة
النفط	الماء
الفحم الحجري	الرياح
الغاز الطبيعي	الشمس

ضع الكلمات التالية في مكانها المناسب:



( الطبقة الصخرية - الطبقة السطحية - الطبقة تحت السطحية )



...الطبقة السطحية...

..الطبقة تحت السطحية..

...الطبقة الصخرية...

ما الذي يسبب الزلازل:



النتيجة	السبب
الزلازل 	.....اهتزاز القشرة الارضية.....

انتهت الأسئلة

دعواتي لكن بالتوفيق

العلمة: أمل الزهراني