

الدرجة المستحقة

٢٠



المملكة العربية السعودية  
وزارة التعليم  
إدارة التعليم بجدة  
ابتدائية عبد الملك بن مروان للطفولة المبكرة

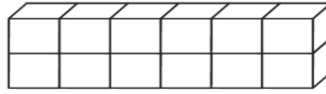
## اختبار مادة الرياضيات للصف الثالث الابتدائي لمنتصف الفصل الدراسي الثالث لعام ١٤٤٤ هـ

اسم الطالب/ة: ..... الصف: ثالث ( )

السؤال الأول: اختر الإجابة الصحيحة في كل مما يأتي:

(١) الوحدة المناسبة لقياس المسافة بين مدينتي جدة و أبها هي:

(أ) السنتمتر	(ب) المتر	(ج) الكيلو متر	(د) الجرام
--------------	-----------	----------------	------------



(٢) حجم الجسم الذي الآتي هو:

(أ) ١٠ وحدات مكعبة	(ب) ١٥ وحدة مكعبة	(ج) ٢٠ وحدة مكعبة	(د) ١١ وحدة مكعبة
--------------------	-------------------	-------------------	-------------------

(٣) إذا كان عقرب الدقائق يشير الى الرقم ٦، فإن عدد الدقائق التي يشير اليها هو:

(أ) ١٥ د	(ب) ٢٠ د	(ج) ١٠ د	(د) ٣٠ د
----------	----------	----------	----------

(٤) الوحدة المناسبة لقياس طول ارتفاع الباب هي:

(أ) الملمتر	(ب) المتر	(ج) السنتمتر	(د) الكيلو جرام
-------------	-----------	--------------	-----------------



(٥) التقدير الأنسب لقياس سعة ابريق شاي هو:

(أ) ٢ ل	(ب) ٢ مل	(ج) ٤ جم	(د) ٤٠ كلم
---------	----------	----------	------------

(٦) التقدير الأنسب لقياس كتلة سيارة:

(أ) ١٠٠٠ جم	(ب) ١٠٠٠ كجم	(ج) ١٠٠٠ ل	(د) ١٠٠٠ مل
-------------	--------------	------------	-------------

(٧) تحوي راية نمطاً يتكرر فيه ٣ مربعات ومثلثان فإذا تكرر هذا النمط ٣ مرات، فكم مضلعاً سيكون فيه:

(أ) ٦	(ب) ٩	(ج) ١٥	(د) ٢١
-------	-------	--------	--------



(٨) عدد محاور التماثل للشكل الآتي هي:

(أ) لا يوجد	(ب) ١	(ج) ٢	(د) ٥
-------------	-------	-------	-------

يتبع ←

٩) المستقيم الذي إذا طوي الشكل عنده انطبق نصفاه أحدهما على الآخر تماماً هو:

(أ) المضلع	(ب) الجسم	(ج) التماثل	(د) محور التماثل
------------	-----------	-------------	------------------



١٠) يسمى الجسم التالي:

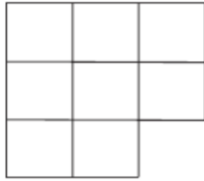
(أ) متوازي مستطيلات	(ب) هرم رباعي	(ج) اسطوانة	(د) كرة
---------------------	---------------	-------------	---------

السؤال الثاني:

(أ) ضع إشارة (✓) أمام العبار الصحيحة. وإشارة (×) أمام العبارة الخاطئة فيما يأتي:

( )	١) المساحة هي طول المسافة حول الإطار الخارجي لشكل معين
( )	٢) ساعة العقارب تظهر الوقت بالأرقام
( )	٣) تستعمل الوحدات المكعبة لقياس الحجم
( )	٤) الجسم الذي له رأس واحد ووجه واحد على شكل دائرة يسمى مخروط

د) أوجد مساحة الشكل التالي؟



المساحة = .....

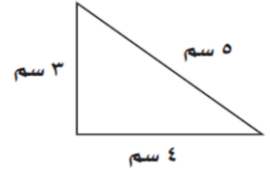
.....

ج) اكتب الوقت الذي تشير اليه الساعة؟



..... : .....

ب) أوجد محيط المثلث؟



المحيط = .....

.....

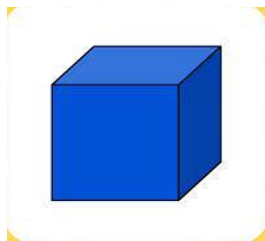
و) صف كل شكل مما يلي وسميه:

عدد الأوجه = .....

عدد الرؤوس = .....

عدد الأحرف = .....

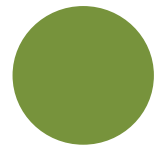
يسمى الشكل.....



عدد الأضلاع = .....

عدد الزوايا = .....

يسمى الشكل.....



ي) أقام سالم حفلاً بمناسبة تخرجه فدعا ٣ من أصدقائه، و ٥ من زملائه في الدراسة، و ٩ من جيرانه،

فكم عدد الأشخاص الذين حضروا الحفل؟

الحل: .....

مع تمنياتنا للجميع بالتوفيق ....