



تجميعات ١٤٤٢ هـ

روابط مجموعة دايمشنز

قروب قدرات جامعيين

<https://t.me/Dimensions77>

قناة قدرات جامعيين

<https://t.me/Dimensions66>

قروب القدرة المعرفية

<https://t.me/Dimensions33>

قناة القدرة المعرفية

<https://t.me/Dimensions72>

قناة أذكار

<https://t.me/Dimension7islam>

تابعوني على تويتر

<https://twitter.com/Dimensions72>

تجارب أعضاء دايمشنز

لمشاهدة تجارب الأعضاء مع مجموعة دايمشنز اضغط على الرابط

<https://t.me/Dimensions22>



تجميعات اختبار عام ١٤٤٢ على اليوتيوب

اضغط على الرابط لمشاهدة الفيديو

<https://www.youtube.com/watch?v=h6ael2giQXk>

الفيديو
الأول

اضغط على الرابط لمشاهدة الفيديو

<https://www.youtube.com/watch?v=irYjeFRrTRc>

الفيديو
الثاني

اضغط على الرابط لمشاهدة الفيديو

<https://www.youtube.com/watch?v=zJtITfmkTn0>

الفيديو
الثالث

تجميعات اختبار عام ١٤٤١ على اليوتيوب

اضغط على الرابط لمشاهدة الفيديو

<https://www.youtube.com/watch?v=e-EU-GLxuc4>

الفيديو
الأول

اضغط على الرابط لمشاهدة الفيديو

https://www.youtube.com/watch?v=OPx_Nm9CEdc

الفيديو
الثاني

اضغط على الرابط لمشاهدة الفيديو

<https://www.youtube.com/watch?v=PjuimoMt74I>

الفيديو
الثالث

اضغط على الرابط لمشاهدة الفيديو

https://www.youtube.com/watch?v=0v1xRz3FC_o

الفيديو
الرابع

اضغط على الرابط لمشاهدة الفيديو

<https://www.youtube.com/watch?v=sD8vliiCvEM>

الفيديو
الخامس

محاضرات مجانية على اليوتيوب

اضغط على الرابط لمشاهدة الفيديو

https://www.youtube.com/watch?v=i_2Kya-hvcE

المحاضرة
الأولى

اضغط على الرابط لمشاهدة الفيديو

<https://www.youtube.com/watch?v=Xuwm3eeEsVY>

المحاضرة
الثانية

اضغط على الرابط لمشاهدة الفيديو

<https://www.youtube.com/watch?v=q193fSli46Q>

المحاضرة
الثالثة

اضغط على الرابط لمشاهدة الفيديو

<https://www.youtube.com/watch?v=A1yWPwfoUnY>

المحاضرة
الرابعة

اضغط على الرابط لمشاهدة الفيديو

<https://www.youtube.com/watch?v=mwhygUohgol>

المحاضرة
الخامسة

اضغط على الرابط لمشاهدة الفيديو

<https://www.youtube.com/watch?v=dZvl6iuN1eA>

المحاضرة
السادسة

اضغط على الرابط لمشاهدة الفيديو

https://www.youtube.com/watch?v=YdVqkC_5qjU

المحاضرة
السابعة

المقدمة

الحمد لله رب العالمين والصلاة والسلام على أشرف الأنبياء والمرسلين :
أتقدم بهذا العمل البسيط والذي يتضمن تجميعات اختبارات اختبار القدرة المعرفية تقييم - ١ ،
سوف أذكر هنا أقسام الاختبار والمواضيع الموجودة بكل قسم .

أقسام الاختبار كالتالي :

أقسام الاختبار	مواضيع كل قسم	عدد الأسئلة بالتقريب لكل قسم وتختلف من اختبار لاختبار ولكن بشكل عام
القدرة اللفظية	١. مرادف الكلمة ٢. ضد الكلمة	مرادف الكلمة وضدها من ٦ إلى ١٢ كلمة
	٣. الاستيعاب اللفظي : قطع وعليها أسئلة	من ٤ إلى ٧ قطع وكل قطعة عليها من ٣ إلى ٥ أسئلة
	٤. الاستدلال اللفظي : إكمال الجمل الناقصة	من ١٨ إلى ٢٥ فقرة
القدرة الكمية	٥. العمليات الحسابية : أسئلة ذكاء عامة + أسئلة عن النسبة المئوية + أسئلة عن الكسور	من ١٠ إلى ٢٠ فقرات
	٦. سلاسل الأرقام : إكمال السلاسل الناقصة ٧. تفسير البيانات : رسومات بيانية وجداول عليها أسئلة	من ١٥ إلى ٢٠ فقرة من ٥ إلى ٧ فقرات
القدرة الاستدلالية	٨. الاستقرائي : اشكال والمطلوب إيجاد الشكل التالي	من ١٠ إلى ١٥ فقرة
	٩. الاستنباطي : أسئلة منطقية ويتطلب حلها بالمنطق	من ١٥ إلى ٢٠ فقرة
القدرة المكانية	١٠. العلاقات المكانية : اشكال والمطلوب إيجاد الشكل المماثل ١١. التصور المكاني : مكعب مفرد والمطلوب إيجاد المكعب الصحيح أو العكس	من ١٠ إلى ١٥ فقرة من ٢٠ إلى ٢٥ فقرة

الاختبار خمسة أقسام كل قسم ما يقارب من ٢٥ دقيقة إلى ٢٧ دقيقة

أيضاً كل قسم يوجد فيه أسئلة متنوعة ..

المحتويات

٣	تجميعات اختبار عام ١٤٤٢ على اليوتيوب
٣	تجميعات اختبار عام ١٤٤١ على اليوتيوب
٤	محاضرات مجانية على اليوتيوب
٥	أقسام الاختبار كالتالي :
٧	مرادف الكلمات
٨	الكلمة وضدها
١٠	الاستدلال اللفظي
١٨	مفتاح إجابات أسئلة الاستدلال اللفظي
١٩	سلاسل الأرقام
٢٤	مفتاح إجابات أسئلة سلاسل الأرقام
٢٥	العمليات الحسابية
٤٤	مفتاح إجابات أسئلة العمليات الحسابية
٤٦	الاستنباط
٥٦	مفتاح إجابات أسئلة الاستنباط
٥٧	الاستيعاب اللفظي
٥٧	القطعة الأولى :
٥٨	القطعة الثانية :
٥٩	القطعة الثالثة :
٦٢	القطعة الرابعة :
٦٣	القطعة الخامسة :
٦٥	القطعة السادسة :
٦٦	القطعة السابعة :
٦٧	القطعة الثامنة :
٦٩	القطعة التاسعة :
٧٠	القطعة العاشرة :
٧٣	القطعة الحادية عشرة :
٧٤	القطعة الثانية عشر :
٧٤	مفتاح إجابات أسئلة استيعاب المقروء
٧٦	تفسير البيانات
٨٥	مفتاح إجابات أسئلة التفسير البياني
٨٦	العلاقات المكانيّة + الأشكال
١٠٩	مفتاح إجابات أسئلة الأشكال
١٠٩	أسئلة الأشكال
١١٠	التصور المكاني (المكعبات)
١٢١	مفتاح إجابات أسئلة المكعبات
١٢١	الخاتمة

مرادف الكلمات

الكلمة	مرادفها	الكلمة	مرادفها
رث	بال	يُفند	يُبطل
ريبة	شك او شبهة	ضرم	جوع
باسقات	طويلات	همّه	عزم
وثام	وفاق	تأهب	تجهز
قسر	إكراه	البُراض	القليل
سامقة	عالية	برز	أطلّ / ظهر
النزق	الطيش	دمائة	حسن الخلق او اللطافة
كبوه	سقطه	حصيف	ذكي
مقاصّة	تسوية	توخي	حذر او احتياط او تحري
الإجحاف	الظلم	حيف	ظلم
اليقين	الحق	يحييف	يميل
زحزح	أزال أو نَحَى أو استثنى	يستنكف	يمنتع
زعزع	حرّك، هزّ	هوادة	تؤدّة أو لين أو رفق
مواءمة	موافقة	راج	انتشر
محض	خالص او صافي	ارتياب	خوف أو شك
البالي	العتيق	قشيب	جديد
حلكة	ظلمة	خدين	حبيب
نوال	عطاء	البخ	الرجل الشريف
تثبيت	تأكيد	استنكف	امتنع
نكص	رجع	تولّى	أدبر
كسد	ثابت / غير منتشر	سؤدد	سيادة/مجد/شرف
استحوذ	استولى	تملق	تصنع
جدير	حقيق	فضفاض	واسع او رحب
تهويل	تخويف	الاطناب	اسهاب أو إطالة
أجدر	أحرى	تعرض	واجه أو تصدى
حبط	فسد	سميك	عريض أو متين
تهوين	تسهيل	الغاشم	الظالم
جرّد	رث	عقوق	الحامل
شيص	رديء	العقاق	السحاب
احتفل	اجتمع	العقوق	العصيان
رُكون	اعتماد	العقيق	الأحجار الكريمة
تطهير	تصفية	تأليب	تحريض او التحريش
خير	جهبذ	امتعاظ	استياء

الكلمة	مرادفها	الكلمة	مرادفها
التأسي	الاقتداء	محض	خالص
جنح	مال	حبط	فسد
باسل	شجاع	أزف	دنا
كبوة	عثرة	قسر	إكراه
مُمتلئ	فائض	خاوية	خالية
ندم	أسف	قصر	أيوان / بُرج / حصن
اجتياح	اقتحام / اكتساح	بخس	رخيص / زهيد / قليل
تواري	اختفى	رمس	القبر
وهن	ضعف / تعب	يؤول	يرجع
يتجلى	ينكشف	فاقه	الفقر
سليط	بذيء اللسان	مقطب	عبوس
أفل	غاب	يرفل	ينعم

الكلمة و ضدها

الكلمة	ضدها	الكلمة	ضدها
مقت	حُب او بارك او ابتهج	بالي	جديد - قشيب
رث	جديد	كظم	أظهر
مُقطب	بشوش	قصور	اجادة
تبجيل	تحقير	تبديد	ادخار
باخ	ازدهر او انتعش	تنظير	تطبيق - تنفيذ
مهتم	مُستخف، مُستهتر	راج	كسد
متوان	مُسرع	تواري	ظهر
تثبيط	انتصار	أغزر	قلل
حصيف	غبي	إملاق	ثراء
سُحت	حلال	تأليب	تهدة
بخس	ثمين - باهظ - نفيس	الجدب	الخصب
وصب	راحة - صحة	أزاح	ثبت
لمم	كبيرة	التكافؤ	الاختلاف
الموضوعية	الذاتية	جار	أشفق

الكلمة	ضدها	الكلمة	ضدها
تسجيل	تحقير/إهانة	قبض	أفلت
المطبوخ	النيء	يقين	ريبة
هوادة	تعجل / سرعة	محض	مختلط
استنكاف	قبول	كسد	راج / انتشر
شجاع	جبان	الهزيمة	الانتصار
تخشي	تأمن	مُعتل	مُعافي
جهل	علم	تأهب	تكاسل/تهاون/تردد
لملم	بعثر	شائق	بغيض/مُنفر/مُمل
التكافؤ	الإختلاف	محاباة	كره
تراجع	تقدم	فاشل	ناجح
غاشم	عادل	بذيء	طاهر/عفيف
جريء	جبان/خائف	القنوط	الأمل / الرجاء
سخط	رضا	تكريس	زعزع / دنس / زلزل
تراجع	تقدم	تليد	جديد
زاهداً	راغباً	ضيق	فسيح
عرفان	نكران	هيمن	خضع
بُطين	بَشِم	ونيس	موحش
الذل	العز	مغوار	جبان
حثيثاً	بطيئاً/مُتلكئ	ارتياب	وثوق
كبوة	قيام/نهوض	مالت	استوت
نستكين	نثور	العبودية	السؤدد
جدير	حقير	الندى	البخل
مُغاير	شبيه	خافت	متوهج
نكص	رحل	جذب	خصب
أبلج	خافت	تأليب	تهدئة
تألّق	خَفّت	أزف	ابتعد
الرهبنة	أمان	طيش	تعقل
قدرة	عجز	يبدد	يدخر
ظهير	منافس/خاذل/تارك	صخب	هدوء
أبلج	أظلم/خافت	الاستعداد	إهمال/تمهل
بخس	كثير		

الاستدلال اللفظي

السؤال الأول

إن الله يهلك الانسان فيظهر له ويخفي له
أ) نجاته _ هلاكه

السؤال الثاني

لا بسوء الحظ ، فلا يوجد..... من غير جهد ، فلا تتوهم أن سوء الحظ
لك.....
أ) تتمسك - انجاز - عذر
ب) تتعلق - تقدم - مخرج
ج) تتعلل - تفوق - عائق
د) تعتذر - ارتقاء - معين

السؤال الثالث

يجب أن ينظر المدير إلى الإدارة كوحدة..... وألا تحجبه رؤية..... عن
رؤية.....
أ) متوازنة - الأصول - الفروع
ب) متكاملة - الجزئيات - الكليات
ج) مستقلة - السلبيات - الإيجابيات
د) موضوعية - النجاحات - الإخفاقات

السؤال الرابع

خير لك أن تكون سلحفاة في طريق خير من أن تكون غزال في طريق
أ) الطريق المستقيم - الطريق المنحني
ب) طريق الصحيح - طريق الخطأ
ج) الطريق واضح - الطريق مشوه
د) الطريق السريع - الطريق البطيء

السؤال الخامس

أحيانا لابد أن يكون الثناء على الإنجازات التي تستحق لتشجيع أصحابها والحث على بهم

- أ) سرىا - المدح - الاقتداء
ب) جماعيا - الثناء - الوثوق
ج) علنياً - الإطراء - الاقتداء
د) فرديا - الملاحظة - الافتخار

السؤال السادس

من فوائد التنظيم ، أن الأعمال يتم توزيعها بشكل وعملي ، ويقلل من في التخصصات ويحدد العلاقات بين أفراد المنظمة .

- أ) انسيابي - الازدواجية
ب) علمي - التعقيد
ج) بسيط - التعدد
د) مدروس - التكديس

السؤال السابع

الموظف هو التي يركز عليها بناء ثروة الوطن وهو اليد التي عجلة العمل؟
أ) القاعدة - تثبت
ب) الدعامة - تدير

السؤال الثامن

يتعلم الحكيم من أخطاء و يتعلم غيره من أخطاء و من لا يتعلم من هالشئيين أن يتعلم.

- أ) نفسه ، الحكيم ، صعب
ب) نفسه، نفسه، محال
ج) غيره، نفسه، محال
د) غيره، الحكيم، صعب

السؤال التاسع

دقيقة واحدة تقضيها في توفر عليك ساعات في

- أ) العمل - التخطيط
ب) التدبير- التفكير
ج) المراقبة- الترتيب
د) التخطيط- التنفيذ

السؤال العاشر

يتنوع الإداري في صوره وأشكاله ، ويختلف لاختلاف

- الموظف ومدى صلاحياته
أ) الفساد - حجمه - مستوى
ب) القرار - شكله - نوعية
ج) النجاح - نوعه - جنس
د) العمل - مقداره - شخصية

السؤال الحادي عشر

إذا أردت الإقناع فبين لمحاورك أنك قد معه فيما لأنه سيصبح أكثر

- أ) تتفق - يطرح - ميلاً
ب) تتناغم - يرفض - استعداداً
ج) تختلف - يذكر- جنوحاً
د) تتباين - يدعي - قبولاً

السؤال الثاني عشر

عندما تتوافر المناسبة في العمل ، تزيد للموظفين ، و

- أ) الخدمات - موافقة - درجة
ب) الأموال - حركة - يقل
ج) الراحة - كفاءة - سرعة
د) الحوافز - الإنتاجية - فرص

السؤال الثالث عشر

لا تجعل المال هدفك في الحياة بل وسيلة لأن المال صديقك إذاوعدوك إذا

- أ) ادخرته - ابليته
ب) جمعته - انفقته
ج) استخدمته - خدمته
د) بعدته - قربته

السؤال الرابع عشر

الطبقة الاجتماعية هي ذلك القطاع من المجتمع الذي يضم مجموعة من الذين يتصفون بقدر كبير من في مكانتهم الاجتماعية .

- أ) الأفراد - التواضع .
ب) الأفراد - التجانس
ج) البشر - الشفافية
د) البشر - الواقعية

السؤال الخامس عشر

إذا كنت تؤمن بأن أمامك فحتماً ستجد دوماً من أكثر المواقف

- أ) مبادرات - تخوفاً - سهولة
ب) امتيازات - مهرباً - إنجاز
ج) نجاح - فرج - مرهقة
د) خيارات - مخرجاً - صعوبة

السؤال السادس عشر

الناس في العمل أنواع ، الذي لا يبحث عن مصلحته وهو من الناس والذي يبحث عن مصلحته ومصلحة الجميع هو الناس والذي يبحث عن مصلحته فقط هو الناس

- أ) كل - بعض - قليل .
ب) اكرم - أفضل - اشر
ج) بعض - أفضل - اشر
د) أكثر - أبغض - اجبن

السؤال السابع عشر

نخاف من كل شيء ومن أي شيء حتى من أوقات نخاف عليها من.....
أ) السعادة - النهاية

السؤال الثامن عشر

قد يرى بعضهم التسامح لكن ثق أن التسامح يحتاج قوة أكبر من
أ) انكسار - الانتقام
ب) محمدة - البطش
ج) انتصار - الغضب
د) انهزام - الصفح

السؤال التاسع عشر

الوقت هو الأحداث ثم وهو مصدر وهو حق متساوي بين.....
أ) المتابعة - عدل - الجميع
ب) المتلاحقة - متغير - الناس

السؤال ٢٠

عملية المستقبل ليست عملية سهلة لأن الغد الملامح
أ) معرفه - ثرى
ب) قبول - قوي
ج) رفض - باهت
د) استطلاع - غامض

السؤال ٢١

نزلت الحكمة على ألسن العرب، ورؤوس الروم ، وأيدي الصين ، وقلوب الفرس ، العبارة تعني :

تميز العرب ب..... وتميز الروم ب وتميز الصين ب..... وتميز الفرس ب.....

- أ. كثرة الكلام - الذكاء - السرعة في العمل - قوة المشاة
- ب. الفصاحة - الحكمة والفلسفة - العمل - الفن
- ج. اللغات - العمل - الفطنة - المهارة
- د. حسن التذوق - غزارة الشعر - مهارة العمل - الجرأة

السؤال ٢٢

يجب أن تكون الأهداف الاستراتيجية لجهة العمل وقابلة لأجل تسهيل عملية

- أ. مثالية - للتطبيق - التنظيم
- ب. محورية - للتحويل - الدعم
- ج. مرنة - للتنفيذ - التخطيط
- د. واقعية - للقياس - الرقابة

سؤال ٢٣

من يعتقد أنني..... فليتوهم أي
أ) اسأت إليه - اعتذرت له

سؤال ٢٤

إذا تكلمت فإنك قد المحاور ولكن لا تستطيع..... برأيك
أ) بانفعال - تسكت - إقناعه

سؤال ٢٥

الحرية تشغل مساحة كبيرة من.....الانساني لأن لها علاقةبمتطلبات الحياة

- أ. الصراع - قوية
ب. التفكير - بسيطة
ج. الفكر - قريبة

السؤال ٢٦

لولا السرور في ساعة الميلاد ما كان البكاء في ساعة الموت ولولا الأمل بدوامما كان الجزع من الفقر ولولا فرحة التلاقي ، ما كانت ترحة.....

- أ)الحال - العذاب
ب)الحياة - الاشتياق
ج)الصحة - الموت
د)الغنى - الفراق

السؤال ٢٧

حدثت على الناس تطورات في مجالوأصبحت ذات كفاءة عاليةسرعة الصوت في قطعها المسافات وتقريب المسافات بين أقطار الأرض ومراعاتها أسباب السلامة للأرواح التي تحملها

- أ)النقل - تفوق
ب)الاتصال - تجاوزت

السؤال ٢٨

تبدو الشمس كالنار وتبدو السماء كالبحر..... الأطراف

- أ. المتوهجة - المترامي
ب. المتوهجة - القريب
ج. المشتعلة - الصافي

السؤال ٢٩

كما أن الحلم من سمات الصبور فإن من سمات.....

- أ) التهور – الحكيم
ب) الحزم – الجاد
ج) الطالب – الاجتهاد
د) الأناة – الحاسد

السؤال ٣٠

التلفاز وسيلة مؤثرة ، لكن صرف الوقت الطويل أمام شاشته الصغيرة من أعظم.....

- أ) ترفيهية – إنجازاته
ب) دعائية – استعداداته
ج) إعلامية – سلبياته
د) تطويرية – مساهماته

السؤال ٣١

لا تجبر الطفل على.....إنما تكسبه.....
أ) الاحترام – بالحب

السؤال ٣٢

لا خير في القول إلا مع الفعل ، ولا في المال إلا مع الجود ، ولا في العفة إلا مع.....
أ) الورع
ب) الفزع
ج) البطش
د) الكرم

السؤال ٣٣

ان العلم هو مصدر الطريق ويصنع الحضارات وينهض بالفرد و.....

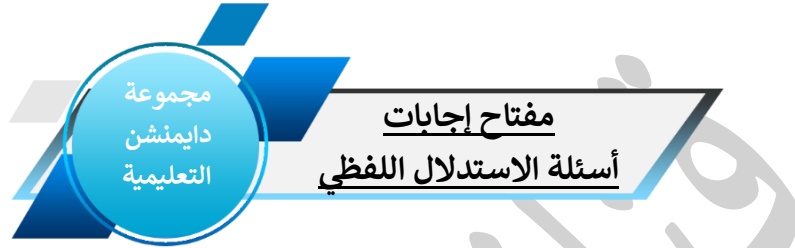
- أ. يضيء - المجامع
ب. يفسح - المجتمعات
ج. ينير - الامم
د. سلك - شعوب

السؤال ٣٤

..... النفط عملية من العمليات الضرورية التي يمكن

النفط الخام بها و..... المركبات العديدة المرغوبة منه

أ) تكرير_ معالجة_ استخلاص



الإجابة	السؤال	الإجابة	السؤال
ج	٢	أ	١
ب.ب	٤	ب	٣
أ	٦	ج	٥
ج	٨	ب.ب	٧
أ	١٠	د	٩
د	١٢	أ	١١
ب.ب	١٤	ج	١٣
ج	١٦	د	١٥
أ	١٨	أ	١٧
د	٢٠	ب.ب	١٩
د	٢٢	ب.ب	٢١
أ	٢٤	أ	٢٣
د	٢٦	أ	٢٥
أ	٢٨	أ	٢٧
ج	٣٠	ب	٢٩
أ	٣٢	أ	٣١
أ	٣٤	ج	٣٣

سلاسل الأرقام

اضغط هنا

لمشاهدة الشرح بالفيديو
لجميع أسئلة سلاسل الأرقام

لمشاهدة شرح السؤال فيديو **اضغط هنا**

١- ٤، ٨، ١٦، ٣٢، ...

٥٣ (أ) ٦٤ (ب) ٥٦ (ج) ٦٦ (د)

لمشاهدة شرح السؤال فيديو **اضغط هنا**

٢- ٣، ١٠، ١٧، ٢٤، ٣١، ٣٨، ...

٤٢ (أ) ٤٨ (ب) ٣٤ (ج) ٤٥ (د)

لمشاهدة شرح السؤال فيديو **اضغط هنا**

٣- ٤، ١١، ٣٠، ٦٧، ١٢٨، ...

٢١٩ (أ) ٢٤٠ (ب) ١٨٢ (ج) ٢١١ (د)

لمشاهدة شرح السؤال فيديو **اضغط هنا**

٤- ١، ٢، ٦، ١٦، ٤٤، ...

٨٨ (أ) ١٢٠ (ب) ٦٤ (ج) ١١٣ (د)

لمشاهدة شرح السؤال فيديو **اضغط هنا**

٥- ١، ١، ٢، ٣، ٥، ...

٨ (أ) ١٠ (ب) ١٢ (ج) ٦ (د)

لمشاهدة شرح السؤال فيديو **اضغط هنا**

٦- ١، ٤، ١٣، ٤٠، ...

١١٩ (أ) ١١٢ (ب) ١٢١ (ج) ٩٦ (د)

لمشاهدة شرح السؤال فيديو اضغط هنا

7- ٨٠، ٧٠، ٦١، ٥٣، ٤٦، ...

أ) ٣٦ (ب) ٤٠ (ج) ٤٢ (د) ٣٢

لمشاهدة شرح السؤال فيديو اضغط هنا

8- ٨، ٤، ١٦، ٨، ٦٤، ...

أ) ٣٢ (ب) ٣٦ (ج) ٤٨ (د) ٥١

لمشاهدة شرح السؤال فيديو اضغط هنا

9- ١٠، ١٥، ٢٥، ٣٠، ...

أ) ٣٥ (ب) ٤٠ (ج) ٤٥ (د) ٥٠

لمشاهدة شرح السؤال فيديو اضغط هنا

10- ٨٤، ٧٦، ٦٧، ٥٧، ...

أ) ٤٨ (ب) ٤٧ (ج) ٥١ (د) ٤٦

لمشاهدة شرح السؤال فيديو اضغط هنا

11- ١٩، ١٧، ٢٢، ٢٠، ...

أ) ٢٥ (ب) ٢٣ (ج) ١٨ (د) ٢٤

لمشاهدة شرح السؤال فيديو اضغط هنا

12- ١١، ١٦، ٢٦، ٣١، ٤١، ...

أ) ٥٢ (ب) ٤٨ (ج) ٤٦ (د) ٤٧

لمشاهدة شرح السؤال فيديو اضغط هنا

13- ٤، ١١، ٣٠، ٦٧، ١٢٨، ...

أ) ٢٢١ (ب) ٢١٩ (ج) ٢١٥ (د) ٢٢٤

لمشاهدة شرح السؤال فيديو اضغط هنا

14- ١، ٢، ٦، ...، ١٢٠

أ) ١٢ (ب) ١٨ (ج) ٢٤ (د) ١

لمشاهدة شرح السؤال فيديو [اضغط هنا](#)

١٥- ٣٦، ٢٥، ١٦، ٩، ...

٤٥(أ) ٤٩(ب) ٤٢(ج) ٤٠(د)

لمشاهدة شرح السؤال فيديو [اضغط هنا](#)

١٦- ٧٢، ٢٤، ٢١، ٧، ...

٤(أ) ٥(ب) ٣(ج) ٢(د)

لمشاهدة شرح السؤال فيديو [اضغط هنا](#)

١٧- ١، ١٢، ٢٤، ٣٧، ...

٥١(أ) ٧٣(ب) ٦٤(ج) ٥٥(د)

لمشاهدة شرح السؤال فيديو [اضغط هنا](#)

١٨- ٣، ١٠، ١٧، ٢٤، ٣١، ٣٨، ...

٤٧(أ) ٤٢(ب) ٤٩(ج) ٤٥(د)

لمشاهدة شرح السؤال فيديو [اضغط هنا](#)

١٩- ٤٩، ٣٦، ٢٥، ١٦، ٩، ...

٦(أ) ٤(ب) ٥(ج) ٧(د)

لمشاهدة شرح السؤال فيديو [اضغط هنا](#)

٢٠- ٣، ١٧، ٦، ١٤، ١٤، ...، ٢٨، ٨

١١(أ) ٩(ب) ٨(ج) ١٢(د)

لمشاهدة شرح السؤال فيديو [اضغط هنا](#)

٢١- ٣، ٦، ٩، ١٢، ...

١٧(أ) ١٤(ب) ١٥(ج) ١٦(د)

لمشاهدة شرح السؤال فيديو [اضغط هنا](#)

٢٢- ٤، ١٢، ...، ٦، ١٦، ٣، ٣٢

٦(أ) ٨(ب) ٩(ج) ١٨(د)

لمشاهدة شرح السؤال فيديو [اضغط هنا](#)

****ملاحظة: ملفات دايمنشون العامة مجانية ولا يحق لأي شخص استخدامها للبيع أو للدورات المدفوعة وعلى ذلك جرى التنبيه!!**

٢٣- ٢٤٧٤١٧٤٣٧٤

٨٨(د) ٨٣(ج) ٧٧(ب) ٧٢(أ)

لمشاهدة شرح السؤال فيديو اضغط هنا

٢٤- ٤٥٤٤٢٤١٤١-

٢٥(د) ٢١(ج) ١٠(ب) ٦(أ)

لمشاهدة شرح السؤال فيديو اضغط هنا

٢٥- ٢٤٤١٣٤٢٦٤٣٥٧٠٤٠٠٠٠٠

٧٩(د) ٧٣(ج) ٧٥(ب) ٧١(أ)

لمشاهدة شرح السؤال فيديو اضغط هنا

٢٦- ١٩٤١٢٤٢٤١٧٤٠٠٠٠٠٠٠

٣٠(د) ٢٤(ج) ١٨(ب) ٣٤(أ)

لمشاهدة شرح السؤال فيديو اضغط هنا

٢٧- ٣٤٤٤٧٤١١٤١٨

٢(د) ١(ج) ١(ب) ٠(أ)

لمشاهدة شرح السؤال فيديو اضغط هنا

٢٨- ٣٤١٦٤٢٤٠٠٠٠٠٠٠

٧٢(د) ٦٧(ج) ٩٤(ب) ٨٤(أ)

لمشاهدة شرح السؤال فيديو اضغط هنا

٢٩- ١٠٤٩٤٧٤٤٠٠٠٠٠٠٠٠

٢(د) ٣(ج) ٦(ب) ٠(أ) صفر

لمشاهدة شرح السؤال فيديو اضغط هنا

٣٠- ٤٤٨٤١٦٤٣٢٤٠٠٠٠٠٠٠٠

٦٦(د) ٥٦(ج) ٦٤(ب) ٥٣(أ)

لمشاهدة شرح السؤال فيديو اضغط هنا

**ملاحظة: ملفات دايمنشون العامة مجانية ولا يحق لأي شخص استخدامها للبيع أو للدورات المدفوعة وعلى ذلك جرى التنبيه!!

٣١- ٢٤٠٠، ١٢٠٠، ٤٠٠، ١٠٠،، ١٠

أ) ١٠ (ب) ٢٠ (ج) ٤٠ (د) ٦٠

لمشاهدة شرح السؤال فيديو اضغط هنا

٣٢- ٢٤٩،، ٣٣، ١٥، ٩

أ) ٣٩ (ب) ٨٧ (ج) ٦٦ (د) ١٢٥

لمشاهدة شرح السؤال فيديو اضغط هنا

٣٣-، ٢٤، ١٦، ١٢، ١٠

أ) ٢٧ (ب) ٣٠ (ج) ٣٢ (د) ٤٠

لمشاهدة شرح السؤال فيديو اضغط هنا

٣٤- ١٠، ٦، ٤،، ٢، ٥

أ) ٣، ٧٥ (ب) ٣، ٥ (ج) ٣ (د) ٢، ٧٥

لمشاهدة شرح السؤال فيديو اضغط هنا

٣٥- ١، ٦، ١٦، ٣١، ٥١،، ١٠

أ) ٨٧ (ب) ٧٦ (ج) ٦٠ (د) ٧٠

لمشاهدة شرح السؤال فيديو اضغط هنا

٣٦- ١، ٢، ٢، ١، ٣، ٤، ٠،، ٤

أ) ٥ (ب) ٣ (ج) ١ (د) ١-

مجموعة
دايمشنز
التعليمية

مفتاح إجابات
أسئلة سلاسل الأرقام

الإجابة	السؤال	الإجابة	السؤال
د	٢	ب	١
ب. ج.	٤	أ	٣
أ. ب. ج.	٦	أ	٥
أ	٨	ب. ج.	٧
د	١٠	ب. ج.	٩
ب. ج. د.	١٢	أ	١١
ب. ج. د.	١٤	ب. ج.	١٣
ب. ج. د.	١٦	ب. ج.	١٥
د	١٨	أ	١٧
أ	٢٠	ب. ج.	١٩
ب. ج.	٢٢	ب. ج. د.	٢١
د	٢٤	ب. ج. د.	٢٣
أ	٢٦	د	٢٥
ب. ج. د.	٢٨	ب. ج. د.	٢٧
ب. ج. د.	٣٠	أ	٢٩
ب. ج. د.	٣٢	ب. ج.	٣١
ب. ج. د.	٣٤	د	٣٣
د	٣٦	ب.	٣٥

العمليات الحسابية

اضغط هنا

لمشاهدة الشرح بالفيديو
لجميع المسائل " الجزء الأول "

اضغط هنا

لمشاهدة الشرح بالفيديو
لجميع المسائل " الجزء الثاني "

السؤال الأول

وضعت ١٥ صندوق على خط مستقيم واحد بحيث تكون المسافة بين كل صندوق والآخر ٥٠ سم فكم تكون المسافة بين الصندوق الأول والآخر بالمترات ؟

أ) ٧,٥ ب) ٨ ج) ٧ د) ٦

لمشاهدة شرح السؤال فيديو اضغط هنا

السؤال الثاني

شخص لديه ٤٨٠ ريال . من فئة ١٠٠ ريال ، ٥٠ ريال ، ١٠ ريال وكان عدد الفئات متساوية فكم عدد فئة كل نوع ؟

أ) ٥ ب) ٦ ج) ٤ د) ٣

لمشاهدة شرح السؤال فيديو اضغط هنا

السؤال الثالث

جهاز حاسوب سعرة الأصلي ٣٠٠٠ تم خصم مبلغ ٣٠٠ ريال من السعر الأصلي ، كم تمثل نسبة الخصم ؟

أ) ٥% ب) ١٥% ج) ١٠% د) ٧%

لمشاهدة شرح السؤال فيديو اضغط هنا

السؤال الرابع

تتحلل مادة إلى النصف بعد مرور ساعتين ، فإذا كان وزنها في البداية ١٢٨٠ جم فبعد مرور ٨ ساعات كم يكون وزنها ؟

- أ) ٨٠ (ب) ٦٠ (ج) ٧٥ (د) ٩٠

لمشاهدة شرح السؤال فيديو اضغط هنا

السؤال الخامس

٦ اشخاص قاموا بمصافحة بعضهم البعض مرة واحدة ، كم عدد المصافحات ؟

- أ) ١٤ (ب) ١٥ (ج) ١٠ (د) ١٢

لمشاهدة شرح السؤال فيديو اضغط هنا

السؤال السادس

٥٠ ألف كم يمثل نسبه مئوية من ٥٠٠ ألف ؟

- أ) ١٠٪ (ب) ٢٠٪ (ج) ٥٪ (د) ١٥٪

لمشاهدة شرح السؤال فيديو اضغط هنا

السؤال السابع

أسرة تتكون من أبوين وثلاثة أبناء متفرقين فإذا كان الابن الأول يزور والديه كل ٦ أيام والابن الثاني كل ٥ أيام والابن الثالث كل ٣ أيام ، فكم مرة سوف يلتقون خلال ٦٠ يوم ؟

- أ) خمس مرات (ب) ثلاث مرات (ج) اربع مرات (د) مرتين

لمشاهدة شرح السؤال فيديو اضغط هنا

السؤال الثامن

ماهي نسبة التوفير المئوية من راتب شهري قدره ١٠٠٠٠ لتوفير مبلغ وقدره ٢٥٠٠ خلال خمس شهور ؟

- أ) ١٠٪ (ب) ٥٪ (ج) ٦٪ (د) ١٥٪

لمشاهدة شرح السؤال فيديو اضغط هنا

السؤال التاسع

صندوق بداخله ٧ صناديق وكل منها بداخله ٥ صناديق ، كم مجموع الصناديق ؟

- أ) ٣٦ ب) ٤٣ ج) ٢٤ د) ٤٠

لمشاهدة شرح السؤال فيديو اضغط هنا

السؤال العاشر

أقلعت رحله من الرياض في الساعة ٤ بتوقيت الرياض ووصلت ٦ بتوقيت لندن إذا علمت أن فرق الوقت بين الرياض ولندن ٣ ساعات كم تستغرق الرحلة ؟

- أ) ٤ ب) ٦ ج) ٥ د) ٧

لمشاهدة شرح السؤال فيديو اضغط هنا

السؤال الحادي عشر

خالد راتبه ٦٠٠٠ ريال، ويأخذ عمولة ٠,٠٠٨ على كل صفقة ، باع لشخص أرض بقيمة ٢١٠٠٠٠ ريال فكم مجموع دخله في هذا الشهر؟

- أ) ٦٧٠٠ ب) ١١٥٠٠ ج) ٧٦٨٠ د) ٩٦٥٠

لمشاهدة شرح السؤال فيديو اضغط هنا

السؤال الثاني عشر

نفق طوله ٣٠٠ متر وقطار طول عرباته ٢٠٠ متر لو كان راس القطار بمنصف النفق فكم الخارج من القطار خارج النفق؟

- أ) ٥٠ ب) ١٥٠ ج) ٧٠ د) ٢٠٠

لمشاهدة شرح السؤال فيديو اضغط هنا

السؤال الثالث عشر

محل أجهزة كهربائية عمل خصم ٥٠٪ وكان سعر الجهاز ١٨٠٠ . أراد أن يعمل خصم إضافي ٢٠٪ كم يصبح سعر الجهاز ؟

- أ) ٥٤٠ ب) ٤٥٠ ج) ٥٠٠ د) ٤٠٠

لمشاهدة شرح السؤال فيديو اضغط هنا

السؤال الرابع عشر

شارع طوله ١٠ م زرع فيه شتلات وبين كل شتله وشتله متر كم عدد الشتلات على الجانبين؟

- أ) ١١ ب) ١٠ ج) ١٨ د) ٢٢

لمشاهدة شرح السؤال فيديو اضغط هنا

السؤال الخامس عشر

الصف الأول يوجد فيه ١٢ مقعد، والصف الثاني يزيد عن الأول عن كل ٤ مقاعد مقعد ؛ فكم عدد مقاعد الصف الثاني ؟

- أ) ١٢ ب) ١٣ ج) ١٤ د) ١٥

لمشاهدة شرح السؤال فيديو اضغط هنا

السؤال السادس عشر

٣٤ حلاوة لو قُسمت بالتساوي على ١٢ طالب، كم يبقى منها ؟

- أ) ١٠ ب) ٧ ج) ٦ د) ٤

لمشاهدة شرح السؤال فيديو اضغط هنا

السؤال السابع عشر

إذا كان عدد طلاب مدرسة ٥٠ طالب نجح منهم ٣٠ طالب فإن نسبة الناجحين إلى العدد الكلي هي :

- أ) ٦٠٪ ب) ٥٠٪ ج) ٧٠٪ د) ٤٥٪

لمشاهدة شرح السؤال فيديو اضغط هنا

السؤال الثامن عشر

موظف يحصل على كل معاملة (أ) ١٠٠ ريال ومعاملة (ب) ٦٠ ريال إذاً مجموع ما حصل عليه ٤٨٠ ريال كم عدد ما أنجزه من معاملة (أ) ؟

- أ) ١ ب) ٢ ج) ٣ د) ٤

السؤال التاسع عشر

لمشاهدة شرح السؤال فيديو اضغط هنا

عامل ينجز ٢٥٪ من العمل خلال ٨ ساعات . كم عامل ينجزون العمل خلال ٤ ساعات ؟.

أ) ٤ عمال ب) ٨ عمال ج) ٥ عمال د) ٦ عمال

لمشاهدة شرح السؤال فيديو اضغط هنا

السؤال ٢٠

ثلاث متسابقين فاز المتسابق الأول خلال ٢٠ دقيقة عن المتسابق الثاني والثالث بفارق دقيقتين. المتسابق الثالث فاز خلال كم دقيقة

أ) ٢٠ (أ) ب) ٢٢ (ب) ج) ٢٣ (ج) د) ٢٤ (د)

لمشاهدة شرح السؤال فيديو اضغط هنا

السؤال ٢١

آلة تشتغل ٦ ساعات ولكل ساعه تطبع ٣٠٠ كم تطبع في اليومين ؟!

أ) ٣٦٠٠ (أ) ب) ٢٤٠٠ (ب) ج) ٣٢٠٠ (ج) د) ٢٦٠٠ (د)

لمشاهدة شرح السؤال فيديو اضغط هنا

السؤال ٢٢

قسم مبلغ ١٥٠٠ ريال على ثلاث أسر فقيرة على النحو التالي : ٢:٣:٥

ما أكبر مبلغ تحصل عليه اسره ؟؟

أ) ٥٠٠ (أ) ب) ٧٥٠ (ب) ج) ٦٠٠ (ج) د) ٤٥٠ (د)

لمشاهدة شرح السؤال فيديو اضغط هنا

السؤال ٢٣

مصعد يكفي ل ٤٠ بالغ أو ٥٠ طفلاً إذا ركب ٨ بالغين المصعد كم يسمح لعدد من الأطفال ؟

أ) ٤٥ (أ) ب) ٤٠ (ب) ج) ٣٠ (ج) د) ٣٥ (د)

لمشاهدة شرح السؤال فيديو اضغط هنا

السؤال ٢٤

طابعتين وأربع شاشات ، إذا سعر الطابعة نصف سعر الشاشة إذا كان المبلغ الإجمالي ٤٠٠٠ ريال . كم سعر الطابعة الواحدة؟

- أ) ٨٠٠ (ب) ٤٠٠ (ج) ٩٠٠ (د) ١٢٠٠

لمشاهدة شرح السؤال فيديو اضغط هنا

السؤال ٢٥

رجل ذهب من منزله إلى عمله وقطع ٧٠٪ ، بقي عليه ٩ كيلو لكي يصل إلى عمله . كم المسافة التي قطعها؟

- أ) ٣٠ (ب) ٢٤ (ج) ٩ (د) ٢١

لمشاهدة شرح السؤال فيديو اضغط هنا

السؤال ٢٦

عدد السيارات الحمراء ١٠ ومجموع السيارات ٤٠ ، البيضاء ٢٤ السوداء ٦ كم نسبة الحمراء إلى مجموع السيارات ؟

- أ) ٤٠٪ (ب) ٢٥٪ (ج) ٣٠٪ (د) ٦٠٪

لمشاهدة شرح السؤال فيديو اضغط هنا

السؤال ٢٧

يزيد طول فواز عن طول أخته فاطمة ٢٠ سم، إذا كان مجموع طولهما يساوي ٣١٠ سم، فكم طول فواز بالسنتيمتر؟

- أ) ١٤٥ (ب) ١٥٥ (ج) ١٦٥ (د) ١٩٠

لمشاهدة شرح السؤال فيديو اضغط هنا

السؤال ٢٨

آلة تعمل يومياً ساعتين ونصف الساعة، إذا كان عمرها الافتراضي ٢٥٠٠ ساعة ؛ فكم يوماً وتنتهي هذه الآلة ؟

- أ) ٢٠٠ (ب) ٥٠٠ (ج) ٧٥٠ (د) ١٠٠٠

لمشاهدة شرح السؤال فيديو اضغط هنا

السؤال ٢٩

محمد صاحب مكتب عقارات وباع أرض بقيمة ٢٥٠٠٠٠٠ علماً بأن نصيبه من كل عملية بيع ٢,٥% من قيمة الصفقة . فكم نصيب محمد من عملية البيع ؟

- أ) ٦٢٥٠ (ب) ٦٢٠٠ (ج) ٦٣٠٠ (د) ٦١٥٠

لمشاهدة شرح السؤال فيديو اضغط هنا

السؤال ٣٠

شخص صرف من راتبه الثلث، وتبقى ١٠٠٠ ريال، فكم مجموع الراتب ؟

- أ) ١٣٠٠ (ب) ١٥٠٠ (ج) ١٧٠٠ (د) ١٩٠٠

لمشاهدة شرح السؤال فيديو اضغط هنا

السؤال ٣١

شركة رأس مالها ٢٠٠٠٠٠٠ ربحت هذا العام ٥٠٠٠٠٠٠ ، كم تمثل نسبة ربحها ؟

- أ) ٤٠% (ب) ٣٥% (ج) ٢٥% (د) ٢٠%

لمشاهدة شرح السؤال فيديو اضغط هنا

السؤال ٣٢

إذا كان سعر الدقيقة في المكاملة ٣٠ هللة، وكلمت ١٥٠ دقيقة، فكم يكون المبلغ من ريال ؟

- أ) ٣٠ (ب) ٤٠ (ج) ٤٥ (د) ٥٠

لمشاهدة شرح السؤال فيديو اضغط هنا

السؤال ٣٣

خسر تاجر في السنة الأولى ربع رأس المال ، كم نسبة الربح اللازمة في السنة الثانية ليستعيد رأس ماله؟

- أ) الخمس (ب) الربع (ج) الثلث (د) النصف

لمشاهدة شرح السؤال فيديو اضغط هنا

السؤال ٣٤

سلعة زادت ٤ ريالات ، خصم منها ١٠٪ من سعرها الأصلي والسعر الأصلي هو ٢٠ ريال كم الناتج؟

أ) ٢٤ ريال ب) ١٦ ريال ج) ١٨ ريال د) ٢٢ ريال

لمشاهدة شرح السؤال فيديو اضغط هنا

السؤال ٣٥

مصنع ينتج كل يوم ونصف سيارة، فكم ينتج سيارة خلال ٣٠ يوماً؟

أ) ١٠ ب) ١٥ ج) ٢٠ د) ٢٥

لمشاهدة شرح السؤال فيديو اضغط هنا

سؤال ٣٦

شمعتين طول كل وحده ٣٠ سم مصنوعتين من مادتين مختلفتين الأولى تحترق بسرعه ثلاث مرات عن الثانية ، إذا الأولى احترقت النصف كم احترق من الثانية ؟

أ) ٥ ب) ١٠ ج) ١٥ د) ٣٠

لمشاهدة شرح السؤال فيديو اضغط هنا

سؤال ٣٧

شخص يوقد نار بمكعب ونص ولديه ٣ أشرطة مكعب وكل شريط فيها ١٢ مكعب كم مرة يستطيع يوقد فيها النار؟

أ) ٣٦ ب) ١٢ ج) ٢٤ د) ١٨

لمشاهدة شرح السؤال فيديو اضغط هنا

السؤال ٣٨

لدى محمد ٥٠٠ وكانت تمثل ربع الثلث من عدد . ما هو هذا العدد ؟

أ) ٦٠٠ ب) ٢٥٠ ج) ٤٠٠ د) ٤٥٠

لمشاهدة شرح السؤال فيديو اضغط هنا

سؤال ٣٩

إذا كان مجموع عمر ثلاث أشخاص = ١٥ سنة ، كم تكون أعمارهم بعد ٥ سنوات ؟

أ) ٢٠ (ب) ٣٠ (ج) ٢٥ (د) ٣٥

لمشاهدة شرح السؤال فيديو اضغط هنا

السؤال ٤٠

راتب شخص ٦٠٠٠ ريال وله نسبة ٣٪ فإذا كانت أرباح الشركة ١٥٠٠٠٠ ريال كم يصبح راتبه ؟

أ) ٩٦٠٠ (ب) ١١٥٠٠ (ج) ١٠٧٠٠ (د) ١٠٥٠٠

لمشاهدة شرح السؤال فيديو اضغط هنا

سؤال ٤١

مغسله تغسل السيارات الكبيرة ب ٢٥ والصغيرة ب ١٥ غسلت المغسلة في ذلك اليوم ٦ سيارات كبيرة وكان ربحها ٢٢٥ كم عدد السيارات الصغيرة التي تم غسلها؟

أ) ٦ (ب) ٧ (ج) ٤ (د) ٥

لمشاهدة شرح السؤال فيديو اضغط هنا

السؤال ٤٢

٥٠ يوم كم يعادلها ؟

أ) ٧ أسابيع (ب) ٧ أسابيع ويوم (ج) ٦ أسابيع (د) ٥ أسابيع

لمشاهدة شرح السؤال فيديو اضغط هنا

السؤال ٤٣

صعد رجل عمارة وتوقف عند الطابق ٣٠ وكان يساوي الطابق ٢٠٪ كم بقي عليه من طابق؟

أ) ١٥٠ (ب) ١٣٠ (ج) ١٢٠ (د) ١٤٠

لمشاهدة شرح السؤال فيديو اضغط هنا

السؤال ٤٤

بركة ماء ينقص منها في فصل الصيف الثلث ، إذا علمت أن الماء وهي بالصيف يصبح ٣٠٠٠ متر مكعب . كم حجم البركة كاملاً وهي ممتلئة ؟

- أ) ٣٥٠٠ (ب) ٤٠٠٠ (ج) ٤٥٠٠ (د) ٣٧٠٠

لمشاهدة شرح السؤال فيديو اضغط هنا

السؤال ٤٥

إذا كان اليوم الأربعاء فبعد ٦٠ يوم سيكون ؟

- أ) السبت (ب) الخميس (ج) الأحد (د) الثلاثاء

لمشاهدة شرح السؤال فيديو اضغط هنا

السؤال ٤٦

٥٠ يوم كم أسبوع فيها ؟

- أ) ٧ أسابيع (ب) ٧ أسابيع ويوم (ج) ٦ أسابيع (د) ٥ أسابيع

لمشاهدة شرح السؤال فيديو اضغط هنا

السؤال ٤٧

غرفة مساحتها ٨٤ متر مربع إذا سطل دهان واحد يكفي ٢٤ متر مربع . كم سطل دهان نحتاجه ؟

- أ) ٣ (ب) ٤ (ج) ٣,٥ (د) ٤,٥

لمشاهدة شرح السؤال فيديو اضغط هنا

السؤال ٤٨

إذا كان خالد يقرأ $\frac{2}{5}$ لكتاب في ٦ ساعات ، فكم من الوقت يلزمه لقراءة باقي الكتاب ؟

- أ) ٧ (ب) ٦ (ج) ٨ (د) ٩

لمشاهدة شرح السؤال فيديو اضغط هنا

السؤال ٤٩

نسبة ١٠٪ من كيس الأرز تساوي ٢٥٪ من كيس السكر . كم هو سعر كيس الأرز ؟ إذا علمت أن سعر كيس السكر يساوي ١٦ ريال .

- (أ) ٣٠ ريال (ب) ٤٠ ريال (ج) ٥٠ ريال (د) ٢٥ ريال

لمشاهدة شرح السؤال فيديو اضغط هنا

سؤال ٥٠

زجاجة عصير وزنها ١٥٠٠ جرام ، بعد إفراغها من نصف العصير ، أصبحت بوزن ٩٠٠ جرام . فكم وزن الزجاجاة بعد إفراغ العصير كاملاً ؟ .

- (أ) ٣٠٠ (ب) ٤٥٠ (ج) ٦٠٠ (د) ٩٠٠

لمشاهدة شرح السؤال فيديو اضغط هنا

السؤال ٥١

قام نواف ومحمد بتأسيس شركة على أساس المناصفة . وبعد فترة قرر الشريكان إدخال شريك ثالث لهما . فباع نواف ثلث نصيبه للشريك الجديد . وباع له محمد نصف نصيبه من الشركة . كم سيكون نصيب الشريك الجديد من أسهم الشركة ؟

- (أ) $\frac{5}{12}$ (ب) $\frac{1}{6}$ (ج) $\frac{5}{24}$ (د) $\frac{1}{4}$

لمشاهدة شرح السؤال فيديو اضغط هنا

سؤال ٥٢

الدولار الأمريكي إذا كان يساوي ٣,٧٥ ريال ، ، ٢٠٠ دولار كم تساوي بالريال؟

- (أ) ٧٠٠ (ب) ٧٥٠ (ج) ٨٠٠ (د) ٨٥٠

لمشاهدة شرح السؤال فيديو اضغط هنا

السؤال ٥٣

الساعة الآن ٣:١٠ ص . كم ستكون الساعة بعد ٥٤ ساعة و ٢٣ دقيقة ؟ .

- (أ) ١٠:٣٣ (ب) ٩:١٧ (ج) ٩:٣٣ ص (د) ١٠:١٧

لمشاهدة شرح السؤال فيديو اضغط هنا

السؤال ٥٤

اشترى شخص ٣ عطور بقيمة ٧٠٠ ريال بعد الخصم . خصم له في العطر الثاني نصفه والعطر الثالث ربعه . كم قيمة الأول

- أ) ٣٠٠ (ب) ٣٥٠ (ج) ٤٠٠ (د) ٤٥٠

لمشاهدة شرح السؤال فيديو اضغط هنا

السؤال ٥٥

محلول في وعاءين متساويين . الوعاء الأول يتبخر بعد دقيقتين والثاني بعد ٤ دقائق . بعد مرور دقيقتين كم بقي من المحلول ؟

- أ) ٤/١ (ب) ٢/١ (ج) ٣/١ (د) ٦/١

لمشاهدة شرح السؤال فيديو اضغط هنا

السؤال ٥٦

ضبطت ساعة على ٦ صباحاً وكانت تتأخر ٢٠ دقيقة كل ساعة فأين يشير العقرب إذا كانت الساعة ٦ مساءً ؟ .

- أ) ٢ مساءً (ب) ٢ صباحاً (ج) ٤ مساءً (د) ٤ صباحاً

لمشاهدة شرح السؤال فيديو اضغط هنا

السؤال ٥٧

إذا كانت شركة توزع أرباح سنوية بقيمة ١٢,٥٪ من رأس المال . بعد كم سنة تتساوى الأرباح مع رأس المال ؟

- أ) ٦ (ب) ٨ (ج) ٩ (د) ٥

لمشاهدة شرح السؤال فيديو اضغط هنا

السؤال ٥٨

مهند يملك ٣ أضعاف ما يملكه خالد وزيادة عليها ٦٠٠ ومجموع المبلغ ٤٠٠٠ كم المبلغ الذي يملكه خالد ؟

- أ) ٨٠٠ (ب) ٧٥٠ (ج) ٧٠٠ (د) ٨٥٠

لمشاهدة شرح السؤال فيديو اضغط هنا

السؤال ٥٩

٦٠ لتر من الحليب . أردنا تعبئة ١٠٠ علبة ، إذا علمت أن العلبة الكبيرة لتر واحد والعلبة الصغيرة نصف لتر . فكم علبة كبيرة يتم تعبئتها ؟

- أ) ٤٠ (ب) ٣٠ (ج) ٢٥ (د) ٢٠

لمشاهدة شرح السؤال فيديو اضغط هنا

السؤال ٦٠

سيارة يتم تغيير زيتها كل ٤٥٠٠ كيلو . إذا قطعت مسافة ٩٤٥٠٠ كم مره تم تغيير الزيت؟

- أ) ٢٠ (ب) ٢١ (ج) ٢٢ (د) ٢٣

لمشاهدة شرح السؤال فيديو اضغط هنا

السؤال ٦١

حديقة مساحتها ٤٠٠٠ م^٢ ، ونسبة المزرع فيها ٦٠٪ ، كم تكون مساحة الغير مزرع ؟

- أ) ١٦٠٠ (ب) ٢٤٠٠ (ج) ١٨٠٠ (د) ٣٢٠٠

لمشاهدة شرح السؤال فيديو اضغط هنا

السؤال ٦٢

شارع طوله ١٠ كم . أرادوا وضع أعمدة إنارة وبين كل عامود وعمود ٢٠٠ م . كم عامود سيتم وضعه ؟

- أ) ٥١ (ب) ٥٠ (ج) ٥٣ (د) ٥٢

لمشاهدة شرح السؤال فيديو اضغط هنا

السؤال ٦٣

لدى أحمد تفاحتين وأراد أن يستبدل كل تفاحتين ب ٣ برتقالات . كم يصبح لديه برتقال إذا أراد استبدال ١٠ تفاحات ؟

- أ) ٩ (ب) ١٢ (ج) ١٥ (د) ١٤

لمشاهدة شرح السؤال فيديو اضغط هنا

السؤال ٦٤

مكتبة يوجد بها ١٨ كتاب . أحمد أخذ الثلث وعمر أخذ كتابين كم بقي من الكتب ؟

أ) ٨ ب) ١٠ ج) ٩ د) ١٢

لمشاهدة شرح السؤال فيديو اضغط هنا

السؤال ٦٥

شخص تاجر ببضاعه بمبلغ ٥٠٠٠ ريال ربح ٢٠٪ وبعدها خسر ٢٠٪ كم باقي معه ؟

أ) ٤٥٠٠ ب) ٣٦٠٠ ج) ٤٨٠٠ د) ٣٧٥٠

لمشاهدة شرح السؤال فيديو اضغط هنا

السؤال ٦٦

مصنع ينتج كل يومين ونصف ٢٠ حاسب . خلال ٣٠ يوم كم ينتج؟

أ) ٢٤٠ ب) ٢٢٠ ج) ٢٥٠ د) ٢٣٥

لمشاهدة شرح السؤال فيديو اضغط هنا

السؤال ٦٧

أحمد راتبه ١١٠٠٠ ريال ، ويخصم التقاعد منه ٩٪ . كم يخصم من راتب أحمد للتقاعد ؟

أ) ١١٠٠ ب) ٨٠٠ ج) ٩٩٠ د) ٨١٠

لمشاهدة شرح السؤال فيديو اضغط هنا

السؤال ٦٨

محمد يمتلك وحدتين سكنية الأولى مأجرة بمبلغ ٣٠ ألف ريال في السنة والثانية ٢٥ ألف ريال بالسنة . كم المبلغ الإجمالي بعد سنتين ونصف إذا افترضنا أنه يأخذ الإيجار كل ست شهور؟

أ) ١١٦٥٠٠ ب) ١٢٧٥٠٠ ج) ١٣٧٥٠٠ د) ١٤٢٧٥٠

لمشاهدة شرح السؤال فيديو اضغط هنا

السؤال ٦٩

منزل أحمد هو الثالث من طرف الشارع، ومنزل خالد هو الخامس من الطرف الآخر، وبين منزل أحمد وخالد ستة منازل. فكم مجموع المنازل ؟

- أ) ١٥ (ب) ١٣ (ج) ١٢ (د) ١٤

لمشاهدة شرح السؤال فيديو اضغط هنا

السؤال ٧٠

إذا كان ٤٪ من عدد يساوي ٤٨ فما قيمة هذا العدد ؟

- أ) ٩٠٠ (ب) ٨٥٠ (ج) ٧٠٠ (د) ١٢٠٠

لمشاهدة شرح السؤال فيديو اضغط هنا

السؤال ٧١

أحمد ساعته متأخرة ٢٤ دقيقة . إذا كانت الساعة الآن ٩:٤٠ ص . بعد ثلاث أيام كم يصبح الوقت عنده؟

- أ) ١٠:٠٤ ص (ب) ٩:١٦ ص (ج) ٩:٥٧ ص (د) ١٠:٥٧ ص

لمشاهدة شرح السؤال فيديو اضغط هنا

السؤال ٧٢

معلمة لديها ٥١ لعبة ، قسمتها بالتساوي بين طلابها . فكم عدد الطلاب؟

- أ) ٥ (ب) ٧ (ج) ١٠ (د) ١٧

لمشاهدة شرح السؤال فيديو اضغط هنا

سؤال ٧٣

موظف اخترع طريقة تقلل من مصاريف الإنتاج ريال واحد وكافأته الشركة ب ١٠٠ الف ريال .

كم يحتاج المصنع يوم لكي يسدد مبلغ ال ١٠٠ الف ريال ؟ .

علماً أنه يبيع كل يوم ١٠٠٠ سلعة

- أ) ١٠٠ (ب) ١٠٠٠ (ج) ٥٠٠ (د) ١٥٠٠

لمشاهدة شرح السؤال فيديو اضغط هنا

السؤال ٧٤

تيشيرتات نادي مرقمه بالترتيب من ١١٢ إلى ١٣٢ . كم عدد اللاعبين ؟

أ) ١٩ ب) ٢١ ج) ٢٠ د) ١٨

لمشاهدة شرح السؤال فيديو اضغط هنا

السؤال ٧٥

سلعة قيمتها ٢٢٠ ، خفضت بنسبة ١٥٪ فما قيمتها الحالية ؟

أ) ١٩١ ب) ٢١١ ج) ١٩٦ د) ١٨٧

لمشاهدة شرح السؤال فيديو اضغط هنا

السؤال ٧٦

لدى أحمد ٩٦٠٠ ريال وأعطى أخته ساره ربع ما يملك وأعطى أخاه خالد نصف ما يملك كم يصبح مجموع ما لدى إخوته؟

أ) ٦٨٠٠ ب) ٧٢٠٠ ج) ٥٦٠٠ د) ٤٨٠٠

لمشاهدة شرح السؤال فيديو اضغط هنا

السؤال ٧٧

يقضي خالد ربع يومه في المذاكرة وثلث يومه في النوم وباقي يومه يقضيه في الأعمال الأخرى .

ما هو الكسر الذي تمثله الأعمال الأخرى ؟

أ) $\frac{5}{12}$ ب) $\frac{1}{3}$ ج) $\frac{1}{2}$ د) $\frac{6}{24}$

لمشاهدة شرح السؤال فيديو اضغط هنا

السؤال ٧٨

إذا كان مجموع فصل دراسي ٥٠ طالب نجح منهم ٣٠ طالب ، ما هو الكسر الذي يمثل عدد الناجحين؟

أ) $\frac{20}{50}$ ب) $\frac{10}{25}$ ج) $\frac{20}{30}$ د) $\frac{3}{5}$

لمشاهدة شرح السؤال فيديو اضغط هنا

السؤال ٧٩

لدى أحمد ١٠٠٠٠ الف ريال وحال عليها الحول وأراد إخراج زكاتها . كم المبلغ الذي سيدفعه أحمد؟

أ) ٣٠٠ (ب) ٧٥٠ (ج) ٢٥٠ (د) ٤٢٥

لمشاهدة شرح السؤال فيديو اضغط هنا

السؤال ٨٠

إذا كان نصف ما يملكه محمد ٣٠٠٠ فكم يساوي ربع ثلث ما يملكه محمد؟

أ) ٥٠٠ (ب) ٢٥٠ (ج) ٤٠٠ (د) ٤٥٠

لمشاهدة شرح السؤال فيديو اضغط هنا

السؤال ٨١

محمد اليوم الاول قرأ نصف الكتاب ، اليوم الثاني قرأ ربع الكتاب ، تبقى ١٥ صفحة لم يقرأها ، إذا كم عدد صفحات الكتاب ؟

أ) ٤٥ (ب) ٥٠ (ج) ٣٠ (د) ٦٠

لمشاهدة شرح السؤال فيديو اضغط هنا

السؤال ٨٢

أحمد قرأ يوم الأحد ١٠ آيات ويوم الاثنين ٢٠ آية ويوم الثلاثاء ٣٠ آية اذا مشى بنفس النمط كم مجموع ما قرأه من آيات الى يوم الخميس ؟

أ) ٦٠ (ب) ١٥٠ (ج) ٩٠ (د) ١٣٠

لمشاهدة شرح السؤال فيديو اضغط هنا

السؤال ٨٣

خالد يأكل ٧ تمرات الصبح و٧ المساء كل عشره ايام والعلبة تكفي ٣٥ ، كم يحتاج علبة؟

أ) ١٤ (ب) ٦ (ج) ٤ (د) ٩

لمشاهدة شرح السؤال فيديو اضغط هنا

السؤال ٨٤

حمد اشترى له ولأصحابه الأربعة وجبات وقيمه الوجبه ٢٠ كم ريالاً دفع؟؟

٩٠(د)

١٢٠(ج)

٨٠(ب)

١٠٠(أ)

لمشاهدة شرح السؤال فيديو اضغط هنا

السؤال ٨٥

خزان سيارة يسع ١٢ لترا ويكفي ل ٦٠ كيلو مترا اذا كان احمد يريد ان يقطع ٦٠٠ كيلو متر والخزان كان ممتلئ ب ٣٥ لتراكم يتبقى لترا لقطع ٦٠٠ ؟

٨٥(د)

٦٠٠(ج)

١٥٠(ب)

٣٠٠(أ)

لمشاهدة شرح السؤال فيديو اضغط هنا

السؤال ٨٦

عائله فقيره تحتاج الى ٣٥٠٠ شهريا احمد يعطيهم خمس المبلغ شهريا ، فكم يعطيهم لمدته سنه ؟

٥٤٠٠(د)

٧٢٠٠(ج)

٨٤٠٠(ب)

٣٥٠٠(أ)

لمشاهدة شرح السؤال فيديو اضغط هنا

السؤال ٨٧

اشترى محمد جهاز جوال وباعه بمبلغ ٦٠٠ ريال و خسر الربع من قيمة الشراء ، فكم يكون مبلغ الشراء؟

٨٠٠(د)

٩٠٠(ج)

٧٥٠(ب)

٧٠٠(أ)

لمشاهدة شرح السؤال فيديو اضغط هنا

السؤال ٨٨

لدينا ١٨ كتاب ، أخذ محمد ثلثي الكتب ، وسعد أخذ كتابين ، وعلي أخذ بقية الكتب كم كتاب بقي لعلني؟

٦(د)

٤(ج)

١٠(ب)

٨(أ)

لمشاهدة شرح السؤال فيديو اضغط هنا

السؤال ٨٩

الدرجة المطلوبة ٣٠ ومن يأتي ب ٤٠٪ من الدرجة ف يعتبر ناجح فما اقل درجة للنجاح ؟

١١(د)

٩(ج)

١٥(ب)

١٢(أ)

لمشاهدة شرح السؤال فيديو اضغط هنا

السؤال ٩٠

سأل أب ابنه كم تحفظ من سور القرآن ؟ فأجابته إذا أضفت ٥ أمثال عدد السور التي أحفظها للرقم ١٠ ، يصبح مجموعها أقل من ٢١١ ، كم أقصى عدد يمكن للولد أن يحفظه؟

أ) ٤٠ ب) ٤١ ج) ٤٢ د) ٤٣

لمشاهدة شرح السؤال فيديو اضغط هنا

السؤال ٩١

تقطع سيارة ١٦٠ كم في ساعتين في كم ساعة تقطع ٤٠٠ كيلومتر؟

أ) ٤ ب) ٥ ج) ٦ د) ٧

لمشاهدة شرح السؤال فيديو اضغط هنا

السؤال ٩٢

لدينا ٩ كيلو طحين نعجنه ب ٢ لتر ماء ، اذا كان لدينا ربع كمية الماء فكم كيلو طحين نستطيع استخدامه؟

أ) ٢,٥ ب) ٢,٧٥ ج) ٢,٢٥ د) ٣

لمشاهدة شرح السؤال فيديو اضغط هنا

السؤال ٩٣

٢٠ متر بين كل شمعة وشمعة ٥ امتار ، كم عدد الشمعات ؟

أ) ٥ ب) ٤ ج) ٦ د) ٧

لمشاهدة شرح السؤال فيديو اضغط هنا

السؤال ٩٤

اذا كان طول محمد ٣ اضعاف طول احمد فما هو طول محمد اذا علمت ان طول احمد بدون باقي .

أ) ١١٧ ب) ١٥٦ ج) ١٥٩ د) ١٥٤

لمشاهدة شرح السؤال فيديو اضغط هنا

السؤال ٩٥

شركه عدد موظفيها ٣٠٠ وقسم الموارد عددهم ١٢٠ وعدد الموظفين بقسم المراقبه ٩٥

مجموعة
دايمنشن
التعليمية

مفتاح إجابات
أسئلة العمليات الحسابية

الاجابة	السؤال	الاجابة	السؤال	الاجابة	السؤال
ج	٣	د	٢	ج	١
أ	٦	ب.ب	٥	أ	٤
ب	٩	ب.ب	٨	د	٧
أ	١٢	ج	١١	ج	١٠
د	١٥	د	١٤	أ	١٣
ج	١٨	أ	١٧	أ	١٦
أ	٢١	ب.ب	٢٠	ب.ب	١٩
ب	٢٤	ب.ب	٢٣	ب.ب	٢٢
ج	٢٧	ب.ب	٢٦	د	٢٥
ب	٣٠	أ	٢٩	د	٢٨
ج	٣٣	ج	٣٢	ج	٣١
أ	٣٦	ج	٣٥	د	٣٤
ب	٣٩	أ	٣٨	ج	٣٧
ب	٤٢	د	٤١	د	٤٠
ج	٤٥	ج	٤٤	ج	٤٣
د	٤٨	ج	٤٧	أ	٤٦
أ	٥١	أ	٥٠	ب.ب	٤٩
ج	٥٤	ج	٥٣	ب.ب	٥٢
ب	٥٧	أ	٥٦	أ	٥٥
ب	٦٠	د	٥٩	د	٥٨
		أ	٦٢	أ	٦١

ج	٦٥	ب	٦٤	ج	٦٣
ج	٦٨	ج	٦٧	أ	٦٦
ج.ب	٧١	د	٧٠	د	٦٩
ج.ب	٧٤	أ	٧٣	د	٧٢
أ	٧٧	ب	٧٦	د	٧٥
أ	٨٠	ج	٧٩	د	٧٨
ج	٨٣	ج.ب	٨٢	د	٨١
ج.ب	٨٦	د	٨٥	أ	٨٤
أ	٨٩	ج	٨٨	د	٨٧
ج	٩٢	ج.ب	٩١	أ	٩٠
ج	٩٥	أ	٩٤	أ	٩٣

الاستنباط

السؤال الأول

- يزيد نجح في جميع المواد ماعدا الفيزياء وحمد رسب في جميع المواد ماعدا الرياضيات .
- أ) يزيد رسب في مادة الرياضيات ب) يزيد وحمد نجحوا في مادة الرياضيات
ج) حمد نجح في مادة الفيزياء د) يزيد افضل من حمد في جميع المواد

السؤال الثاني

- أحمد يريد الذهاب من الرياض الى الدمام ، ويخاف من ركوب الطائرات ولديه اعاقة لا يستطيع قيادة السيارة ، ويوجد رحلة بالقطار من الرياض إلى الدمام .
- أ) القطار هو الوسيلة المناسبة ب) تم تأجيل الرحلة بسبب الإعاقة
ج) عائلة أحمد تريد الذهاب بالطائرة د) أحمد لا يستطيع الذهاب بالسيارة

السؤال الثالث

- مبنى مدرسي يحتوي على ٢٦ قاعة و ٢٠ فصل للطلاب و ٣ قاعات للإداريين وقاعتين للمعلمين وقاعة واحدة للحاسب الآلي .
- أ) الحاسب الآلي لا توجد له قاعة ب) مساحة الفصول كبيرة تتسع للطلاب
ج) توجد قاعة فارغة د) فصول الطلاب كثيرة

السؤال الرابع

- برج المملكة أطول من برج الفيصلية و برج الفيصلية أطول من برج العنود و برج العنود أقصر من برج الكهرباء.
- أ) برج الفيصلية أقصر من برج الكهرباء ب) برج المملكة أطول الأبراج
ج) برج العنود أقصر الأبراج د) برج المملكة أطول من برج الكهرباء

السؤال الخامس

- جميع الطلاب يتكلمون الفصحى ، كل الذين يتكلمون الفصحى شعراء .
- أ) جميع الطلاب يتكلمون الفصحى
ب) جميع الطلاب شعراء
ج) جميع الشعراء طلاب
د) جميع الشعراء يتكلمون الفصحى
-

السؤال السادس

- جميع حضور الحفل أطباء ، وجميع الأطباء متزوجين ..
- أ) جميع الحضور متزوجين.
ب) لا يوجد حاضر غير متزوج.
ج) جميع الحضور أطباء.
د) الأطباء متزوجين.
-

السؤال السابع

- إبراهيم اشترى سيارة غالية ، جميع السيارات الغالية ألمانية ، السيارات الغالية يوجد بها جهاز مرئي .
- أ) إبراهيم سيارته ألمانية .
ب) جميع السيارات الغالية ألمانية .
ج) سيارة إبراهيم بها جهاز مرئي .
د) جميع السيارات الغالية بها جهاز مرئي .
-

السؤال الثامن

- سمكة لا تعيش إلا في البحر الأحمر ، وقام خالد برحلة إلى البحر الأحمر .
- أ) رحلته كانت في البحر الأحمر .
ب) يصيد النوع النادر من الأسماك .
ج) خالد يسكن في جده .
د) رحلة غوص لاستكشاف البحر الأحمر .
-

السؤال التاسع

شركة لا أحد يصير فيها مدير إلا بعد ١٥ سنة من الخبرة في الشركة، عمر توظف قبل مديره بسنتين؛ لذا أي الخيارات التالية صحيحة؟

- أ) عمر مؤهل أن يكون مدير
ب) عمر يستحق راتب ١٥ ألف
ج) عمر يستحق راتب تقاعد
د) عمر خبرته أكثر من ١٥ عام

السؤال العاشر

عمر أخبر والده أنه حصل على نسبة نجاح أعلى من إخوانه .وكانت نسبة نجاحه عن العام الماضي ١٥ ٪ وكانت أعلى من متوسط صفه

- أ) نسبة نجاحه أفضل من العام ب ١٥ ٪
ب) معدل عمر العام الماضي أفضل
ج) عمر أعلى من متوسط صفه العام الماضي
د) نسبة عمر أعلى من متوسط اخوانه

السؤال الحادي عشر

كل مذيع قارئ وكل قارئ كاتب .

- ج) كل قارئ كاتب
د) كل كاتب مذيع

السؤال الثاني عشر

كثرة الأكل تُسبب التخمة والتخمة تسبب عدم الحفظ ، الطلاب الذين لا يحفظون كثيرون الأكل.

- أ) كثرة الأكل تسبب التخمة
ب) التخمة سبب لعدم الحفظ
ج) الطلاب المصابين بالتخمة لا يحفظون

السؤال الثالث عشر

- خالد عمره ١٥ سنة ومن شروط الحصول على بطاقة الأحوال أن يكون العمر ١٥ سنة
- أ- أخو خالد الأكبر لديه بطاقة أحوال ب- أخو خالد الأصغر ليس لديه بطاقة أحوال
- ج- أخوة خالد لديهم بطاقة أحوال د- أخوة خالد لا يملكون بطاقة أحوال
-

السؤال الرابع عشر

- محمد يملك مليون وأخوه فراس يملك ربع المليون، وطلال الأكبر منه يملك أكثر من فراس فأى العبارات التالية صحيحة :
- أ- يملك محمد أكثر من طلال وفراس ب- مجموع ما يملكون مليون وأكثر من نصف المليون
- ج- مجموع ما يملكون أقل من مليون ونصف د- مجموع ما يملكون يساوي مليون ونصف
-

السؤال الخامس عشر

- من شروط التقديم على الماجستير تقدير جيد جداً وقياس لا يقل عن ٧٠٪ أحمد درجته في القياس ٧٠ وتقديره جيد جداً
- أ- جميع من تم قبولهم مثل أحمد وأفضل
- ب- أحمد أقل درجة من بين المتقدمين على الماجستير
- ج- جميع الحاصلين على درجة قياس ٧٠ مقبولين في الماجستير
- د- جميع الحاصلين على تقدير ممتاز مقبولين في الماجستير
-

السؤال السادس عشر

اشترطت مدرسة الابتدائي سن ست سنوات واستثنت من عمره ٥ سنوات و ٩ شهور
وطلاب الروضة أعمارهم ٥ سنوات و ست شهور.

أ) طلاب الروضة يدخلون الابتدائي بدون شروط

ب) استثنى من عمره ٥ سنوات و ١٠ شهور دخول الابتدائي

ج) ست سنين و ١٠ شهور يقبل بدون شروط

د) خمس سنوات و ٦ شهور يقبل بدون شروط

السؤال السابع عشر

اليابان تقع شرق الفلبين والفلبين تقع شرق الصين و الصين تقع غرب الفلبين .

أ) اليابان غرب الكرة الأرضية

ب) اليابان شرق الصين

ج) اليابان تقع في أقصى الغرب

د) اليابان تقع غرب الصين

السؤال الثامن عشر

توظف خالد وعمره ٢٢ سنة ، التقاعد النظامي في الشركة عند بلوغ السن ٦٠ سنة ، تقاعد
خالد وعمره ٦٠ سنة إذا أكمل ٤٠ سنة عمل يستحق راتب تقاعد كامل .

أ) أكمل خالد ٤٠ سنة خدمة في الشركة

ب) خالد يستحق راتب كامل

ج) تقاعد خالد وعمره ٦٠ سنة

د) تقاعد خالد بناء على رغبته

السؤال التاسع عشر

محمد أصغر من ثامر وثامر أكبر من أحمد و ثامر نصف عمر بندر .

أ) بندر أكبر من أحمد

ب) أحمد أكبر من بندر

ج) ثامر أصغر من بندر

د) محمد أكبر من أحمد

السؤال ٢٠

كرمت مدرسة جميع المتفوقين خلال السنة الدراسية وجميع المدعوين متفوقين ، وكان فهد ضمن المدعوين للتكريم و خالد يدرس مع فهد .

أ) فهد من المتفوقين

ب) خالد من المتفوقين

ج) فهد و خالد من المتفوقين

د) خالد ضمن المدعوين

السؤال ٢١

مسابقة وظيفية تقدم عليها كل من أحمد ومحمد وفراس وعلي و بدر ، أحمد قبل فراس ، وعلي بعد محمد ، وفراس بعد علي , و بدر قبل أحمد . **من فاز بالوظيفة ؟**

أ) أحمد ب) محمد ج) بدر د) علي

السؤال ٢٢

جميع الحضور مدعوين للحفلة ، خالد حضر الحفلة حمد لم يحضر . أي العبارات التالية صحيحة ؟

أ) حمد لا يريد الحضور ب) خالد مدعو للحفلة

ج) حمد لم يدعى للحفلة د) خالد غير مدعو للحفلة

السؤال ٢٣

مهند وفيصل وعمار وفهد ونواف يسكنون في ٣ مناطق بالمملكة العربية السعودية .عمار لا يسكن في نفس المنطقة التي يسكن فيها فيصل ، وفيصل ونواف يسكنون في منطقة واحدة، وفهد لا يسكن في نفس المنطقة التي يسكن فيها نواف ، ومهند لا يسكن مع فيصل في منطقة واحدة ، أي العبارات التالية صحيحة :

- أ. فهد يسكن مع فيصل في منطقة واحدة
- ب. فهد لا يسكن مع عمار في منطقة واحدة
- ج. فهد ومهند يسكنون مع عمار في منطقة واحدة
- د. عمار لا يسكن مع نواف في منطقة واحدة

السؤال ٢٤

أبناء أبو صالح يحفظون القرآن الكريم أكبرهم محمد وهو إمام مسجد وأصغرهم فهد وهو طالب في المرحلة الثانوية.

- أ. محمد يحفظ القرآن
- ب. فهد لا يحفظ القرآن
- ج. أصغرهم يدرس في المرحلة المتوسطة
- د. أبناء أبو صالح كثيرون

السؤال ٢٥

كل الحيوانات المفترسة آكلة اللحوم ، بعض الحيوانات الأليفة آكلة اللحوم

- أ. الحيوانات الأليفة آكلة اللحوم
- ب. بعض الحيوانات المفترسة آكلة اللحوم
- ج. الحيوانات الأليفة لا تأكل اللحوم
- د. الحيوانات المفترسة تأكل اللحوم

السؤال ٢٦

الذي لديه عضوية ذهبية يأخذ خصم وهدية والذي لديه عضوية فضية يأخذ خصم او هديه..

وفهد حصل على خصم فقط..

- أ. فهد عضويته ذهبية
- ب. فهد عضويته فضية
- ج. ما نقدر نطلع العضوية
- د. فهد عضويته ذهبي وفضي

السؤال ٢٧

اخي احمد يتقن اللغة الانجليزية من يتقن اللغة الانجليزية يعتبر مترجم وعلي مترجم

- أ. علي واحمد اخوان
- ب. علي مترجم
- ج. أحمد يتقن اللغة الفرنسية
- د. علي يتقن اللغة الإنجليزية

جت بأكثر من صيغة : بعض التجميعات الإجابة (ب) على حسب الاختيارات.

السؤال ٢٨

احمد وتركي اخوان من ام ، هيفاء بنت احمد وهدى ام تركي ، وراكان اخو تركي ، ماهي صلة قرابة راكان ب هيفاء ؟؟

أ)راكان عم هيفاء

السؤال ٢٩

قرية لا يستطيعون القراءة وام جابر لا تستطيع القراءة وجابر يستطيع القراءة.

- أ. البلدة ليس فيها مدرسه
- ب. أم جابر لا تستطيع القراءة
- ج. جابر يسكن في بلده اخرى
- د. جابر لا يحب بلده

**ملاحظة: ملفات دايمنشون العامة مجانية ولا يحق لأي شخص استخدامها للبيع أو للدورات المدفوعة وعلى ذلك جرى التنبيه!!

السؤال ٣٠

في فصل فيه ٢٠ طالب يدرسون مقرر الرياضيات كلهم نجحوا ، عبدالله لم ينجح وباقيه
اخر مقرر اللي هو الرياضيات:

- أ. جميع الطلاب العشرون تخرجوا
- ب. عبدالله تخرج فقط
- ج. عبدالله لم يتخرج
- د. عبدالله لم ينجح بالرياضيات

السؤال ٣١

مطعم يقدم وجبات كل يوم نوعين لحم (سمك - دجاج - غنم-بط) بحيث السمك الجمعة
والسبت و الدجاج يومياً و الغنم يوم الاثنين و يوم اخر بحيث لا يكون يومين متتاليين يوم
الاحد ايش يقدم ؟

- أ. دجاج و بط.
- ب. غنم و دجاج.
- ج. سمك و غنم.
- د. بط و سمك.

السؤال ٣٢

سلمان ونواف وفهد يجلسون في غرفة صفية واحدة ، سلمان يدون الملاحظات ،
وتقتضي المعلومات أن من يدون الملاحظات يجلس في المقاعد الأمامية ،
نواف لا يدون الملاحظات :

- أ. سلمان يجلس خلف نواف.
- ب. فهد يجلس خلف نواف.
- ج. نواف يجلس في مؤخرة الصف.
- د. سلمان يجلس في مقدمة الصف.

السؤال ٣٣

محل ازهار يبيع يوم السبت الازهار البيضاء ويوم الاحد الازهار الحمراء والصفراء ويوم الثلاثاء الازهار الحمراء والبيضاء ويوم الاربعاء الصفراء ويغلق بقية الايام. ذهب ابراهيم المحل ووجده مغلق ثم ذهب اليوم التالي واشترى زهرة حمراء. اذا ابراهيم اشترى الزهرة يوم :

- أ. السبت
- ب. الاحد
- ج. الثلاثاء
- د. الاربعاء

السؤال ٣٤

جميع أبناء العم صالح يحفظون القرآن بدءاً من أحمد وهو إمام مسجد إلى أصغرهم وليد وهو طالب بالمرحلة الابتدائية ومشهود لهم في الحي بأخلاقهم الرفيعة

- أ. أحمد أفضلهم حفظاً للقرآن
- ب. أصغر أبناءه بالمرحلة المتوسطة
- ج. أبناءه كثيرون
- د. وليد يحفظ القرآن

السؤال ٣٥

حدث حريق في منزل وكان هنالك امرأه وثلاث اولاد وكان هنالك طفاية حريق في المنزل أتى الدفاع واطفى المنزل في غضون ٦٠ دقيقة

- أ. لم يصب أحد من أفراد العائلة
- ب. تمت عملية الاطفاء خلال ساعة
- ج. لم يكن أحد موجود في المنزل
- د. طفاية الحريق لا تعمل

مجموعة
دايمشنز
التعليمية

مفتاح إجابات
أسئلة الاستنباط

الإجابة	السؤال	الإجابة	السؤال
أ	٢	ب	١
ج	٤	د	٣
أ	٦	ب	٥
أ	٨	ج	٧
أ	١٠	د	٩
ج	١٢	د	١١
ب	١٤	ب	١٣
ب	١٦	أ	١٥
ج	١٨	ب	١٧
أ	٢٠	أ	١٩
ب	٢٢	ج	٢١
أ	٢٤	د	٢٣
ب	٢٦	د	٢٥
أ	٢٨	د	٢٧
ج	٣٠	ج	٢٩
د	٣٢	أ	٣١
د	٣٤	ج	٣٣
	٣٦	أ	٣٥

الاستيعاب اللفظي

القطعة الأولى :

جزء كبير من ترددي الأوضاع الاجتماعية لبعض الأسر نشأ نتيجة لسوء إدارة مواردها المالية وشؤونها الاقتصادية. العديد من الأسر أقحمت نفسها في قروض استهلاكية وتردت أوضاعها الاقتصادية إلى مستويات غير قابلة للاستمرار. وأصبح لزاماً عليها تغيير أنماطها الاستهلاكية وبذل جهد أكبر لتصحيح أوضاعها الاقتصادية والاهتمام أكثر بالتخطيط المالي لمواردها الاقتصادية. أدت الأخطاء الاقتصادية - والإصرار على تكرارها - عند بعض الأسر إلى خلق أزمات مالية ساهمت في تدهور الحياة الاجتماعية. سلوك معظم الأسر يحتاج إعادة صياغة لاسيما ما يتعلق بالاستهلاك وتنظيم الوقت. والعديد من الأسر بحاجة لعلماء الاجتماع أكثر من حاجتها لعلماء الاقتصاد لسد الفجوة بين القيم التي تؤمن بها والقيم التي تطبقها في حياتها. أحد أهم مؤشرات سلبيات الفوضى الاستهلاكية يتمثل في ارتفاع حجم إنفاق الأسرة في بداية الشهر مقارنة بنهايته البرمجة الاقتصادية لميزانية الأسرة وأسس التخطيط المالي : - أسس التخطيط المالي الجيد ينطلق من إدراك حاجة الأسرة للتغيير لاسيما الأسر التي تردت أوضاعها الاقتصادية إلى مستويات غير قابلة للاستمرار. - البرمجة الاقتصادية لميزانية الأسرة إحدى أهم الوسائل المساعدة على تصحيح الخلل الذي تعاني منه معظم الأسر من الطبقة المتوسطة .

س ١ / السبب في أن الأسر الفقيرة تعاني أكثر من غيرها ؟!

- أ. كثرة التضخم المالي .
- ب. غلاء المعيشة .
- ج. ارتفاع المعيشة بسبب الادخار .
- د. القروض البنكية الميسرة .

س ٢ / اختر الإجابة الصحيحة :

- أ. العلاقة بين الأوضاع المادية و الاجتماعية علاقة تعاضد .
- ب. العلاقة بين الأوضاع المادية و الاجتماعية علاقة تضاد .
- ج. العلاقة بين الأوضاع المادية و الاجتماعية علاقة تضامن .
- د. العلاقة بين الأوضاع المادية و الاجتماعية علاقة طردية .

س ٣ / الترشيد في الإنفاق يكون ب :

- أ. القروض الاستهلاكية .
- ب. تحديد الدخل .
- ج. الإنفاق على الضروريات .
- د. الابتعاد على الكماليات .

س ٤ / مما يساعد الأسرة على تنظيم ميزانيتها ؟!

- أ. القروض الاستهلاكية .
- ب. الادخار .
- ج. البرمجة الاقتصادية و التخطيط المالي .
- د. الاستثمار .

القطعة الثانية :

النفط أو النفط الخام؛ عبارة عن سائل باللون الأسود، أو البني الغامق، أو الأصفر أحياناً، حيث يعتمد اللون على المكونات الداخلية للسائل، يتواجد بشكل طبيعي في طبقات الأرض، أو قد يكون مختلطاً بالرمال، وهو مزيج معقد من الهيدروكربونات، والغاز الطبيعي، وشمع البارافين، ويحتوي على عناصر غير معدنية، مثل: الكبريت، والأكسجين، والنيتروجين.

يتواجد النفط في أعماق الأرض، ونتيجةً للضغط العالي يبدأ بالتدفق بشكل بطيء نحو السطح، حيث يكون الضغط أقل، ويستمر هذا التدفق حتى يصادف النفط طبقة غير مُنفذة من الصخور، وهناك يبدأ بالتجمع داخل الخزانات الموجودة على بعد عدة أمتار من سطح الأرض، ويتم تحديد أماكن الخزانات من قبل علماء الكيمياء والجيولوجيا عن طريق دراسة الهياكل الصخرية تحت الأرض، واستخدام أجهزة الاستشعار لتحديد التخطيط الجيولوجي للأرض، وبعد ذلك يتم حفر الآبار باستخدام حفارات نفطية، وبشكل عمودي نحو مصدر النفط.

س ١ / كيف يستخرج النفط !؟

- أ. عن طريق الضغط .
- ب. عن طريق الحفر .
- ج. عن طريق الحرارة .
- د. عن طريق الدفع .

س ٢ / النفط يتواجد تحت الأرض على شكل !؟

- أ. حقول .
- ب. سوائل .
- ج. مواد صلبة .
- د. غازات .

س ٣ / يتم اكتشاف النفط عن طريق !؟

- أ. حفر سطح الأرض .
- ب. فحص سطح الأرض .
- ج. فحص باطن الأرض .
- د. الحفر إلى عمق الأرض .

القطعة الثالثة :

الإدارة

تُعد الإدارة من أهم النشاطات الإنسانية التي تمارس داخل المجتمعات، حيث لها تأثير كبير على نواحي الحياة المختلفة نظراً لارتباطها المباشر بالشؤون الاقتصادية، والقضايا الاجتماعية، والسياسية، فالإدارة هي الجهة المسؤولة التي تعمل على جمع الموارد الاقتصادية وتوظيفها من أجل إشباع حاجات الفرد والجماعات في هذه المجتمعات، حيث تتطور المجتمعات وتتقدم بالاعتماد على الإدارة، ولهذا تعتمد الدول عليها من أجل توفير الرخاء لمواطنيها، وتعتبر الإدارة الناجحة أساس نجاح منظومة المجتمع وتفوقها.

تعريف الإدارة تُعرف الإدارة بأنها عملية تحقيق الأهداف الموضوعية من خلال استغلال الموارد والعناصر المتاحة، حسب منهج مُحدد، وضمن بيئة محددة،

كما تُعرف بأنها عملية التخطيط والتنظيم، والرقابة، والتنسيق، والتوجيه المطبقة على الموارد المالية والبشرية، من أجل تحقيق أفضل النتائج، بأقل التكاليف، وأفضل الطرق وأقصرها، والإدارة هي فرع من فروع العلوم الاجتماعية.

أنواع الإدارة " الإدارة العامة " : تتميز بأنها تعمل خلال الظروف الاحتكارية بعدد كبير من الموظفين، حيث تُقدم خدمات عامة ضخمة لا تكون غايتها الربح، وإنما تقدم الخدمات الواجبة والضرورية لأفراد المجتمع، وتلتزم بمساواة المواطنين أمام هذه الخدمات دون تمييز.

" إدارة الأعمال " : تتميز عن الإدارة العامة بروح التنافس الحادة، حيث إنّ الهدف الرئيسي لإدارة الأعمال تحقيق أقصى ربح مادي ممكن من خلال إدارة المشاريع الخاصة، إلا أنها مشاريع أصغر من مشاريع الإدارة العامة، كما أنّ عدد موظفيها أقل من موظفي الإدارة العامة.

مستويات الإدارة العليا : تتمثل في المدير العام أو رئيس مجلس الإدارة.

" الإدارة الوسطى " : تتمثل بمدراء الأقسام.

" الإدارة التنفيذية " : تُعرف أيضاً بالإدارة التشغيلية والتي تتمثل بالمشرفين بشكل مباشر على تنفيذ الأعمال، وتطبيق السياسات على أرض الواقع .

س ١ / تُعرف الإدارة بأنها :

- أ. متنوعة .
- ب. متخصصة .
- ج. مهنية .
- د. شاملة .

س ٢ / الإدارة فن عندما تتعامل مع :

- أ. الآلات .
- ب. الأفراد .
- ج. الأنظمة والقوانين .
- د. الأرقام والاحصائيات .

س ٣ / الفرق بين الإدارة العليا والإدارة الوسطى :

- أ. الإدارة الوسطى ترفض المقترحات لأنها لا تتماثل مع رأيها .
- ب. الإدارة الوسطى لا تتوافق مع السلطة التشريعية العليا .
- ج. الإدارة العليا تختص بعملية ترجمة الأهداف والسياسات العامة المحددة .
- د. تمثل الإدارة العليا القاعدة الأساسية للمتخصصين والخبراء في كل المشاريع .

س ٤ / توجه الإدارة التقليدية إلى :

- أ. التعامل المباشر .
- ب. التعامل الإلكتروني .
- ج. التعامل عن طريق الوسيط .
- د. التعامل عن بُعد .

س ٥ / القرارات التي تُتخذ تكون عن طريق :

- أ. الإدارة العليا .
- ب. الإدارة الوسطى .
- ج. الإدارة العليا و الوسطى .
- د. الإدارة العليا والمباشرة .

س ٦ / أهداف الرقابة :

- أ. تطوير الأداء الوظيفي .
- ب. مراقبة سلوكيات الموظفين .
- ج. متابعة الأداء الوظيفي .
- د. معاقبة الموظفين الغير منضبطين .

القطعة الرابعة :

أحد أنواع اضطرابات الكلام التي تصيب في الغالب الأطفال بين الثانية والخامسة من العمر، وخاصة الأولاد منهم ، وقد تصيب أيضا البالغين ولكن بنسبة ضئيلة ، ولكنها تختفي في معظم الحالات عندما يكبر الطفل ، ويمكن أن نصفها بأنها عملية إطالة أو تكرار في بعض الكلمات والمقاطع الصوتية التي يصدرها الطفل ، وقد تسبب للطفل مشاكل في التواصل مع الآخرين وقد يلجأ إلى الانطوائية والعزلة جراء هذه الحالة ، لا يوجد علاج شاف للتأتأة ولكن من الممكن أن تؤدي بعض التغيرات السلوكية والتعامل مع الطفل وتدريبه على النطق الصحيح أن يخفف من الأعراض ، ونستعرض سوياً أعراض التأتأة ومظاهرها وطرق علاجها والتخفيف من حدتها في مقالنا .

وقد تكمن المعالجة للأطفال في الوقت المبكر بالتعلم التدريجي في الكلام وذلك بالتعلم على انتظام التنفس تدريجياً والانتقال بين الكلمة والأخرى تدريجياً بمقطع صوتي واحد ومن ثم التوجه إلى الجمل الأكثر تعقيداً ، ومساعدة الطفل على التخفيف من حدة القلق الذي ينتابه جراء تآتأته في الكلام ، ومن الممكن أن يلجأ الطبيب إلى وصف دواء مضاد للقلق أو الاكتئاب إذا كانت حالة المريض تستدعي ذلك .

س ١ / أفضل طريقة لعلاج التأتأة عند الاطفال ؟!

- التعلم المباشراً .
- التعلم المبكر .
- التعلم المتأخر .
- التعلم التدريجي .

س ٢ / لتحفيز الطفل على تخفيف التأتأة في الكلام يُنصح بالتحدث معه بطريقة ؟!

- بطريق إجباره بالتحدث .
- بطريق الضغط عليه بالتحدث .
- بطريقة مطالبة بسرعة الكلام .
- بطريقة ممتعة لجذبه للكلام .

س ٣ / اختر العنوان الأمثل للفقرة الأولى!؟

- أ. صعوبة النطق عند الأطفال .
- ب. مراحل الكلام عند الاطفال .
- ج. حلول التأتأة عند الاطفال .
- د. اضطرابات الكلام عند الأطفال .

القطعة الخامسة :

يتخيل البعض أن العمل من البيت ، أو ما يعرف باسم (العمل عن بُعد)، يجعل الموظف قادراً على الاستمتاع بيومه ، ينهض من النوم وقتما شاء ، ويفطر على راحته ، ويقسم يومه بين العمل والحياة الخاصة ، بحيث يستطيع العدل بينهما، ويجمع بين الحسنيين، نفس الراتب، مقابل عمل مريح، فلا إزعاج من زميله الذي يتحدث في الهاتف بصوت عال، ولا مدير يتدخل في كل جزئية من العمل ، وفوق كل ذلك يرى أولاده ، ويقضى وقتاً أطول معهم ، فيشعرون بوجوده، ويشاركونهم حياتهم.

هذا النوع من العمل لم يبدأ حديثاً بل قامت شركات كبرى مثل (آي بي إم) ، بتطبيق هذا النموذج في ألمانيا منذ أكثر من سنوات عشر، وارتفعت نسبة الموظفين العاملين بهذه الطريقة إلى الثلثين، وتبين أن الشركة لم تستطع أن توفر بذلك الكثير من التكاليف الناجمة عن خفض عدد المكاتب المخصصة للموظفين فحسب، بل ارتفعت إنتاجية الموظف، وتحسنت نوعية العمل بصورة ملحوظة.

ظهر جلياً أن الموظف الذي يعمل من بيته ، غالباً ما يشعر بأن عليه أن يحقق نتائج ممتازة، لإثبات أن حصوله على ثقة صاحب العمل في مكانها، وأنه يستفيد من الحرية الممنوحة له لصالح العمل ، وأن عنده دوماً ما يمكن تسميته ، بالشعور بالذنب، فلا يسمح لنفسه بالحصول على الاستراحة، التي تضمنها له القوانين، ولا يتوقف من العمل حتى في عطلة نهاية الأسبوع، ويواصل العمل لساعات متأخرة في الليل، وحتى في وقت المرض، لا يرضى أن يتمتع بحقه في الإجازة المرضية، بل يتحمل على نفسه، ليجلس على مكتبه، ويواصل العمل.



كل هذه الظواهر جعلت النقابات العمالية، تتساءل عن كيفية الحيلولة دون انتهاك حقوق الموظف، الذي يتحول إلى مدير صارم في التعامل مع نفسه، ويجعل نفسه مسؤولاً عن تحقيق نتائج أفضل للشركة، حتى ولو كان ذلك على حساب حياته الخاصة، لذلك طالبت النقابات أصحاب العمل، بأن يجري إعادة تأهيل للمديرين، الذين تغيرت مهامهم في ضوء هذا التحول في آلية العمل، بحيث أصبح مطلوباً من المدير الآن أن ينصت إلى صوت الموظف في المكالمات، لكي يطمئن على حالته النفسية والبدنية، وينتبه إلى مواعيد كتابة الرسائل الإلكترونية، وينبه الموظف إلى عدم جواز العمل في منتصف الليل، وإلى أن العمل في الفترة بين الثامنة مساءً والسادسة صباحاً ممنوع، حفاظاً على صحته وعلى حياته الخاصة.

س ١ / الموظف الذي يعمل من بيته يحقق نتائج ممتازة بسبب!؟

- شعوره بالذنب .
- اهتزاز ثقة مديره به .
- عدم شعوره بالحرية .
- تمتعه بالإجازة المرضية .

س ٢ / أي من الخيارات التالية خاطئة بشأن مكافحة النقابات العمالية انتهاك حقوق الموظف عن بُعد!؟

- وجوب متابعة حالته النفسية .
- الحرص على متابعة الإنجاز .
- الاهتمام بوقت الرسائل الإلكترونية .
- التقيد بوقت العمل .

س ٣ / العلاقة بين ثقة المدير في الموظف والانتاجية هي علاقة!؟

- عكسية .
- تكاملية .
- طردية .
- أفقية .

س ٤ / أنسب عنوان للنص !؟

- أ. مكتسبات الموظف .
- ب. موظفون في منازلهم .
- ج. الموظف والرقابة .
- د. حقوق العمال .

القطعة السادسة :

عند ملاحظة الطفل يستعمل يده اليسرى عند الأكل يجب توجيهه بهدوء وتدريبه تدريجياً على استعمال اليد اليمى وليكن التعامل معه بالترغيب وليس بالتوبيخ والترهيب فنحن في صدام مع سيالات عصبية قادمة من المخ تُهيمن على الجزء الأيسر في الجسم عند هؤلاء الأطفال ووسيلة التدريب تحتاج إلى وقت وتوجيه دونما توبيخ وتدريب الطفل على حمل الأشياء الخفيفة باستعمال اليد اليمى.

س ١ / يجب التعامل مع الطفل الذي يأكل باليد اليسرى :

- أ. التوبيخ .
- ب. الترهيب .
- ج. التدريب .
- د. التعليم .

س ٢ / العنوان الانسب للقطعة !؟

- أ. صعوبة الأكل عند الطفل .
- ب. مشاكل الأكل عند الطفل .
- ج. أكل الطفل باليد اليسرى .
- د. حلول الأكل باليدين عند الأطفال .

القطعة السابعة :

تعتبر ظاهرة التبول الليلي حتى سن ٣ سنوات ظاهرة شائعة، وحتى طبيعية. ، إذا استمرت هذه الظاهرة بعد سن ٥ فيجب التوجه إلى الطبيب من أجل الفحص وتلقي العلاج.

أظهرت الأبحاث الأخيرة أن ١٥٪ من الأطفال في سن ٦ سنوات يعانون من هذه الظاهرة بدرجات متفاوتة ، وأن ١٪ من الأشخاص فوق ١٨ عاما يعانون من التبول الليلي .

تعتبر الحالات التي توجد فيها مشكلة في التبول خلال ساعات اليوم أيضاً ، أكثر تعقيداً وتتطلب فحصاً معمقاً ، وقد لا تكون مرتبطة بالنوم .

من المهم أن يقوم طبيب الأطفال أو طبيب مختص بهذه المشكلة بتشخيصها ومعالجتها.

من خلال قراءة القطعة السابقة . أجب عن الأسئلة التالية :

س١ / أفضل طريقة لعلاج التبول الليلي عند الاطفال هي ؟!

- أ. العقاب
- ب. النفسي
- ج. التعزيز
- د. الضرب

س٢ / ما سبب تبول الأطفال ليلاً ؟!

- أ. عامل نفسي
- ب. تناول كمية كبيرة من الماء
- ج. الهلع
- د. النوم العميق

س٣ / العلاقة في اخر جملة من القطعة "فزح الاطفال مصحوبه باضطرابات" علاقة ؟!

- أ. تعليل
- ب. توضيحية
- ج. تنوع
- د. ترتيب

س٤ / العلاقة بين تأنيب ،تهديد، عقاب :

- أ. تدرج
- ب. تنوع
- ج. ترادف
- د. تضاد

س ٥ / أنسب عنوان للقطعة !؟

- أ. مشاكل النوم عند الاطفال
- ب. علاج مشكلة التبول الليلي
- ج. حلول تبول الاطفال ليلا
- د. اضطرابات النوم عند الأطفال

القطعة الثامنة :

الدموع

أثبتت الدراسات الحديثة أنّ البكاء مُفيد للصحة إلا أن نوعية الدموع التي تذرّف نتيجة لموقف عاطفي انفعالي تكون مختلفة من حيث التركيب والوظيفة ، فالدموع عبارة عن تفاعلات كيميائية تأتي استجابة لدواع وحالات انفعالية مشبوبة بالعاطفة وبالتالي فهي أغنى بالبروتين ويرى العلماء أن الدموع سواءً كانت فرحاً أم حزناً تُساعد على إعادة التوازن الكيميائي للجسم .

أما عن أنواع الدموع التي تسيل من العين فهناك أنواع مختلفة ومتعددة ، ومنها: الدموع المطرية التي تفرز حتى تحافظ على رطوبة العين ، والدموع التحسسية ودموع العواطف التي تنهمر كرد فعل للمؤثرات العاطفية ، والدموع السطحية ، ودموع الحزن وغيرها ، وأشار إلى أنه أثناء البكاء تزداد كمية الدمع المنهمر بمقدار يفوق المعدل الطبيعي بخمسين إلى مئة ضعف في الدقيقة ، وتسكب العين وسطياً (٥) ملليمترات من الدمع يومياً . جدير بالذكر أن فتح وإغماض العين بشكل لا إرادي بمعدل (٢٠) مرة في الدقيقة مهم ؛ لأن هذه الحركة التي تحافظ على مرونة العينين .

ويرى العلماء أن الدموع الأصلية سواءً كانت دموع فرح أم حزن تساعد على إعادة التوازن لكيمياء الجسم كما أنها تساعد على العلاج النفسي ، وتشير إحدى الدراسات إلى أن النساء يجهشن بالبكاء بصوت مسموع نحو (٦٤) مرة بالسنة بينما يبكي الرجال حوالي (١٧) مرة فقط في السنة .

ويعتقد الدكتور بيل فري من مركز أبحاث الدمع وجفاف العين في ولاية ميناسونا الأمريكية أن البكاء مفيد فقد تبين أن (٨٥) بالمائة من النساء و (٧٣) بالمائة من الرجال الذين شملتهم الدراسة شعروا بالارتياح بعد البكاء .

ويرى فري أن الدموع تخلص الجسم من المواد الكيميائية المتعلقة بالضغط النفسي ، مشيراً إلى التركيب الكيميائي للدمع العاطفي والدمع التحسسي الذي يثيره الغبار مثلاً ، فالدمع العاطفي يحتوي على كمية كبيرة من هرموني البرولاكين وآي سي تي أنشن اللذين

يتواجدان في الدم في حال التعرض للضغط ، وعليه فإن البكاء يخلص الجسم من تلك المواد .

س١ / ما لعلاقة بين (مختلفة ومتعددة) ؟!

- أ. مترادف .
- ب. تعارض
- ج. تضاد
- د. تقابل

س٢ / علاقة (التي تحافظ على رطوبة العين وصحتها) بما قبلها :

- أ. وظيفة .
- ب. بيان السبب .
- ج. نتيجة .
- د. مترادف .

الشرح : لأنه يتحدث عن أنواع الدموع ثم يذكر بعدها وظيفتها .

س٣ / عدد أنواع الدموع في النص :

- أ. ٤
- ب. ٥
- ج. ٦
- د. ١

*الشرح : ١. الدموع المطرية ٢. الدموع التحسسية ٣. دموع سطحية ٤. دموع الحزن *ملحوظة: يُرجى العد جيداً في الاختبار (يختلف العدد حسب نموذج الاختبار).

س٤ / يُفهم من الفقرة (١) أنّ الدموع :

- أ. مفيدة ومهمة وصحية للإنسان .
- ب. مضرّة وقد تصيبه بالاكْتئاب .
- ج. ليس لها فائدة حقيقية ظاهرة .
- د. لا تضر ولا تنفع فوجودها كعدمه .

الحل (أ) : لقولة : (أثبتت الدراسات الحديثة أن البكاء مفيد للصحة) .

س٥ / العلاقة بين (الدموع) و (الانهماك) ؟!

- أ. طردية .
- ب. يجعله يزداد .

- ج. في تناقض .
د. تضاد ..

س٦ / الدموع المطرية هي التي :

- أ. تحافظ على رطوبة العين ..
ب. تساعد على مرونة العين .
ج. دموع الانتصار .
د. دموع الجرح .

• الحل (أ) : الشرح لقوله : الدموع المطرية التي تحافظ على رطوبة العين وصحتها ..

س٧ / علاقة (لأن هذه الحركة التي تحافظ على مرونة العينين) ؟!

- أ. تعليل .
ب. نتيجة .

* الحل (أ) : لأن تفيد التعليل .

س٩ / أفضل عنوان للفقرة الثانية :

- أ. أنواع الدموع .
ب. أسباب الدموع .
ج. فائدة الدموع .

* الحل (أ) : لقوله في بداية الفقرة (٢) : أما عن أنواع الدموع التي تسيل من العين فهناك أنواع مختلفة ومتعددة .

القطعة التاسعة :

يُعد القائد الإداري هو المركز والمحرك الفاعل للاتباع الذين يمثلون القاعدة الهرمية لأي مؤسسة تسعى لتحقيق الأهداف المرجوة من إنشائها سواء كانت ربحية أو خيرية أو فكرية ، وعليه فإن المؤسسة تحدد الخطوات العريضة من خلال القائد الذي التصقت به القيادة بصفات شخصية .

لاستمالة القاعدة الهرمية من أجل تحقيق وإنجاز الأعمال المبتغاة منهم وبالتالي فإن القيادة الشخصية هي عملية تأثير من القائد على الجماعة بشكل مباشر ، تنمو هذه القيادة من داخل الجماعة للوصول إلى الأهداف المرجوة. وعلى القائد في قيادته للفريق أن يتمتع بالتبادلية والتحويلية وهما أسلوبا قيادة عصري يقود بالنهاية للإنجاز، ويتمحور هذان العنصران حول كيفية التعامل مع الأتباع ، فعموم القادة الذين يركزون على التبادلات بينهم

ويين أتباعهم يسمون بالقادة التبادليين فالعلاقة تبادلية المنفعة ، فالقائد يحفز أفراد فريقه من خلال بعض الوعود في حال حققوا العمل .

أما القائد التحويلي فهو القائد المتخصص الذي يتحكم بدوافع ورغبات الأتباع كي يتمكنوا من تحقيق غايات وطموحات مؤسسته . ويكون ذلك من خلال تقوية الروابط الأخلاقية والاجتماعية بينه وبينهم . أما القائد المسيطر فالأدوات لديه تعتمد على القوة والثواب والعقاب ولكنه لا يستخدمها بصورة متسقة وإنما كما يراها ، ولا يولي إهتماماً ، بالأتباع ، ومن أنواع القادة الفوضوي حيث لا يمارس دور القيادة بل يترك الحرية المطلقة للأفراد . وتسير الأمور بشكل عشوائي .

س ١ / وفقاً للنص ، الغاية من العلاقة بين القيادة والأتباع هي تحقيق :

- أ. العلاقات
- ب. المنافع
- ج. النظام
- د. الأهداف

س ٢ / وفقاً للنص ، قائد يولي اهتمامه بالإبداع ، وقائد آخر يحفز أتباعه بالوعود (هذان القائدان بالترتيب هما) ؟!

- أ. الفوضوي _ المسيطر
- ب. المتخصص _ التبادلي
- ج. التبادلي _ المسيطر
- د. المسيطر _ التبادلي

القطعة العاشرة :

قطعة اللدائن

١. تتبوأ صناعة المواد البلاستيكية (اللدائن) في عصرنا الحاضر مركزاً مرموقاً ورائداً بين الصناعات البتر وكيميائية الحديثة، ويرجع ذلك إلى اتساع مدى استعمالاتها في حياتنا اليومية لما لها من خواص و مميزات أهلتها لتكون بديلاً فعالاً لكثير من المواد التقليدية كالحديد والخشب ... وغيرها
٢. وترجع تسمية المواد البلاستيكية باللدائن إلى قابليتها للتشكل و القولة عند التسخين أو الضغط أو الاثنين معاً ، ولا يتغير شكلها عند زوال المؤثرات ومن ثم يمكن استخدامها في أغراض مختلفة.



DIMENSIONS
م / إبراهيم الزهراني
@Ibrahim2030
@Dimensions72

المهندس / إبراهيم محمد الزهراني

٣. وما يميز تلك المواد ويزيد من انتشارها أنها رخيصة الثمن خفيفة الوزن ومقاومة للتآكل سهلة التشكيل عازلة للحرارة والكهرباء عالية الصلابة مقاومة جيدة للمواد الكيميائية والمذيبات وذات مرونة عالية لهذا أصبحت صناعة تلك المواد منافساً قوياً لكثير من الصناعات بل إنها أضحت بديلاً مفضلاً في كثير من الاستخدامات مثل صناعة مقدمات سفن الفضاء بدلاً من الفلزات لتقليل الحرارة الناتجة عن الاحتكاك وإنتاج البيوت والمرشحات البلاستيكية ... وغيرها، إضافة إلى إمكانية استخدامها في تصنيع بعض أعضاء الإنسان التالفة ..

٤. وتدرج جميع أنواع المواد البلاستيكية التي نستخدمها في حياتنا اليومية ضمن نوعين ، هما :

أ. البلاستيك الحراري: وهو البلاستيك القابل للتلدن والانصهار بالحرارة والتيبس بإبعاد المصدر الحراري عنه ، عدة مرات دون تغيير في تركيبه الكيميائي لضعف الروابط بين جزيئاته مما يساعد على سهولة تفككها وتشكلها .

ب. البلاستيك المتصلد: وهو البلاستيك الذي تؤدي معالجته بالحرارة إلى تغيرات كيميائية في داخله مما يجعله يتلدن وينصهر بالحرارة ثم يتيبس عند إبعاد مصدر الحرارة عنه، ويصبح قاسياً بشكل نهائي ولا يمكن إعادة تليينه وتشكيله مرة أخرى.

س١ / أنسب عنوان للقطعة السابقة؟!!

- أ. مميزات اللدائن.
- ب. أنواع اللدائن.
- ج. صناعة اللدائن.
- د. أهمية اللدائن.

س٢ / السطر الثاني من الفقرة الأولى :

- أ. تعليل لما قبله.
- ب. نتيجة لما قبله.
- ج. تأكيد لما قبله.
- د. توضيح لما قبله.

س٣ / تستخدم اللدائن كما يفهم من الفقرة الثانية في :

- أ. أنشطة واسعة.
- ب. أغراض متعددة.
- ج. المعامل الكيميائية.
- د. الأغراض المنزلية.

**ملاحظة: ملفات دايمانشن العامة مجانية ولا يحق لأي شخص استخدامها للبيع أو للدورات المدفوعة وعلى ذلك جرى التنبيه!!

س٤/ من مميزات اللدائن في الفقرة الثالثة أنها :

- أ. عازلة للحرارة والرطوبة.
- ب. مقاومة للميكروبات
- ج. قابلة للتغيير من صورتها إلى صورة أخرى.
- د. شديدة الصلابة

س٥/ ممكن استخدام اللدائن بكثرة في علم :

- أ. الطب
- ب. الفلك
- ج. الجغرافيا.
- د. الفيزياء.

س٦/ مما يساعد على سهولة تفكك البلاستيك الحراري في الفقرة الرابعة :

- أ. ضعف الروابط بين الجزيئات.
- ب. سهولة التشكيل في تركيبها الكيميائي.
- ج. شدة الحرارة والقابلية للتلدن.
- د. الاحتكاك المستمر بين الذرات.

س٧/ التغيرات الكيميائية التي تجعل اللدائن متصلة يطلق عليها :

- أ. البلاستيك الحراري.
- ب. البلاستيك المتصلد.
- ج. البلاستيك المرن.
- د. البلاستيك البتروكيميائي.

س٨/ تدرج صناعة اللدائن تبعاً لصناعة :

- أ. المعادن الثقيلة.
- ب. البتروكيميائيات.
- ج. الأعمال الحرفية

س٩/ يُفهم من الفقرة الأخيرة أن البلاستيك المُتصلد :

- أ. يتيبس بالحرارة.
- ب. يتغير كيميائياً في ظاهرة.
- ج. لا يمكن تشكيله مرة أخرى.
- د. يصبح قاسياً بالتأثير الحراري والكيميائي

القطعة الحادية عشرة :

قطعة البلاستيك

مادة البلاستيك أصبحت منتشرة الاستخدام في حياتنا اليومية، والمشكلة إنه ما يتحلل كالمواد العضوية الأخرى، فنواجه مشكله كبيره بازدياد استهلاكه وتراكمه على الأرض، وإذا قمنا بحرقه كبعض المواد ينتج عنه رائحة كريهة مزعجه،

وإن الحل الأفضل هو إعادة التدوير، بوضع حاويات خاصه له وإعادة استخدامه وإعادة غسل القوارير الصالحة،

ويجب التقليل من استخدامه، فلا حاجة لاستخدام الأكياس البلاستيكية في التسوق، بل يجب تجهيز أكياس مخصصه للتسوق في السيارة.

وقد خلصت دراسة بيئية للأمم المتحدة هذا الشهر، إلى أن حظر الأكياس البلاستيكية يعمل وفعال بشكل خاص في الدول الإفريقية حيث يتم حرق النفايات في كثير من الأحيان. وفي الواقع، يتم حرق حوالي ٤٠ بالمئة من النفايات في العالم، مما يسبب التلوث السام، ويؤدي حرق البلاستيك إلى إطلاق غازات سامة تهدد صحة النباتات والبشر والحيوانات، ولحظت الدراسة: "إن حرق النفايات البلاستيكية يزيد من خطر الإصابة بأمراض القلب، ويؤدي إلى تفاقم الأمراض التنفسية مثل الربو وانتفاخ الرئة ويسبب الطفح الجلدي والغثيان والصداع ويدمر الجهاز العصبي".

س١ / ما الحل الأفضل لمشكلة تراكمه !؟

إعادة التدوير

س٢ / حرق البلاستيك يؤدي إلى :

(الاختناق) ومجموعه من المُختبرين كان الجواب (الغثيان)

(ستكون الإجابة على حسب النص الموجود بالاختبار)

س٣ / أفضل طريقة للتخلص من البلاستيك !؟

الجواب / إعادة التدوير

س٤ / هناك علاقة عكسية مذكورة في القطعة :

التلوث _ الصحي

س ٥ / ماهي الصفة التي نحتاجها للتخلص من البلاستيك !؟

التحلل

القطعة الثانية عشر:

كاليفورنيا هي الولاية التي يعيش معظم سكانها في المدن الحضرية ، وعلى الرغم من أن غرب الولايات المتحدة الأمريكية يتألف من كبرى المدن الحضرية ، إلا أن كاليفورنيا تتمتع بخاصية مهمة ، حيث أن أكثر من ٩١٪ من سكانها يسكنون في المدن الحضرية إلا أن أكثر من ٩٦٪ من أراضيها تعتبر مناطق زراعية ..

س ١ / إذا كانت هذه العبارة صحيحة ، فأى من الجمل التالية يمكن تأكيدها من النص ؟

- أ. كاليفورنيا هي الولاية الوحيدة التي يعيش جزء بسيط من سكانها في المناطق الزراعية .
- ب. معدل النمو السكاني في المناطق الحضرية في كاليفورنيا يفوق معدل النمو السكاني في المناطق الزراعية .
- ج. يعيش أكثر من ٩٦٪ من سكان كاليفورنيا في أقل من ٩٪ من مجمل أراضيها .
- د. تعتبر كاليفورنيا من أكثر المدن كثافة سكانية في الولايات المتحدة الأمريكية .

مجموعة
دايمشنز
التعليمية

مفتاح إجابات

أسئلة استيعاب المقروء

السؤال	الإجابة	السؤال	الإجابة
القطعة الأولى			
١	ب	٢	أ
٣	د	٤	ج
القطعة الثانية			
١	ب	٢	أ
٣	ب		
القطعة الثالثة			
١	د	٢	ب

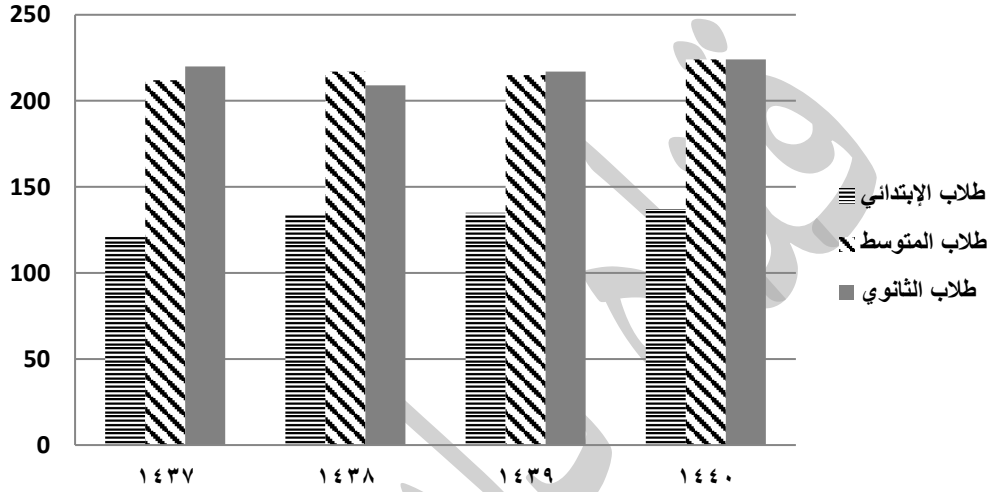
أ	٤	أ	٣
أ	٦	أ	٥
القطعة الرابعة			
د	٢	د	١
		د	٣
القطعة الخامسة			
ب	٢	أ	١
ب	٤	ج	٣
القطعة السادسة			
ج	٢	ج	١
القطعة السابعة			
أ	٢	ب	١
أ	٤	أ	٣
		د	٥
القطعة الثامنة			
أ	٢	أ	١
أ	٤	أ	٣
أ	٦	أ	٥
أ	٨	أ	٧
القطعة التاسعة			
ب	٢	د	١
القطعة العاشرة			
ب	٢	ج	١
د	٤	ب	٣
أ	٦	ب	٥
ب	٨	ب	٧
		ج	٩
القطعة الحادية عشر			
أ	٢	أ	١
أ	٤	أ	٣
		أ	٥
القطعة الثانية عشر			
		أ	١

تفسير البيانات



لمشاهدة الشرح بالفيديو
لجميع المسائل

عدد طلاب المراحل الثلاثة خلال أربع سنوات



لمشاهدة شرح السؤال فيديو اضغط هنا

السؤال الأول:

في أي سنة تساوى عدد طلاب المتوسط والثانوي؟

- أ) ١٤٤٠ (ب) ١٤٣٨ (ج) ١٤٣٧ (د) ١٤٣٩

السؤال الثاني:

كم هو مجموع طلاب سنة ١٤٤٠؟

- أ) ٦٥٠ (ب) ٦٧٥ (ج) ٥٩٠ (د) ٦١٥

السؤال الثالث:

كم هو مجموع طلاب المرحلة الابتدائية خلال الأربع سنوات؟

- أ) ٥٠٠ (ب) ٥١٥ (ج) ٥٥٥ (د) ٥٣٠

السؤال الرابع:

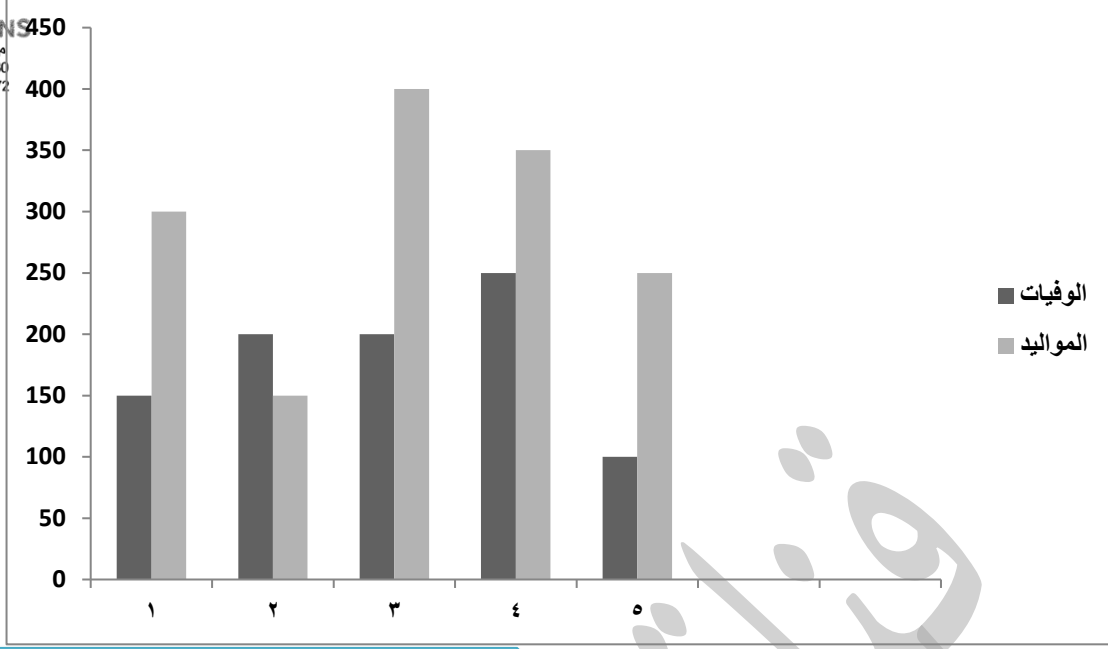
في أي سنة كان مجموع الطلاب أكثر؟

- أ) ١٤٣٧ (ب) ١٤٣٩ (ج) ١٤٣٨ (د) ١٤٤٠



DIMENSIONS
م / إبراهيم الزهراني
@Ibrahimm2030
@Dimensions72

المهندس / إبراهيم محمد الزهراني



لمشاهدة شرح السؤال فيديو اضغط هنا

السؤال الأول :

كم عدد الوفيات خلال الخمس سنوات ؟

أ) ٧٠٠ (ب) ٩٠٠ (ج) ١٠٠٠ (د) ٨٠٠

السؤال الثاني :

كم عدد المواليد خلال الثلاث سنوات الأولى ؟

أ) ٧٥٠ (ب) ٧٠٠ (ج) ٨٥٠ (د) ٨٠٠

السؤال الثالث :

كم عدد الوفيات والمواليد خلال السنة الثالثة ؟

أ) ٦٠٠ (ب) ٧٥٠ (ج) ٨٠٠ (د) ٦٥٠

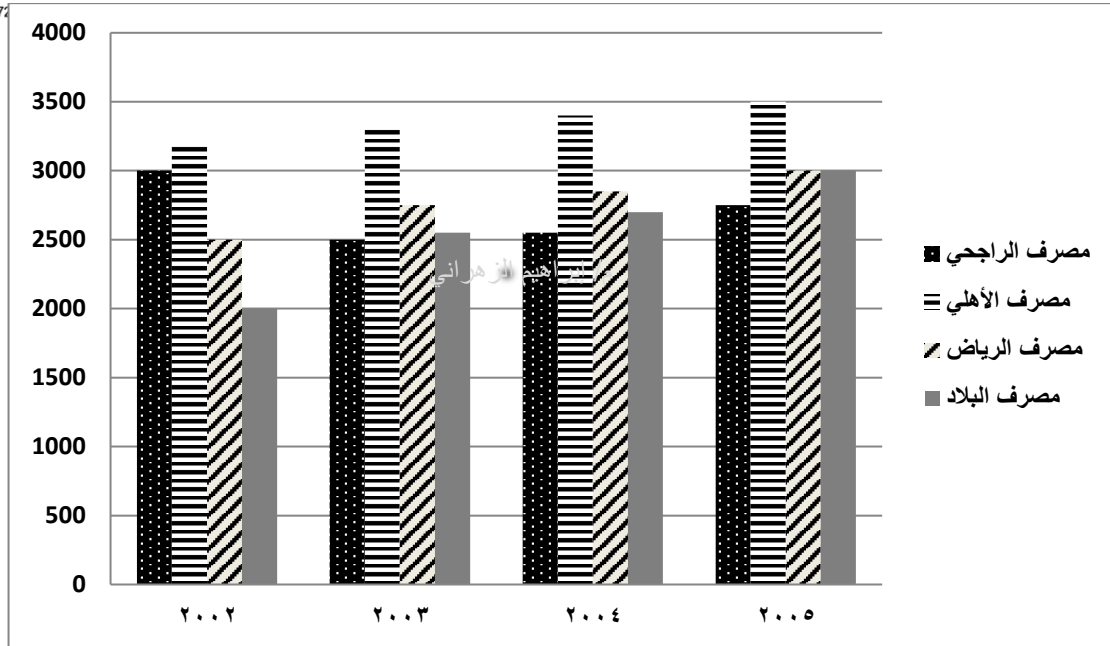
**ملاحظة: ملفات دايمانشن العامة مجانية ولا يحق لأي شخص استخدامها للبيع
أو للدورات المدفوعة وعلى ذلك جرى التنبيه!!



DIMENSIONS

م / إبراهيم الزهراني
@Ibrahimm2030
@Dimensions77

المهندس / إبراهيم محمد الزهراني



لمشاهدة شرح السؤال فيديو اضغط هنا

السؤال الأول :

ما هو المصرف الأكثر تطوراً خلال الخمس سنوات ؟

- أ) مصرف الراجحي
ب) مصرف الأهلي
ج) مصرف الرياض
د) مصرف البلاد

السؤال الثاني :

كم مجموع أرباح البنوك خلال سنة ٢٠٠٢ ؟

- أ) ٩٥٠٠ (ب) ١١٠٠٠ (ج) ١٠٧٥٠ (د) ١٢٥٠٠

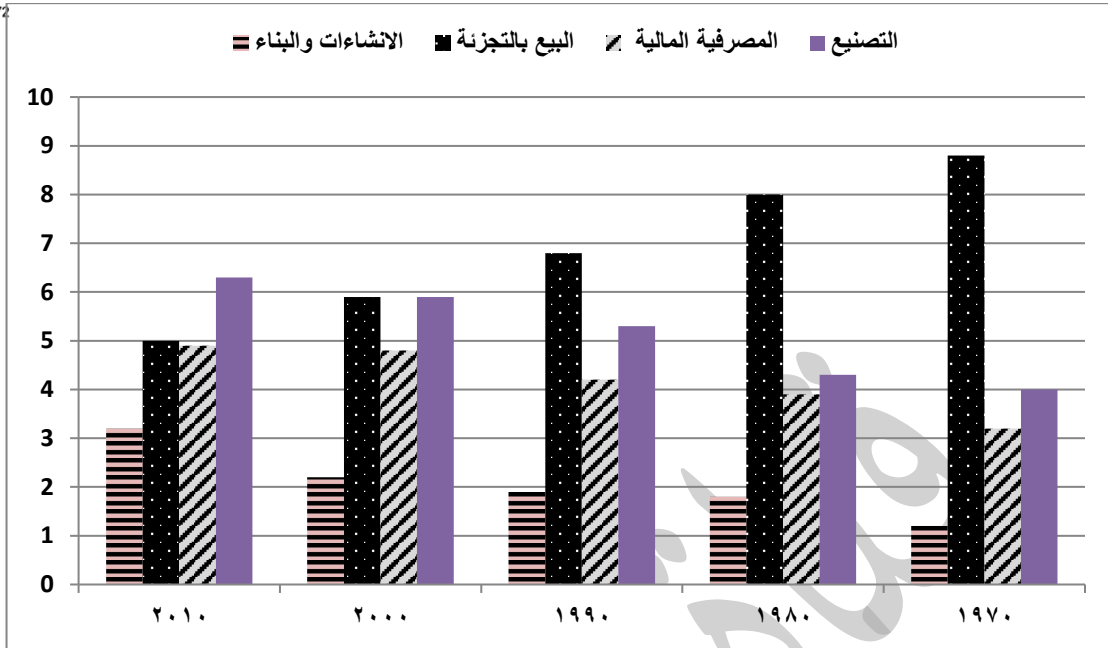
السؤال الثالث :

كم مجموع أرباح بنكي الأهلي والبلاد خلال سنة ٢٠٠٣ و ٢٠٠٥ ؟

- أ) ١٢٣٠٠ (ب) ١١٧٥٠ (ج) ١٢٠٠٠ (د) ١١٥٠٠

**ملاحظة: ملفات دايمنش العامة مجانية ولا يحق لأي شخص استخدامها للبيع أو للدورات المدفوعة وعلى ذلك جرى التنبيه!!

كل ١ = ١٠٠٠ موظف



لمشاهدة شرح السؤال فيديو اضغط هنا

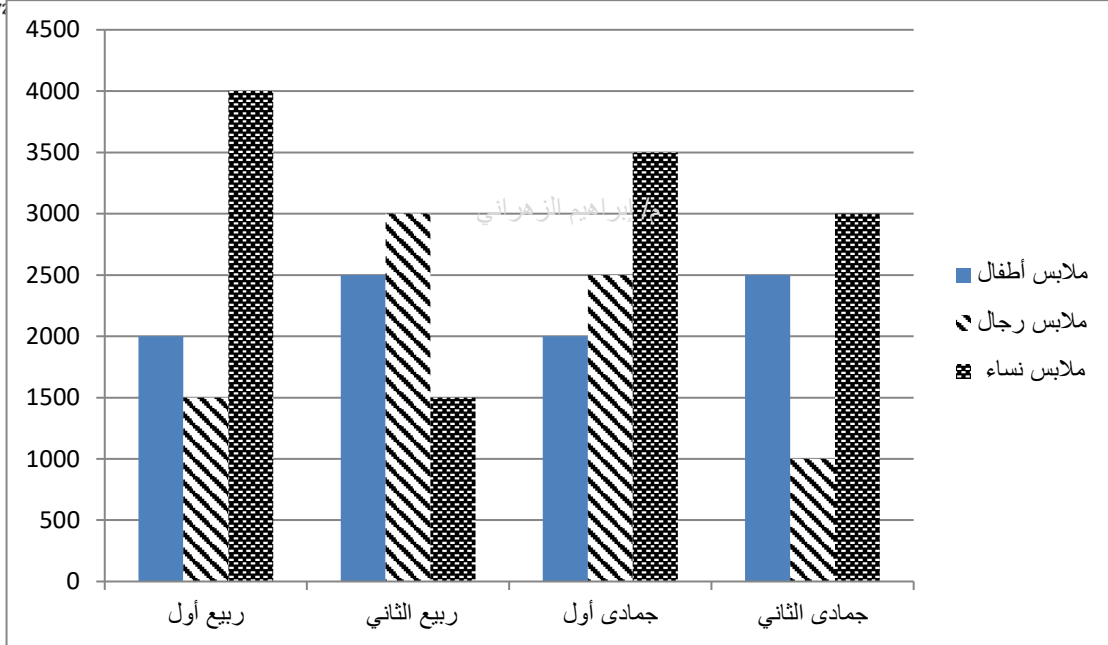
السؤال الأول: حسب البيانات الأحدث . ما هو القطاع الأكبر من حيث عدد الوظائف ؟

- أ) المصرفية المالية
ب) البيع بالتجزئة
ج) الإنشاءات والبناء
د) التصنيع

السؤال الثاني: تبنت الحكومة سياسة دعم القطاعات الأقل نمواً خلال الأعوام الماضية .

ما هو القطاع الأكثر استحقاقاً للدعم ؟

- أ) المصرفية المالية
ب) البيع بالتجزئة
ج) التصنيع
د) الإنشاءات والبناء



لمشاهدة شرح السؤال فيديو اضغط هنا

السؤال الأول :

في أي شهر كانت نسبة مبيعات المحل أكبر؟

أ) ربيع أول ب) ربيع الثاني ج) جمادى أول د) جمادى ثاني

السؤال الثاني :

ما هي نسبة مبيعات ملابس الأطفال إلى ملابس الرجال خلال الأربعة أشهر؟

أ) $\frac{7}{9}$ ب) $\frac{9}{8}$ ج) $\frac{8}{7}$ د) $\frac{8}{9}$

السؤال الثالث :

مجموع مبيعات النساء كم يساوي؟

أ) ١٢٠٠٠ ب) ١٣٠٠٠ ج) ١٤٠٠٠ د) ١٥٠٠٠

السؤال الرابع :

ما هي النسبة المئوية لمبيعات الأطفال لشهر جمادى الأول؟

أ) ٢٧% ب) ١٥% ج) ٢٥% د) ٣٥%

غير السعوديين			السعوديين			السنة
المجموع	إناث	ذكور	المجموع	إناث	ذكور	
٤,٤	١,٢	٣,٢	١٣,٢	٦,٣	٦,٩	١٤١٢
٤,٥	١,٦	٢,٩	١٣,٢	٥,٨	٦,٤	١٤١٣
٤,٢	١,٥	٢,٧	١٤,٣	٦,١	٨,٢	١٤١٥
٤,٣	١,٣	٣,٠	١٦,٦	٧,٢	٩,٤	١٤١٦

لمشاهدة شرح السؤال فيديو اضغط هنا

الجدول السابق يبين أعداد البطالة في المملكة العربية السعودية .

أقل معدل بطالة للسعوديات عام ؟

السؤال الأول :

أ) ١٤١٥ (ب) ١٤١٢ (ج) ١٤١٦ (د) ١٤١٤

السؤال الثاني :

أعلى معدل بطالة للسعوديين هو ؟

أ) ٦,٤ (ب) ٦,٩ (ج) ٩,٤ (د) ١٦,٦

السؤال الثالث :

مستوى البطالة للإناث الغير سعوديات ؟

أ) يتناقص (ب) يتزايد (ج) ثابت (د) يتذبذب

المرتبة	المرتبة السادسة		المرتبة السابعة	
	رجال	نساء	رجال	نساء
السنة ١٤٣٣	٣٠٠٠	٢٣٠٠	٢٥٠٠	١٠٥٠
١٤٣٤	٣٥٠٠	٢٥٠٠	٢٤٠٠	١١٠٠
١٤٣٥	٢٥٠٠	٢٠٠٠	٢٠٠٠	١٢٠٠
١٤٣٦	١٨٠٠	١٦٠٠	١٥٠٠	٩٠٠
١٤٣٧	١٥٠٠	١٤٠٠	١٢٠٠	١١٠٠
١٤٣٨	١١٠٠	١٢٠٠	١٠٠٠	٨٠٠

لمشاهدة شرح السؤال فيديو اضغط هنا

السؤال الأول : في أي سنة كانت نسبة التوظيف أكثر ؟

- (أ) ١٤٣٣ (ب) ١٤٣٤ (ج) ١٤٣٥ (د) ١٤٣٦

السؤال الثاني :

كم عدد الموظفين من المرتبتين السابعة والسادسة خلال سنة ١٤٣٦ ؟

- (أ) ٢٤٠٠ (ب) ٢٣٥٠ (ج) ٢٤٥٠ (د) ٢٥٠٠

السؤال الثالث : كم عدد الموظفين من المرتبة السادسة خلال السنوات : ١٤٣٦، ١٤٣٤، ١٤٣٨ ؟

- (أ) ٦٠٠٠ (ب) ٦٢٠٠ (ج) ٦١٠٠ (د) ٦٤٠٠

السؤال الرابع : كم عدد الموظفين والموظفات من المرتبتين السابعة والسادسة خلال سنة ١٤٣٥ ؟

- (أ) ٧٥٠٠ (ب) ٧٥٥٠ (ج) ٧٧٠٠ (د) ٧٨٠٠

المنطقة	الاحد	الاثنين	الثلاثاء	الأربعاء
الرياض	القادمين	١٦٧	١٤٥	١٢٢
	المغادرين	١٧٧	١٧٤	١٤٢
الدمام	القادمين	١٥٧	١٧٨	١٢٢
	المغادرين	١١٥	٢٠٤	٢٢٣
جدة	القادمين	١٩١	١٩٨	١٨٨
	المغادرين	١٥٤	١٤٦	١٨٤
أبها	القادمين	١٩٤	١٤٦	١٥٢
	المغادرين	١٠٥	٨٨	٩٤
عرعر	القادمين	٩٥	١٠١	١١٠
	المغادرين	٩٤	٩١	٨٥

السؤال الأول : كم عدد المغادرين في جميع مدن المملكة ليوم الاثنين؟

- (أ) ٧٢٠ (ب) ٦٧٠ (ج) ٧١٥ (د) ٧٠٣

السؤال الثاني :

كم يبلغ عدد القادمين لمدينة الدمام خلال جميع الأيام؟

- (أ) ٥٩٠ (ب) ٥٦٢ (ج) ٥٢٠ (د) ٥٥٢

السؤال الثالث :

كم يبلغ عدد القادمين والمغادرين لمدينتي الرياض وأبها يومي الأحد والثلاثاء؟

- (أ) ١٢٠٠ (ب) ١١٥٠ (ج) ١١٧٠ (د) ١١٦٢

لمشاهدة شرح السؤال فيديو اضغط

مدرسة	مدرسة	مدرسة	مدرسة	المادة	
٤	٣	٢	١		
٨٠	٨١	٧٧	٨٢	قبلي	حاسب
٩١	٩٢	٨٨	٩٤	بعدي	
٧٧	٧٦	٧٤	٧٥	قبلي	علوم
٩٢	٩١	٨٩	٩٠	بعدي	
٨٦	٧٠	٧٣	٨٦	قبلي	احياء
٩٤	٨٧	٩٠	٩٥	بعدي	
٨٧	٧٥	٧٠	٨١	قبلي	رياضيات
٩٥	٨٠	٨٨	٩٣	بعدي	

السؤال الأول : في أي مادة الفرق بين القبلي والبعدي هو الأكبر؟

أ) رياضيات ب) احياء ج) حاسب د) علوم

السؤال الثاني :

ماهي المادة التي تحسنت درجات الطلاب فيها واستفادوا من التدريب؟

أ) رياضيات ب) علوم ج) أحياء د) علوم

السؤال الثالث :

في أي مادة الفرق بين القبلي والبعدي هو الأقل ؟

أ) أحياء ب) رياضيات ج) علوم د) حاسب

السؤال الرابع :

ماهي المدرسة التي استفادت استفادة كبيرة من التدريب؟

أ) مدرسة ١ ب) مدرسة ٣ ج) مدرسة ٢ د) مدرسة ٤

السؤال الخامس :

ماهي المدرسة التي حصلت على أعلى مجموع درجات ؟

أ) مدرسة ٣ ب) مدرسة ١ ج) مدرسة ٢ د) مدرسة ٤

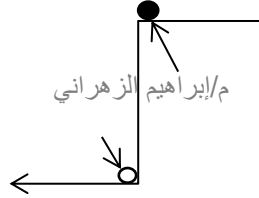
****ملاحظة:** ملفات دايمشن العامة مجانية ولا يحق لأي شخص استخدامها للبيع

أو للدورات المدفوعة وعلى ذلك جرى التنبيه!!

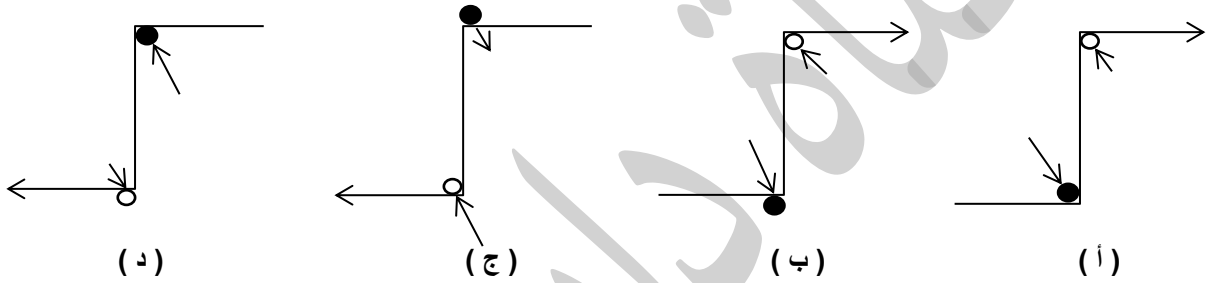
السؤال	الإجابة	السؤال	الإجابة
عدد طلاب المراحل الثلاثة خلال أربع سنوات	أ	٢	ج
١	د	٤	د
٣	ب	٢	ج
١	أ	٣	أ
٣	د	٢	ج
١	أ	٣	أ
٣	د	٢	ج
١	د	٢	ب
١	ج	٢	ب
٣	أ	٤	ج
١	أ	٢	د
٣	د	٢	د
١	ب	٢	د
٣	د	٤	ج
١	د	٢	ب
٣	د	٢	ب
١	أ	٢	ب
٣	ب	٤	ج
٥	د	٤	ج

العلاقات المكانية + الاستنباط للأشكال

السؤال ١

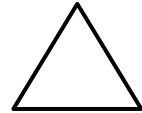
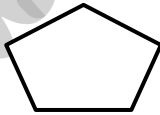


ما هو الشكل المماثل؟


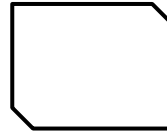
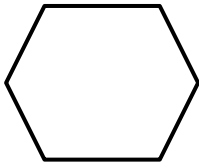


السؤال ٢

م/إبراهيم الزهراني ?



ما هو الشكل التالي؟



(د)

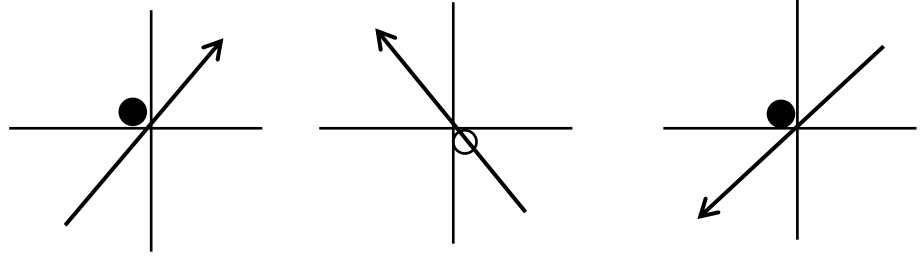
(ج)

(ب)

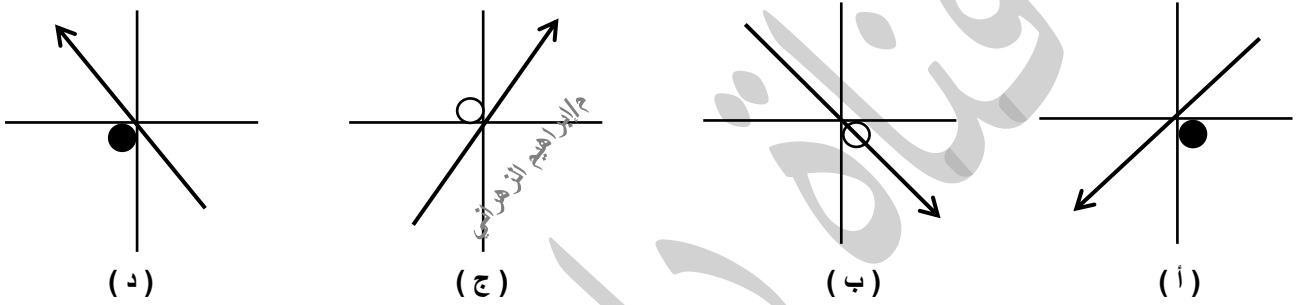
(أ)

السؤال ٣


م/إبراهيم الزهراني ؟



ما هو الشكل التالي ؟



السؤال ٤



ما هو الشكل المكمل في الفراغ ؟

● (د)

◡ (ج)


■ (ب)

△ (أ)



م / إبراهيم الزهراني

ما هو الشكل المماثل؟




(د)



(ج)

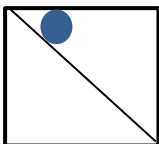
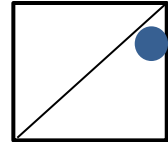
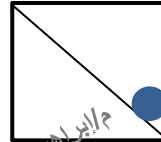
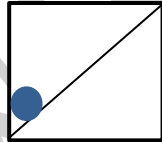


(ب)

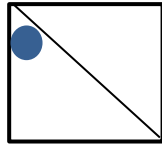


(أ)

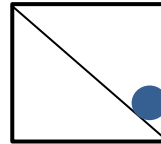
م / إبراهيم الزهراني



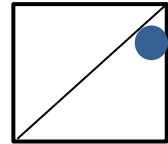
(د)



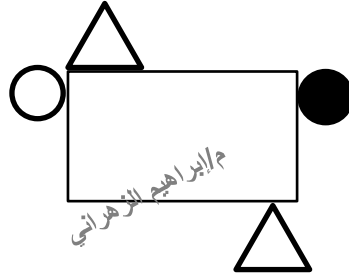
(ج)



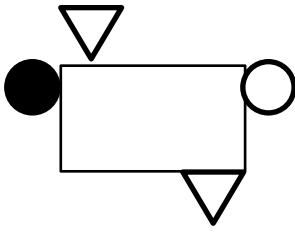
(ب)



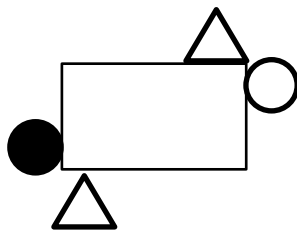
(أ)



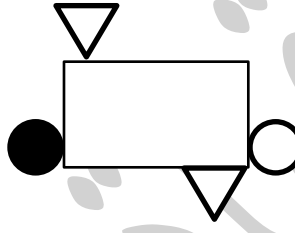
ما هو الشكل المماثل؟



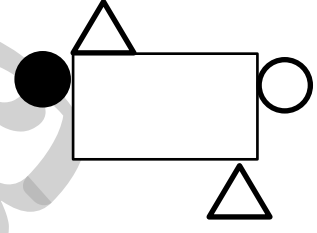
(د)



(ج)



(ب)



(أ)

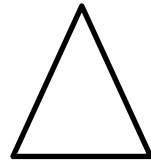
م / إبراهيم الزهراني



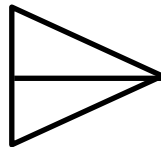
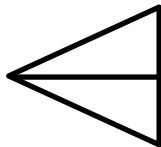
(د)



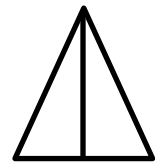
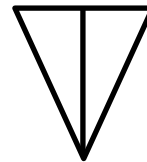
(ب)



(أ)



(ج)



ما هو الشكل التالي؟

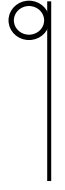
؟
م/إبراهيم الزهراني



أوجد الشكل المُكمل للمتسلسلة ؟



(د)



(ج)



(ب)



(أ)



؟
م/إبراهيم الزهراني



م/إبراهيم الزهراني

أوجد الشكل التالي ؟



(د)



(ج)

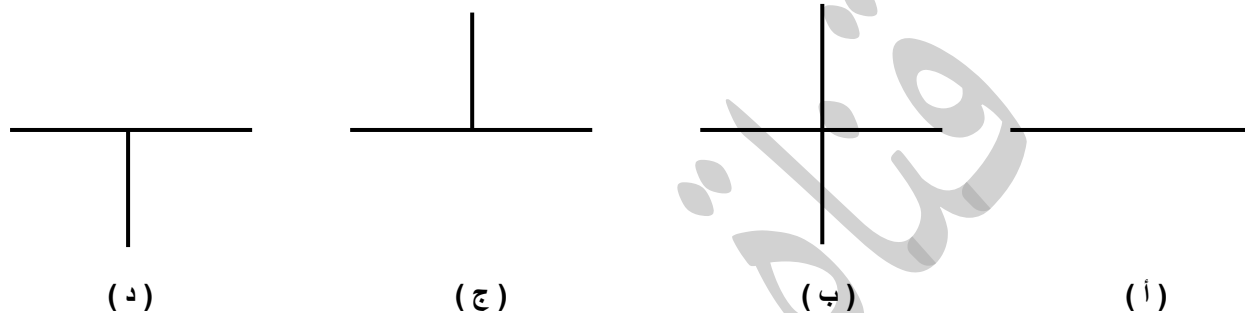
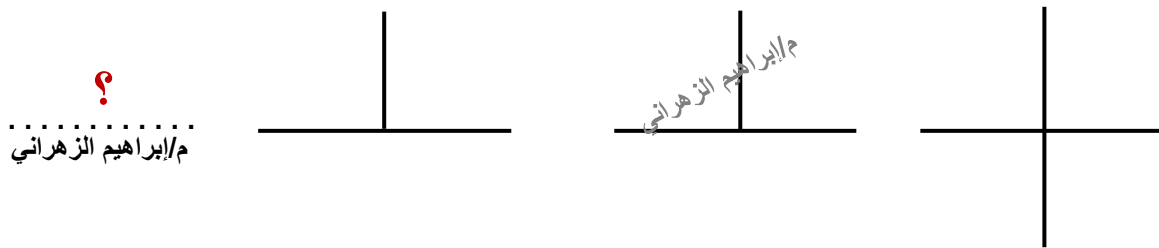


(ب)

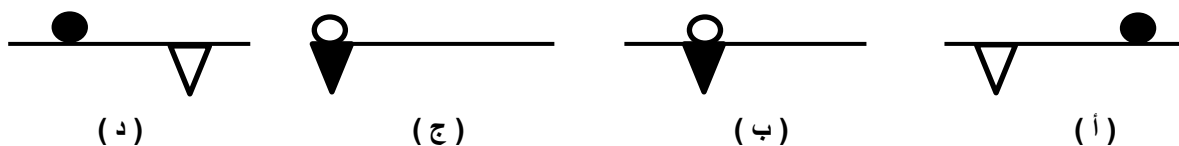


(أ)

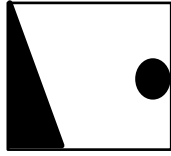


أوجد الشكل التالي؟




أوجد الشكل التالي؟



م / إبراهيم الزهراني ؟




(د)



(ج)




(ب)




(أ)



أوجد الشكل المماثل ؟




(د)



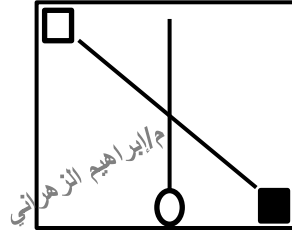
(ج)



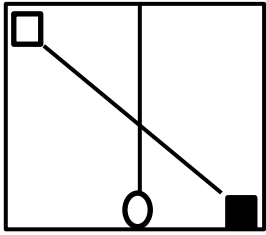
(ب)



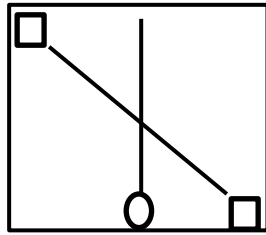
(أ)



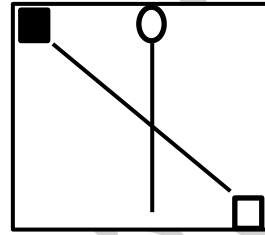
أوجد الشكل المُمائل؟



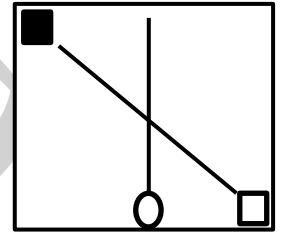
(د)



(ج)



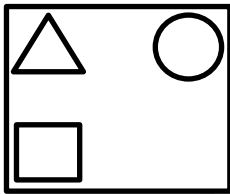
(ب)



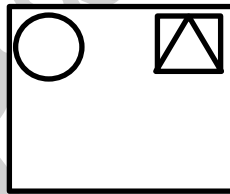
(ا)

السؤال ١٦

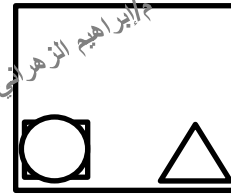
أوجد الشكل التالي؟



(د)



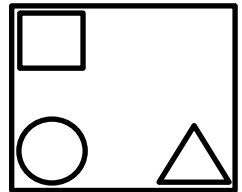
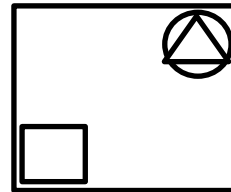
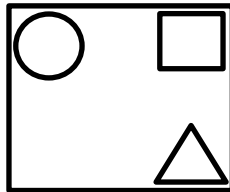
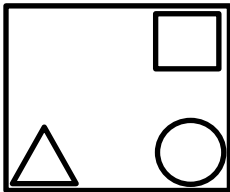
(ج)



(ب)

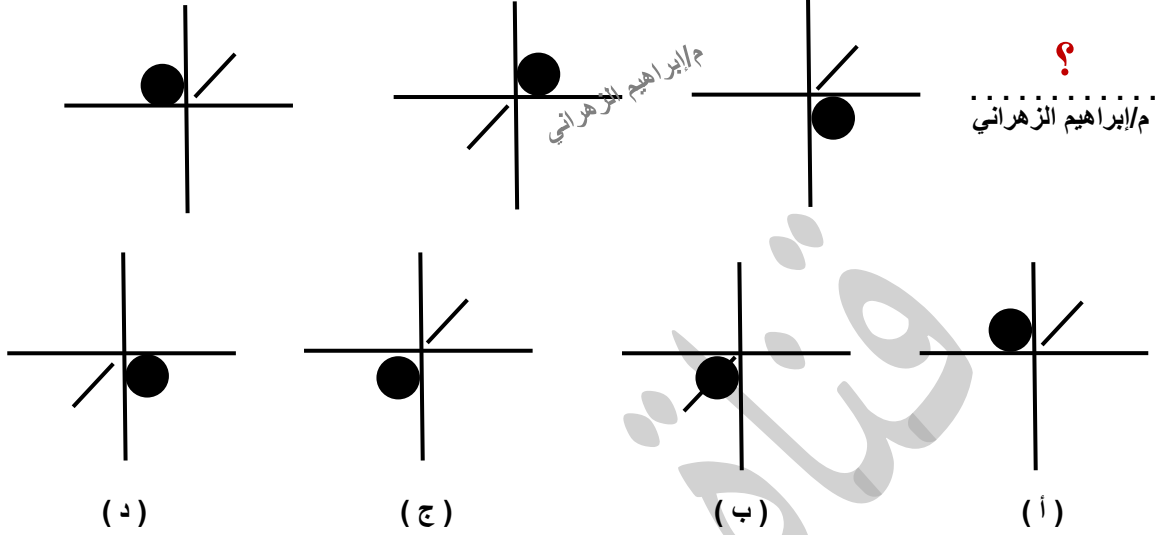


(ا)



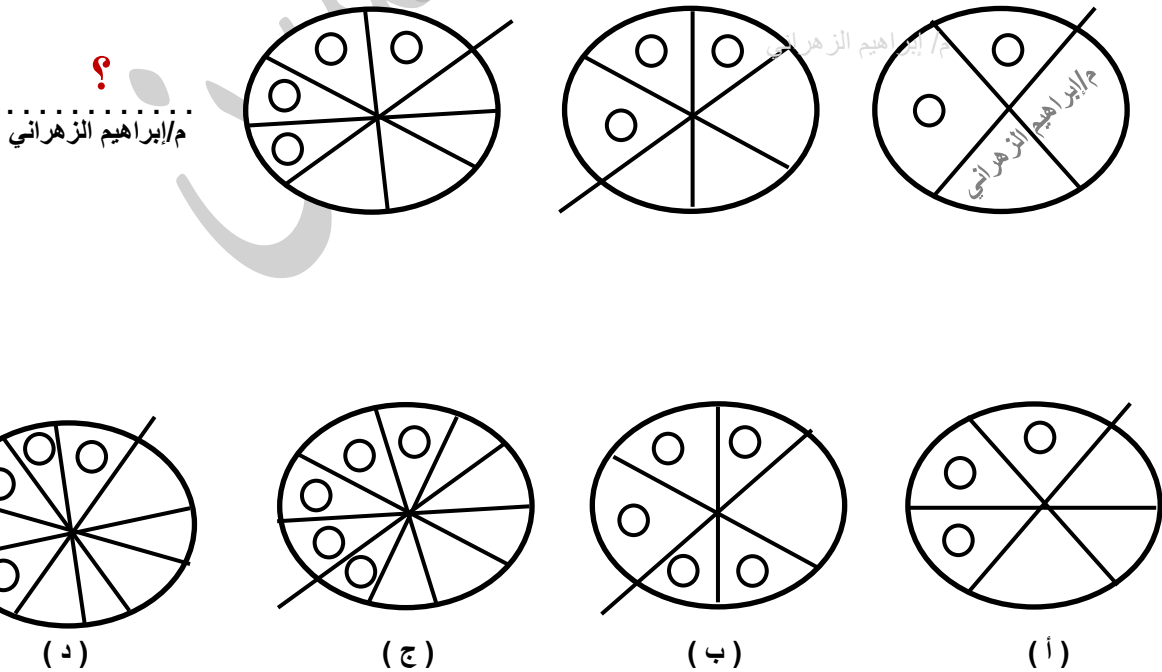
السؤال ١٧

أوجد الشكل التالي ؟




السؤال ١٨

أوجد الشكل التالي ؟

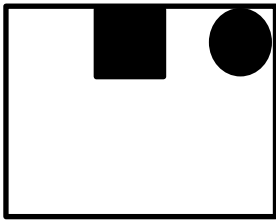


**ملاحظة: ملفات دايمنشون العامة مجانية ولا يحق لأي شخص استخدامها للبيع أو للدورات المدفوعة وعلى ذلك جرى التنبيه!!

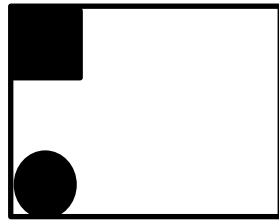
أوجد الشكل التالي ؟



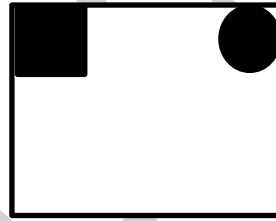
؟
م/إبراهيم الزهراني



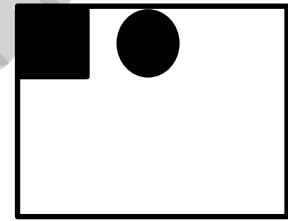
(د)



(ج)



(ب)




(أ)

أوجد الشكل التالي ؟


؟
م/إبراهيم الزهراني



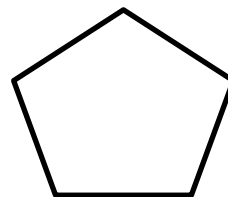
المهندس / إبراهيم الزهراني



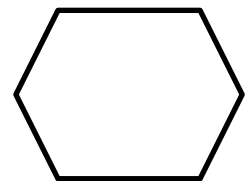
(د)



(ج)

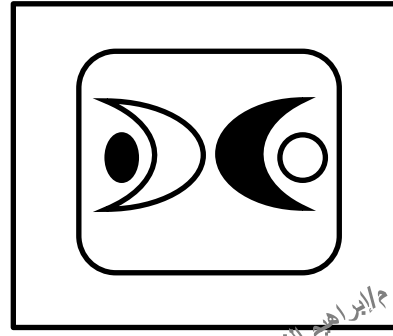


(ب)



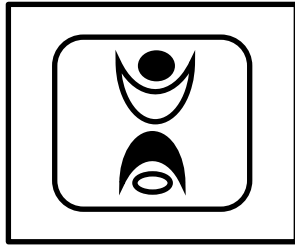
(أ)

**ملاحظة: ملفات دايمشن العامة مجانية ولا يحق لأي شخص استخدامها للبيع
أو للدورات المدفوعة وعلى ذلك جرى التنبيه!!

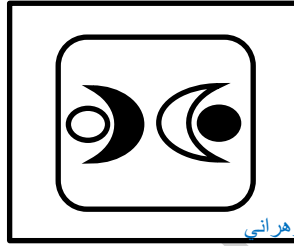


م/إبراهيم الزهراني

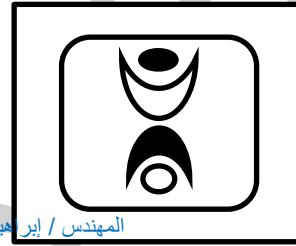
أوجد الشكل المُمائل؟




(د)



(ج)



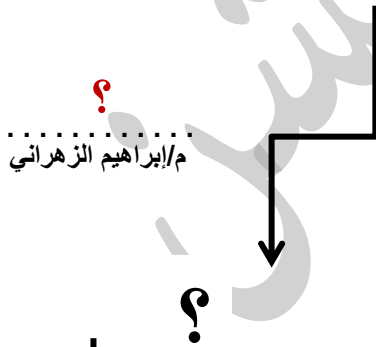
(ب)



(أ)

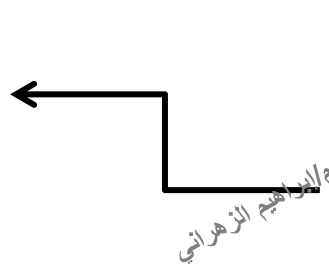
المهندس / إبراهيم الزهراني

أوجد الشكل التالي؟

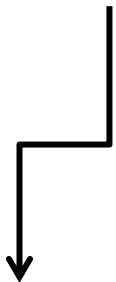
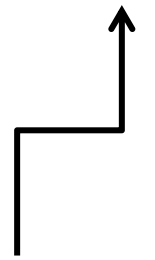


م/إبراهيم الزهراني

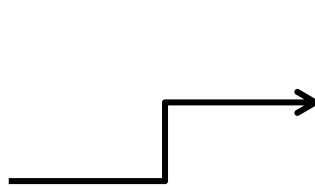
؟



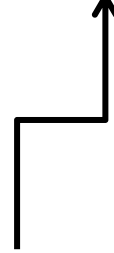
م/إبراهيم الزهراني



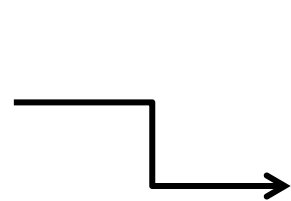
(د)



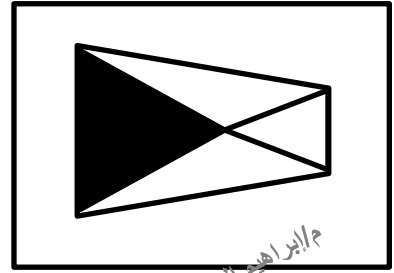
(ج)



(ب)

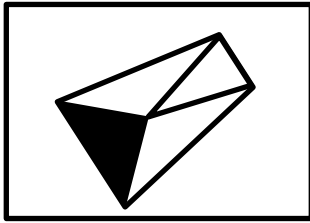


(أ)

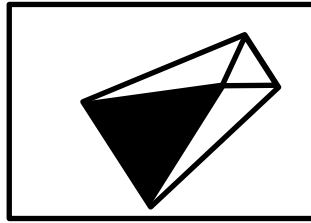


م / إبراهيم الزهراني

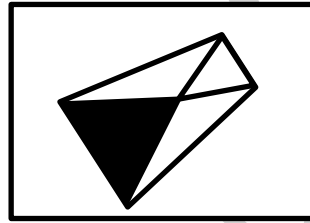
أوجد الشكل المماثل؟




(د)



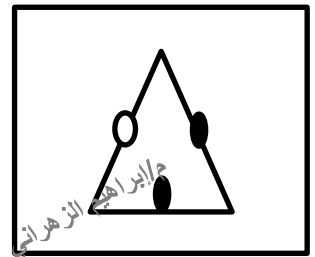
(ج)



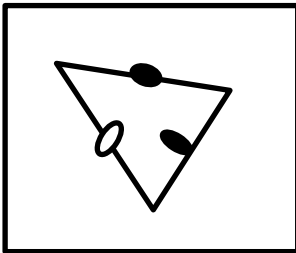
(ب)



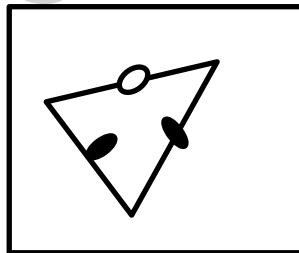
(أ)



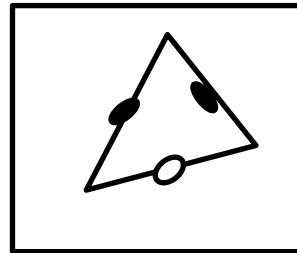
أوجد الشكل المماثل؟



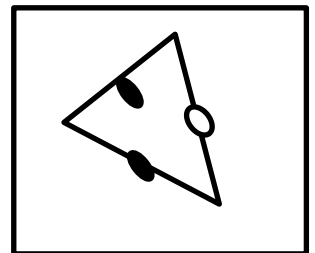
(د)



(ج)

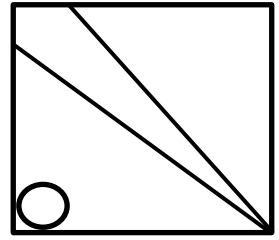
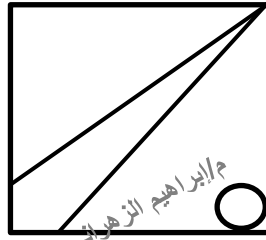
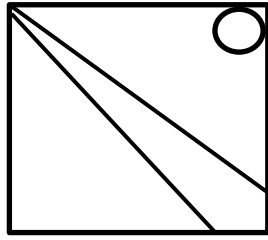


(ب)

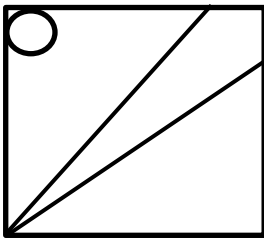


(أ)

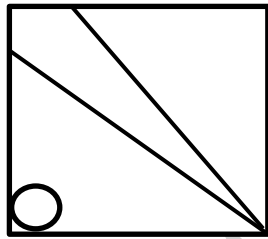
؟
م / إبراهيم الزهراني



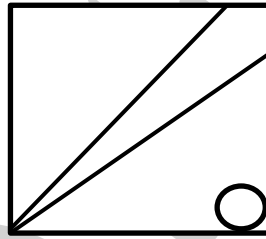
أوجد الشكل التالي؟



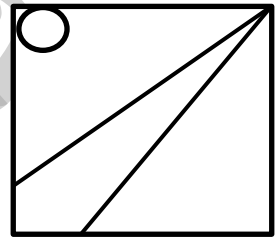
(د)



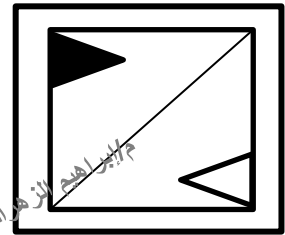
(ج)



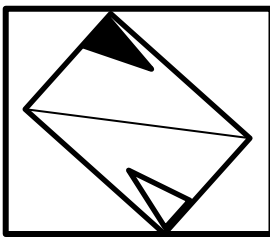
(ب)




(أ)



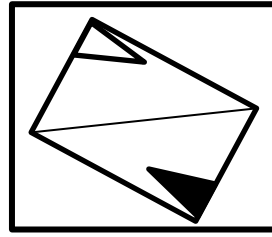
أوجد الشكل المماثل؟



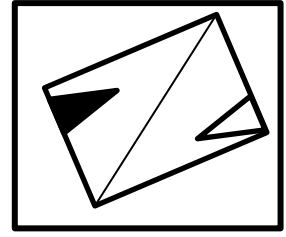
(د)



(ج)



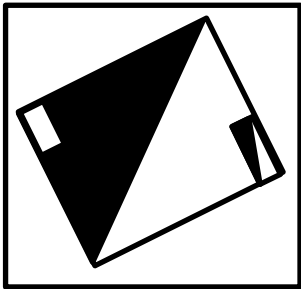
(ب)



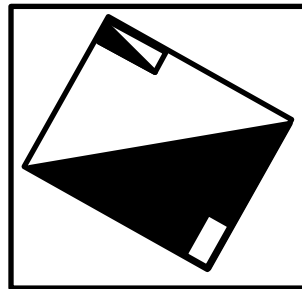
(أ)



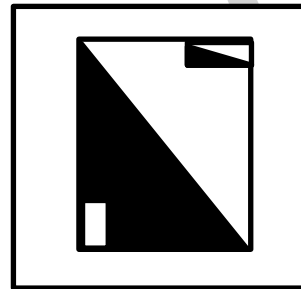
أوجد الشكل المماثل؟



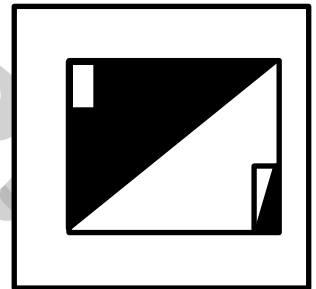
(د)



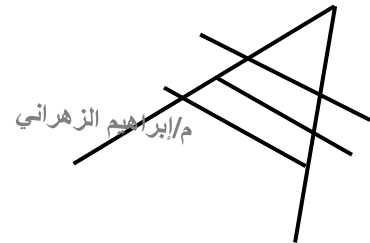
(ج)




(ب)



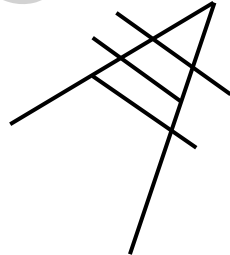
(أ)



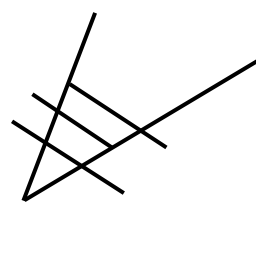
أوجد الشكل المماثل؟



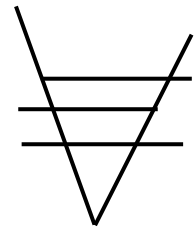
(د)



(ج)

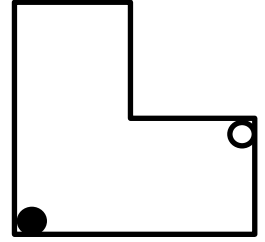
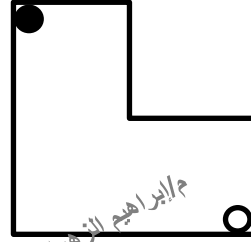
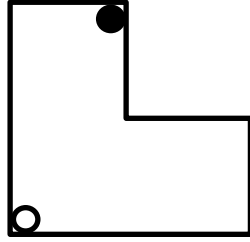


(ب)

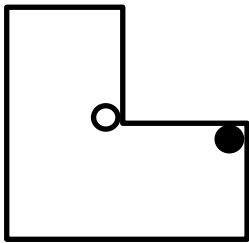


(أ)

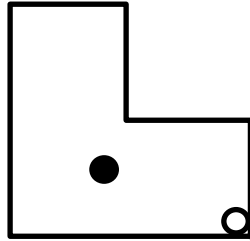
؟
م / إبراهيم الزهراني



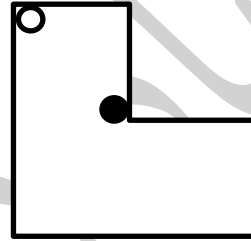
أوجد الشكل التالي ؟



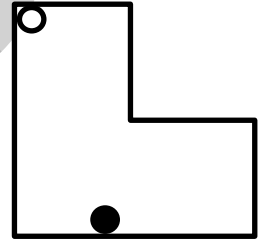
(د)



(ج)

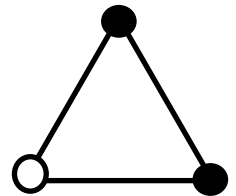
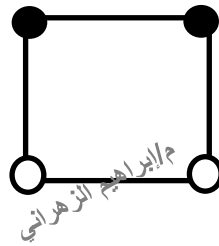
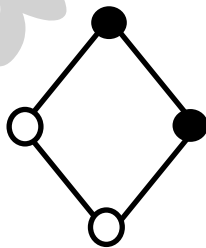


(ب)

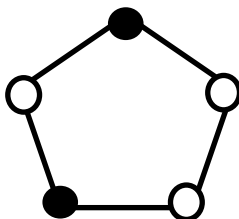


(أ)

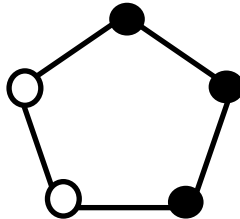
؟
م / إبراهيم الزهراني



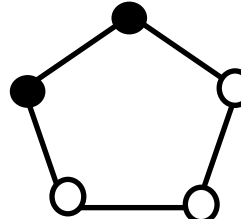
أوجد الشكل التالي ؟



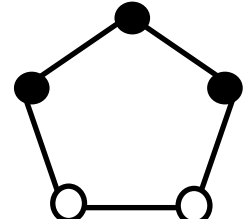
(د)



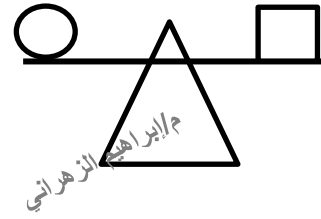
(ج)



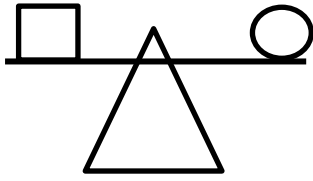
(ب)



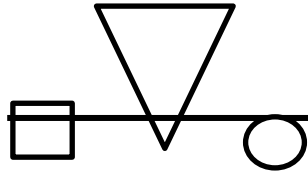
(أ)



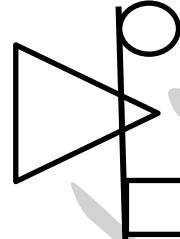
أوجد الشكل المماثل؟



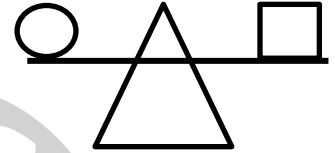
(د)



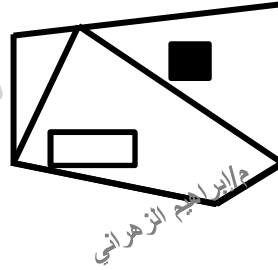
(ج)



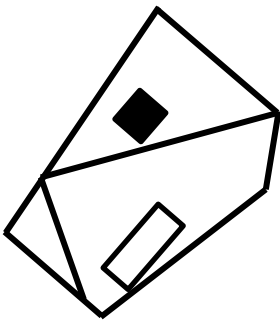
(ب)



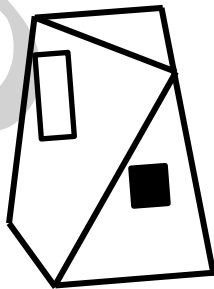
(أ)



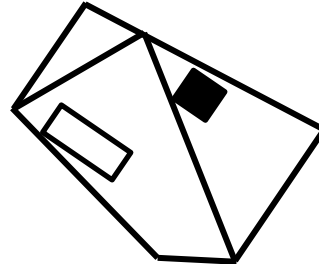
أوجد الشكل المماثل؟



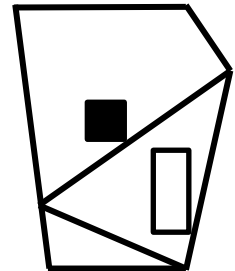
(د)



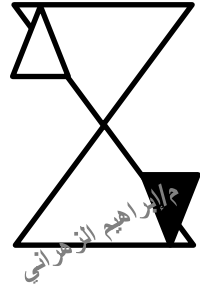
(ج)



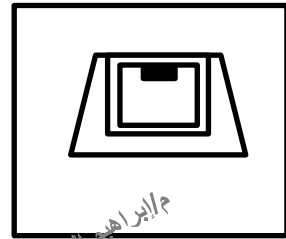
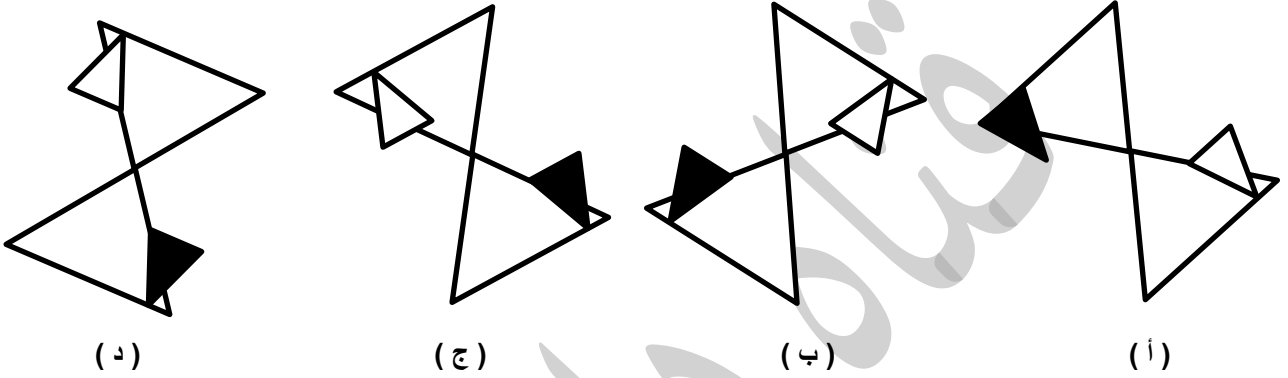
(ب)



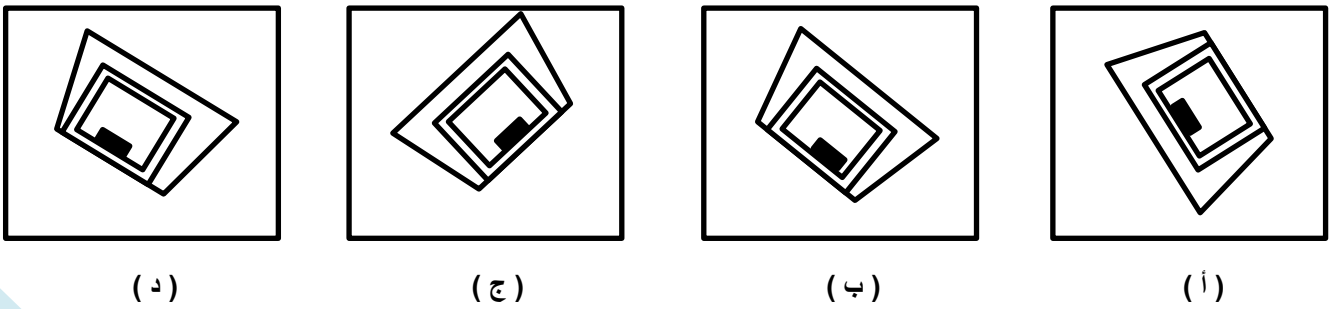
(أ)

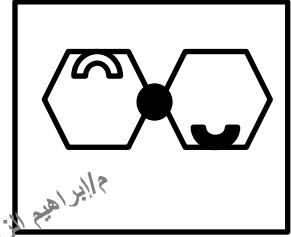


أوجد الشكل المماثل؟



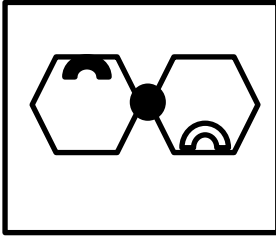
أوجد الشكل المماثل؟



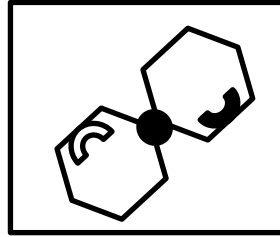


م/إبراهيم الزهراني

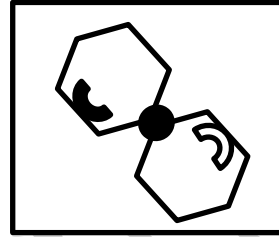
أوجد الشكل المماثل؟



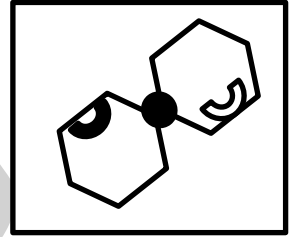
(د)



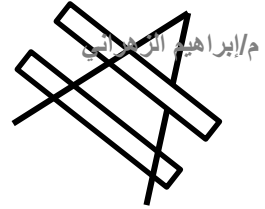
(ج)



(ب)




(أ)

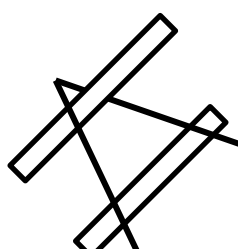


م/إبراهيم الزهراني

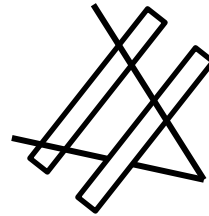
أوجد الشكل المماثل؟



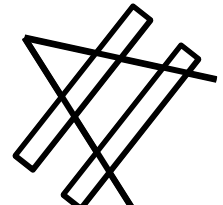
(د)



(ج)

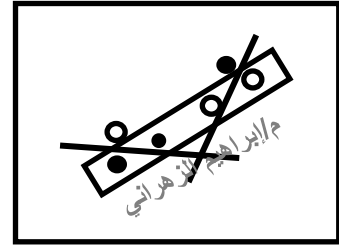


(ب)



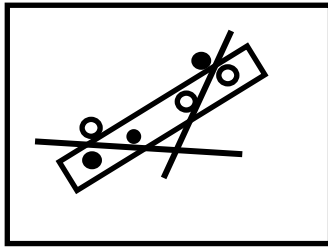
(أ)

السؤال ٣٧

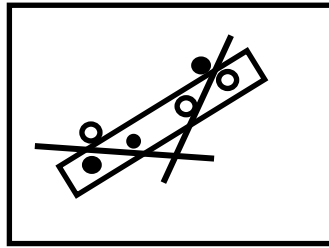


م / إبراهيم

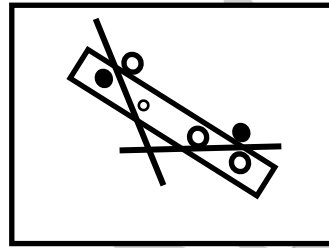
أوجد الشكل المماثل؟



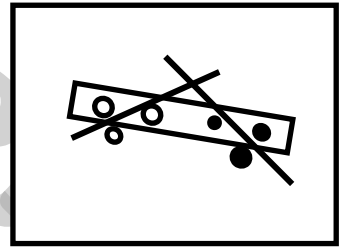
(د)



(ج)



(ب)




(أ)

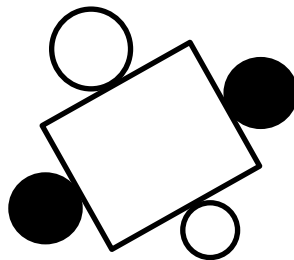
السؤال ٣٨




أوجد الشكل المماثل؟




(د)



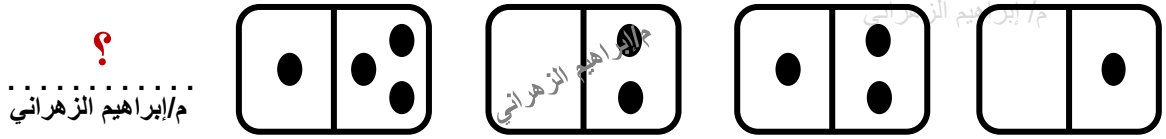
(ج)



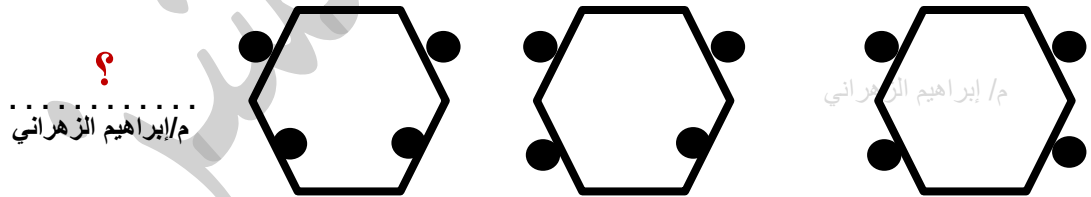
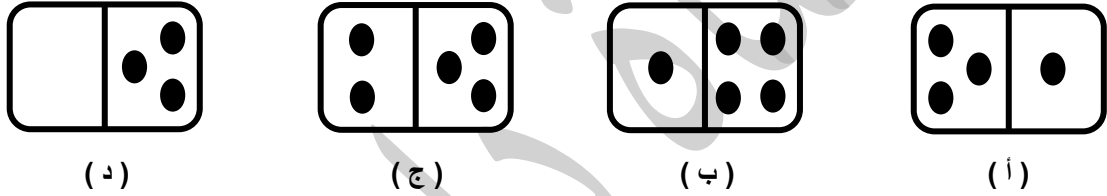
(ب)



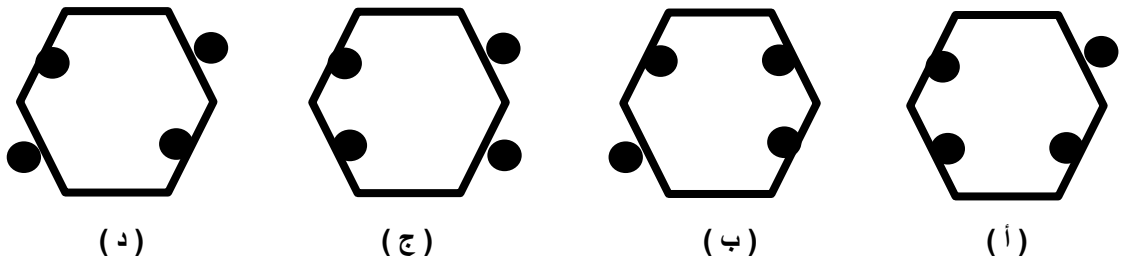
(أ)

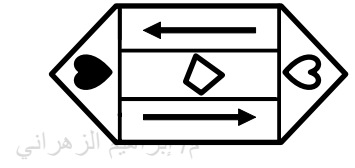


أوجد الشكل التالي؟

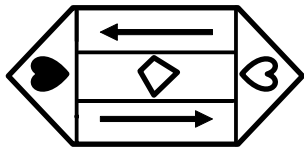


أوجد الشكل التالي؟

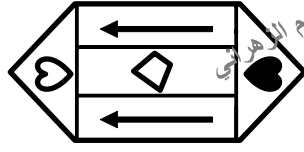




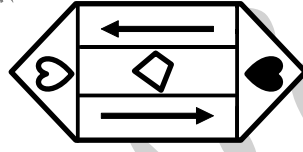
أوجد الشكل المُمائل؟



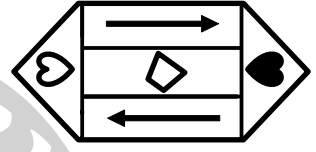
(د)



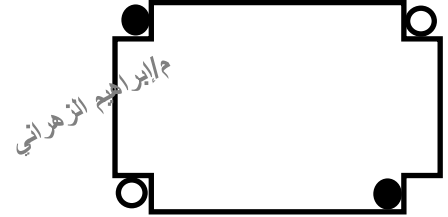
(ج)



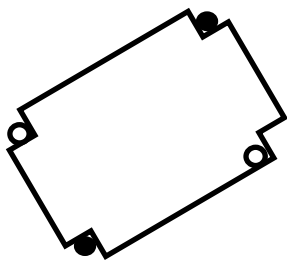
(ب)



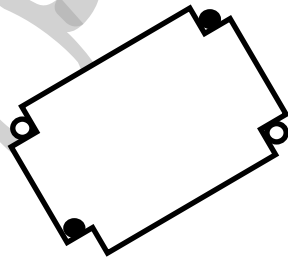
(أ)



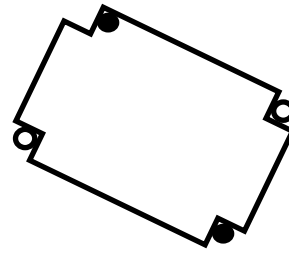
أوجد الشكل المُمائل؟



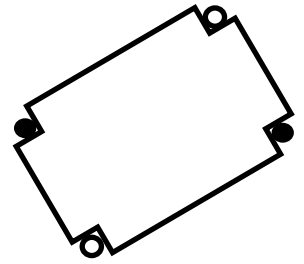
(د)



(ج)

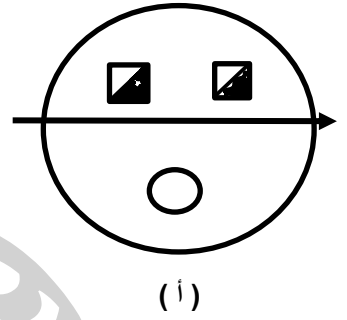
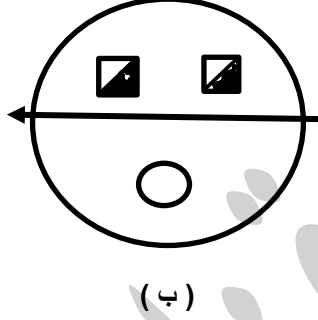
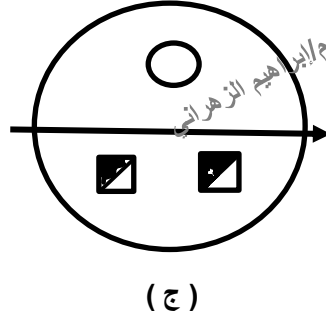
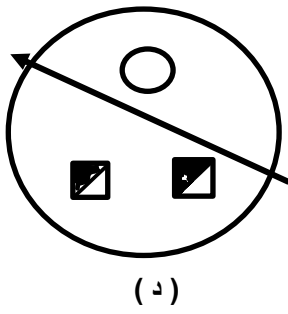
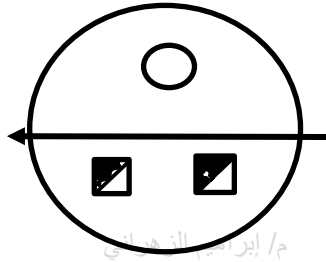


(ب)

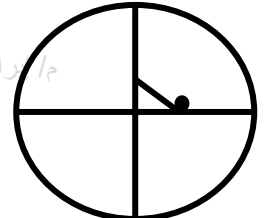
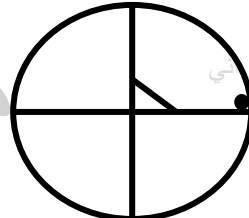



(أ)

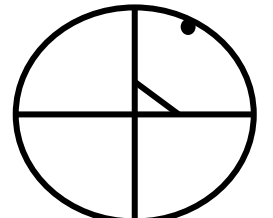

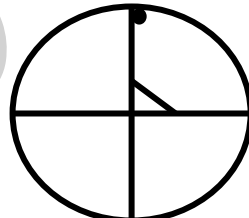
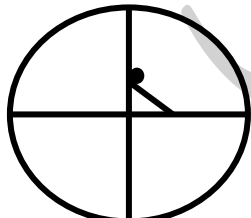
أوجد الشكل المماثل؟

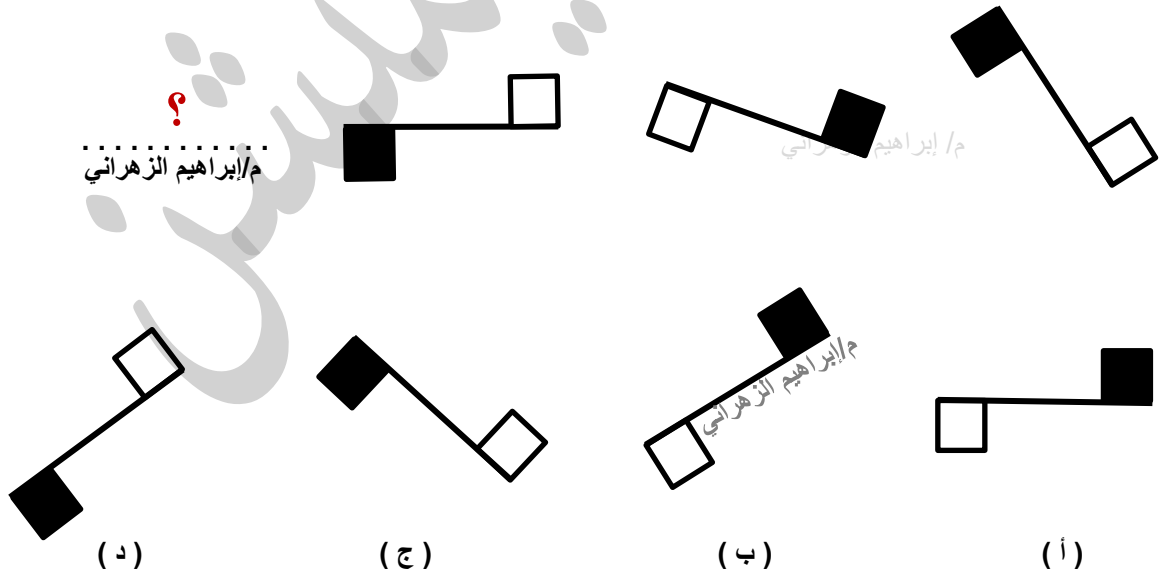
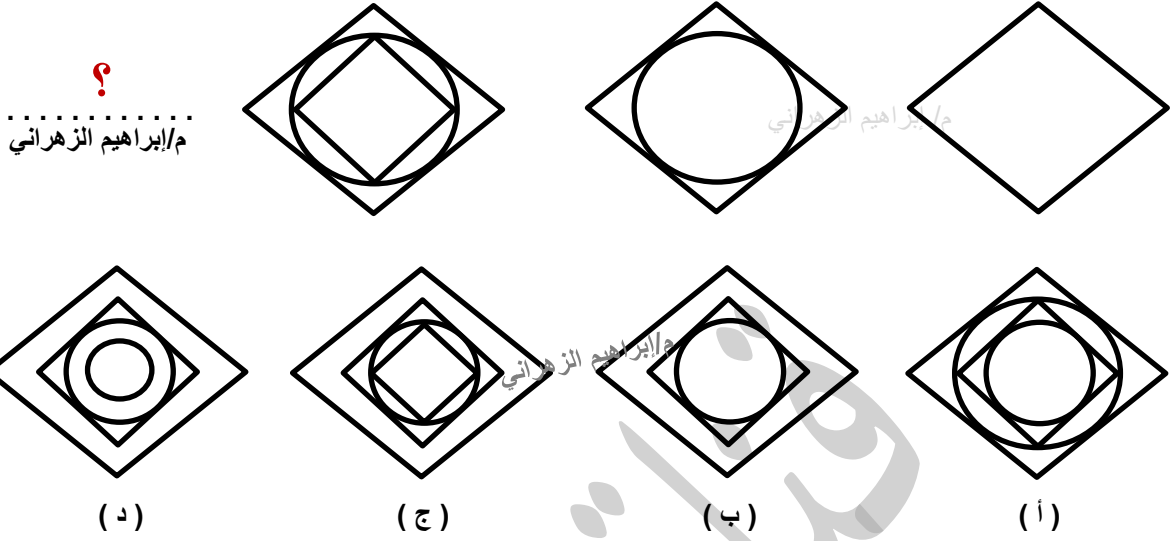


؟
م / إبراهيم الزهراني



أوجد الشكل التالي؟

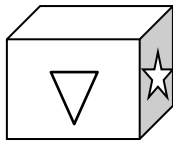
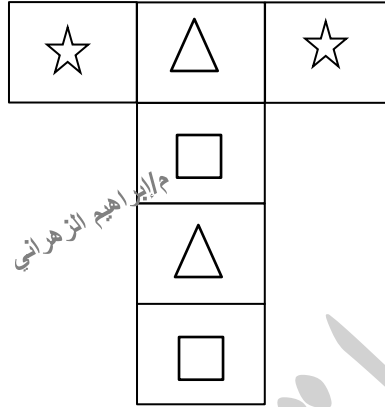




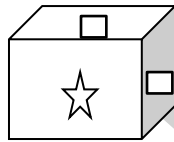
السؤال	الإجابة	السؤال	الإجابة
١	ب.	٢	د
٣	ب.ب.	٤	د
٥	أ.	٦	ج
٧	ب.	٨	ب.ب.
٩	د	١٠	ب.ب.
١١	ج	١٢	د
١٣	أ.	١٤	ب.ب.
١٥	ب.	١٦	د
١٧	ب.ب.	١٨	ج
١٩	ب.ب.	٢٠	أ.
٢١	ب.ب.	٢٢	أ
٢٣	ب.ب.	٢٤	أ
٢٥	د	٢٦	ج
٢٧	د	٢٨	ب.ب.
٢٩	ب.	٣٠	ب.ب.
٣١	ب.	٣٢	ج.ج.
٣٣	د	٣٤	ج.ج.
٣٥	ج	٣٦	ب.ب.
٣٧	ج	٣٨	أ.
٣٩	د	٤٠	أ
٤١	ب.	٤٢	ب.ب.
٤٣	أ.	٤٤	ج
٤٥	أ	٤٦	ب.ب.

التصور المكاني المكعبات

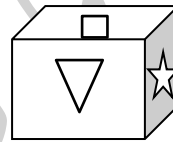
السؤال ١



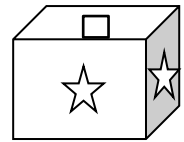
(د)



(ج)

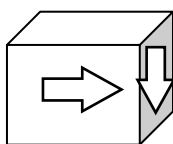
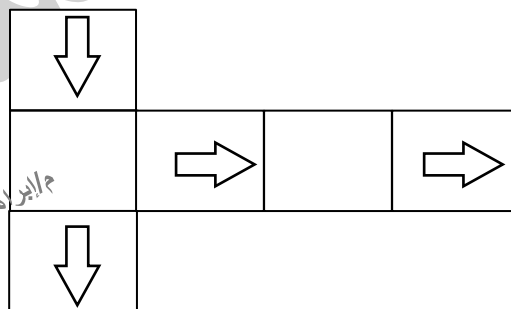


(ب)

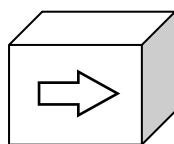


(أ)

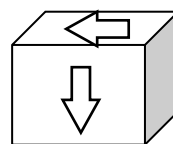
السؤال ٢



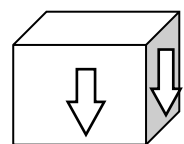
(د)



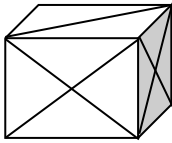
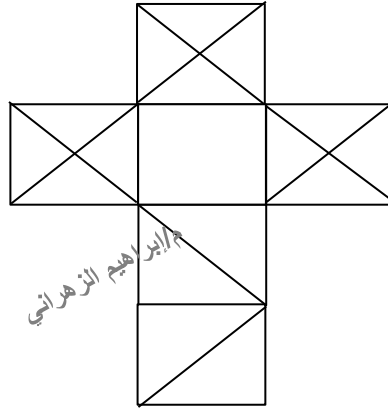
(ج)



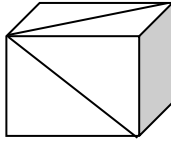
(ب)



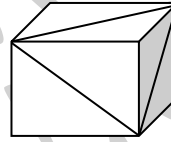
(أ)



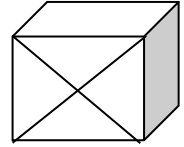
(د)



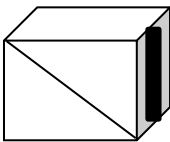
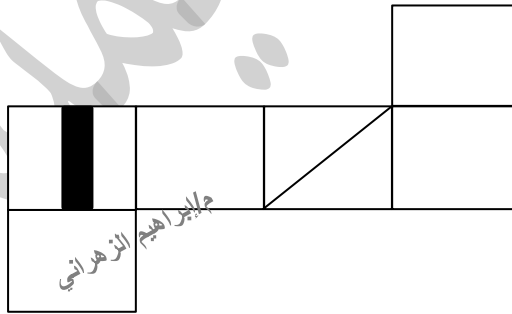
(ج)



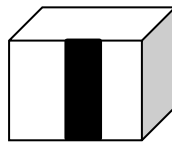
(ب)



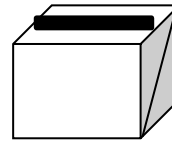
(أ)



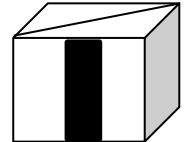
(د)



(ج)

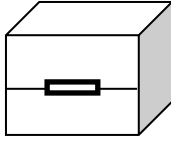
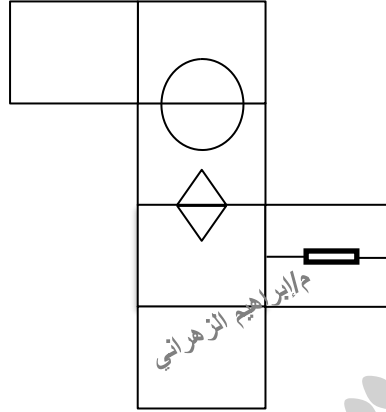


(ب)

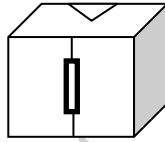


(أ)

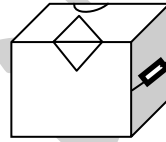
المهندس / إبراهيم الزهراني



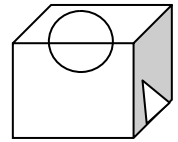
(د)



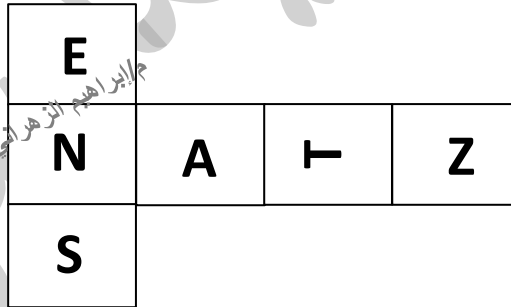
(ج)



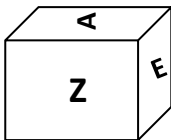
(ب)



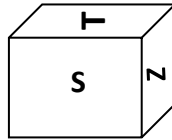
(أ)



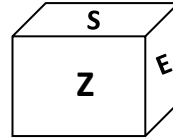
المهندس / إبراهيم الزهراني



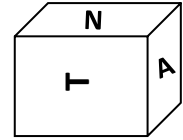
(د)



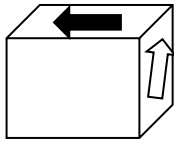
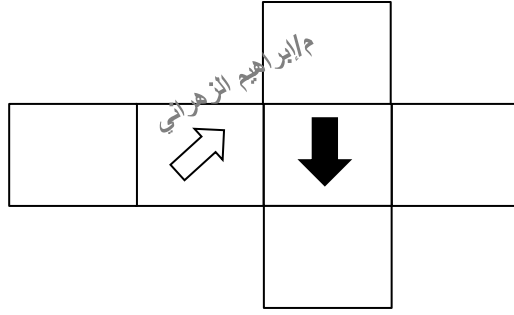
(ج)



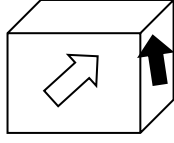
(ب)



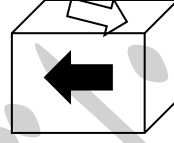
(أ)



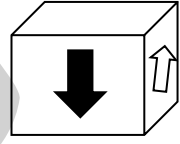
(د)



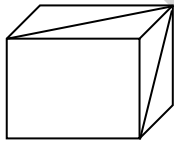
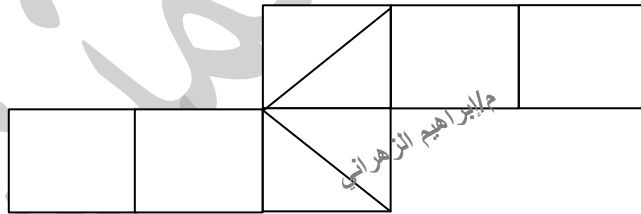
(ج)



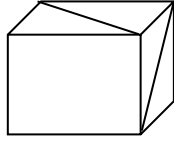
(ب)



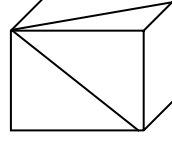
(أ)



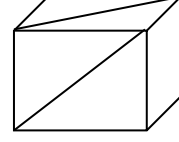
(د)



(ج)

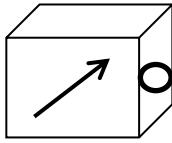
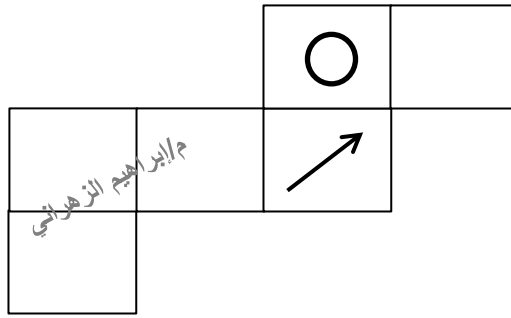


(ب)

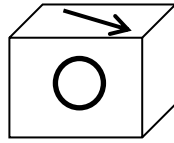


(أ)

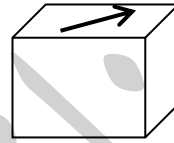
السؤال ٩



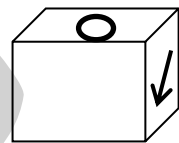
(د)



(ج)

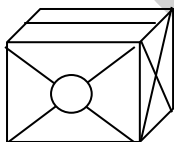
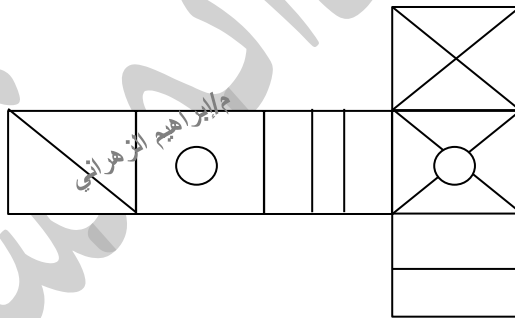


(ب)

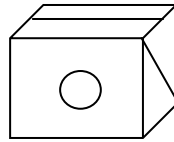


(أ)

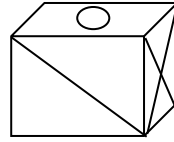
السؤال ١٠



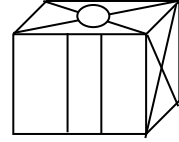
(د)



(ج)

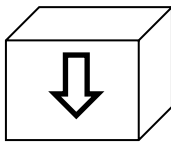
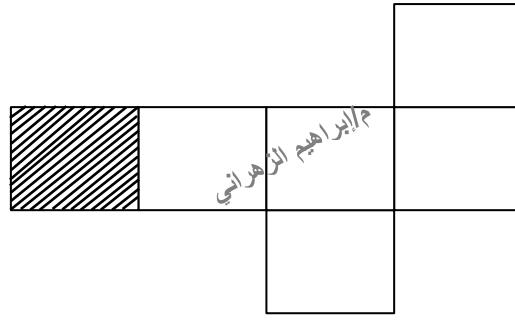


(ب)

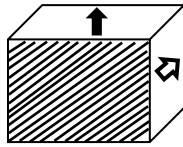


(أ)

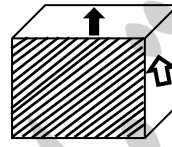
السؤال ١١



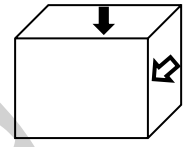
(د)



(ج)

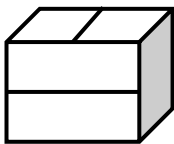
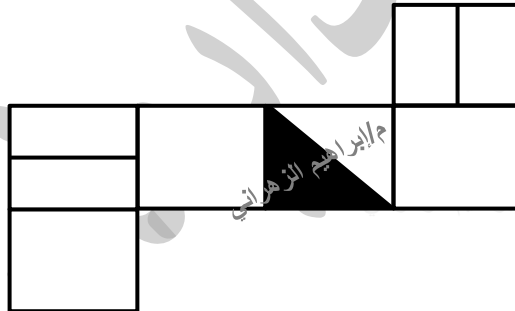


(ب)

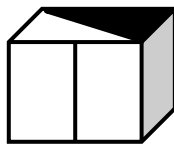


(أ)

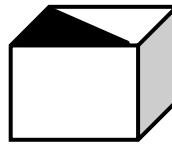
السؤال ١٢



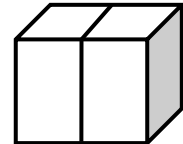
(د)



(ج)

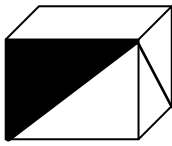
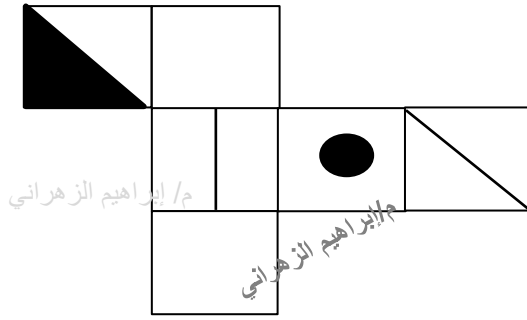


(ب)

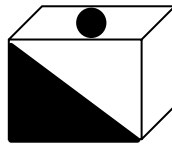


(أ)

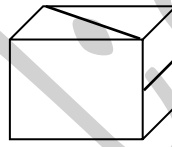
م / إبراهيم الزهراني



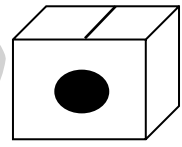
(د)



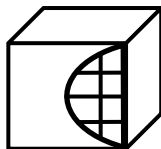
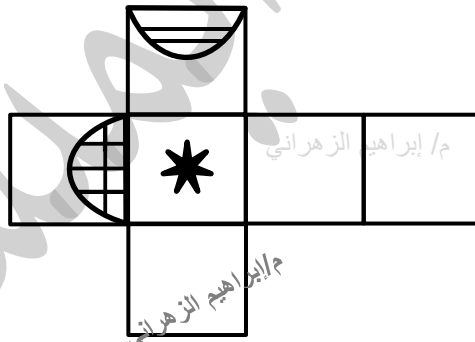
(ج)



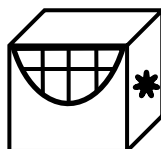
(ب)




(أ)



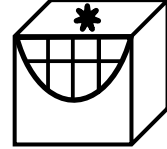
(د)



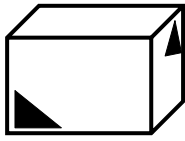
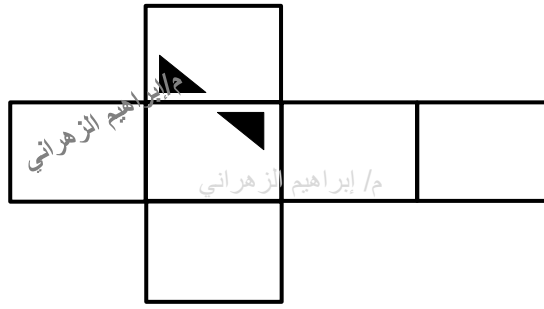
(ج)



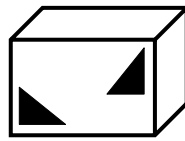
(ب)



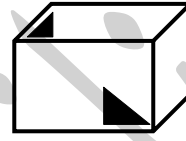
(أ)



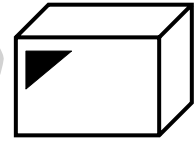
(د)





(ج)



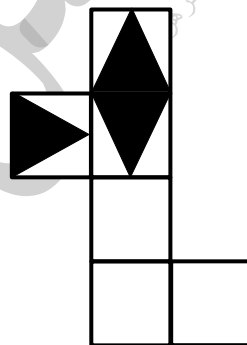
(ب)



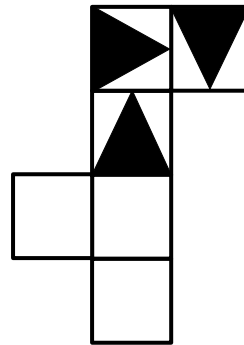
(أ)



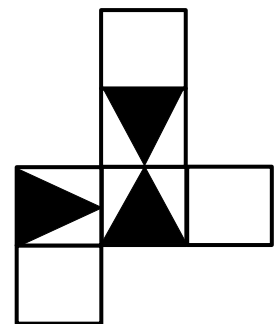
(د)



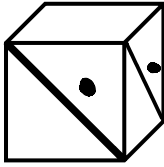
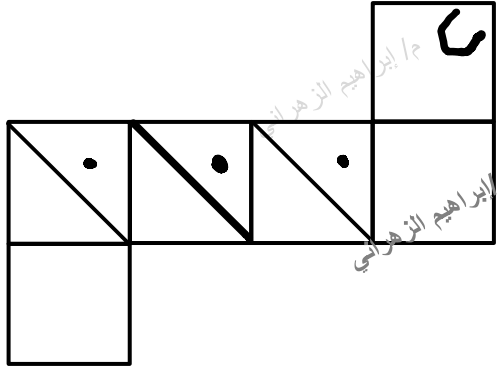
(ج)




(ب)



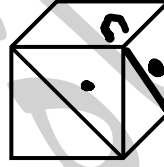
(أ)



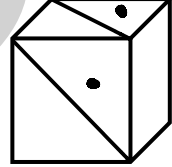
(د)



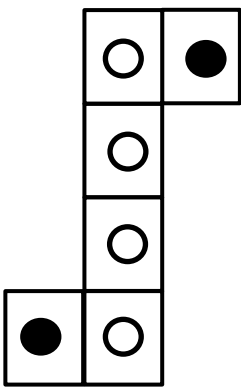
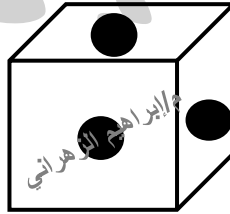
(ج)



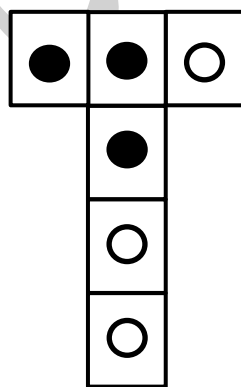
(ب)



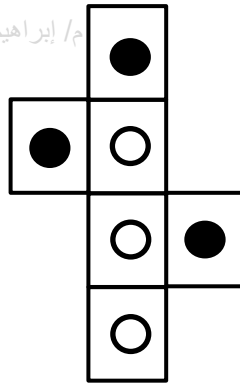
(أ)



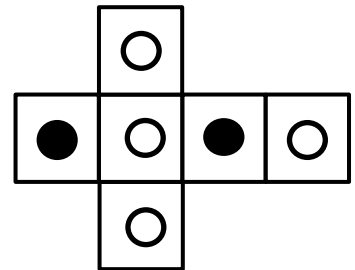
(د)



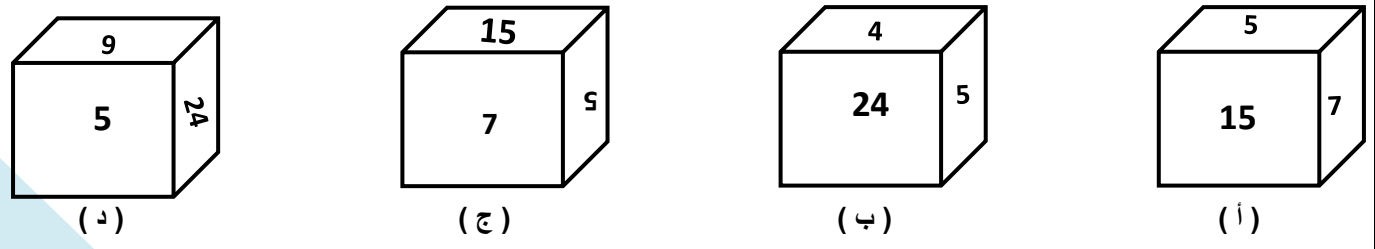
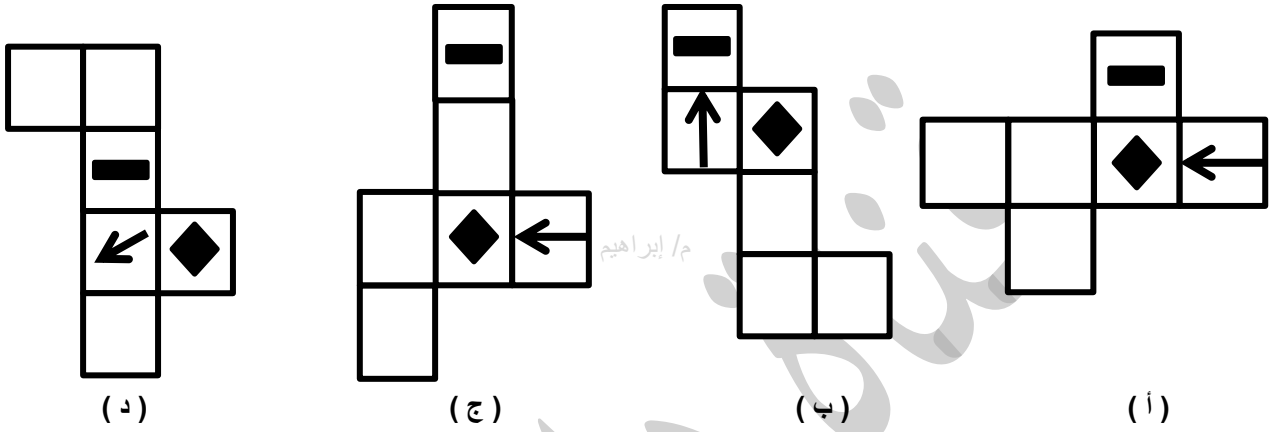

(ج)



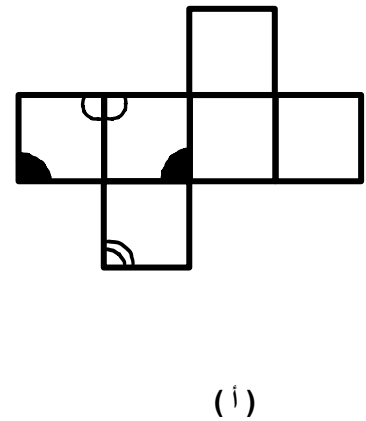
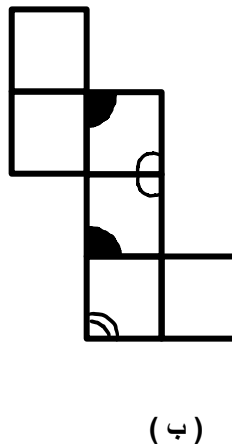
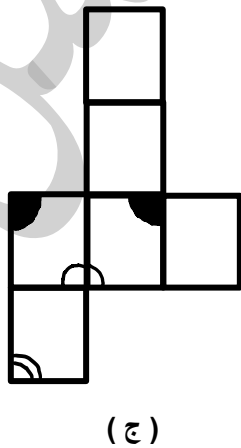
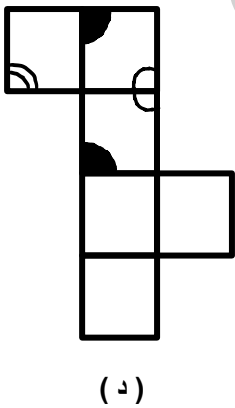
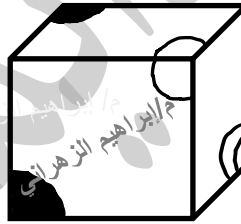
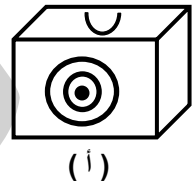
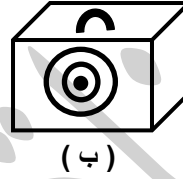
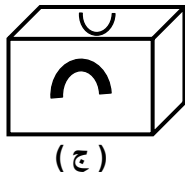
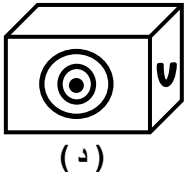
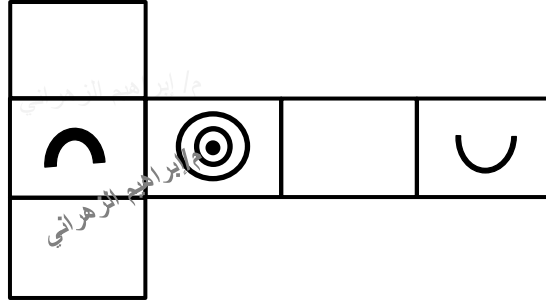
(ب)



(أ)



****ملاحظة: ملفات دايمانشن العامة مجانية ولا يحق لأي شخص استخدامها للبيع أو للدورات المدفوعة وعلى ذلك جرى التنبيه!!**



الإجابة	السؤال	الإجابة	السؤال
أ	٢	ب	١
ج	٤	د	٣
ج	٦	ب	٥
ب	٨	ب	٧
ج	١٠	ب	٩
ب	١٢	ج	١١
أ	١٤	د	١٣
د	١٦	أ	١٥
ج	١٨	ب	١٧
ب	٢٠	أ	١٩
ج	٢٢	د	٢١

الخاتمة

وفي نهاية هذا الملف وما يحتويه ، نأمل أن يكون قد نال اعجابكم
لما بذلناه من طاقة وجهد فيه ، فقد قدمنا كل ما في وسعنا ليكون هذا الملف جاهزاً على أكمل وجه .
وفي الختام .. نسأل الله أن يوفقنا ويوفقكم في الدارين وأن يجعل
أعمالنا كلها خالصة لوجهه الكريم .

مع مجموعة دايمنش التعليمية
نطمح لوصولكم لأعلى المستويات بأبسط وأسهل الطرق.

تمنياتنا للجميع بالترفيه

م / إبراهيم الزهراني : @Ibrahimm2030

الاييميل : eng.ibrahim.m.h@hotmail.com



****ملاحظة:** ملفات دايمنش العامة مجانية ولا يحق لأي شخص استخدامها للبيع
أو للدورات المدفوعة وعلى ذلك جرى التنبيه!!