

تم تحميل ورفع المادة على منصة

المعلم التعليمي



للعودة الى الموقع اكتب في بحث جوجل



المعلم التعليمي



ALMUALM.COM

المادة: التربية الفنية.
الصف: الثاني الابتدائي.

ورقة عمل

اسم الطالب:

الموضوع:
الطبيعة في بلادنا.

ضع الكلمة المناسبة في الفراغ المناسب:

(لمس - الصحاري - خط - الجبال - لون - المناظر الطبيعية)



تتميز طبيعة المملكة
العربية السعودية
بتنوع المناظر
الطبيعية مثل:
..... و.....

استخدم الفنانون في
لوحاتهم
و..... و..... من
العناصر الشكلية للتعبير
عن

ضع علامة (✓) أسفل
العبارات الصحيحة وعلامة
(x) أسفل العبارة الخاطئة:



إذا تأملنا الطبيعة
الصحراوية نجدها
مملوءة بالقيم
الجمالية والفنية.

استوحى الفنانون
التشكيليون أعمالهم
من طبيعة المملكة
العربية السعودية.

.....

.....



اسم الطالب:

ورقة عمل



المادة: التربية الفنية.
الصف: الثاني الابتدائي.



الموضوع:
الفن والطبيعة.



صل النباتات من
الصف الأول بما
يشبهها في الصف
الثاني:



ضع علامة (✓) أسفل الإجابة الصحيحة:

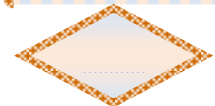
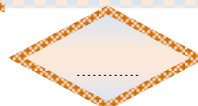
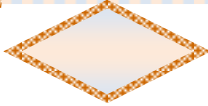


تتجلى قدرة الخالق سبحانه وتعالى فيما نراه حولنا من

الاثان معًا

الحيوانات

النباتات


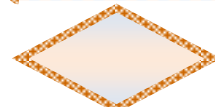
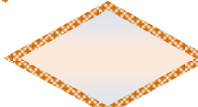
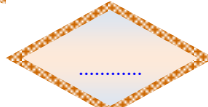


استوحى الفنانون التشكيليون أعمالهم الفنية من و.....

التجارة

عناصرها

الطبيعة





المادة: التربية الفنية.
الصف: الثاني الابتدائي.

ورقة عمل



اسم الطالب:



الموضوع:
أجدادنا وفن الرسم.



صل من الصف الأول بما يناسب من الصف الثاني:



الخط المنحنى




الخط المستقيم



الخط



أول وسيلة استخدمت
للتعبير الفني.





ضع علامة (✓) أسفل العبارة الصحيحة
وعلمة (x) أسفل العبارة الخاطئة:



استخدم الفنان الخط لتحديد
الشكل الخارجي.

من وظائف الخط إظهار
تفاصيل الشكل.








ورقة عمل



ضع الكلمة المناسبة أمام الصورة المناسبة:
(التكرار العادي - التكرار المتعكس - التكرار المتبادل)



صل كل صورة بما يناسبها من نوع الزخارف:



زخارف نباتية

زخارف خطية

زخارف هندسية



اسم الطالب:




المادة: التربية الفنية.
الصف: الثاني الابتدائي.

ورقة عمل

الموضوع:
إطارات جميلة لزخارفي
المتعكسة.



صل من الصف الأول
بما يناسب من الصف
الثاني:



وحدات
زخرفية رأسية

زخرفة
الإطارات

وحدات
زخرفية أفقية

هو ما اتخذت فيه
الوحدة اتجاهًا
أفقيًا.

حصر التعبيرات
الزخرفية بين خطين
متوازيين.

هو ما اتخذت فيه
الوحدة اتجاهًا
رأسيًا.

ضع علامة (✓) أسفل العبارة الصحيحة وعلامة (x) أسفل العبارة الخاطئة:

تجاور الوحدات في
وضع ثابت واحد
متناوب هو التكرار
المتعكس.

من أنواع التكرار
المستخدمة في
الفنون الزخرفية
التكرار المتعكس.



اسم الطالب:

ورقة عمل

المادة: التربية الفنية.

الصف: الثاني الابتدائي.

الموضوع:
ألعابي المنسوجة.

اختر الإجابة الصحيحة:

تسمى الخيوط الرأسية في النسيج خيوط.....

(السدى - النسيج - اللحمية)


تسمى الخيوط الأفقية في النسيج خيوط.....

(السدى - النسيج - اللحمية)

ضع الكلمة المناسبة مكان الفراغ المناسب:

اللون الأخضر يمثل خيوط (.....).

اللون البرتقالي يمثل خيوط (.....).



خيوط السدى

خيوط اللحمية



ورقة عمل



ضع علامة (✓) أسفل العبارة الصحيحة وعلامة (x) أسفل العبارة الخاطئة:




المادة: التربية الفنية.
الصف: الثاني الابتدائي.

ورقة عمل

اسم الطالب:

الموضوع:
أنسج بخامات متنوعة.

صل الصور التالية بما
يناسبها:



الحبال

الريش

أشرطة
الساتان

ضع علامة (✓) أسفل العبارة
الصحيحة وعلامة (x) أسفل
العبارة الخاطئة:



استخدمت خصائص
الخامات النسيجية
في زخرفة النسيج.

يوجد حولنا كثيرًا
من الخامات
الصالحة للنسيج.




المادة: التربية الفنية.
الصف: الثاني الابتدائي.

ورقة عمل

اسم الطالب:

الموضوع:
الطباعة من الطبيعة.

صل كل قالب بالشكل المستوحى منه:



لون الإجابة
الصحيحة:



المادة: التربية الفنية.
الصف: الثاني الابتدائي.

ورقة عمل

اسم الطالب:








الموضوع:
طباعة أشكال هندسية.

ضع علامة (✓) أسفل العبارة
الصحيحة وعلامة (x) أسفل
العبارة الخاطئة:

النقوش المراد
طباعتها يجب أن
تكون بارزة.

الأجزاء الغائرة لا
تصل الألوان إليها.

صل كل قالب بالشكل
المستوحى منه:



اسم الطالب:

ورقة عمل

المادة: التربية الفنية.
الصف: الثاني الابتدائي.

الموضوع:


طباعة زخارف هندسية.

ضع الكلمة المناسبة في
المكان المناسب:

اشتهرت في المملكة العربية
السعودية ب..... التي تزين

١. جنوب
٢. المنازل
٣. شمال
٤. الزخارف الملونة
٥. جدرانها

صل كل أداة مما يلي
باسمها:



الألوان

المسطرة

المقص

الأقلام