



موقع اجاباتكم

Google

للمزيد اكتب
في جوجل



موقع اجاباتكم

موقع اجاباتكم التعليمي يوفر كل ما يحتاجه الطالب
والمعلم من حلول الكتب توزيع المنهج. اختبارات
نهائية وفترية ملخصات. أوراق عمل والكثير

((تقويم مهارات الصف الثاني الفترة الأولى (الفترة الدراسية الثانية (١٤٤٧ هـ))

اسم الطالب / ة الصف:

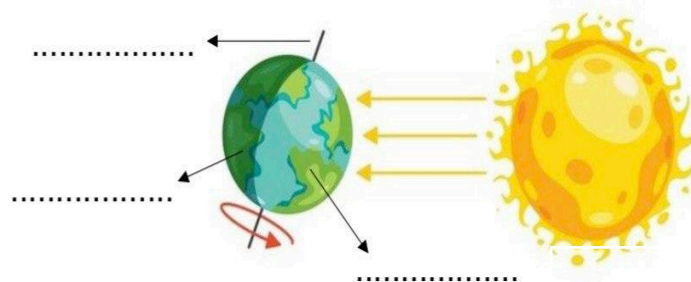
(١٠ درجات)

* السؤال الأول : أ) اختاري الإجابة الصحيحة :

١ - فصل يتغير فيه لون ورق الشجر ويتساقط :			
الصيف	الخريف	الشتاء	الربيع
٢- تحتاج الأرض لتدور حول الشمس :			
يوم	أسبوع	شهر	سنة
٣- جسم في الفضاء يتكون من غازات ساخنة متوهجة :			
الأرض	النجم	الغبار	الكوكب
٤- فصل ترتفع فيه درجة الحرارة			
الخريف	الصيف	الشتاء	الربيع
٥- أقرب الكواكب الى الشمس ...			
زحل	المريخ	الأرض	المشتري
٦ - جسم كروي ضخم يتحرك حول الشمس ...			
القمر	الكوكب	النجم	الشمس
٧- أي مما يلي من الكواكب الخارجية :			
عطارد	زحل	الأرض	المريخ

ب) - أضع كل كلمة في مكانها المناسب :

النهار الليل المحور



السؤال الثاني : أ) ضعي علامة (√) أو علامة (x) أمام العبارات التالية : (١٠ درجات)

١	نظامنا الشمسي فيه ثمانية (٨) كواكب .
٢	الكوكب الذي نعيش فيه هو كوكب الأرض
٣	المحور هو خط وهمي تدور حوله الأرض .
٤	طور القمر هو شكل القمر الذي نراه من الأرض .
٥	تحتاج الأرض لتدور حول الشمس شهر واحد .
٦	سبب تعاقب الليل والنهار دوران الأرض حول الشمس .

ب) أرتب اطوار القمر التالية :



التربيع الأخير

(.....)



البدر

(.....)



الهلال الأول

(.....)



التربيع الأول

(.....)

تمنياتي لكن بالتوفيق ،،،،،،،،،،، معلمي المادة / وداد الحري .

نموذج الإجابة

٢٠

((تقويم مهارات الصف الثاني الفترة الأولى (الفترة الدراسية الثانية (١٤٤٧ هـ))

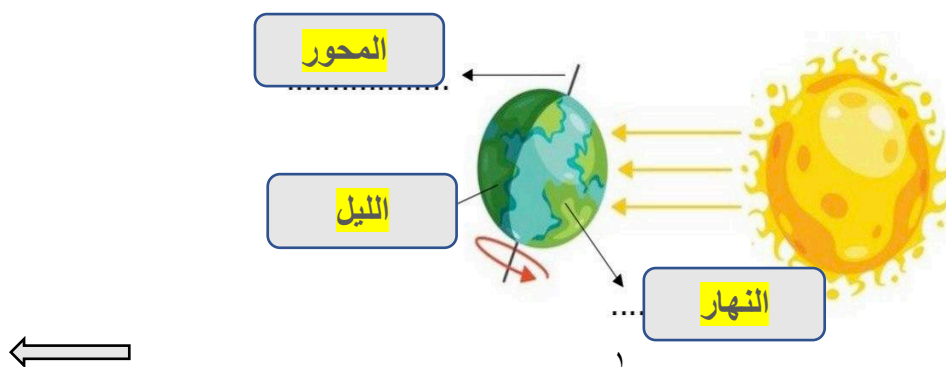
اسم الطالب / ة ((نموذج إجابة)) الصف:

* السؤال الأول : أ) اختاري الإجابة الصحيحة : (١٠ درجات)

١ - فصل يتغير فيه لون ورق الشجر ويتساقط :			
الصيف	الخريف	الشتاء	الربيع
٢- تحتاج الأرض لتدور حول الشمس :			
يوم	أسبوع	شهر	سنة
٣- جسم في الفضاء يتكون من غازات ساخنة متوهجة :			
الأرض	النجم	الغبار	الكوكب
٤- فصل ترتفع فيه درجة الحرارة			
الخريف	الصيف	الشتاء	الربيع
٥- أقرب الكواكب الى الشمس ...			
زحل	المريخ	عطارد	المشتري
٦ - جسم كروي ضخم يتحرك حول الشمس ...			
القمر	الكوكب	النجم	الشمس
٧- أي مما يلي من الكواكب الخارجية :			
عطارد	زحل	الأرض	المريخ




ب) - أضع كل كلمة في مكانها المناسب :

اجاباتكم موقع



السؤال الثاني : أ) ضعي علامة (√) أو علامة (x) أمام العبارات التالية :

ب) أرتب اطوار القمر التالية :

 (ξ)

(۶)

()

(2)

تمنيتي لكن بالتوفيق ،،،،،،،،،، معلمة المادة / ودداد الحربي . 

(قناة أ. و داد الحربي)

للمزيد من الاختبارات اضغط هنا

