

اختبار الفترة الأولى للفصل الدراسي الثالث لمادة الرياضيات (الصف الرابع) عام ١٤٤٤ هـ


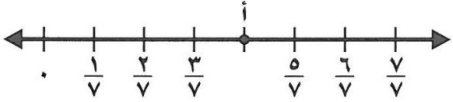
٢٠

الاسم:

اختر الإجابة الصحيحة فيما يلي (إجابة واحدة فقط)

١- التقدير الأنسب لقياس سعة عبوة عصير هو:					
أ	١٠ مللتر	ب	٢٠٠ مللتر	ج	١٠ لتر
د	٢٠٠ لتر				
٢- حجم الجسم في الشكل المجاور هو:					
أ	٤ وحدة مكعبة	ب	٨ وحدة مكعبة	ج	١٢ وحدة مكعبة
د	٢٤ وحدة مكعبة				
٣- التقدير الأنسب لقياس كتلة جمل هو:					
أ	٣ كجم	ب	٣٠٠ كجم	ج	٣ جم
د	٣٠٠ جم				
٤- أفضل تقدير لقياس سمك خيط صوف هو:					
أ	٢ ملم	ب	٢ سم	ج	٢ م
د	٢ كلم				
٥- صبغ سعد $\frac{2}{5}$ من حائط غرفته . وصبغ والده $\frac{1}{5}$ من الحائط نفسه . الجزء المصبوغ من الحائط هو:					
أ	$\frac{1}{5}$	ب	$\frac{2}{5}$	ج	$\frac{3}{5}$
د	$\frac{1}{5}$				
٦- تكون الساعة بعد ٢٥ دقيقة:					
أ	١١:٠٠	ب	١٠:٠٠	ج	٩:٠٠
د	٨:٠٠				

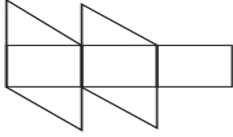
أكمل الفراغات الآتية بما يناسبها:

١	الكسر الذي يمثل الجزء المظلل في الشكل المجاور هو	
٢	الكسر الذي يمثل النقطة (أ) على خط الأعداد هو	
٣	مربع طول ضلعه ٤ سم فإن محيطه =	

٤ الوحدة المناسبة لقياس المسافة من الرياض إلى مكة المكرمة هي

٥ = $\frac{3}{7} - \frac{4}{7}$

٦ العدد المناسب لوضعه في لتصبح الجملة $\frac{3}{4} = \frac{9}{\square}$ صحيحة هو



٧ تقدير مساحة الشكل المجاور =

● صورة مستطيلة الشكل ، طولها ١١ سم وعرضها ٨ سم . إذا اردنا أن نعلقها على حائط ، فما المساحة التي ستشغلها الصورة على الحائط ؟



أقارن بين الكسور مستعملاً (= ، < ، >) :



$\frac{1}{3} \bullet \frac{2}{6}$

$\frac{5}{6} \bullet \frac{2}{3}$

$\frac{1}{4} \bullet \frac{4}{8}$

كتب أحمد على البطاقات أسماء ٤ حيوانات الزرافة و الأسد و الفيل و الديك ، حيث كتب على البطاقة الأخيرة اسم الحيوان الأطول ، وعلى البطاقة الثانية الحيوان المفترس ، وعلى البطاقة الأولى الحيوان الأكبر حجماً ، إذا كيف كتب الأسماء على البطاقات ؟



انتهت الأسئلة