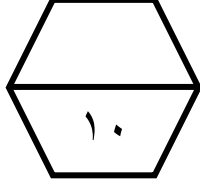


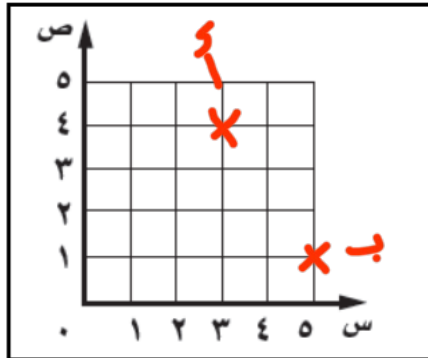
اسم الطالب /

ورقة عمل (الأسبوع الثالث عشر) للصف الخامس الابتدائي الفصل الدراسي الثاني للعام الدراسي ١٤٤٧ هـ

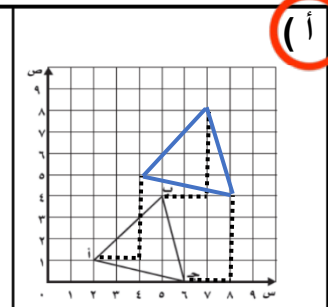
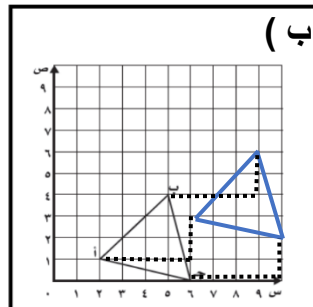


المهارات
الجبر والهندسة : تمثيل الدوال
الانسحاب في المستوى الاحداثي

ضع علامة (\checkmark) أمام العبارة الصحيحة وعلامة (\times) أمام العبارة الخاطئة :	
عند تمثيل نقطة في المستوى الإحداثي نضع علامة عند النقطة التي يمثلها الزوج المرتب المطلوب تمثيله	أ
الانسحاب هو إزاحة شكل دون تدويره، ولا ينتج عن ذلك تغير في قياساته أو شكله	ب



مثل كل نقطة مما يأتي على المستوى الاحداثي :	
أ (٤ ، ٣)	ب (١ ، ٥)



إذا تم إجراء انسحاب على المثلث أدناه وحدتين لليمين و ٤ وحدات إلى أعلى . فإي مما يلي سيكون صورته بعد الانسحاب ؟

