



وحدات الطول المترية

الكيلومتر

المتر

السنتمتر

المليمتر

أختار الوحدة الأنسب (المولومتر، السنتومتر، المتر، الكيلومتر)؛ لقياس كل من الأطوال الآتية:

٢ طول مضباح كهربائي

١ عرض مبراة

٥ المسافة بين البيت والمدرسة

٤ شملك قشرة موزة

أختار التقدير الأنسب لقياس طول كل من:

٨ شاشة التلفاز

٧٠ سم، ٧٠ م

٧ فأرة الكمبيوتر

١٣ ملم، ١٣ سم

٩ علبة ألوان

١٢ ملم، ١٢ سم





المحيط

١٨ سم

٢٤ سم

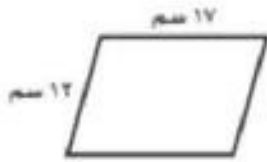
١٦ سم

٥٨ سم

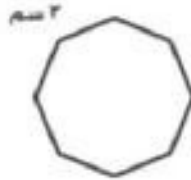
١٢ سم

٨ سم

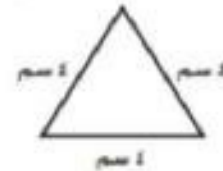
أجِدْ مُحِيطَ كُلِّ شَكْلِ مِمَّا يَأْتِي:



٣



٢



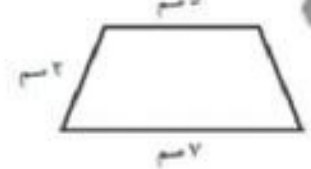
١



٦



٥



٤





قياس المساحة

٢٥ وحدة مربعة

٢٠ وحدة مربعة


١٠ وحدات مربعة

١٦ وحدة مربعة


١٦ وحدة مربعة

١١ وحدة مربعة

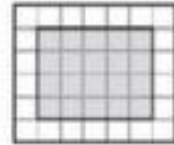
أجِدْ مساحة كُلِّ شَكْلِ مِمَّا بَأْتِي:




١




٢



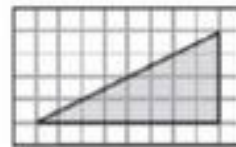
٣



٤



٥



٦





وحدات السعة المتريّة

حسب سعة القارورة/العلبة

لتر

حسب سعة القارورة/العلبة

مليتر

أختار الوحدة الأنسب (اللتر، المليلتر)؛ لقياس سعة كلِّ ممَّا يأتي:

- ١ قارورة ماء كبيرة
- ٢ الماء في بركة سباحة
- ٣ علبة حليب صغيرة
- ٤ كوب شاي

أختار التقدير الأنسب لسعة كلِّ ممَّا يلي:



١



٢



٣

١٥٠ مل

٣٠٠ مل

٢ ل



إعداد قناة نادي الرياضيات
<https://t.me/Grade1QMC>

