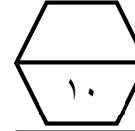






ورقة عمل (الأسبوع العاشر) للصف الثالث الابتدائي الفصل الدراسي الثاني للعام الدراسي ١٤٤٧ هـ






المهارات
الأشكال المستوية
خطة حل المسألة (أخل مستعملا خطة حل مسألة أبسط)
الأنماط الهندسية

ضع علامة (√) أمام العبارة الصحيحة وعلامة (x) أمام العبارة الخاطئة :	
أ	أول خطوة من خطوات حل المسألة هي التحقق .
ب	تحديد الأنماط الهندسية يمكن أن يساعدني على التوقع وحل المسائل.

٢	صف الشكل المجاور مستعملا (عدد الأضلاع وعدد الزوايا) ثم حدد اسمه :
	عدد الأضلاع عدد الزوايا اسمه

٣	حدد أي الأشكال التالية يعد مضلع :
أ	
ب	
ج	
د	

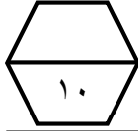
٤	ينام طفل ١٣ ساعة يوميا، إذا نام في النهار مرتين، في كل مرة ساعتين، فكم ساعة ينام في الليل؟
أ	٥ ساعات
ب	٦ ساعات
ج	٨ ساعات
د	٩ ساعات

٥	إذا تمت توسعة هذا النمط ، فما الشكل رقم ١٠ الذي سيكون في هذا النمط ؟
أ	
ب	
ج	

٦	تأكل سعاد ٥ تفاحات أسبوعيا، فكم تفاحة تأكل في ٣ أسابيع؟
أ	٥ تفاحات
ب	٨ تفاحات
ج	١٠ تفاحات
د	١٥ تفاحة







ورقة عمل (الأسبوع العاشر) للصف الثالث الابتدائي الفصل الدراسي الثاني للعام الدراسي ١٤٤٧ هـ






المهارات
الأشكال المستوية
خطة حل المسألة (أخل مستعملا خطة حل مسألة أبسط)
الأنماط الهندسية

ضع علامة (√) أمام العبارة الصحيحة وعلامة (x) أمام العبارة الخاطئة :	
أ	أول خطوة من خطوات حل المسألة هي التحقق .
ب	تحديد الأنماط الهندسية يمكن أن يساعدني على التوقع وحل المسائل.

٢	صف الشكل المجاور مستعملا (عدد الأضلاع وعدد الزوايا) ثم حدد اسمه :
	عدد الأضلاع عدد الزوايا اسمه

٣	حدد أي الأشكال التالية يعد مضلع :
أ	
ب	
ج	
د	

٤	ينام طفل ١٣ ساعة يوميا، إذا نام في النهار مرتين، في كل مرة ساعتين، فكم ساعة ينام في الليل؟
أ	٥ ساعات
ب	٦ ساعات
ج	٨ ساعات
د	٩ ساعات

٥	إذا تمت توسعة هذا النمط ، فما الشكل رقم ١٠ الذي سيكون في هذا النمط ؟
أ	
ب	
ج	

٦	تأكل سعاد ٥ تفاحات أسبوعيا، فكم تفاحة تأكل في ٣ أسابيع؟
أ	٥ تفاحات
ب	٨ تفاحات
ج	١٠ تفاحات
د	١٥ تفاحة

