

# كرايس رياضيات KG1

## الترم الاول



اعداد كل من :-

\* الاستاذة : كوثر على . ادارة : كوم امبو - أسوان .

\* الاستاذة : عائشة شوقي . ادارة : السادات - منوفية .

## التقويم اليومي

\* ضع دائرة حول اليوم الحالي

السبت - الاحد - الاثنين - الثلاثاء - الاربعاء - الخميس - الجمعة

\* ظلل على اليوم الحالي

٨	٧	٦	٥	٤	٣	٢	١
١٦	١٥	١٤	١٣	١٢	١١	١٠	٩
٢٤	٢٣	٢٢	٢١	٢٠	١٩	١٨	١٧
	٣١	٣٠	٢٩	٢٨	٢٧	٢٦	٢٥

\* ضع دائرة حول الشهر الحالي

يناير - فبراير - مارس - ابريل - مايو - يونيه - يوليو -  
أغسطس - سبتمبر - اكتوبر - نوفمبر - ديسمبر .

\* ظلل السنة الحالية

٢٠٢٤

٢٠٢٣

٢٠٢٢

\* الاطار الخماسي


## الدرس الاول والثاني

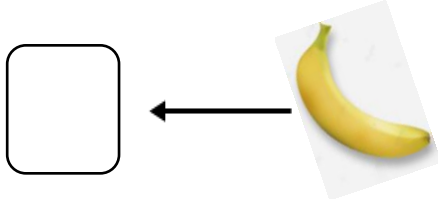


\* لون ( ١ )

\* اكتب

						١
						١

\* عد واكتب العدد



\* ضع دائرة حول رقم واحد

٥ - ١ - ٣ - ٤ - ١ - ٣ - ١ - ٥ - ٣ - ١




\*لون ( ٢ )

\* اكتب

						٢
						٢

\* لون حسب العدد




١



٣

\* وصل



١

٣

## الدرس الثالث والرابع والخامس

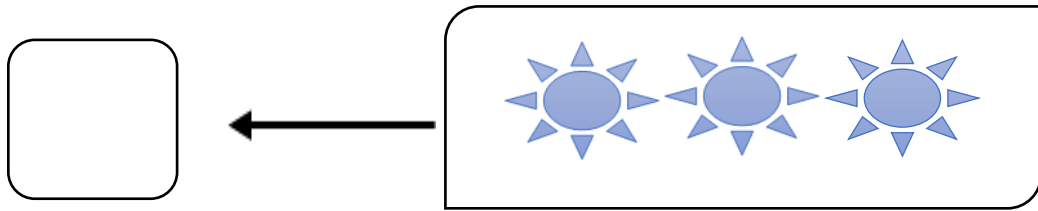


\* لون ( ٣ )

\* اكتب

						٣
						٣

\* عدد واكتب



\* لون حسب العدد

♥	♥	♥	♥	♥	٣
---	---	---	---	---	---

\* اكتب

						١
						٢
						٣


\* ارسم دوائر حسب العدد



٢




١



٣

\* وصل

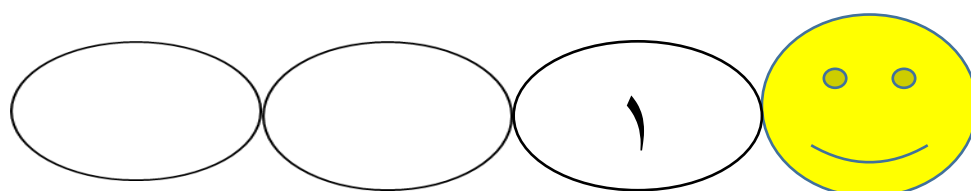


١

٢

٣

\* أكمل الدودة




## الدرس السادس والسابع

\* اكتب

						١
						٢
						٣


\* ارسم مثلثات حسب العدد



٢



٣




١


\* ارسم مربعات حسب العدد



٣




١



٢

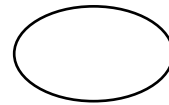


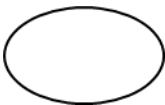
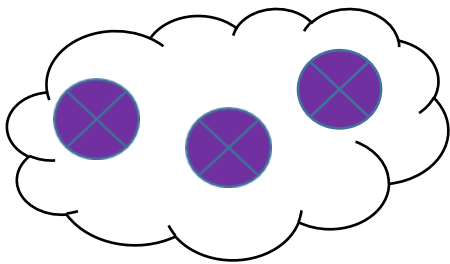
\* اكمل



عدد الزوايا = .....

عدد الجوانب = .....

\* عد واكتب العدد المناسب





## الدرس الثامن و التاسع



\*لون ( ٤ )

\* اكتب

						١
						٢
						٣
						٤

\* ضع دائرة حل العدد ٤

٥ - ٢ - ٤ - ١ - ٤ - ٣ - ٤ - ٦ - ٥ - ٤

\* كم عدد الاشكال؟




\* اكمل




عدد الزوايا = .....

عدد الجوانب = .....

\* ارسم مثلثات حسب العدد



٢٢



٣



١


\* ارسم دوائر حسب العدد



٣



١



٢

\* ارسم مربعات حسب العدد



١

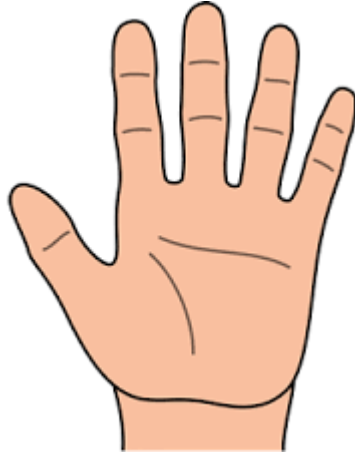


٣



٢

## الدرس العاشر والحادي عشر



\* لون ( )

\* اكتب

						١
						٢
						٣
						٤
						٥

\* اكمل



عدد الزوايا = .....

عدد الجوانب = .....

## \* وصل كل رقم بما يشبهه

٢

٣

١

٥

٤

٣

٢


٥

٤

١

## \* كم عدد الاشكال؟





## \* ضع دائرة حول الأقصر:


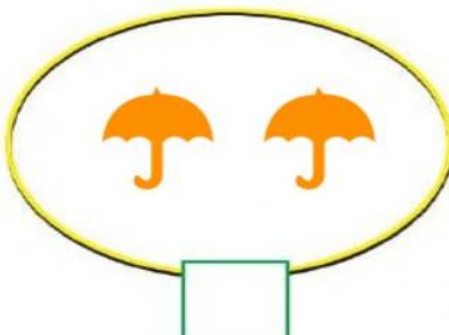
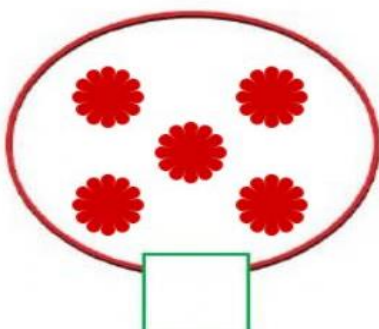


# الدرس ال ١٢ و ١٣

\*اكتب

٥	٤	٣	٢	١

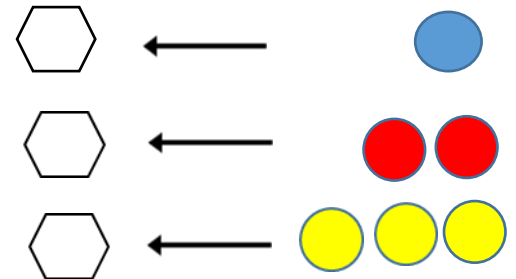
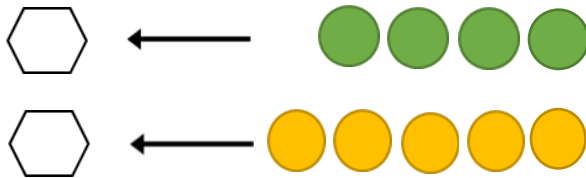
\*عد واكتب




## \*ضع دائرة حول الاطول



## عد واكتب العدد



## الدرس ١٤ و ١٥



\* لون

\* اكتب

						٦
						٦

\* ضع دائرة حل العدد ٦

٥ - ٦ - ٣ - ١ - ٣ - ٦ - ٤ - ٦ - ٥ - ٦


\* ضع دائرة حول الشكل الموجود يسار الولد



\*ارسم أشكال هندسية حسب العدد الذى أمامك

٤	٥	٦	٣

\*كم عدد الاشكال؟

	
--	--

\*اكتب من ١ الى ٦

٦	٥	٤	٣	٢	١




## الدرس ١٦ و ١٧

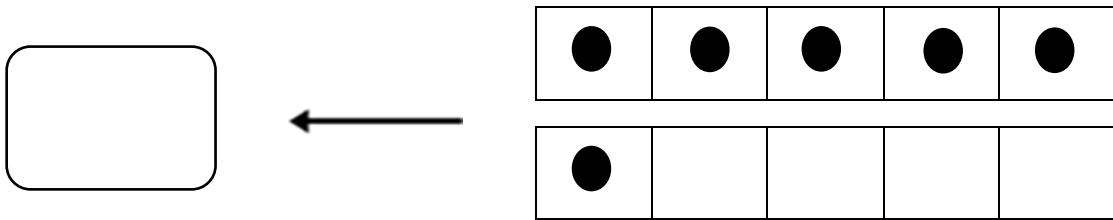
\* اكمل النمط التالي



\* ضع دائرة حول المجموعات المتشابهة ف اللون والشكل



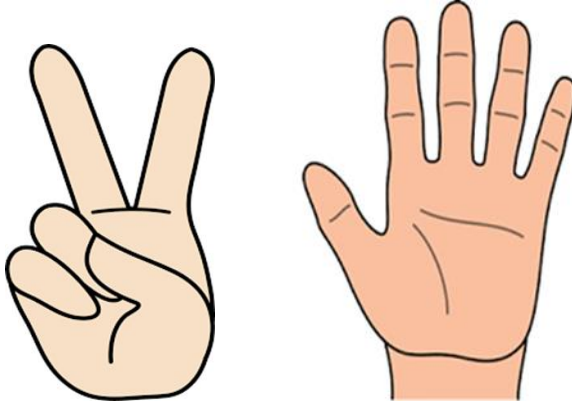
\* كم عدد النقاط داخل الإطار:



\* اكتب

						٦
						٦

## الدرس ١٨ و ١٩ و ٢٠

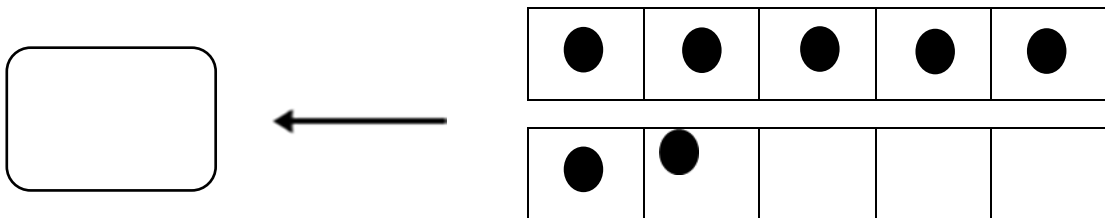


\*لون ( ٧ )


\*اكتب من ١ الى ٧

٧	٦	٥	٤	٣	٢	١

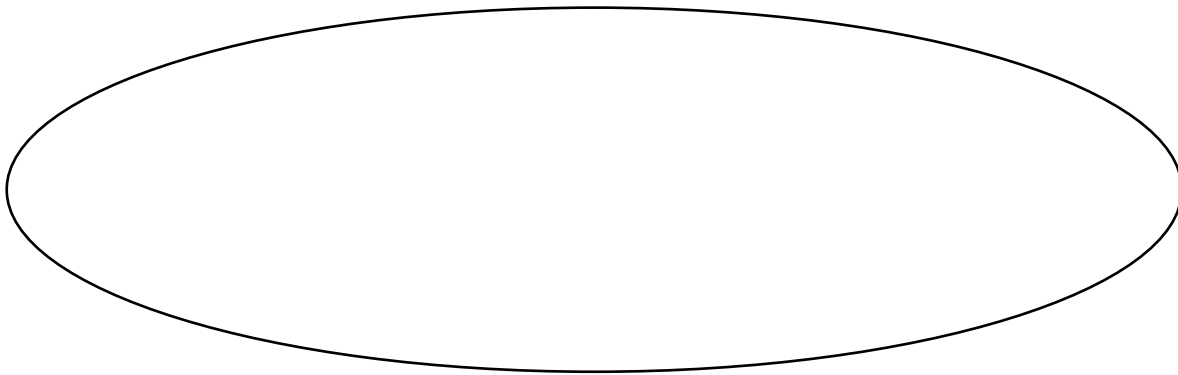
\*كم عدد النقاط داخل الإطار:




\*ارسم ٣ مربعات مختلفة في الحجم




\*ارسم ٣ دوائر مختلفة في الحجم



ضع علامة < أو > أو =



## الدرس ٢١ و ٢٢ و ٢٣

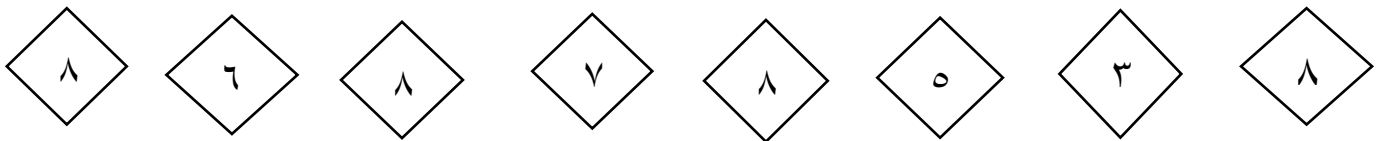


\* لون ( ٨ )

\* اكتب من ١ الى ٨

٨	٧	٦	٥	٤	٣	٢	١


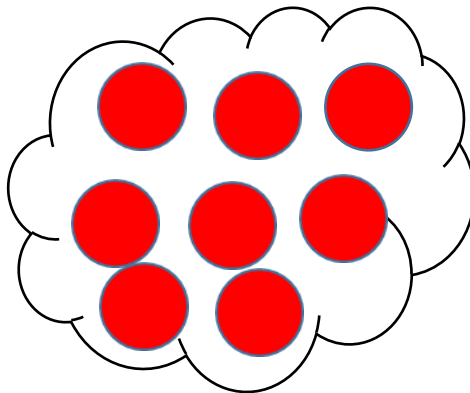
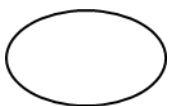
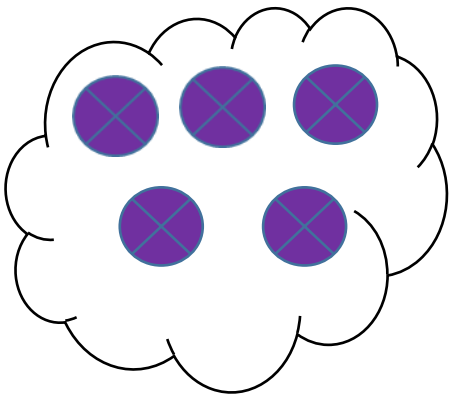
\* لون العدد ٨



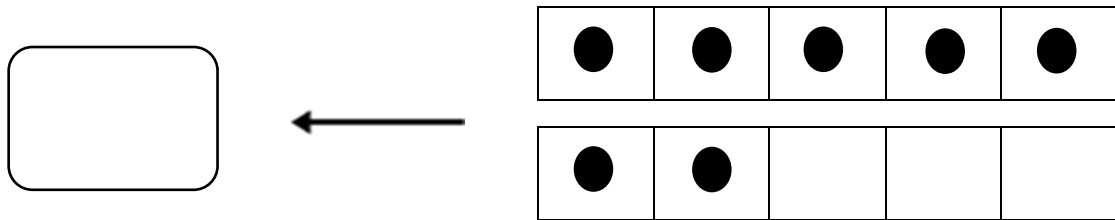
ضع علامة < أو > أو =



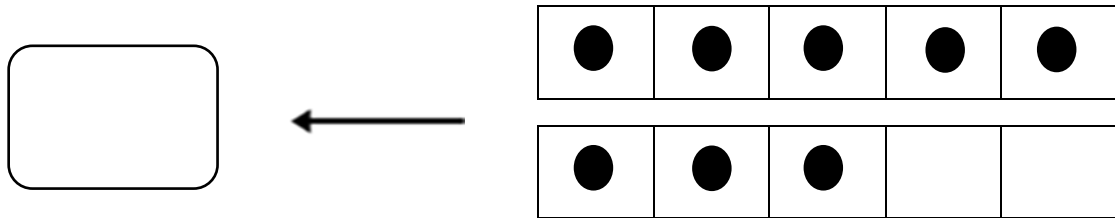
\* كم عدد الدوائر لدينا



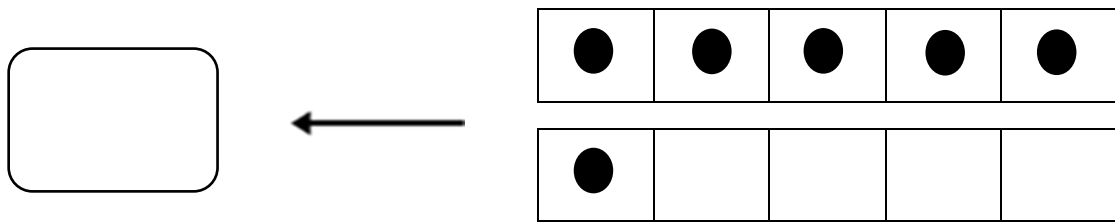
\*كم عدد النقاط داخل الإطار:



\*كم عدد النقاط داخل الإطار:



\*كم عدد النقاط داخل الإطار:



## الدرس ٢٤ و ٢٥ و ٢٦



\* لون (٩)

\* اكتب من ١ الى ٩

٩	٨	٧	٦	٥	٤	٣	٢	١

\* ضع دائرة حل العدد ٩

٨ - ٩ - ١ - ٩ - ٣ - ٦ - ٩ - ٤ - ٩ - ٥

## \*كم عدد النقاط داخل الإطار:


←



←



←



←




## الدرس من ٢٧ الى ٣٠

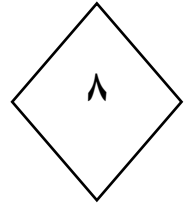
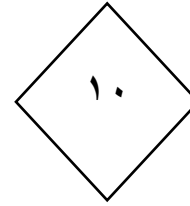
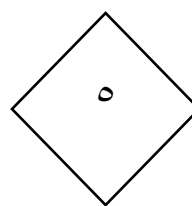
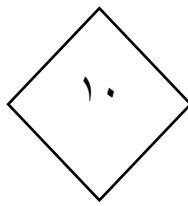
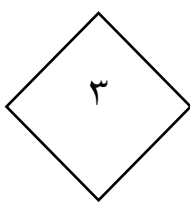
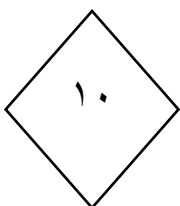


\*لون ( ١ ٠ )

\*اكتب من ١ الى ١٠

١٠	٩	٨	٧	٦	٥	٤	٣	٢	١


\*لون العدد ١٠



\*ارسم دائرة حمراء صغيرة و مثلث اصفر صغير و مربع ازرق صغير

\*ارسم دائرة زرقاء كبيرة و مثلث احمر كبير و مربع اصفر كبير

\*اكمل الدودة



## الدروس من ٣١ الى ٣٥

\*اكتب العدد صفر

						.
						.

\*ارسم حسب العدد

	٦
	٣
	٧
	١٠
	٥
	٩
	٤

\*ارسم ٣ دوائر حمراء كبيرة بنفس الحجم

\*ارسم ٣ دوائر حمراء صغيرة بنفس الحجم

\*ارسم ٣ حمراء حمراء كبيرة بنفس الحجم

\*اكمل النمط



## الدروس من ٣٦ الى ٤٠

\*اكتب من ١ الى ١٠

١٠	٩	٨	٧	٦	٥	٤	٣	٢	١

\*ارسم ٥ اقلام باللون الاحمر والازرق والاصفر والاخضر والبنفسجى والقلم  
يمثل مثلث صغير ومستطيل



\*ارسم اشكال تمثل العدد ٥



\*ارسم ٦ مثلثات



\*ارسم ٧ وجوه مبتسمة



\*ارسم ٨ سحب

\*ارسم اشكال تمثل العدد ٩

## الدروس من ٤١ الى ٤٥

\*اكتب من ١ الى ١٠







١٠	٩	٨	٧	٦	٥	٤	٣	٢	١

\*ضع دائرة حول الشيء الذى يمين الولد





## \*ارسم ٤ مربعات

## \*ضع علامة اكبر من او اقل من او تساوى

	<input type="text"/>	
	<input type="text"/>	
	<input type="text"/>	

## \*يوجد كرتان فى الصندوق ارسم كرة اخرى واحسب عددهم






















## الدروس من ٤٦ الى ٥٠

\*اكتب من ١ الى ١٠

١٠	٩	٨	٧	٦	٥	٤	٣	٢	١

\*ضع علامة اكبر من او اقل من او تساوى

\*هناك ٤ كتب على الرف ثم وضعنا ٣ كتب اخرى ، فكم عدد

الكتب على الرف

$$\boxed{\phantom{00}} = \boxed{\phantom{00}} + \boxed{\phantom{00}}$$

\*اكمل النمط

..... ، ٧ ، ٨ ، ..... ، ..... ، ..... ، .....

اكمل النمط

١٠									٢	١
----	--	--	--	--	--	--	--	--	---	---

## الدروس من ٥١ الى ٥٦

\*اكتب من ١ الى ١٠

١٠	٩	٨	٧	٦	٥	٤	٣	٢	١

\*حوظ على العدد الاصغر

٣   ٥

١   ٢


١   ٣

٥   ٤

٥   ٢


١   ٤

\*يوجد ٧ بالونات انفجر منهم ٣ بالونات ، فكم عدد البالونات المتبقية




$$\square = \square - \square$$

## \*ضع دائرة حول الاخف



## \*ضع دائرة حول الاطول



## الدروس من ٥٦ الى ٦٠

### \*اكتب من ١ الى ١٠

١٠	٩	٨	٧	٦	٥	٤	٣	٢	١

### \*اطرح

$$= ١ - ٤$$

$$= ٣ - ٥$$

$$= ١ - ٣$$

$$= ١ - ٢$$

### \*اجمع

$$= ١ + ٣$$

$$= ٣ + ٥$$

$$= ١ + ٢$$

$$= ٤ + ٤$$