

اختبار نهائي علوم ثالث الفصل الدراسي الثاني لعام ١٤٤٥ هـ

الصف		رقم الجلوس		/ ٣		أسم الطالب	
رقم السؤال	الدرجة المستحقة	المصحح	توقيعه	المراجع	توقيعه	المدقق	توقيعه
رقماً	كتابة						
السؤال الأول							
السؤال الثاني							
السؤال الثالث							
السؤال الرابع							
المجموع							

السؤال الأول : أختَر الإجابة الصحيحة فيما يلي ؟

- ١- يمثل الشكل التالي .
أ (تجوية
ب (زلزال
ج (بركان
- ٢- لون التربة الحمراء يدل على وجود .
أ (دبال
ب (صخور جيرية
ج (حديد
- ٣- من أنواع الأحافير في الشكل .
أ (الأحافير الصخرية
ب (القوالب
ج (الطبقات
- ٤- يعتبر النفط من موارد الطاقة .
أ (المتجددة
ب (غير المتجددة
ج (أحفورة
- ٥- نواع العاصفة .
أ (رملية
ب (ثلجية
ج (ممطرة
- ٦- يستخدم المقياس التالي لقياس .
أ (سرعة الرياح
ب (اتجاه الرياح
ج (كمية الهطول
- ٧- أقسام من السنة لكل منها طقس مميز .
أ (الطقس
ب (الليل و النهار
ج (فصول السنة
- ٨- تعتبر الجبال من العوامل المؤثرة .
أ (في الطقس
ب (في المناخ
ج (في اتجاه الرياح

السؤال الثاني : أكمل الفراغات التالية بالكلمة المناسبة ؟

المناخ - دورة الماء - التبخر - التعرية - الأحفورة - الدبال - البركان

- ١- حالة الطقس في مكان معين خلال فترة زمنية طويلة .
- ٢- عملية تحول السائل إلى غاز .
- ٣- نقل الفتات الصخري من مكان إلى مكان آخر .
- ٤- بقايا مخلوقات حية عاشت في الزمن الماضي .
- ٥- فتحة في القشرة الأرضية تخرج منها الصهارة .
- ٦- حركة الماء المستمرة بين الأرض و الغلاف الجوي .

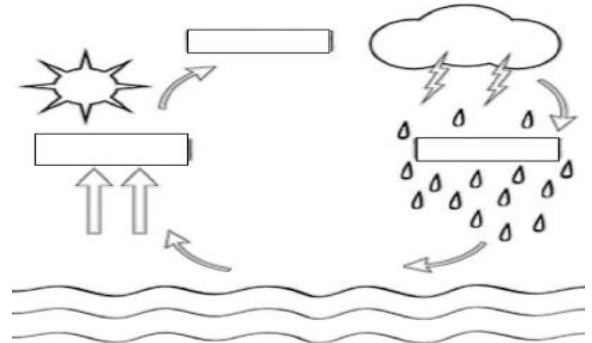
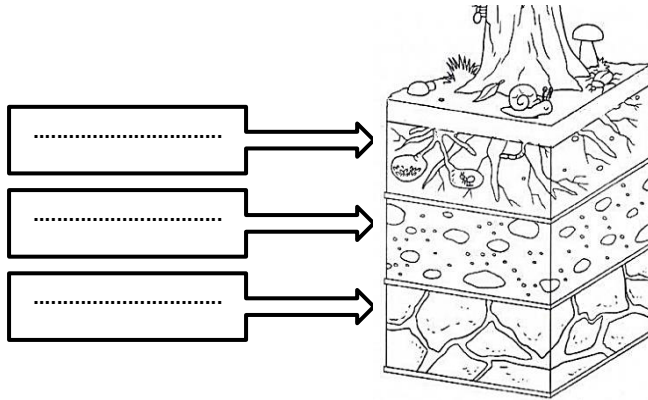
٦

السؤال الثالث : ضع علامة (✓) أمام العبارة الصحيحة، وعلامة (✗) أمام العبارة الخاطئة ؟

١	من العوامل التي تغير سطح الأرض ببطء البركان و الزلازل .	()
٢	الترسيب هو عملية تفتت الصخور .	()
٣	من عوامل التجوية ضوء الشمس والرياح والأمطار .	()
٤	المورد غير المتجدد يمكن تعويضه و استعماله مرة أخرى .	()
٥	الوقود مادة يتم حرقها للحصول على الطاقة .	()
٦	يستخدم الوقود الأحفوري في التدفئة و حركة الطائرات و السيارات .	()
٧	الأحافير مخلوط من فتات الصخور و المعادن .	()
٨	يستخدم لقياس درجة الحرارة مقياس البارومتر .	()

١٦

السؤال الرابع : (أ) أكمل بيانات الرسوم التالية ؟



(ب) أكتب الإجابة الصحيحة من المجموعة (أ) أمام ما يناسبها من المجموعة (ب) ؟

المجموعة (ب)	
تجمع لقطرات الماء الصغيرة أو بلورات الجليد	
عاصفة كبيرة مصحوبة برياح و أمطار تتكون فوق المحيطات	
كبر حبيبات التربة و القطع الصخرية المكونة لها	
مادة موجودة في الأرض يستفيد منها الإنسان و المخلوقات الحية	

المجموعة (أ)	
١	نسيج التربة
٢	المورد الطبيعي
٣	عاصفة رملية
٤	إعصار حلزوني
٥	الغيمة

” انتهت الأسئلة ”


نموذج الاجابة لاختبار نهائي علوم ثالث الفصل الدراسي الثاني لعام ١٤٤٥ هـ

اسم الطالب		الصف	
رقم الجلوس		٣ /	
رقم السؤال	الدرجة المستحقة رقماً	المصحح	توقيعه
توقيعه	المدقق	توقيعه	المراجع
السؤال الأول			
السؤال الثاني			
السؤال الثالث			
السؤال الرابع			
المجموع			


السؤال الأول : أختَر الإجابة الصحيحة فيما يلي ؟

٢- لون التربة الحمراء يدل على وجود .
أ (دبال
ب (صخور جيرية
ج (حديد


١- يمثل الشكل التالي .
أ (تجوية
ب (زلزال
ج (بركان




٤- يعتبر النفط من موارد الطاقة .
أ (المتجددة
ب (غير المتجددة
ج (أحفورة



٣- من أنواع الأحافير في الشكل .
أ (الأحافير الصخرية
ب (القوالب
ج (الطبقات



٦- يستخدم المقياس التالي لقياس .
أ (سرعة الرياح
ب (اتجاه الرياح
ج (كمية الهطول



٥- نواع العاصفة .
أ (رملية
ب (ثلجية
ج (ممطرة



٩- تعتبر الجبال من العوامل المؤثرة .
أ (في الطقس
ب (في المناخ
ج (في اتجاه الرياح



٧- أقسام من السنة لكل منها طقس مميز .
أ (الطقس
ب (الليل و النهار
ج (فصول السنة

السؤال الثاني : أكمل الفراغات التالية بالكلمة المناسبة ؟

المناخ - دورة الماء - التبخر - التعرية - الأحفورة - الدبال - البركان

- ١- **المناخ** حالة الطقس في مكان معين خلال فترة زمنية طويلة .
- ٢- **التبخر** عملية تحول السائل إلى غاز .
- ٣- **التعرية** نقل الفتات الصخري من مكان إلى مكان آخر .
- ٤- **الأحفورة** بقايا مخلوقات حية عاشت في الزمن الماضي .
- ٥- **البركان** فتحة في القشرة الأرضية تخرج منها الصهارة .
- ٦- **دورة الماء** حركة الماء المستمرة بين الأرض و الغلاف الجوي .

٦

٦

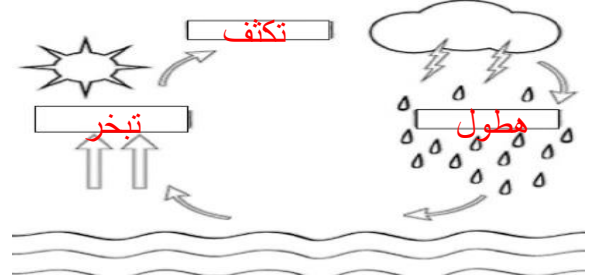
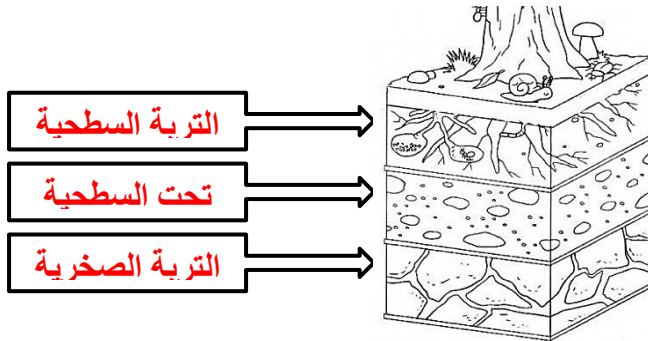
السؤال الثالث : ضع علامة (✓) أمام العبارة الصحيحة، وعلامة (✗) أمام العبارة الخاطئة ؟

١	من العوامل التي تغير سطح الأرض ببطء البركان و الزلازل .	(✗)
٢	الترسيب هو عملية تفتت الصخور .	(✗)
٣	من عوامل التجوية ضوء الشمس والرياح والأمطار .	(✓)
٤	المورد غير المتجدد يمكن تعويضه و استعماله مرة أخرى .	(✗)
٥	الوقود مادة يتم حرقها للحصول على الطاقة .	(✓)
٦	يستخدم الوقود الأحفوري في التدفئة و حركة الطائرات و السيارات .	(✓)
٧	الأحافير مخلوط من فتات الصخور و المعادن .	(✗)
٨	يستخدم لقياس درجة الحرارة مقياس البارومتر .	(✗)

١٦

١٦

السؤال الرابع : (أ) أكمل بيانات الرسوم التالية ؟



(ب) أكتب الإجابة الصحيحة من المجموعة (أ) أمام ما يناسبها من المجموعة (ب) ؟

المجموعة (ب)	
٥	تجمع لقطرات الماء الصغيرة أو بلورات الجليد
٤	عاصفة كبيرة مصحوبة برياح و أمطار تتكون فوق المحيطات
١	كبر حبيبات التربة و القطع الصخرية المكونة لها
٢	مادة موجودة في الأرض يستفيد منها الإنسان و المخلوقات الحية

المجموعة (أ)	
١	نسيج التربة
٢	المورد الطبيعي
٣	عاصفة رملية
٤	إعصار حلزوني
٥	الغيمة

” انتهت الأسئلة ”