



المملكة العربية السعودية  
وزارة التعليم

**أوراق عمل**  
**قياس مهارات**  
**مادة العلوم**  
**الصف الأول الابتدائي**  
**الفصل الأول ١٤٤٤ هـ**

| المشرفة التربوية | مديرة المدرسة | معلمة المادة |
|------------------|---------------|--------------|
| .....            |               |              |



# ورقة مهارة



المهارة : المقارنة بين المخلوقات الحية والأشياء غير الحية وتصنيفها.



: ضعي علامة ( ✓ ) أو علامة ( × ) أمام العبارات التالية :

- تحتاج المخلوقات الحية الى الطعام فقط لكي تعيش . ( )
- يحتاج نبات تباع الشمس الى ضوء الشمس لكي يعيش . ( )
- تعتبر السيارة مخلوق غير حي . ( )

: حددي إن كانت الأشياء التالية مخلوق حي أم غير حي :



الفيل .....



الدراجة .....

الوردة .....

توقيع ولي الأمر :  
.....



المعلمة /  
التوقيع / .....



# ورقة مهارة



المهارة : استنتاج الأجزاء الرئيسية للنبات من خلال قراءة الصور مع ذكر وظيفة كل جزء .



: من خلال الرسم المقابل اذكرى وظيفة كل من :



الأزهار : .....

الأوراق : .....

الساق : .....

الجدور : .....

: ضعى علامة ( ✓ ) أو علامة ( × ) أمام العبارات التالية :

• لا تحتاج النباتات الى الهواء لكى تعيش . ( )

• تختلف أشكال النبات من نبتة الى أخرى . ( )

توقيع ولي الأمر :

.....



المعلمة / سحر الشهري

التوقيع / .....

المادة : علوم  
الصف : الاول

## ورقة مهارة


اسم الطالبة :  
.....



المهارة : تحديد أهمية الأزهار والثمار للنباتات مع تسمية بعض أجزاء النبات التي تؤكل من البيئة المحيطة



: سمى أجزاء النبات المشار إليها في الرسم التالي :



: ضعي علامة ( ✓ ) أو علامة ( × ) أمام العبارات التالية :

١- لا يحتاج نبات المانجو الى الدفاع وضوء الشمس . ( )

٢- تشتهر منطقة جازان في المملكة العربية السعودية بزراعة المانجو. ( )

٣- المانجو نبات جميل ومفيد ولذيذ . ( )

توقيع ولي الأمر :

.....



المعلمة / سحر الشهري

التوقيع / .....





المهارة : تصنيف بذور متنوعة في مجموعات حسب صفاتها ( اللون ، النوع ، الحجم ) وإنبات بعضها عملاً



## صلى كل كلمة بالصورة المناسبة :



بذور التمر



حبوب الذرة



حبوب الفاصولياء



بذور تباع الشمس

ضعي علامة ( ✓ ) أو علامة ( × ) أمام العبارات التالية :

١- البذرة جزء النبات الذي يحمي البذور . ( )

٢- الثمرة جزء النبات الذي ينبت . ( )

٣- تنمو البذرة وتكون نباتاً جديداً . ( )

توقيع ولي الأمر :

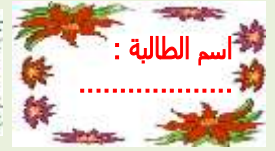
.....



المعلمة / سحر الشهري  
التوقيع / .....



# ورقة مهارة



المهارة :  
المقارنة بين النباتات في بيئات مختلفة.




: ضعي علامة ( ✓ ) أو علامة ( × ) أمام العبارات التالية :

١- نباتات الصحراء لها أجزاء تساعد على الاحتفاظ بالماء . ( )

٢- الغابة مكان بارد وليس به نباتات كثيرة . ( )

٣- لا تستطيع نباتات الغابة العيش في الصحراء . ( )



: حددي البيئة التي يعيش فيها النبات في الصورتين :



.....

.....

توقيع ولي الأمر :

.....



المعلمة / سحر الشهري

التوقيع / .....



المادة : علوم  
الصف : الاول



## ورقة مهارة



اسم الطالبة :  
.....



المهارة : تصنيف الحيوانات حسب أنواعها (ثدييات ، طيور ، زواحف) والمقارنة بين نوعين منها



✍ : صلي بين كل حيوان ونوعه :



طيور

ثدييات

زواحف

: انظري جيدا الى الصورة ثم اكملى مكان النقط :



نوع الحيوان: .....

يعيش فى : .....



نوع الحيوان: .....

يعيش فى : .....

توقيع ولي الأمر :  
.....



المعلمة / سحر الشهري  
التوقيع / .....



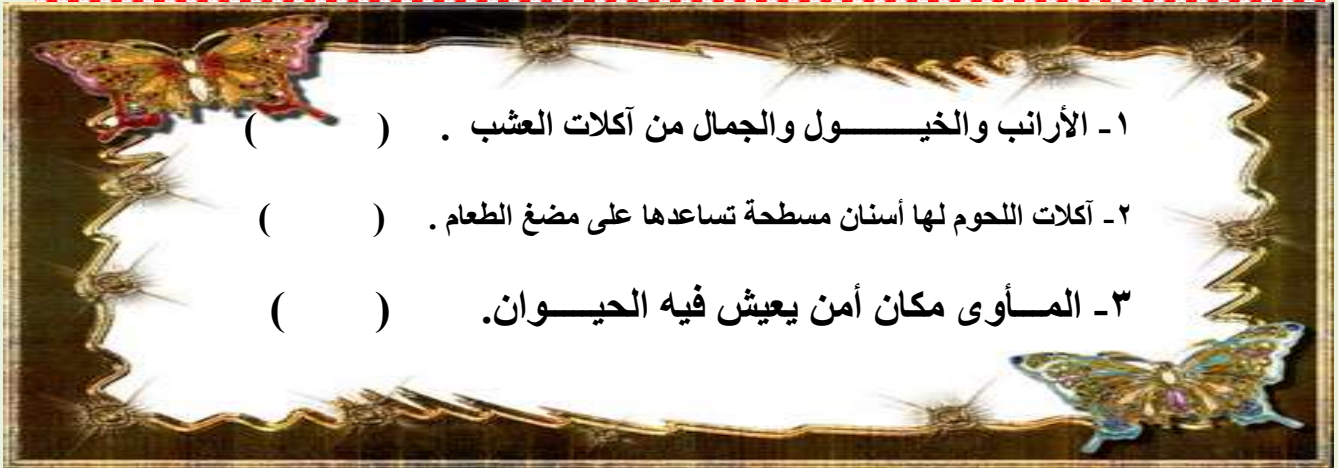
# ورقة مهارة



المهارة : تحديد ما تحتاجه المخلوقات  
الحية لتعيش وتنمو .



ضعي علامة ( ✓ ) أو علامة ( × ) أمام العبارات التالية :



اذكري هل الحيوانات الظاهرة في الصور ( آكلة لحوم أم آكلة عشب ) :



.....

.....

.....

توقيع ولي الأمر :

.....



المعلمة / سحر الشهري  
التوقيع / .....





# ورقة مهارة




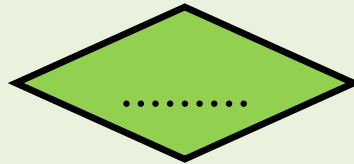
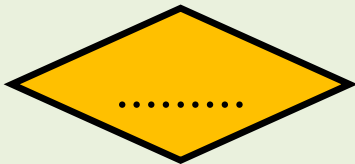
المهارة : تسمية المكان الذي تعيش فيه  
المخلوقات الحية.



ضعي علامة ( ✓ ) أو علامة ( × ) أمام العبارات التالية :

- الموطن هو المكان الذي تعيش فيه المخلوقات الحية . ( )
- تعيش السحالي في المنطقة العشبية . ( )
- المنطقة العشبية هي منطقة واسعة فيها أعشاب كثيرة . ( )

حددي اسم المنطقة التي يعيش فيها كل حيوان مما يلي :



توقيع ولي الأمر :

.....



المعلمة / سحر الشهري  
التوقيع / .....

المادة : علوم  
الصف : الاول

## ورقة مهارة

اسم الطالبة :  
.....



المهارة : وصف مواطن اليابسة والمياه ( مثال  
واحد لكل منها ) وعمل نموذج لموطن بيئي.



ضعي علامة ( ✓ ) أو علامة ( × ) أمام العبارات التالية :

- ١- البحيرة موطن من مواطن المياه العذبة . ( )
- ٢- للسمة ذيل وزعانف تساعد على السباحة . ( )
- ٣- لا يعيش في المحيط أسماك ولا نباتات . ( )

: انظري الى الصورة جيدا ثم أجيبى عن الأسئلة التي تحتها:



ما اسم هذا الموطن : .....

ما الحيوانات التي تعيش فيه : .....

توقيع ولي الأمر :

.....



المعلمة / سحر الشهري  
التوقيع / .....



المادة : علوم  
الصف : الاول

# ورقة مهارة

اسم الطالبة :  
.....



المهارة : ذكر أمثلة لتعايش النباتات والحيوانات  
معاً في المواطن المختلفة .



ضعي علامة ( ✓ ) أو علامة ( × ) أمام العبارات التالية :

١- تعيش الزرافة في الصحراء . ( )

٢- تعيش الأسماك في البحار والمحيطات . ( )

صلي كل صورة بما يناسبها من الكلمات :



الغابة



المنطقة العشبية



الصحراء



البحيرة

توقيع ولي الأمر :

.....



المعلمة / سحر الشهري  
التوقيع / .....