

إختبارات الماهر

في القدرات العامة

(إختبار محوسب)

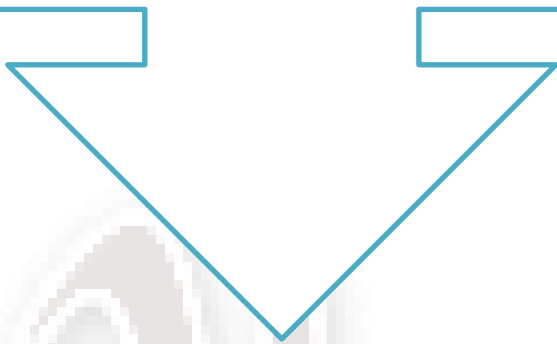
الجزء اللفظي و الكمي

بِسْمِ اللَّهِ الرَّحْمَنِ الرَّحِيمِ

الحمد لله رب العالمين والصلاة والسلام على أشرف الأنبياء وسيد المرسلين سيدنا ﷺ وعلى آله وصحبه أجمعين "" أما بعد....

تقدم لكم سلسلة الماهر (الاختبار الأول) الخاص بالاختبارات المحوسبة كمي ولفظي اسأل الله ان يُنتفع به ... " ولا نريد منكم غير دعوة بظهر الغيب " ،
(وإن أصبنا فلنا أجران ، وإن أخطأنا فلنا أجر).

أولاً: القسم اللفظي



التناظر اللفظي

١	شطط : غلو		
أ- إرهاب : تشبت	ب- تشدد : تطرف	ج- تآني : نجاة	د- سكون : ضجيج

٢	كره : استساغ		
أ- تآني : سلامة	ب- تقدم : تاخر	ج- لبيب : عاقل	د- خصب : جذب

٣	بلح : تمر		
أ- تفاح : عصير	ب- برتقال : حمضيات	ج- خيار : جزر	د- عنب : زبيب

٤	مد : جزر		
أ- شمس : قمر	ب- طويل : قصير	ج- فوق : تحت	د- علم : جهل

٥	حب : خبز		
أ- قصب : سكر	ب- دقيق : قمح	ج- حديد : منزل	د- لوز : مكسرات

٦	كوخ : قصر		
أ- مراهق : طفل	ب- علم : جهل	ج- ثانوي : جامعي	د- جبل : هضبة

٧	لوحة : إطار		
أ- جزيرة : شاطئ	ب- سور : حديقة	ج- خيمة : صحراء	د- رصيف : طريق

إكمال الجمل

١ | يكمن سر تعاسة الإنسان في أنه يطلب و يعطي

أ- أكثر: أقل | ب- الأسهل : الأصب | ج- الأطول : الأقصر | د- الأسوء : الأفضل

٢ | سنوات الكساد عند هي تلك السنوات تنطفئ فيها أنوار العلم والمعرفة

أ- الاعراف : حيث | ب- الامم : التي | ج- الافراد : تدوي | د- الشعوب : تخبو

٣ | حصيلتك الحقيقة لا ماتجعله من بل ماتدرکه من معارف وتكسبه من

أ- ثروات : قشور | ب- هبات : صفصطة | ج- مال : علوم | د- كنوز : عيوب

٤ | الحياة اليومية تعتمد بشكل كبير علي والحياة بدونها تبدو شبه

أ- الكهرباء : مستحيلة | ب- الحركية : ممكنة | ج- ----- | د- -----

٥ | الانترنت ضرورة من ضرورات الحياة بعد ان كان من

أ- صار : احتياجتها | ب- اصبح : ضروريتها | ج- ----- | د- -----

٦ | ليس شجاعا من يطعن الأسد ويهرب من وجه

أ- صدره : الاسد | ب- قفاه : الفأر | ج- قلبه : النمر | د- خاصرته : الذئب

٧ | كلما حساد المرء ، كان ذلك دليل على

أ- زاد : نجاحه | ب- قل : التفوق | ج- ----- | د- -----

الخطأ السياقي

١	نور البدر له تأثيرات ليلية على البحار والمحيطات
أ- البدر	ب- ليلية ج- تأثيرات د- البحار

٢	إن قوة السلسلة تقاس بضعف أضعف حلقاتها
أ- بضعف	ب- السلسلة ج- حلقاتها د- قوة

٣	إن تكون فردا بين الجبناء خير من أن تكون قائدا للجبناء
أ- قائد	ب- الجبناء ج- خير د- فردا

٤	القدم الطويل دلالة على اليد القصيرة
أ- القدم	ب- الطويل ج- اليد د- القصيرة

٥	انظر الى المياه وخذ حكمتها في مسيرتها . فاذا اعترضها مجرى غيرت اتجاهها لغيره
أ- مجرى	ب- المياه ج- مسيرتها د- اتجاهها

٦	اسمع حكمة الغبي حتى لا تندم
أ- حكمة	ب- تندم ج- الغبي د- اسمع

٧	العقل يسلب السلامه ويورث الندامة
أ- السلامة	ب- يورث ج- الندامة د- العقل

استيعاب المقروء

١- الصفدي

ولد الصفدي صلاح الدين خليل أيبك سنة ٧٦٤ هـ وكان أدبه من أفضل اساليب الادب في دهره لا يلتزم السجع كثيرا اذا ترجم للرجال . وشعره كثير وبعضه جيد وأجود ويعد في باب التأليف من المكثرين المجودين . كتب بيده كما قال مايقارب خمسمائة مجلد دخلت في خمسين مصنفا . قال : ولعل الذي كتبه في " ديوان الانشاء " ضعفا ذلك .

١ ولد الصفدي في :			
أ- العقد السابع من القرن السابع	ب- العقد السادس من القرن الثامن	ج- العقد السادس م القرن السابع	د- العقد السابع من القرن الثامن

٢ يفهم من النص أن شعر الصفدي :			
أ- أكثره متميز وأقله أقل تميزا	ب- بعضه متميز وبعضه أكثر تميزا	ج- نصفه متميز	د- أقله متميز

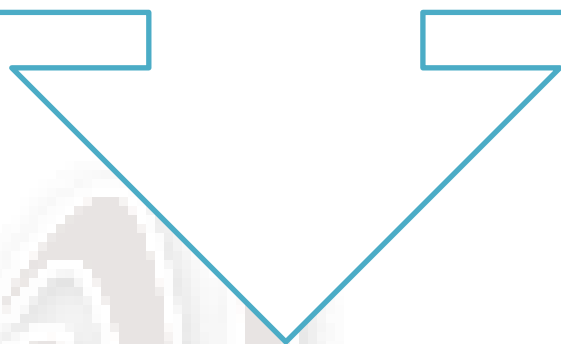
٣ نفهم من سياق النص أن كلمة مجلد وكلمة مصنف			
أ- مترادفان	ب- المجلد أعم من المصنف	ج- المصنف أعم من المجلد	د- المجلد قد يحوي أكثر من المصنف

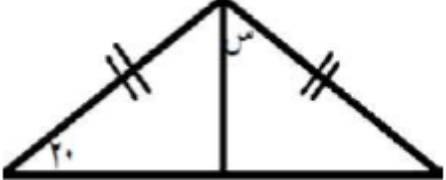
٤ معنى كلمة "دهره" في سياق النص :			
أ- عصر	ب- عالمه	ج- حياته	د- ماضيه


يرجع الضميرين في جملة : شعره وبعضه :			٥
أ- الأول والثاني للصفي	ب- الأول للشاعر والثاني للشعر	ج- الأول والثاني للشعر	د- الأول للشعر والثاني للصفي

انتهى القسم اللفظي

ثانياً: القسم الثاني



				<p>١ أوجد قيمة س ؟</p>
<p>د - ١٠٠</p>	<p>ج - ١٨٠</p>	<p>ب - ٢٣٠</p>	<p>أ - ١٢٠</p>	


				<p>٢ أوجد قياس زاوية ص ؟</p>
<p>د - ٨٦</p>	<p>ج - ٥١</p>	<p>ب - ١٢٩</p>	<p>أ - ٤٣</p>	

<p>٣ إذا كان ص = س فقارن بين</p>		<p>أ - س</p>
<p>ب - ص</p>		

<p>٤ س < ص ، ع < ص فقارن بين</p>		<p>أ - س</p>
<p>ب - ص</p>		

<p>٥ مثلث قائم الزاوية اضلاعه 6 و ٨ و 10 مساحة المستطيل تساوي ضعف مساحة المثلث وكان طول ضلع المستطيل 6 سم احسب محيط المستطيل</p>			
<p>أ - ٢٠</p>	<p>ب - ٢٤</p>	<p>ج - ٣٦</p>	<p>د - ٢٨</p>

<p>٦ يعمل محمد 5 اسابيع فيأخذ 500 ريال و جهاز كمبيوتر بينما اذا عمل 3 اسابيع يأخذ 100 ريال وجهاز كمبيوتر فكم ثمن الجهاز</p>			
<p>أ - ٢٥٠ ريال</p>	<p>ب - ٥٠٠ ريال</p>	<p>ج - ١٠٠ ريال</p>	<p>د - ٤٠٠ ريال</p>

٧	ما النسبة بين المظلل و غير المظلل		
			
أ- ١:٣	ب- ٤:١	ج- ٣:١	د- ٢:١

٨	تنتج 3 بقرات أربعة دلو من الحليب في خمسة أيام, في كم يوم تنتج ستة بقرات ثمانية دلو من الحليب ؟		
أ- ٥	ب- ١٠	ج- ١٥	د- ٢٠

٩	تتحل مادة فيبقى نصف في كل ساعة, إذا كان وزنها عند البداية ٦٤٠, فبعد ٦ ساعات كم يكون زونها ؟		
أ- ١٠	ب- ١١	ج- ٩	د- ٨

١٠	إذا كان اليوم الثلاثاء فقبل ١٧ يوم كان ؟		
أ- السبت	ب- الاحد	ج- الجمعة	د- الاثنين

١١	عددان مجموعهم -٣٠, والفرق بينهم -٦ ما عدد الأكبر ؟		
أ- ١٨	ب- -١٢	ج- ١٢	د- ١٨

١٢	حصل طالب على ١٢٠٠ درجة من ١٥٠٠ درجة, كم نسبته ؟		
أ- ٨٠%	ب- ٩٠%	ج- ٧٠%	د- ٩٥%

١٣	ما العدد الذي إذا أضفنا رבעه إلى ثلثه كان الناتج ١.٥؟		
أ- ١٨٠	ب- ٢٢٠	ج- ١٠٠	د- ٢٠٠

١٤	أسطوانة مملوءة حتى نصفها فإذا أضفنا ٦ لترات أصبحت مملوءة حتى $\frac{3}{2}$ فكم حجم الأسطوانة؟		
أ- ٣٦	ب- ١٨	ج- ١٦	د- ٢٤

١٥	إذا كان أحمد ينجز عمله في ثلاث أيام بمعدل ٥ ساعات لكل يوم فكم يستغرق إذا أراد إنهاءه في يومين؟		
أ- ٧,٥	ب- ١٥	ج- ١٨	د- ١٤

١٦	ما خانة الأحاد للقيمة 2^{100} ؟		
أ- ١	ب- ٣	ج- ٢	د- ٤

١٧	سلم نستطيع عده عشراً عشراً وستاً ستاً وثمانية ثمانية فما أقل عدد من السلالم نستطيع عدها بهذه الطريقة؟		
أ- ٢٤	ب- ٨	ج- ١٠٠	د- ١٢٠

١٨	ما العدد الذي إذا طرحنا ٧ من ثلاث أمثاله كان الناتج ٣٢؟		
أ- ٩	ب- ١٢	ج- ١٣	د- ١٩

١٩	٣ صناديق كل داخله صندوقين صغيرين و في كل صندوق صغير ٤ صناديق، كم عدد الصناديق؟		
أ- ٣٣	ب- ٣٠	ج- ٣٢	د- ٣٤

٢٠	أب لديه ٣ أبناء، الابن الأول يزوره كل ٥ أيام، والثاني كل ٣ أيام، والأخير كل يومين ففي أي يوم سيلتقي الأبناء جميعاً؟		
أ- ٢٠ يوم	ب- ٣٠ يوم	ج- ٤٠ يوم	د- ٦٠ يوم

٢١	يطوف رجل حول الكعبة من بعد ٢٥ م في الشوط، احسب المسافة في ٧ أشواط؟		
أ- ٣٥٠ ط	ب- ٥٠ ط	ج- ١٠٠ ط	د- ٣٦٠ ط

٢٢	عمر أبو محمد ثلاثة أضعاف عمر محمد، إذا كان عمر محمد بعد ١٠ سنوات ٤٠ فما عمر الأب الآن		
أ- ٦٠	ب- ٥٠	ج- ٤٠	د- ٣٠

٢٣	تنتج ٣ بقرات أربعة دلو من الحليب في خمسة أيام، في كم يوم تنتج ستة بقرات ثمانية دلو من الحليب؟		
أ- ٥ أيام	ب- ١٠ أيام	ج- ١٥ يوم	د- ٢٠ يوم

٢٤	إذا كان قطر العجلة = ٦٠ م ، ، كم المسافة التي تقطعها إذا دارت ١٥ دورة ؟		
أ- ٩٠٠ ط	ب- ١٠٠٠ ط	ج- ٨٠٠ ط	د- ٧٠٠ ط

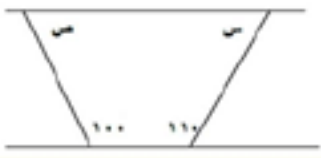
٢٥	م ن ل ج ف عبارة عن مدن بحيث ل تقع شرق م و ن تقع شرق ل و ج جنوب شرق ن و م تقع جنوب شرق ف فأى المدن تقع أقصى الغرب ؟		
أ- م	ب- ن	ج- ج	د- ف

٢٦	حفرة فيها ١٨٠ جهاز في كل ١٢ جهاز يوجد ٤ أجهزة فاسدة أوجد عدد الأجهزة الصالحة ؟		
أ- ١٢٠	ب- ١٠٠	ج- ٢٠	د- ١١٠

٢٧	قارن بين:
أ- أكبر عامل اولي للعدد ٦٥	ب- ١١

٢٨	إذا كان اضلاع مستطيل = ٩ ، ٤ ومساحته = مساحه المربع فاوجد ضلع هذا المربع		
أ- ٣	ب- ٤	ج- ٥	د- ٦

٢٩	في الشكل المقابل أوجد س + ص		
أ- ١٥٠	ب- ٢٢٠	ج- ٢١٠	د- ١٤٠



انتهى القسم الكمي

وَبِحَمْدِ اللَّهِ وَأَمْرِ اللَّهِ
وَأَمْرِ اللَّهِ وَأَمْرِ اللَّهِ

تم الإنتهاء من (سلسلة إختبارات الماهر) الإختبار الأول

نسأل الله ان يرفع به ويجعله خالصاً لوجه الكريم

ولا نريد منكم غير دعوة بظهر الغيب لكل من قام على هذا العمل

وَأَمْرِ اللَّهِ وَأَمْرِ اللَّهِ وَأَمْرِ اللَّهِ
وَأَمْرِ اللَّهِ وَأَمْرِ اللَّهِ وَأَمْرِ اللَّهِ