



اسم المادة	مبادئ الاقتصاد الجزئي
رقم النسخة	نسخة (٢)
الكلية	كلية إدارة الأعمال
المستوى	الأول
نوع التعليم	تعليم عن بعد
السنة الدراسية	1437 – 1438
نوع الملخص	تجميع أسئلة الواجب والاختبار من قبل طلاب وطالبات الكلية
تنفيذ	منسقي مجموعة VIP

إعداد: أروى غالب
 بمساعدة: موضي المالكي
 تدقيق: هداية النعمان
 متابعة: محمد قربان



جامعة طيبة
 TAIBAH UNIVERSITY

مجموعة VIP

هي مجموعة لتجمع طلاب وطالبات كلية إدارة الأعمال - تعليم عن بعد
 للمناقشة والإستفادة والتعلم والتعليم في المجال الدراسي والعلمي والعملية
 وتم إنشاء المجموعة بالتعاون مع زملاء وزميلات الكلية
 للإستفسار: MuhamadQurban@gmail.com

ما الجديد في هذه النسخة ...!

- 1- هذه النسخة معدلة للنسخة الأولى .
- 2- تأكد أن النسخة التي معك نسخة رقم (2) من صفحة الغلاف.
- 3- في حال وجود تحديثات جديده يتم افادتكم في مجموعة VIP.
- 4- الأجوبة كلها صحيحة بنسبة 99%.
- 5- الملخص لا يغني عن المذاكرة من الكتاب.
- 6- تم جمع الأسئلة من البلاك بورد.

فريق إشراف مجموعة VIP

تجمع طلاب وطالبات كلية إدارة الأعمال

لا تنسونا من صالح دعائكم

تجميع أسئلة مادة مبادئ الاقتصاد الجزئي		
١	السؤال	إذا كانت (MC) متزايد مع زيادة حجم الانتاج، فيجب أن تكون :
	الجواب	AVC متزايدة.
٢	السؤال	في حالة شراء عدة سلع يتحقق توازن المستهلك عندما تتساوى نسبة المنفعة الحدية إلى السعر لجميع السلع
	الجواب	خطأ
٣	السؤال	تؤدي زيادة الدخل إلى انتقال <u>خط الميزانية</u> إلى الخارج (بمعنى آخر إلى اليمين)
	الجواب	صح
٤	السؤال	منحنى المنفعة الحدية يصير سالباً بعد نقطة الإشباع.
	الجواب	صح
٥	السؤال	المنفعة الحدية المضحي بها = سعر الوحدة من السلعة P × منفعة الريال
	الجواب	صح
٦	السؤال	لا يستطيع المستهلك الحصول على المجموعات السلعية الواقعة خارج ميزانيته إلا إذا زاد دخله .
	الجواب	صح
٧	السؤال	يؤدي تغير سعر السلعة إلى انتقال خط الميزانية بالكامل إلى موقع جديد.
	الجواب	خطأ
٨	السؤال	تغير الأسعار النسبية لا يؤثر على ميل خط الميزانية.
	الجواب	خطأ
٩	السؤال	المنفعة الحدية المضحي بها هي منفعة الوحدة الأخيرة التي يشتريها المستهلك
	الجواب	خطأ
١٠	السؤال	تؤدي زيادة الدخل النقدي إلى الانتقال إلى منحنى سواء أعلى.
	الجواب	خطأ (التصحيح ينتقل خط الميزانية لليمين وليس المنحنى)

١١	السؤال	إذا كانت المنفعة الحدية للوحدة تساوي صفراً فإن هذا يعني أن المنفعة من استهلاك هذه الوحدة تساوي صفراً
	الجواب	صح
١٢	السؤال	هدف المستهلك هو تعظيم المنفعة الكلية المكتسبة .
	الجواب	خطأ (التصحيح هدفه تعظيم المنفعة الكلية الصافية)
١٣	السؤال	المنفعة الكلية تزايد ولكن بمعدل متناقص.
	الجواب	صح
١٤	السؤال	لن يستهلك المستهلك أي وحدة من السلعة إذا كانت منفعتها موجبة.
	الجواب	خطأ
١٥	السؤال	تختلف قيمة المنفعة من مستهلك إلى آخر لنفس السلعة.
	الجواب	صح
١٦	السؤال	تغير الدخل النقدي وتغير الأسعار بنفس النسبة لا يؤثر على خط الميزانية.
	الجواب	صح
١٧	السؤال	مصطلح المستهلك الرشيد يشير إلى الفرد الذي ينفق أقل ما يمكن على شراء السلع المختلفة.
	الجواب	خطأ
١٨	السؤال	المجموعات السلعية المحصورة بين نقطة الأصل وخط الميزانية لا يستطيع المستهلك الحصول على أي منها.
	الجواب	خطأ
١٩	السؤال	تعبير خريطة التفضيل عن تفضيلات المستهلك وادواقه فقط.
	الجواب	صح
٢٠	السؤال	يتحقق توازن المستهلك عند تقاطع خط الميزانية مع منحنى السواء.
	الجواب	خطأ
٢١	السؤال	عندما تزيد المنفعة الكلية فان المنفعة الحدية تكون موجبة ومتناقصة.
	الجواب	صح

٢٢	السؤال	وصول المنفعة الحدية إلى الصفر تعني وصول المستهلك إلى درجة الإشباع.
	الجواب	صح
٢٣	السؤال	أقصى كمية يستطيع المستهلك شراءها من السلعة يساوي الدخل النقدي مقسوماً على سعر السلعة.
	الجواب	صح
٢٤	السؤال	تصل المنفعة الكلية إلى أعلى قيمة لها عندما تصل المنفعة الحدية إلى الصفر.
	الجواب	صح
٢٥	السؤال	إذا كانت عناصر الإنتاج بنسبة ١٠% وأدى ذلك إلى زيادة الإنتاج بنسبة ٥% فإنه يطلق على هذه الحالة
	الجواب	تناقص غلة الحجم.
٢٦	السؤال	إذا زادت عناصر الإنتاج بنسبة ١٠% وأدى ذلك إلى زيادة الأرباح بنسبة ٢٠%
	الجواب	تزايد غلة الحجم.
٢٧	السؤال	واحد مما يلي يتناقض باستمرار مع تزايد الانتاج :
	الجواب	AFC.
٢٨	السؤال	توضح خريطة منحنيات سواء الإنتاج :
	الجواب	دالة الإنتاج.
٢٩	السؤال	عندما يصل الناتج الكلي إلى أقصى قيمة له في الأجل القصير يكون الناتج الحدي للعنصر المتغير:
	الجواب	مساوياً للصفر.
٣٠	السؤال	نصل إلى مرحلة تناقص الغلة عندما تحقق وحدة اضافية من عنصر الإنتاج المتغير:
	الجواب	إضافة إلى حجم الانتاج الكلي تقل عما اضافته الوحدة السابقة عليها
٣١	السؤال	يعرف الأجل الطويل على أنه:
	الجواب	الأجل الذي لا توجد فيه عناصر إنتاج ثابتة.
٣٢	السؤال	يقيس خارج قسمة الانتاج الكلي على عدد وحدات عنصر الانتاج المتغير
	الجواب	الناتج المتوسط.

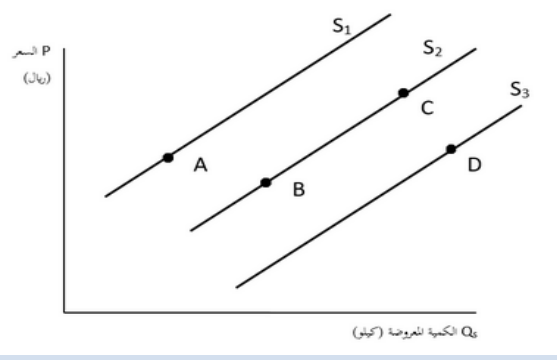
٣٣	السؤال	عندما تكون $MC = AVC$ فإن AVC تكون .
	الجواب	عند أدنى قيمة لها.
٣٤	السؤال	تعبّر دالة الانتاج عن العلاقة بين :
	الجواب	الكمية المستخدمة من خدمات عناصر الانتاج وحجم الانتاج.
٣٥	السؤال	مع تزايد حجم الانتاج فإن التكاليف المتوسطة الثابتة (AFC)
	الجواب	تتناقص.
٣٦	السؤال	تبدأ دالة التكاليف الكلية في الأجل الطويل من
	الجواب	نقطة الأصل.
٣٧	السؤال	التغير في التكاليف الكلية نتيجة تغير الانتاج بوحدة واحدة يعرف بـ
	الجواب	التكاليف الحدية.
٣٨	السؤال	يطلق على التكاليف التي تأخذ بالاعتبار تكلفة الفرصة البديلة
	الجواب	التكاليف الاقتصادية.
٣٩	السؤال	في الأجل القصير يتزايد الناتج الكلي في البداية بمعدل
	الجواب	متزايد.
٤٠	السؤال	يطلق على المدفوعات النقدية الفعلية التي تتحملها المنشأة مقابل خدمات عناصر الإنتاج
	الجواب	التكاليف المحاسبية.
٤١	السؤال	الهدف الرئيسي للمنشأة هو :
	الجواب	تعظيم الأرباح.
٤٢	السؤال	تكون بعض عناصر الانتاج ثابتة وبعضها متغيراً في :
	الجواب	الفترة القصيرة.
٤٣	السؤال	عند رسم دوال التكاليف في الاجل القصير فإن الدالة التي تبدأ من نقطة الأصل هي:
	الجواب	التكاليف المتغيرة.
٤٤	السؤال	إذا كانت التكلفة الحدية متزايدة بعد أن وصلت إلى أدناها فهذا يعني أن :

	الجواب	كل ما سبق أي (يكون المشروع خاضعاً للعمل في ظروف تناقص العلة، الناتج الكلي يزيد بمعدل متناقص، الناتج الحدي يكون متناقص).
٤٥	السؤال	ينتقل خط سواء التكاليف موازياً لنفسه إلى أعلى في حالة :
	الجواب	ارتفاع الانفاق الكلي على عناصر الإنتاج.
٤٦	السؤال	يتقاطع منحني الانتاج الحدي والناتج المتوسط عندما يصل
	الجواب	الناتج المتوسط إلى أقصاه.
٤٧	السؤال	إذا كانت الظاهرة الاقتصادية تتكون من عشرة متغيرات و العلاقات بينها على عدة مستويات فإن أفضل أسلوب لشرح الظاهرة و تحليلها هو :
	الجواب	الأسلوب الرياضي.
٤٨	السؤال	إذا كانت مرونة العرض = ٠.٤٥ . فهذا يعني أن:
	الجواب	السلعة سريعة التلف.
٤٩	السؤال	تختلف السلع الرأسمالية عن عنصر العمل في أن :
	الجواب	العملية الإنتاجية قد تؤدي الى الحصول على سلع إنتاجية جديدة.
٥٠	السؤال	القضايا الخاصة بالبطالة تدرس ضمن موضوعات :
	الجواب	الاقتصاد الكلي.
٥١	السؤال	إذا كانت مرونة الطلب الداخلية تساوي ١.٥ نستنتج أن :
	الجواب	السلعة كمالية.
٥٢	السؤال	التغير في العرض يعني:
	الجواب	انتقال منحني العرض نحو اليمين او اليسار.
٥٣	السؤال	من معايير تقييم النظم الاقتصادية :
	الجواب	النمو و توزيع الدخل و الاستقرار الاقتصادي.
٥٤	السؤال	يقصد بالاقتصاد الواقعي وصف ما هو كائن فعلا اما الاقتصاد المثالي فيعني ...
	الجواب	ما يجب ان يكون.
٥٥	السؤال	في المدى (الأجل) الطويل بالنسبة للمنشأة

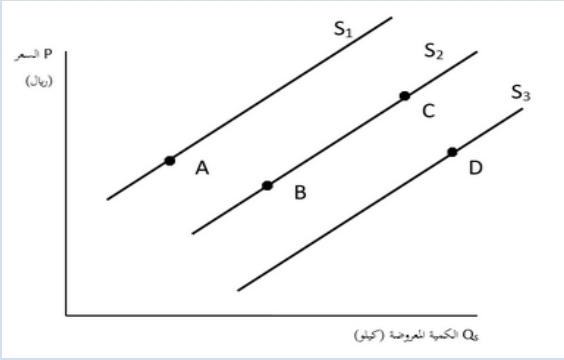
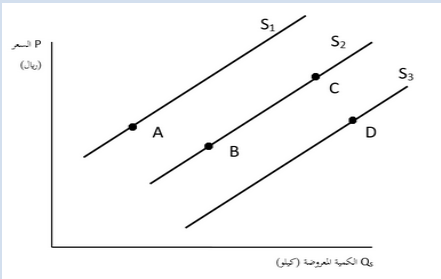
	الجواب	لا يوجد تكاليف ثابتة للإنتاج .
٥٦	السؤال	منحنى الطلب هو التمثيل البياني ...
	الجواب	للكمية المطلوبة عند الأسعار المختلفة مع ثبات العوامل الأخرى.
٥٧	السؤال	من آثار ضرائب الدخل على السوق...
	الجواب	ينتقل منحنى الطلب يساراً.
٥٨	السؤال	إذا كانت مرونة الطلب السعرية على سلعة تساوي صفرًا فإن منحنى الطلب يكون...
	الجواب	عمودياً على المحور الأفقي (محور الكميات).
٥٩	السؤال	إذا كانت المرونة السعرية للطلب على حضور مباريات كرة القدم (بالقيمة المطلقة) تساوي ٠.٧٨٢ فإن ...
	الجواب	زيادة أسعار التذاكر سوف تزيد الإيراد الكلي.
٦٠	السؤال	الفرق بين السلعة و الخدمة هو أن :
	الجواب	شراء السلعة يتضمن انتقال ملكية شيء مادي إلى المشتري.
٦١	السؤال	تؤدي زيادة دخل المستهلك إلى :
	الجواب	انتقال منحنى الطلب إلى اليمين.
٦٢	السؤال	من آثار فرض ضريبة نوعية على المبيعات :
	الجواب	أن تنخفض كمية التوازن.
٦٣	السؤال	عندما تمنح الدولة إعانات لصناعة التمور المجففة فإن ذلك يؤدي إلى :
	الجواب	زيادة عرض التمور المجففة عند نفس السعر، وانتقال منحنى العرض لليمين.
٦٤	السؤال	إذا اتخذ كل من منحنى الطلب والعرض شكله الطبيعي فإنه يلزم عند أي سعر أكبر من سعر التوازن أن تكون:
	الجواب	الكمية المعروضة أكبر من الكمية المطلوبة.
٦٥	السؤال	يمكن تعريف الاقتصاد بأنه :
	الجواب	دراسة تخصيص الموارد النادرة على استخداماتها المختلفة.
٦٦	السؤال	لا تشتمل الدراسة الاقتصادية على :

	الجواب	عدم قيام بعض العاملين بأداء واجباتهم بأمانة.
٦٧	السؤال	إذا كانت سيارة تويوتا بديلة لسيارة نيسان فإن ارتفاع سعر سيارة تويوتا يؤدي إلى :
	الجواب	ارتفاع الطلب على سيارة نيسان.
٦٨	السؤال	ليس من بين الأسئلة الاقتصادية الأساسية التي تواجه المجتمع :
	الجواب	من ينتج؟
٦٩	السؤال	زيادة العرض مع ثبات الطلب ينتج عنها التغيرات التالية في سعر التوازن وكمية التوازن :
	الجواب	انخفاض السعر وارتفاع الكمية.
٧٠	السؤال	انتقال منحنى الطلب إلى أعلى مع ثبات منحنى العرض ينتج عنه التغيرات التالية في سعر التوازن وكمية التوازن :
	الجواب	ارتفاع كلاً من السعر والكمية.
٧١	السؤال	عندما تكون مرونة الطلب السعرية لا نهائية فإن :
	الجواب	منحنى الطلب يكون موازياً لمحور الكميات.
٧٢	السؤال	يعكس منحنى إمكانيات الإنتاج :
	الجواب	الندرة والاختيار وتكلفة الفرصة البديلة.
٧٣	السؤال	ادرس الشكل التالي لمنحنيات العرض من سلعة معينة في السوق وأجب عن السؤال :
	الجواب	الانتقال من D إلى A قد ينتج عن ...
	الجواب	تدهور المستوى الفني في الإنتاج.
٧٤	السؤال	لا ينتقل منحنى عرض القمح نحو اليسار إذا :
	الجواب	انخفض سعر القمح .

٧٥	السؤال	النقص في الطلب والعرض معا في السوق يؤدي إلى :
	الجواب	نقص كمية التوازن .
٧٦	السؤال	مرونة الطلب بين كميات عصير البرتقال وأسعار عصير التفاح :
	الجواب	مرونة تقاطعيه موجبة .
٧٧	السؤال	مرونة العرض تساوي الواحد الصحيح إذا كان :
٧٨	الجواب	منحنى العرض خطا منبثقا عن نقطة الأصل .
	السؤال	وفقاً للمفهوم الاقتصادي يعتبر الهواء الجوي مورداً :
٧٩	الجواب	حرراً .
٨٠	السؤال	يعبر منحنى العرض عن :
	الجواب	الكميات من السلعة التي يقرر المنتجون عرضها عند الأسعار المختلفة في فترة معينة
٨١	السؤال	قانون الطلب يعبر عن :
	الجواب	العلاقة العكسية بين الكمية المطلوبة والسعر .
٨٢	السؤال	إذا ارتفع سعر السلعة (س) وترتب على هذا زيادة الطلب على السلعة (ص) فهذا يعني أن :
	الجواب	السلعتين بديلتان .
٨٣	السؤال	ادرس الشكل التالي لمنحنيات العرض من سلعة معينة في السوق وأجب عن السؤال :
	الجواب	الانتقال من نقطة B إلى نقطة C يرجع إلى : ارتفاع في سعر السلعة .
٨٤	السؤال	قيام شركة إنتاج للعصير بحملة إعلانية عن الفوائد الصحية للعصير ، هذا قد يؤدي إلى :
	الجواب	زيادة الطلب على العصير .

٨٥	السؤال	يتغير السعر التوازني في الحالة الآتية :
	الجواب	إذا تغير الطلب أو العرض .
٨٦	السؤال	ادرس الشكل التالي لمنحنيات العرض من سلعة معينة في السوق وأجب عن السؤال : 
	الجواب	قيام الحكومة بفرض ضريبة على المنتجين يؤدي إلى : الانتقال من A إلى B
٨٧	السؤال	سعر التوازن هو :
	الجواب	الذي يتحدد عند تقاطع منحنى العرض ومنحنى الطلب .
٨٨	السؤال	حالة التوظيف الكامل :
	الجواب	لا توجد في معظم دول العالم .
٨٩	السؤال	تمثل نقطة تماس خط سواء التكاليف مع أحد منحنيات سواء الإنتاج :
	الجواب	لا شيء مما ذكر
٩٠	السؤال	من مقومات النظام الاقتصادي الاشتراكي :
	الجواب	التخطيط المركزي الشامل .
٩١	السؤال	ابتكار تقنية حديثة لإنتاج المكيفات بتكلفة أقل يؤدي إلى :
	الجواب	زيادة العرض من المكيفات وانتقال منحنى العرض يمينا .
٩٢	السؤال	يمكن زيادة إمكانات الإنتاج في المجتمع عن طريق :
	الجواب	زيادة إنتاج السلع الرأسمالية .
٩٣	السؤال	سياسة وضع حد أدنى للسعر :
	الجواب	تساعد المنتجين لسلع معينة أن يحصلوا على عائد مجزي .

السؤال	٩٤	السؤال ماذا نتج ؟ يتم الإجابة عليه في ظل النظام الاقتصادي الرأسمالي من خلال :
الجواب		نظام السوق .
السؤال	٩٥	الموضوع التالي يدخل ضمن نطاق الاقتصاد الجزئي :
الجواب		ارتفاع سعر نوع من الأرز المستورد .
السؤال	٩٦	إذا صاحب ارتفاع أثمان تذاكر النقل الجوي انخفاض الإيرادات الكلية لمؤسسة الخطوط الجوية السعودية كان معنى ذلك أن الطلب على خدمات النقل الجوي :
الجواب		مرن .
السؤال	٩٧	إذا كان المستهلك يعتبر السلعة (أ) بديلة للسلعة (ب) فهذا يعني أن :
الجواب		كلتا السلعتين تحقق نفس النوع من المنفعة
السؤال	٩٨	ادرس الشكل التالي لمنحنيات العرض من سلعة معينة في السوق وأجب عن السؤال :
		الانتقال من نقطة A إلى نقطة B يسمى:
الجواب		تغيراً في العرض .
السؤال	٩٩	تسمى تكاليف عناصر الإنتاج التي لا تتأثر بحجم الإنتاج بـ :
الجواب		التكاليف الثابتة .
السؤال	١٠٠	تعرف التكاليف الحدية (MC) على أنها :
الجواب		التغير في التكاليف الكلية الناتج عن تغير الإنتاج بوحدة واحدة .
السؤال	١٠١	إذا كانت مرونة الطلب الداخلية تساوي ٠.٧٥ نستنتج أن :
الجواب		السلعة ضرورية .
السؤال	١٠٢	من العوامل التي تؤدي إلى زيادة الطلب على السلعة :

	الجواب	ازدياد عدد المستهلكين .
١٠٣	السؤال	يكون الناتج الكلي متزايدا بمعدل متناقص عندما يكون الناتج الحدي :
	الجواب	متناقصاً .
١٠٤	السؤال	إذا أدى ارتفاع الدخل إلى انخفاض الطلب على سلعة معينة فهذا يدل على أن :
	الجواب	السلعة دنيا.
١٠٥	السؤال	ادرس الشكل التالي لمنحنيات العرض من سلعة معينة في السوق وأجب عن السؤال :
		 <p>زيادة العرض يمثل بيانيا بما يلي ...</p>
	الجواب	الانتقال من C إلى D
١٠٦	السؤال	عند سعر معين ، الكمية التي يرغب المستهلكون في شرائها تفوق الكمية التي يرغب المنتجون في عرضها ، لذلك نقول إن هذا السعر :
	الجواب	أقل من سعر التوازن .
١٠٧	السؤال	فرد يملك ١٠٠٠٠ ريال عرض عليه ٣ بدائل لاستثمار ماله : الأول يحقق عائد ١٠% سنويا ، والثاني ١٨% ، ما تكلفة الفرصة البديلة لاحتفاظ هذ الشخص بالمبلغ في خزانة بيته لمدة سنة ؟
	الجواب	٢٠٠٠ ريال .
١٠٨	السؤال	نتوقع أن مرونة الطلب بين سعر البنزين وعدد السيارات المباعة ...
	الجواب	مرونة تقاطعيه سالبة .
١٠٩	السؤال	ادرس الشكل التالي لمنحنيات العرض من سلعة معينة في السوق وأجب عن السؤال :
		

		الانتقال من نقطة D إلى نقطة A قد ينتج عن ...
	الجواب	تدهور المستوى الفني في الإنتاج
١١٠	السؤال	يطلق على (ندرة الموارد الاقتصادية وتعدد الحاجات البشرية)
	الجواب	المشكلة الاقتصادية
١١١	السؤال	من مقومات النظام الرأسمالي :
	الجواب	الملكية الخاصة
١١٢	السؤال	يعرف طلب المستهلك بـ:
	الجواب	الكميات من السلعة التي يكون المستهلك على استعداد لشراؤها وقادر على ذلك عند الأسعار المختلفة خلال فترة زمنية محددة.
١١٣	السؤال	ارتفاع أسعار المشتقات النفطية قد يؤدي إلى :
	الجواب	انتقال منحنى الطلب على السيارات إلى اليسار
١١٤	السؤال	الظاهرة التي تحكم دالة الإنتاج في الأجل الطويل هي :
	الجواب	ظاهرة غلة الحجم .
١١٥	السؤال	أي من العوامل التالية لا يؤدي إلى زيادة عرض القمح :
	الجواب	ارتفاع سعر القمح.
١١٦	السؤال	ينص قانون العرض على أن انخفاض سعر سلعة ما يؤدي إلى :
	الجواب	نقص الكمية المعروضة.
١١٧	السؤال	ارتفاع سعر التوازن لسلعة ما قد ينتج عن :
	الجواب	انتقال منحنى الطلب جهة اليمين.
١١٨	السؤال	تحديد الحكومة لحد أدنى فعال لسعر سلعة ما :
	الجواب	يسبب فائضاً في العرض.
١١٩	السؤال	تحديد الحكومة لحد أقصى لسعر سلعة ما :
	الجواب	يؤدي إلى وجود فائض طلب وتضطر الحكومة إلى توزيع السلعة بالبطاقات.

١٢٠	السؤال	يكون الطلب عديم المرونة إذا :
	الجواب	لم يؤدي تغير السعر إلى أي تغير مقابل له في الكمية المطلوبة.
١٢١	السؤال	تتغير مرونة العرض السعرية مع ثمن السلعة في حالة منحى العرض غير الخطي :
	الجواب	عكسياً.
١٢٢	السؤال	الناتج المتوسط (AP) هو عبارة عن :
	الجواب	١- $TP = AP \setminus L$ ٢- $MP = AP \setminus L$ ٣- $TP = AP \setminus MP$ ٤- لا شيء مما سبق (الرجاء التأكد من الاجابة)

ملاحظات:

- تم تجميع الأسئلة بالتعاون مع طلاب وطالبات كلية إدارة الأعمال.
 - تم استخراج الأسئلة من نظام البلاك بورد.
 - جميع الاجابات صحيحة بنسبة ٩٩%.
 - كل ما في الملخص اجتهادات من منسقي المجموعة وليس لدكتور المادة أي علاقة بها.
 - يمكنك الاستفادة من الملخص للمراجعة وتثبيت المعلومة.
 - الملخص لا يغني عن مذاكرة الكتاب أبداً.
 - هذا العمل تطوعي من اجل استفادة الجميع ونخلي مسؤوليتنا من أي اخطاء غير مقصودة.
- في حال وجود ملاحظة أو استفسار أو اقتراح راسلنا عبر : MuhamadQurban@gmail.com

فريق منسقي مجموعة VIP :

ولاء الأحمدي، أروى غالب، لemy الصيادي، هداية النعمان، رشا مشعل، نواف الجابري،
مروة محمد، حنان سلطان ، موضي المالكي، شهد الأحمدي، بيان أحمد، شهد أبو القاسم،
هاشم عويضة، عبدالرحيم عتيق، حسين السقاف، أحمد صفوت، أحلام عوض،
رزان جابر، هند الحطامي، نسرين نور.

متابعة وتنظيم :

محمد قربان – أروى غالب

لا تنسونا من صالح دعائكم