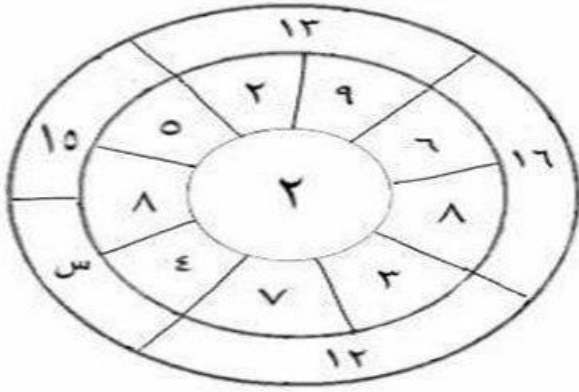


كمي



أوجد قيمة س ؟

11 (ب)

10 (أ)

22 (د)

14 (ج)

Sa444ad



Qodort



قناة قدرات
للجامعيين

كمي

$$(5+7+2) \div 7 = ?$$

2 (ب)

1/2 (أ)

1 (د)

2/7 (ج)

Sa444ad



Qodort



قناة قدرات
للجامعيين

كمي

قارن بين :

$$\frac{1}{2}$$

القيمة الأولى

$$\frac{1}{16} + \frac{1}{9}$$

القيمة الثانية

(أ) القيمة الأولى أكبر من الثانية (ب) القيمة الثانية أكبر من الأولى

(د) لا يمكن التحديد

(ج) القيمتان متساويتان

Sa444ad



Qodort



قناة قدرات
للجامعيين

كمي

إذا كان s أقل من 5

قارن بين :

$$s^2 + 5$$

القيمة الأولى

$$s - 5$$

القيمة الثانية

(ب) القيمة الثانية أكبر من الأولى

(أ) القيمة الأولى أكبر من الثانية

(د) لا يمكن التحديد

(ج) القيمتان متساويتان

Sa444ad



Qodort



قناة قدرات
للجامعيين

كمي

إذا كان -س- ص > -1

قارن بين :

س + ص

1

القيمة الأولى

القيمة الثانية

(ب) القيمة الثانية أكبر من الأولى

(أ) القيمة الأولى أكبر من الثانية

(د) لا يمكن التحديد

(ج) القيمتان متساويتان

Sa444ad



Qodort



قناة قدرات
للجامعيين

كمي

السؤال التالي يتعلق بالجدول أدناه :

عدد السياح الزائرين لأهم الدول السياحية
بالملايين لعامي ١٩٩٧م و ٢٠٠٧م :

الدول	١٩٩٧م	٢٠٠٧م
الولايات المتحدة	٤٠	١٥
اسبانيا	٣٠	٢٧
فرنسا	٤١	٣٥
اليونان	٢٥	٢٧
ماليزيا	١٢	١٨
تايلاند	٢٠	٢٥
استراليا	١٠	١٥
بريطانيا	٣٠	١٥
النمسا	٥	٩

تدني النسبة في السياحة
في دولة اسبانيا يعبر عنه بـ ؟

١٧% (ب)

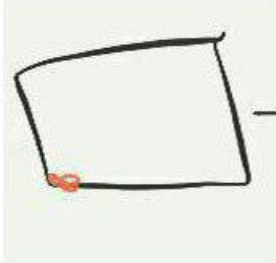
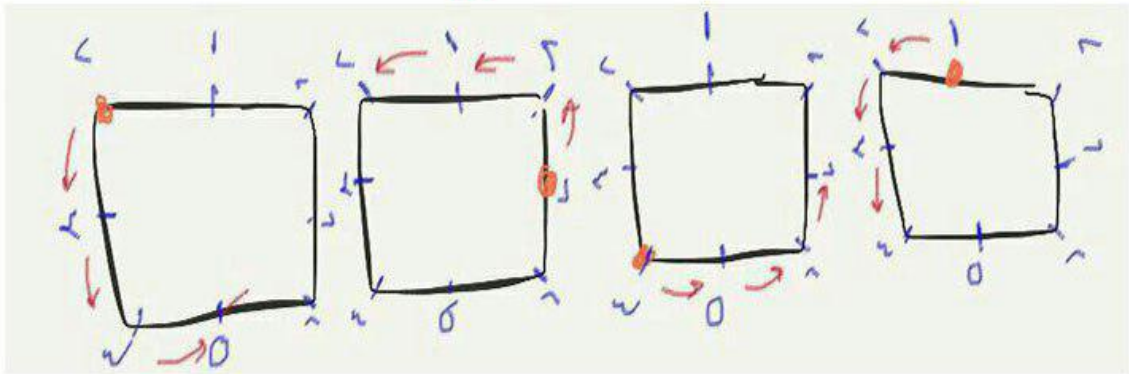
٢٧% (أ)

١٣% (د)

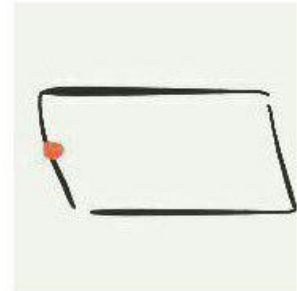
١٠% (ج)

كمي


ما الشكل التالي ؟



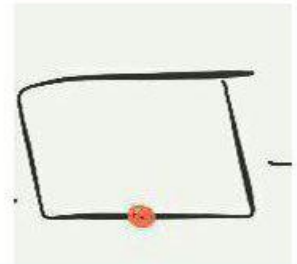
(ب)



(أ)



(د)



(ج)

كمي

احسب ناتج جمع الاعداد

$$96 + 97 + 98 + 99 + 100 + 101 + 102 + 103 + 104 = ?$$

900 (ب)

700 (أ)

800 (د)

1000 (ج)

Sa444ad



Qodort



قناة قدرات
للجامعيين

كمي

قارن بين :

$$\frac{0.600}{0.020}$$

القيمة الأولى

$$\frac{0.29}{0.001}$$

القيمة الثانية

(أ) القيمة الأولى أكبر من الثانية (ب) القيمة الثانية أكبر من الأولى

(د) لا يمكن التحديد

(ج) القيمتان متساويتان

Sa444ad



Qodort



قناة قدرات
للجامعيين

كمي

7 علب بلاستيكية و 11 قطع معدنية

قارن بين :

تراكم العلب البلاستيكية 30 يوم	القيمة الأولى
تراكم القطع المعدنية 20 يوم	القيمة الثانية

(أ) القيمة الأولى أكبر من الثانية (ب) القيمة الثانية أكبر من الأولى

(د) لا يمكن التحديد

(ج) القيمتان متساويتان

Sa444ad



Qodort



قناة قدرات
للجامعيين

لفظي

(الخطأ السياقي)

الاسلام (يرسي) القيم و الاخلاق للفرد و يتضح ذلك
في ... و (بته) للوضوح و (تسخير) المداهنه لانها مرض
عضال تفسد المجتمعات

(ب) بته

(أ) يرسى

(د) —

(ج) تسخير

الخطا تسخير لان المداهنه مرض و هو يظهر عكس ما يبطن ف كيف الاسلام يسخرها

Sa444ad



Qodort



قناة قدرات
للجامعيين

لفظي

(الخطأ السياقي)

رأى محمد في الشبكة (العنكبوتية) صور لاماكن السياحية
في بلده ولكنه (تحسر) لانه لا يستطيع الذهاب
هناك (لصغر) سنه وبعدها عن (خياله) بالعزيمه والصبر

(ب) تحسر

(أ) العنكبوتية

(د) خياله

(ج) صغر

Sa444ad



Qodort



قناة قدرات
للجامعيين

لفظي

(الخطأ السياقي)

امشي إلى (أهدافك) بخطوات (حثيثه) و(فل) عضديك
بالعزيمة والصبر

(ب) حثيثه

(أ) أهدافك

(د) _____

(ج) فل

التصحيح : شد

Sa444ad



Qodort



قناة قدرات
للجامعيين