

المملكة العربية السعودية  
وزارة التعليم  
إدارة التعليم بمحافظات عسير  
مدرسة الكسائي الابتدائية



الدرجة: \_\_\_\_\_

توقيع ولي الأمر:

### اختبار تجريبي للفترة الثانية الفصل الدراسي الثالث ١٤٤٤ هـ

اسم الطالب: ..... المادة: رياضيات الصف: الأول الابتدائي

السؤال الأول : اكمل العد بالقفز .

٥ ، ١٠ ، ١٥ ، ..... ، .....

١٠ ، ٢٠ ، ٣٠ ، ..... ، .....

السؤال الثاني : ( أ ) جد نواتج عمليات الجمع التالية :

$$= ٤ + ٦$$

$$= ١ + ٧$$

$$= ٤ + ٥$$

( ب ) جد نواتج عمليات الطرح التالية :

$$= ٣ - ٥$$

$$= ٢ - ٦$$

$$= ٤ - ٩$$

( ج ) اكتب أرقام الآحاد والعشرات في الأعداد التالية :

$$٦٥ = \text{..... آحاد} + \text{..... عشرات}$$

$$٧٤ = \text{..... آحاد} + \text{..... عشرات}$$

السؤال الثالث : ( أ ) قارن بين الأعداد التالية:

$$٢٥ \bigcirc ٢٢$$

$$٢٩ \bigcirc ١٤$$

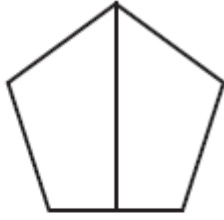
$$٤٤ \bigcirc ٧٢$$

$$١٥ \bigcirc ١٥$$

( ب ) اكتب الأعداد من ٣٤ إلى ٤٣ بالترتيب

٤٣ ، ، ، ، ، ، ، ، ، ، ٣٤

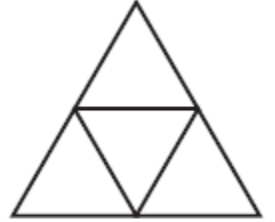
السؤال الرابع : لون جزءا واحدا من الأشكال المتطابقة ، وضع دائرة على الكسر الذي يمثله



$$\frac{1}{4} \quad \frac{1}{3} \quad \frac{1}{2}$$



$$\frac{1}{4} \quad \frac{1}{3} \quad \frac{1}{2}$$



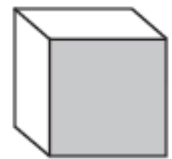
$$\frac{1}{4} \quad \frac{1}{3} \quad \frac{1}{2}$$

السؤال الخامس : ضع دائرة حول الخواص المناسبة لكل شكل مما يأتي:

( ينزلق - يتدحرج - يترصص )



( ينزلق - يتدحرج - يترصص )



( ينزلق - يتدحرج - يترصص )

