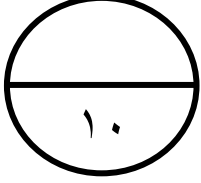




اسم الطالب /

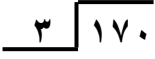
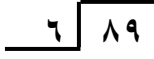

ورقة عمل الفصل الدراسي الثاني (الأسبوع السابع) للصف الرابع الابتدائي للعام الدراسي ١٤٤٥ هـ



المهارات
تقدير ناتج القسمة
القسمة (الناتج من رقمين)
استقصاء حل المسألة

 	قدر ناتج القسمة :		١
	$..... = 8 \div 8071$ $.....$	$..... = 5 \div 402$ $.....$	

قدر ناتج القسمة $5 \div 62$								٢
١٣	د	١٢	ج	١١	ب	١٠	أ	

أوجد ناتج القسمة :			٣
			

تود وفاء أن تضع ١٢ زهرة في صف، بحيث تتكرر الألوان : بيضاء ، بيضاء ، حمراء ، صفراء على الترتيب، فكم زهرة بيضاء تحتاج إليها ؟								٤
٨	د	٦	ج	٥	ب	٤	أ	