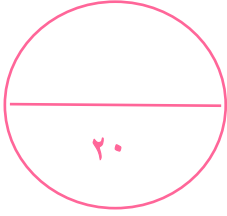


المملكة العربية السعودية

وزارة التعليم

الإدارة العامة للتعليم بمنطقة .....

المدرسة الابتدائية .....



(( اختبار علوم الفترة الثانية للصف الثالث الابتدائي - الفترة الدراسية الثانية ١٤٤٧ ))

الفصل: .....

الاسم: ..... (( نموذج إجابة ))

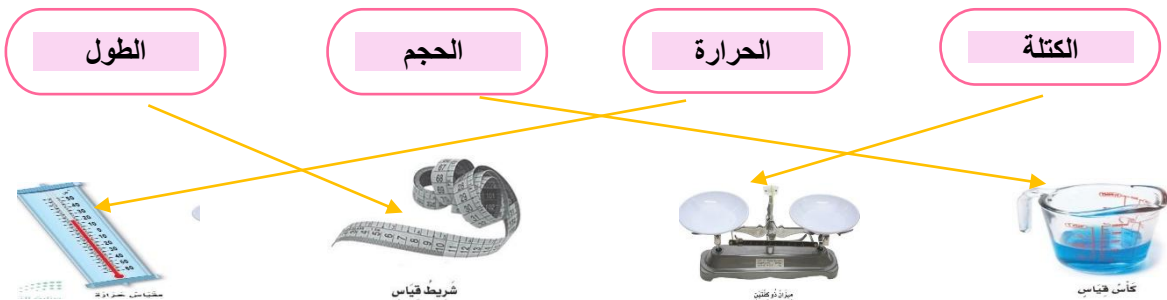
(٦ درجات)

السؤال الأول \*اختاري/ الإجابة الصحيحة:

١- أي شيء له حجم وكتله .....		
العنصر	الذرة	المادة
٢- مزج الماء والملح معاً يُنتج .....		
محلول	مخلوط	مادة
٣- لها حجم ثابت وشكل ثابت .....		
المادة الغازية	المادة الصلبة	المادة السائلة
٤- تصنع أسلاك التوصيل الكهربائي من النحاس لأنه .....		
رخيص الثمن	جيد التوصيل	متوفر بكثرة
٥- تغير ينتج عنه مواد جديدة تختلف في خواصها عن المواد الأصلية .....		
التغير الفيزيائي	التغير الكيميائي	المخلوط
٦- أي مما يلي وحدة قياس حجم السائل .....		
التر	المتر	السنتيمتر

(٤ درجات)

السؤال الثاني: \*صل/ي كل كلمة بما تقاس به:



(٦ درجات)

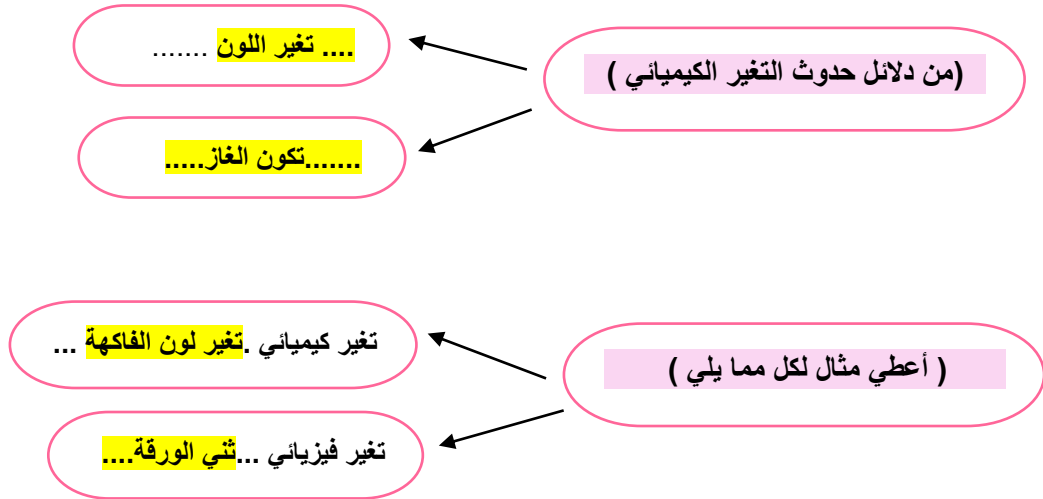
السؤال الثالث : \*أكمل/ي الجمل بالكلمات المناسبة:



المادة الغازية	مخلوطاً	تغير كيميائي	المحلول	العناصر	تغير فيزيائي
-١	.....	المحلول	.... نوع من أنواع المخاليط تمتزج فيه المواد مزجاً تاماً .		
-٢				تتكون جميع المواد من وحدات بنائية تسمى ... العناصر .....	
-٣				المادة الغازية	..... ليس لها حجم ثابت ولا شكل ثابت
-٤				مزج الرمل والطين ونشاره الخشب معاً ينتج	..... مخلوطاً .....
-٥				تمزيق قطعه من الورق يعتبر	..... تغير فيزيائي .....
-٦				التغير الذي ينتج عنه مواد جديدة هو	..... تغير كيميائي .....

(٤ درجات)

السؤال الرابع : \*أكمل/ي ما يلي :



صغيرتي \*

ثقي بنفسك ..... فاتي مميزة ،،



معلمك /وداد الحربي .

