

ملزمة وأوراق عمل مادة العلوم
للمصف الأول ابتدائي

الفصل الدراسي الثالث



سكرة الشمري



أسمي /

الوحدة الخامسة :

الطقس

الفكرة العامة (ماذا أعرف عن الطقس)

سكره الشمري



الفصل الثامن

الطقس من حولنا

*تصل الكلمات التالية بالصور المناسبة لها :



مطر

غائم

مثلج

مشمس

• ماذا نستخدم في حالة المطر الشديد ؟



سكره الشمري




الفصل الثامن

الطقس من حولنا

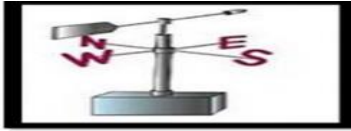
حسب الصور التالية مآدوات الطقس المناسبة لكل عبارة :



مقياس الحرارة



دوارة الرياح



مقياس المطر



عن ماذا تعبر الصورة التالية :



سكره الشمري



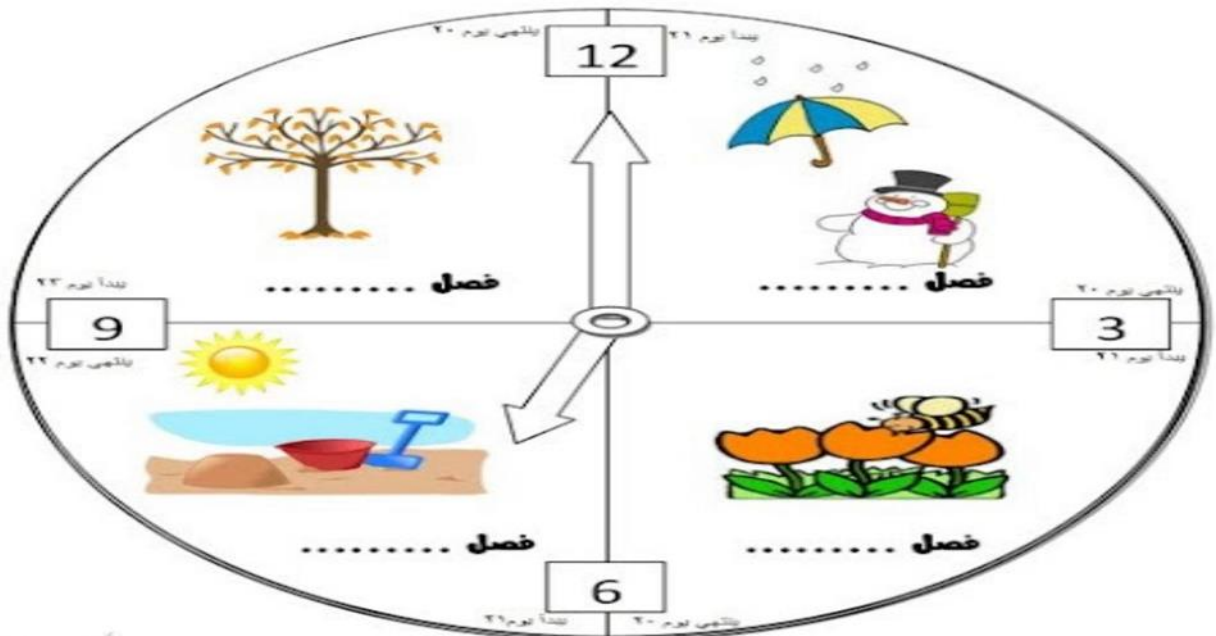
الفصل الثامن

الفصول الأربعة

نكتب كلمة (الصيف الربيع الشتاء الخريف) تحت الفصل المناسب :



*نكمل الناقص في الصورة التالية :



سكره الشمري



الوحدة السادسة :

الحركة والطاقة

الفكرة العامة (كيف نحرك الأشياء)

سكره الشمري



الفصل التاسع

الموقع والحركة

• نحدد موقع الأشياء ب (تحت فوق خلف يمين)



(.....)

نصف نوع الحركة في الصور التالية :



(.....)

(.....)

(.....)

سكره الشمري



الفصل التاسع

الموقع والحركة



تحت كل صورة نكتب نوع الحركة :

(خط مستقيم - حركة دائرية - إلى الأمام و إلى الخلف)



..... 2.



..... 1.



..... 5.




..... 3.



..... 4.

• هل العبارات التالية صحيحة :



١ الدراجة اسرع من السيارة (.....)

٢ يغير الجسم موقعه عندما يتحرك (.....)

سكره الشمري



الفصل التاسع

الرفع والسحب



مالذي يغير حركة الأشياء؟

نضع دائرة حول الإجابة الصحيحة:



دفع - سحب



دفع - سحب



دفع - سحب



دفع - سحب



دفع - سحب



دفع - سحب



دفع - سحب


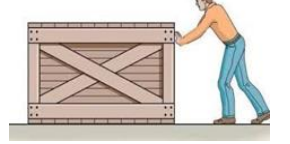
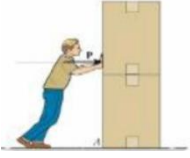
سكره الشمري



الفصل التاسع

الرفع والسحب

مانوع القوة فيما يلي (سحب دفع جاذبية احتكاك)



نلون الإجابة حسب الصورة :



السحب
الدفع



سكره الشمري



الوحدة السادسة :

الطاقة

الفكرة العامة (ما الطاقة)

سكره الشمري



الفصل العاشر

الطاقة والحرارة



نصل المفاهيم التالية بالعبارة المناسبة :


طاقة تسخن الأشياء

الطاقة

تجعل الأشياء تعمل وتتغير

الحرارة

مالصورة التي تعد مصدر للطاقة الضوئية :



صح ام خطأ

الحرارة طاقة تسخن الأشياء . ()




سكره الشمري



الفصل العاشر

الطاقة والحرارة

نكتب مصادر الحرارة بجانب كل صورة (الاحتكاك
احتراق الخشب الغاز)



مامصدر الطاقة الحرارية على الأرض ؟

.....



سكره الشمري



الفصل العاشر

الضوء والصوت

نصل الصورة بالكلمة المناسبة :

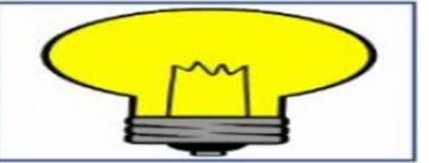


الحرارة

الصوت

الكهرباء

الضوء



نضع إشارة صح تحت الجسم المعتم وإشارة خطأ تحت

الجسم الشفاف




سكره الشمري



الفصل العاشر

الضوء والصوت

* ايهما يصدر صوت :



ضل مصدر الصوت مع فائدته :



سكره الشمري

