



مدونة المناهج السعودية

<https://eduschool40.blog>

الموقع التعليمي لجميع المراحل الدراسية

في المملكة العربية السعودية

بسم الله الرحمن الرحيم

KNIGDOM OF SAUDI ARABIA
Ministry of Education
AL-Imam Muhammad Ibn Saud
Islamic University
College of Economics and Administrative sciences

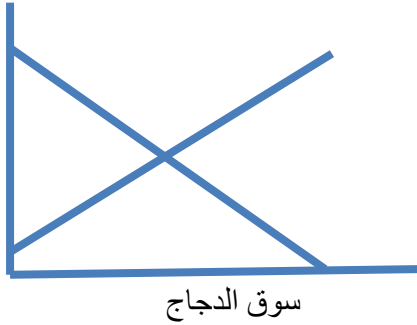
المملكة العربية السعودية
وزارة التعليم
جامعة الإمام محمد بن سعود الإسلامية
كلية الاقتصاد والعلوم الإدارية

الاختبار النهائي لمقرر مبادئ الاقتصاد الجزئي الفصل الدراسي الاول من العام الجامعي 1437/1438 هـ.....	
الاسم:	التاريخ / / 1438 هـ
الرقم الجامعي:	رقم الشعبة:

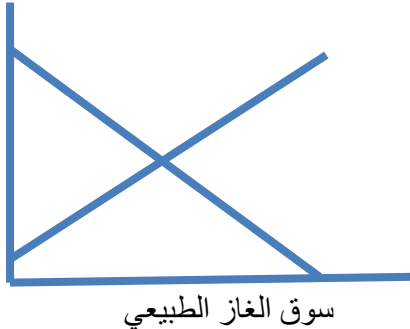
السؤال	الدرجة
الأول	
الثاني	
الثالث	
الرابع	
الخامس	
السادس	
السابع	
الاعمال الفصلية	
المجموع	

س1 وضح نقطة توازن السوق من خلال تحديد السعر والكمية في كل فقرة ثم اوضح بنفس الرسم ماذا يحدث في الحالات التالية: تأكد من تسمية المحاور والمنحنيات واستخدام لغة الاسهم في إنتقال المنحنيات: (تخصص درجتان لتسمية المحاور والمنحنيات ونقطة التوازن) (8 درجات)

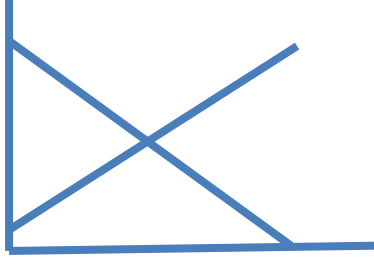
أ- تأثير إرتفاع اسعار الاغنام على سوق الدجاج



ب- تأثير إرتفاع اسعار البترول على سوق الغاز الطبيعي



ج - تأثير زيادة عدد المنتجين



(9 درجات)

س2 اوجد التوازن للسعر والكمية من خلال المعادلتين التاليتين

$$Q_D = 135 + -3P$$

$$Q_S = -15 + 2P$$

Q=	P=
----	----

عند $P = 35$ يوجد فائض----- بمقدار -----

عند $P = 25$ يوجد فائض----- بمقدار -----

احسب مرونة الطلب السعرية عند $P = 30$

ما نوع المرونة؟

احسب مرونة العرض السعرية عند $P = 30$

ما نوع المرونة؟

س3 اجب بصحيح او خطأ عن الجمل التالية بوضع علامة صحيح وعلامة خطأ: (10 درجات)

خطأ	صحيح	
		الندرة النسبية للموارد وتعدد الرغبات هما ركنا المشكلة الاقتصادية.
		عندما يبلغ الإنتاج الكلي أعلى مستوى له تصبح الإنتاجية الحديدية مساوية للصفر
		نقطة الاغلاق هي الحد الأدنى للتكاليف المتوسطة الكلية
		نقطة التعادل تعني الايراد الحدي = التكلفة المتوسطة المتغيرة
		ينص قانون تناقص المنفعة الحديدية على أنه كلما زادت الكمية التي تشتري من السلعة أو الخدمة كلما نقصت المنفعة الحديدية لها
		الطلب على الدواء الضروري يعتبر طلبا مرنا.
		لايمكن أن تكون التكاليف الثابتة أكبر من التكاليف الكلية.
		تكون مرونة الطلب المتقاطعة موجبة بالنسبة للسلع البديلة
		منحنى عرض المنشأة في سوق المنافسة التامة يقع في المرحلة الاولى
		ليس من الضروري أن يكون منحنى إمكانات الإنتاج الجديد موازيا للمنحنى القديم.

س4 اختر الإجابة الاصح مما يلي: (10 درجات)

- 1 أثر انخفاض تكاليف الانتاج على السعر التوازني والكمية التوازنية (بافتراض أن منحنى الطلب سالب الميل والعرض موجب الميل):
 أ. زيادة السعر التوازني والكمية التوازنية ب. زيادة السعر التوازني وانخفاض الكمية التوازنية
 ج. انخفاض السعر التوازني و الكمية التوازنية. د. انخفاض السعر التوازني وزيادة الكمية التوازنية

- 2- تأثير فرض الضرائب على منحنى العرض يتمثل في:
 أ- انتقال منحنى العرض إلى اليمين. ب- انتقال منحنى العرض إلى اليسار.
 ج- يبقى المنحنى ثابتا. د- التحرك من نقطة إلى نقطة على نفس المنحنى

- 3- القيمة المطلقة لمرونة الطلب المتقاطعة للسلعة X إذا زادت الكمية المطلوبة منها من 40 وحدة إلى 50 وحدة نتيجة لارتفاع سعر السلعة Y من 5 ريال إلى 6 ريال للوحدة هي:
 أ. 1.25 ب. 1.5 ج. 2 د. 2.5

- 4- منحنى الاستهلاك الدخلي:
 أ- يوضح كيف يتغير توازن المستهلك نتيجة لتغير دخله ب- موجب الميل للسلعة العادية
 ج- سالب الميل إذا كانت إحدى السلع دينيا. د- كل ما سبق صحيح

- 5- العوامل التي تؤثر على مرونة الطلب هي :

- أ. تكلفة نقل السلعة ب- وجود بدائل للسلعة ج. دخل المستهلك د- ذوق المستهلك

- 6- عند تناقص الايراد الكلي فإن:
 أ. الايراد الحدي MR سالب ب. الطلب غير مرن د. السعر اقل من MR ج. (أ و ب) صحيحة

- 7- دالة الإنتاج $Q = L^{0.25}K^{0.25}$ توضح

ا. تناقص غلة الحجم ب. تزايد غلة الحجم ج. ثبات غلة الحجم د. لا شيء مما سبق

8- توازن المنتج في الاجل الطويل يتحقق عندما يكون $MRTS_{L,K}$ يساوي:

أ- $\frac{W}{r}$ ب- $\frac{r}{W}$ ج- $\frac{P_X}{P_Y}$ د- كل من أ وب

9 - متوسط التكاليف المتغيرة مرتبط بالانتاجية المتوسطة للعمل على النحو التالي:

أ- $AVC = AP_L$ ب- $AVC = \frac{AP_L}{W}$ ج- $AVC = \frac{VC}{W}$ د- $AVC = \frac{W}{AP_L}$

10- على منحنى الإنتاج المتساوي

أ- الإنتاج متغير ب- الإنتاج ثابت ج- التكاليف ثابتة د- التكاليف متغيرة

س5 إفترض ان المستهلك فهد يستهلك سلعتين حسب الموضح في الجدول التالي. اذا علمت ان سعر السلعة X هو $P_X = 2$ بينما سعر السلعة Y هو $P_Y = 4$ وأن دخل المستهلك I الذي سينفقه على السلعتين يساوي 28 ريال والمطلوب أكمل الفراغات ثم اجب عن الاسئلة التالية: (9 درجات)

6	5	4	3	2	1	عدد الوحدات
73	69	63	56	48	32	المنفعة الكلية لـ X
						المنفعة الحدية لـ X MU_X
						$MU_X/P_X = MU_X/2$
						$MU_X/P_X = MU_X/4$
86	84	80	72	56	36	المنفعة الكلية لـ Y
						المنفعة الحدية لـ Y MU_Y
						$MU_Y/P_Y = MU_Y/4$

1- ما مقدار المنفعة الحدية للدخل (المنفعة الحدية للريال) عند التوازن:

وما هي الكميات التوازنية التي تعظم منفعة المستهلك:

$$X = \quad Y =$$

2- ما هو القانون المناسب هنا لحساب معدل الاحلال الحدي لـ X محل Y $(MRS_{X,Y})$ احسب $MRS_{X,Y}$ عند الكميات التوازنية: القانون:

التعويض:

3- اذا ارتفع سعر السلعة X من 2 الى 4 ريال للوحدة مع بقاء العوامل الاخرى على حالها فما المنفعة الحدية للدخل التي يتحقق عندها التوازن: وما هي الكميات التوازنية التي تعظم منفعة المستهلك؟:

$$X = \quad Y =$$

4- احسب مرونة الطلب السعرية للسلعة X نتيجة لارتفاع P_X من 2 الى 4 ريال للوحدة القانون: التعويض:

5- احسب مرونة الطلب المتقاطعة لـ Y نتيجة لإرتفاع P_X الى 4 ريال للوحدة:

القانون:
لتعويض:

ما علاقة السلعة Y بالسلعة X ؟

س6 إذا أعطيت الكمية المستهلكة من السلعتين X و Y كما في الجدول التالي والمطلوب: (6 درجات)

أ- حساب معدل الاحلال الحدي لـ X محل Y $MRS_{X,Y}$ مع ذكر القانون.

ب- إذا علمت أن سعر السلعة X هو $P_X = 5$ وسعر السلعة Y هو $P_Y = 10$ ودخل المستهلك I هو 45 ما هو الشرط الضروري لتوازن المستهلك؟

ماهي الكميات المطلوبة من السلعتين
X= Y=

X	Y	$MRS_{X,Y}$
1	10	_____
2	5	
3	3.33	
4	2.5	
5	2	
6	1.67	
7	1.43	

س7 إذا علمت ان هذه المنشأة تعمل كمنافسة كاملة وان اجر العامل W هو 1500 والسعر للسلعة P هو 300 والتكاليف الثابتة هي 500 والمطلوب تعبئة الجدول ثم إكمال المطلوب: (8 درجات)

عدد العمال L	الانتاج الكلي Q	الانتاج المتوسط AP_L	الانتاج الحدي MP_L	التكلفة الحدية MC	P-MC = الربح الحدي
1	15				
2	28				
3	39				
4	48				
5	55				
6	60				
7	63				
8	64				
9	64				

- 1- يوضح الجدول حالة: _____ (المطلوب نوع الغلة)
- 2- وفقا لمستويات العمالة والانتاج الموضحة في الجدول يعتبر الانتاج في المرحلة: _____ بسبب _____
- 3- يصل الانتاج الكلي اعلى مستوى له عند العامل: _____ وعند الإنتاج _____
- 4- مستوى الإنتاج الكلي المعظم للارباح (توازن المنشأة) هو: _____ بينما مستوى العمالة هو _____ لأن الشرط الضروري هو: _____
- 5- مقدار التكاليف الكلية عند المستوى من الانتاج المعظم للارباح = _____
- 6- مقدار الايراد الكلي عند المستوى من الانتاج المعظم للارباح = _____
- 7- مقدار الربح الإقتصادي عند الانتاج المعظم للارباح = _____

وفقكم الله في الدنيا والاخرة