

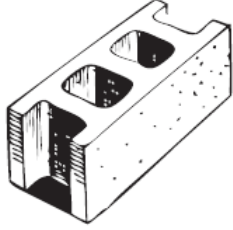
ورقة تدريبات: وحدات الكتلة

الاسم :

الصف : الرابع

التاريخ / / ١٤٤ هـ

اختر التقدير الأنسب لكتلة كل مما يأتي:



٢

٣ جم أم ٣ كجم


.....



١

٢٥٠ جم أم ٢٥٠ كجم


.....



٤

٤٥ جم أم ٤٥ كجم

.....



٣

٢٠ جم أم ٢٠ كجم

.....

٥ إذا كانت كتلة حبة فولٍ هي ٥، فما الوحدة المترية التي استعملت لقياس كتلتها؟

.....