

اختبار منتصف الفصل الدراسي الثالث لمادة الرياضيات للصف الثالث الابتدائي للعام الدراسي ١٤٤ هـ


الاسم / .....  
الثالث / .....

السؤال الأول : اختر الإجابة الصحيحة فيما يلي :

١- الوحدة الأنسب لقياس طول كتاب الرياضيات هي :

أ	الملمتر	ب	السنتيمتر	ج	المتر	د	الكيلومتر
---	---------	---	-----------	---	-------	---	-----------

٢- محيط الشكل المجاور يساوي :



أ	١٤ وحدة	ب	١٣ وحدة	ج	١٠ وحدات	د	٨ وحدات
---	---------	---	---------	---	----------	---	---------

٣- التقدير الأنسب لقياس سعة عبوة الحليب هو :



أ	١٠ مل	ب	٥٠ ل	ج	٢٠٠ مل	د	٢٠٠ ل
---	-------	---	------	---	--------	---	-------

٤- إذا كان الكيلوجرام الواحد يساوي ١٠٠٠ جرام فكم جراماً في ٧ كيلوجرام ؟

أ	٧ جرام	ب	٧٠ جرام	ج	٧٠٠ جرام	د	٧٠٠٠ جرام
---	--------	---	---------	---	----------	---	-----------

٥- التقدير الأنسب لقياس طول النافذة هو :

أ	٢ ملم	ب	٢ سم	ج	٢ م	د	٢ كلم
---	-------	---	------	---	-----	---	-------

٦- الوحدة الأنسب لقياس سعة بركة أطفال هي :

أ	ملتر	ب	لتر	ج	جرام	د	كيلو جرام
---	------	---	-----	---	------	---	-----------

٧- التقدير الأنسب لكتلة مايلي هو :



أ	٥ جم	ب	٥ كجم	ج	٥٠٠ مل	د	٥٠٠ ل
---	------	---	-------	---	--------	---	-------

٨- إذا أشار عقرب الدقائق على الرقم ٩ فإن عدد الدقائق الذي يشير إليها هو ؟

أ	١٠ دقائق	ب	٢٠ دقيقة	ج	٣٥ دقيقة	د	٤٥ دقيقة
---	----------	---	----------	---	----------	---	----------

٩- أي مما يلي يزيد وزنه عن ٢ كجم :

أ	تفاحة	ب	قلم	ج	محاة	د	طاولة الصف
---	-------	---	-----	---	------	---	------------

١٠- إذا كان الوقت الظاهر على الساعة هو ٤٥ : ٧ فكم سيكون الوقت بعد ٨ دقائق ؟

أ	٧ : ٥٠	ب	٨ : ٥٣	ج	٧ : ٥٥	د	٧ : ٥٣
---	--------	---	--------	---	--------	---	--------

السؤال الثاني : ضع علامة (✓) أمام العبارة الصحيحة وعلامة (X) أمام العبارة الخاطئة فيما يلي :

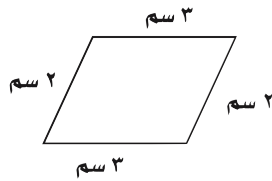
١- المحيط هو طول الإطار الخارجي لشكل

٢- تستعمل الوحدات المكعبة لقياس الحجم .

٣- من وحدات السعة الملمتر ويرمز له بـ ( ملم )

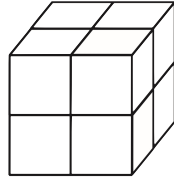
٤- الساعة الرقمية تظهر الزمن بالعقارب

السؤال الثالث : أجب عن المطلوب فيما يلي :



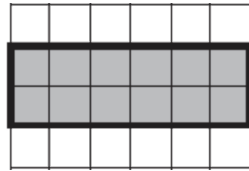
أ) أوجد محيط الشكل المجاور :

.....



ب) أوجد حجم الجسم التالي :

..... وحدة مكعبة



ج) أوجد مساحة الجزء المظلل المجاور :

..... وحدة مربعة



د) أكتب الزمن الذي تشير إليه الساعة المجاورة :

.....

هـ) مع سلطان ٤٠ ريال وبالأمس كان معه أكثر من نصف هذا المبلغ بـ ٥ ريال فكم كان معه أمس ؟

.....