



موقع اجاباتكم

www.ajabat.com

للمزيد اضغط على التلجرام هنا 




@aikhtibart

تقييم مادة العلوم الصف الأول الفصل الدراسي الثالث

الاسم : الفصل:.....(بنات -بنين)

<p>18_ توضيح مفهوم الطقس</p> <table border="1" data-bbox="316 481 475 645"> <thead> <tr> <th colspan="4">مستوى أداء الطالب في العبار</th> </tr> </thead> <tbody> <tr> <td>ممتاز</td> <td>جيد</td> <td>متوسط</td> <td>ضعيف</td> </tr> <tr> <td>من 90% إلى 100%</td> <td>من 75% إلى 89%</td> <td>من 60% إلى 74%</td> <td>من 45% إلى 59%</td> </tr> </tbody> </table>	مستوى أداء الطالب في العبار				ممتاز	جيد	متوسط	ضعيف	من 90% إلى 100%	من 75% إلى 89%	من 60% إلى 74%	من 45% إلى 59%	<p>عرف الطقس ؟</p> <p>.....</p> <p>.....</p>	<p>صح او خطأ</p> <p>الطقس حالة الجو والسماء خلال اليوم ()</p>	<p>اختر</p> <p>(الحرارة -الطقس)</p> <p>حالة الجو والسماء خلال اليوم هو</p>	<p>اكمل:</p> <p>حالة الجو والسماء خلال اليوم.....</p>
مستوى أداء الطالب في العبار																
ممتاز	جيد	متوسط	ضعيف													
من 90% إلى 100%	من 75% إلى 89%	من 60% إلى 74%	من 45% إلى 59%													
<p>19-تعداد الأدوات المختلفة لقياس الطقس</p> <table border="1" data-bbox="295 929 454 1093"> <thead> <tr> <th colspan="4">مستوى أداء الطالب في العبار</th> </tr> </thead> <tbody> <tr> <td>ممتاز</td> <td>جيد</td> <td>متوسط</td> <td>ضعيف</td> </tr> <tr> <td>من 90% إلى 100%</td> <td>من 75% إلى 89%</td> <td>من 60% إلى 74%</td> <td>من 45% إلى 59%</td> </tr> </tbody> </table>	مستوى أداء الطالب في العبار				ممتاز	جيد	متوسط	ضعيف	من 90% إلى 100%	من 75% إلى 89%	من 60% إلى 74%	من 45% إلى 59%	<p>توضح الصورة مقياس (الحرارة -المطر)</p> 	<p>صح او خطأ</p> <p>من أدوات قياس الطقس مقياس الحرارة والمطر ()</p>	<p>توضح الصورة مقياس (الحرارة -المطر)</p> 	<p>اكمل</p> <p>أدوات قياس الطقس</p> <p>١-مقياس</p> <p>٢- مقياس</p> <p>٣- دواية</p>
مستوى أداء الطالب في العبار																
ممتاز	جيد	متوسط	ضعيف													
من 90% إلى 100%	من 75% إلى 89%	من 60% إلى 74%	من 45% إلى 59%													
<p>20-تعداد الفصول الأربعة مع ذكر مظهر واحد من</p> <table border="1" data-bbox="316 1590 475 1753"> <thead> <tr> <th colspan="4">مستوى أداء الطالب في العبار</th> </tr> </thead> <tbody> <tr> <td>ممتاز</td> <td>جيد</td> <td>متوسط</td> <td>ضعيف</td> </tr> <tr> <td>من 90% إلى 100%</td> <td>من 75% إلى 89%</td> <td>من 60% إلى 74%</td> <td>من 45% إلى 59%</td> </tr> </tbody> </table>	مستوى أداء الطالب في العبار				ممتاز	جيد	متوسط	ضعيف	من 90% إلى 100%	من 75% إلى 89%	من 60% إلى 74%	من 45% إلى 59%	<p>اكمل</p> <p>الفصل الذي ساعات النهار أطول فصل</p>	<p>صح او خطأ</p> <p>في فصل الشتاء يصبح الطقس بارد ()</p>	<p>اختر</p> <p>تسقط الأوراق في فصل (الشتاء -الخريف)</p>	<p>عدد الفصول الأربعة؟</p> <p>.....</p> <p>.....</p> <p>.....</p> <p>.....</p>
مستوى أداء الطالب في العبار																
ممتاز	جيد	متوسط	ضعيف													
من 90% إلى 100%	من 75% إلى 89%	من 60% إلى 74%	من 45% إلى 59%													

<p>30-تعداد بعض أنواع القوى (السحب – الدفع – الجاذبية -الاحتكاك)</p> <table border="1" data-bbox="323 383 480 546"> <thead> <tr> <th colspan="4">مستوى أداء الطالب في العبار</th> </tr> </thead> <tbody> <tr> <td>ممتاز</td> <td>ممتاز</td> <td>ممتاز</td> <td>ممتاز</td> </tr> <tr> <td>جيد</td> <td>جيد</td> <td>جيد</td> <td>جيد</td> </tr> <tr> <td>ضعيف</td> <td>ضعيف</td> <td>ضعيف</td> <td>ضعيف</td> </tr> </tbody> </table>	مستوى أداء الطالب في العبار				ممتاز	ممتاز	ممتاز	ممتاز	جيد	جيد	جيد	جيد	ضعيف	ضعيف	ضعيف	ضعيف	<p><u>اذكر</u> ماهي القوة التي تبطن حركة الأشياء (السحب – الاحتكاك)</p>	<p><u>صح او خطأ</u> الجاذبية قوة تسحب الأشياء اتجاة الأرض ()</p>	<p><u>أكمل</u> يسمى السحب ام الدفع الذي يحرك الشيء</p>	<p><u>اختر</u> قوة تحرك الشيء بعيد عني (الدفع – السحب)</p>
مستوى أداء الطالب في العبار																				
ممتاز	ممتاز	ممتاز	ممتاز																	
جيد	جيد	جيد	جيد																	
ضعيف	ضعيف	ضعيف	ضعيف																	
<p>31-توضيح مفهوم الطاقة</p> <table border="1" data-bbox="323 761 480 925"> <thead> <tr> <th colspan="4">مستوى أداء الطالب في العبار</th> </tr> </thead> <tbody> <tr> <td>ممتاز</td> <td>ممتاز</td> <td>ممتاز</td> <td>ممتاز</td> </tr> <tr> <td>جيد</td> <td>جيد</td> <td>جيد</td> <td>جيد</td> </tr> <tr> <td>ضعيف</td> <td>ضعيف</td> <td>ضعيف</td> <td>ضعيف</td> </tr> </tbody> </table>	مستوى أداء الطالب في العبار				ممتاز	ممتاز	ممتاز	ممتاز	جيد	جيد	جيد	جيد	ضعيف	ضعيف	ضعيف	ضعيف	<p><u>عرف الطاقة ؟</u></p>	<p><u>أكمل</u> ماهي التي تجعل الأشياء تعمل وتتغير.....</p>	<p><u>صح او خطأ</u> الاحتكاك تجعل الأشياء تعمل وتتغير()</p>	<p><u>اختر</u> تجعل الأشياء تعمل و تتغير (الحركة -الطاقة)</p>
مستوى أداء الطالب في العبار																				
ممتاز	ممتاز	ممتاز	ممتاز																	
جيد	جيد	جيد	جيد																	
ضعيف	ضعيف	ضعيف	ضعيف																	
<p>32- ذكر بعض اشكال الطاقة</p> <table border="1" data-bbox="323 1261 480 1424"> <thead> <tr> <th colspan="4">مستوى أداء الطالب في العبار</th> </tr> </thead> <tbody> <tr> <td>ممتاز</td> <td>ممتاز</td> <td>ممتاز</td> <td>ممتاز</td> </tr> <tr> <td>جيد</td> <td>جيد</td> <td>جيد</td> <td>جيد</td> </tr> <tr> <td>ضعيف</td> <td>ضعيف</td> <td>ضعيف</td> <td>ضعيف</td> </tr> </tbody> </table>	مستوى أداء الطالب في العبار				ممتاز	ممتاز	ممتاز	ممتاز	جيد	جيد	جيد	جيد	ضعيف	ضعيف	ضعيف	ضعيف	<p><u>عدد اشكال الطاقة؟</u></p>	<p><u>اختر</u> تسمى طاقة الشمس (طاقة شمسيه – طاقة حراريه)</p>	<p><u>توضح الصورة</u> طاقة (الرياح -الشمس)</p> 	<p><u>صح او خطأ</u> الحرارة والضوء والصوت والكهرباء من اشكال الطاقة ()</p>
مستوى أداء الطالب في العبار																				
ممتاز	ممتاز	ممتاز	ممتاز																	
جيد	جيد	جيد	جيد																	
ضعيف	ضعيف	ضعيف	ضعيف																	

<p>33-تعداد بعض مصادر الحرارة</p> <table border="1" data-bbox="284 409 443 568"> <thead> <tr> <th colspan="4">مستوى أداء الطالب في العبار</th> </tr> </thead> <tbody> <tr> <td>ممتاز</td> <td>جيد</td> <td>متوسط</td> <td>ضعيف</td> </tr> <tr> <td>90-100</td> <td>70-80</td> <td>50-60</td> <td>30-40</td> </tr> </tbody> </table>	مستوى أداء الطالب في العبار				ممتاز	جيد	متوسط	ضعيف	90-100	70-80	50-60	30-40	<p>ضع دائرة حول مصدر الحرارة الخشب السيارة النفط الاحتكاك</p>	<p>اختر طاقة تسخين الأشياء (الحرارة_ القوة)</p>	<p>اكمل معظم الطاقة الحرارية على الأرض من</p>	<p>صح او خطأ نحصل على الحرارة من احتراق الخشب ()</p>
مستوى أداء الطالب في العبار																
ممتاز	جيد	متوسط	ضعيف													
90-100	70-80	50-60	30-40													
<p>34-استنتاج مفهوم الضوء من خلال مجموعة من الصور</p> <table border="1" data-bbox="284 786 443 945"> <thead> <tr> <th colspan="4">مستوى أداء الطالب في العبار</th> </tr> </thead> <tbody> <tr> <td>ممتاز</td> <td>جيد</td> <td>متوسط</td> <td>ضعيف</td> </tr> <tr> <td>90-100</td> <td>70-80</td> <td>50-60</td> <td>30-40</td> </tr> </tbody> </table>	مستوى أداء الطالب في العبار				ممتاز	جيد	متوسط	ضعيف	90-100	70-80	50-60	30-40	<p>اختر من خلال الصور مفهوم الضوء</p> 	<p>من أطفال الذي يراه</p> 	<p>ضع دائرة من الذي يسمح مرور الضوء من خلاله</p> 	<p>صح او خطأ الضوء طاقة يمكننا من رؤية الأشياء ()</p>
مستوى أداء الطالب في العبار																
ممتاز	جيد	متوسط	ضعيف													
90-100	70-80	50-60	30-40													
<p>53-التمثيل لبعض مصادر الضوء</p> <table border="1" data-bbox="284 1229 443 1388"> <thead> <tr> <th colspan="4">مستوى أداء الطالب في العبار</th> </tr> </thead> <tbody> <tr> <td>ممتاز</td> <td>جيد</td> <td>متوسط</td> <td>ضعيف</td> </tr> <tr> <td>90-100</td> <td>70-80</td> <td>50-60</td> <td>30-40</td> </tr> </tbody> </table>	مستوى أداء الطالب في العبار				ممتاز	جيد	متوسط	ضعيف	90-100	70-80	50-60	30-40	<p>احتاج الضوء من خلال الصورة -روية واجباتي المنزلية -الروية في الليل</p> 	<p>اختر النجوم (تضيء - لا تضيء)</p>	<p>صح او خطأ مصابيح المنازل والشوارع من مصادر الضوء صنعها الانسان ()</p>	<p>أكمل معظم الضوء على الأرض من</p>
مستوى أداء الطالب في العبار																
ممتاز	جيد	متوسط	ضعيف													
90-100	70-80	50-60	30-40													
<p>36-استنتاج سبب حدوث الصوت</p> <table border="1" data-bbox="284 1615 443 1774"> <thead> <tr> <th colspan="4">مستوى أداء الطالب في العبار</th> </tr> </thead> <tbody> <tr> <td>ممتاز</td> <td>جيد</td> <td>متوسط</td> <td>ضعيف</td> </tr> <tr> <td>90-100</td> <td>70-80</td> <td>50-60</td> <td>30-40</td> </tr> </tbody> </table>	مستوى أداء الطالب في العبار				ممتاز	جيد	متوسط	ضعيف	90-100	70-80	50-60	30-40	<p>صح او خطأ عندما أتكلم تهتز الاوتار الصوتية في حنجرتي ()</p>	<p>اختر يعني الحركة الى الامام والى الخلف ... (الاهتزاز - الصوت)</p>	<p>ما هو سبب حدوث الصوت؟</p>	<p>صح او خطأ الصوت شكل من اشكال الطاقة ()</p>
مستوى أداء الطالب في العبار																
ممتاز	جيد	متوسط	ضعيف													
90-100	70-80	50-60	30-40													

اختبار مادة العلوم الفصل (٨ ، ٩) للصف الأول الفصل الدراسي الثالث



اسم الطالبة:

اختاري الإجابة الصحيحة:

أي صورة تدل على أن الجو ممطر؟



أين مقياس درجة الحرارة؟



أي الفصول ترتفع فيه درجة الحرارة ويكون الجو حارًا جدًا؟



الربيع



الشتاء



الخريف



الصيف



صل الصورة بالكلمة المناسبة:



السحب

الإحتكاك

الدفع

الجاذبية

هل المركبة الفضائية أسرع من الطائرة؟



صواب



خطأ

