

أسئلة اختبار مادة الرياضيات للصف الثالث الابتدائي الفصل الدراسي الثالث الدور الأول للعام الدراسي 1443 هـ .

الاسم الرباعي	
رقم الجلوس	

رقم السؤال	الدرجة رقماً	الدرجة كتابة	اسم المصححة	التوقيع	اسم المراجعة	التوقيع	اسم المدققة	التوقيع
الأول(24) درجة )								
الثاني (5درجة )								
الثالث ) ( 11 )								
مجموع درجات اختبار نهاية الفصل 40								

الدرجة المستحقة

رقماً	كتابة

معلمة المادة :

اختبار نهائي لمادة الرياضيات الفصل الدراسي الثالث للصف الثالث الابتدائي (الدور الأول) لعام 1443هـ

السؤال الأول: (الاختيار من متعدد عدد الفقرات: ١٢):


٢٤ /

لكل فقرة مما يلي أربعة إجابات واحدة فقط منها صحيحة، اختاريها بالإشارة عليها :

1	الوحدة المناسبة لقياس طول كتاب الرياضيات هو :	أ	ملمتر	ب	سنتيمتر	ج	متر	د	كيلو متر
2	هو طول الإطار الخارجي لشكل ما :	أ	الطول	ب	المساحة	ج	المحيط	د	الكتلة
3	الوحدة الأنسب لقياس كتلة المشبك :	أ	كيلو جرام	ب	جرام	ج	كيلو متر	د	التر
4	عدد محور التماثل لشكل التالي هو :	أ	الصفير	ب	١	ج	٢	د	٣
5	له ٤ أضلاع و ٤ زوايا :	أ	الشكل الرباعي	ب	الشكل الخماسي	ج	الشكل السداسي	د	الشكل الثماني
6	ليس له أوجه ولا أحرف ولا رؤوس فمن يكون	أ	المكعب	ب	الكره	ج	المستطيل	د	المثلث
7	يعبر عن إمكانية وقوع حدث ما هو :	أ	الاحتمال	ب	البيانات	ج	التمثيل	د	غير ذلك
8	أوصف الحدث أن يكون عيد الأضحى في اليوم العاشر من ذي الحجة :	أ	أكيد	ب	الأكثر احتمال	ج	الأقل احتمال	د	مستحيل

أقلب الصفحة


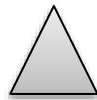



9	أوصف الحدث يمكن للبقرة أن تطير					
أ	أكيد	ب	الأكثر احتمال	ج	الأقل احتمال	د
10	كل رمز دائرة ○ يمثل قصة واحدة فما عدد الرموز التي تمثل ٤ قصص :					
أ	رمز واحد	ب	رمزان	ج	٤ رموز	د
11	هو عدد يمثل جزء من مجموعة أجزاء متطابقة :					
أ	الكسر	ب	التمثيل البياني	ج	الكتلة	د
12	الكسر الذي يمثل الجزء المضلل هو : 					
أ	١	ب	$\frac{1}{2}$	ج	$\frac{2}{4}$	د
					$\frac{4}{6}$	

السؤال الثاني: ( أسئلة الصواب والخطأ عدد الفقرات 5 ) :

ضع/ي علامة ( ✓ ) أمام العبارة الصحيحة وعلامة ( X ) أمام العبارة الخطأ

٥ /

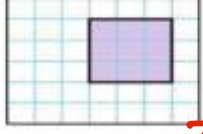
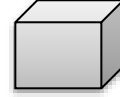
الفقرة	العبارة	X/✓
1	عدد الوحدات المكعبة للشكل المجاور هي ٨ وحدات مكعبة 	X
2	المثلث له ٣ أضلاع وزوايا 	✓
3	يسمى الشكل المجاور اسطوانه 	✓
4	المقام يدل على عدد الأجزاء المتطابقة جميعها	✓
5	البسط هو العدد السفلي في الكسر	X

أقلب الصفحة

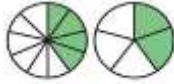


**السؤال الثالث: (أجب على الأسئلة التالية):**

(أ) أكمل الفراغات التالية :

1) عدد الوحدات المربعة للشكل هو **٩ وحدات مربعة**2) اسم الجسم هو **مكعب** عدد الأوجه له **٦** عدد الأحرف **١٢**عدد الرؤوس **٨**.


$$\frac{4}{10} = \frac{2}{5}$$



3) أكمل للحصول على الكسرين المتكافئين

**(ب) أجب عما يأتي:**

1) أستعمل التمثيل المجاور لأجب على الأسئلة التالية :



(أ) كم عدد لوحات التراث؟

**٦ لوحات**

(ب) ما نوع اللوحة الأكثر؟

**لوحة النباتات**

2) أحل المسألة التالية :

توجد ٣ علب دهان حمراء و ٥ علب دهان خضراء , ما الكسر الذي يمثل عدد العلب الحمراء ؟

$$\frac{3}{8}$$

3) اختر الوحدة المناسبة ( ملتر - لتر ) لكل سعة مما يأتي :

1- قدر الطبخ : **لتر** 2- علبه العطر : **ملتر**انتهت الأسئلة ..  
تمنياتي لكم بالتوفيق والنجاح .  
معلمتك :