


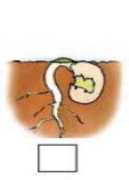

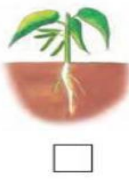





اختبار تشخيصي مادة العلوم للصف الأول نموذج (١)

الاسم/

<table border="1"> <tr> <td>اجتاز</td> <td><input type="radio"/></td> </tr> <tr> <td>لم يجتاز</td> <td><input type="radio"/></td> </tr> </table>	اجتاز	<input type="radio"/>	لم يجتاز	<input type="radio"/>	<p>س١/ صنف الصور التالية إلى مخلوقات حية وأشياء غير حية: (بالتوصيل)</p> <div style="display: flex; justify-content: space-around;"> <div style="border: 1px solid black; border-radius: 15px; padding: 5px; width: 150px; text-align: center;">أشياء غير حية</div> <div style="border: 1px solid black; border-radius: 15px; padding: 5px; width: 150px; text-align: center;">مخلوقات حية</div> </div> <div style="display: flex; justify-content: space-around; margin-top: 10px;">     </div>	المقارنة بين المخلوقات الحية والأشياء غير الحية وتصنيفها
اجتاز	<input type="radio"/>					
لم يجتاز	<input type="radio"/>					
<table border="1"> <tr> <td>اجتاز</td> <td><input type="radio"/></td> </tr> <tr> <td>لم يجتاز</td> <td><input type="radio"/></td> </tr> </table>	اجتاز	<input type="radio"/>	لم يجتاز	<input type="radio"/>	<p>س٢/ رتب مراحل حياة نبات الفاصوليا بوضع الرقم المناسب (١ - ٢ - ٣ - ٤)</p> <div style="display: flex; justify-content: space-around; margin-top: 10px;">     </div>	وصف دورة حياة نبات.
اجتاز	<input type="radio"/>					
لم يجتاز	<input type="radio"/>					
<table border="1"> <tr> <td>اجتاز</td> <td><input type="radio"/></td> </tr> <tr> <td>لم يجتاز</td> <td><input type="radio"/></td> </tr> </table>	اجتاز	<input type="radio"/>	لم يجتاز	<input type="radio"/>	<p>س٣/ ضع علامة (✓) تحت الموطن الذي تنمو فيه أشجار كثيرة وطويلة :</p> <div style="display: flex; justify-content: space-around; margin-top: 10px;">    </div> <div style="display: flex; justify-content: space-around; margin-top: 10px;"> <input type="checkbox"/> <input type="checkbox"/> <input type="checkbox"/> </div>	وصف مواطن اليابسة.
اجتاز	<input type="radio"/>					
لم يجتاز	<input type="radio"/>					

<table border="1"> <tr> <td>اجتاز</td> <td><input type="radio"/></td> </tr> <tr> <td>لم يجتاز</td> <td><input type="radio"/></td> </tr> </table>	اجتاز	<input type="radio"/>	لم يجتاز	<input type="radio"/>	<p>س٤ / ضع دائرة حول الإجابة الصحيحة: أيّ الحيوانات التالية يعيش في البحيرة:</p> <table border="1"> <tr> <td></td> <td>ج</td> <td></td> <td>ب</td> <td></td> <td>أ</td> </tr> </table>		ج		ب		أ	<p>وصف مواطن الماء</p>
اجتاز	<input type="radio"/>											
لم يجتاز	<input type="radio"/>											
	ج		ب		أ							
<table border="1"> <tr> <td>اجتاز</td> <td><input type="radio"/></td> </tr> <tr> <td>لم يجتاز</td> <td><input type="radio"/></td> </tr> </table>	اجتاز	<input type="radio"/>	لم يجتاز	<input type="radio"/>	<p>س٥ / اختر الإجابة الصحيحة: من الموارد الطبيعية غير الحية: (الماء - الجمل - الخروف)</p>	<p>التعرف على الموارد الطبيعية ووصفها</p>						
اجتاز	<input type="radio"/>											
لم يجتاز	<input type="radio"/>											
<table border="1"> <tr> <td>اجتاز</td> <td><input type="radio"/></td> </tr> <tr> <td>لم يجتاز</td> <td><input type="radio"/></td> </tr> </table>	اجتاز	<input type="radio"/>	لم يجتاز	<input type="radio"/>	<p>س٦ / أيّ الصور التالية تدل على فصل الشتاء:</p> <table border="1"> <tr> <td></td> <td></td> <td></td> </tr> <tr> <td><input type="radio"/></td> <td><input type="radio"/></td> <td><input type="radio"/></td> </tr> </table>				<input type="radio"/>	<input type="radio"/>	<input type="radio"/>	<p>وصف كيفية تغير الفصول مع تغير الطقس</p>
اجتاز	<input type="radio"/>											
لم يجتاز	<input type="radio"/>											
												
<input type="radio"/>	<input type="radio"/>	<input type="radio"/>										
<table border="1"> <tr> <td>اجتاز</td> <td><input type="radio"/></td> </tr> <tr> <td>لم يجتاز</td> <td><input type="radio"/></td> </tr> </table>	اجتاز	<input type="radio"/>	لم يجتاز	<input type="radio"/>	<p>س٧ / أخط الإجابة الصحيحة: المادة التي تأخذ شكل الوعاء الذي توضع فيه هي: (الصلبة - السائلة - الغازية)</p>	<p>تحديد بعض خصائص المادة.</p>						
اجتاز	<input type="radio"/>											
لم يجتاز	<input type="radio"/>											

مديرة المدرسة:




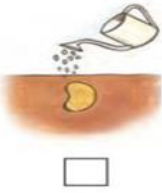







اسم المعلمة:

المشرفة التربوية:

*يرجى الاحتفاظ بالشواهد في ملف خاص بالمعلمة

اختبار تشخيصي مادة العلوم للصف الأول نموذج (٢)

الاسم/

<table border="1"> <tr> <td>اجتاز</td> <td>○</td> </tr> <tr> <td>لم يجتاز</td> <td>○</td> </tr> </table>	اجتاز	○	لم يجتاز	○	<p>س١ / اختر الإجابة الصحيحة: أي مما يلي يحتاج إلى الغذاء والماء والهواء:</p> <div style="display: flex; justify-content: space-around; align-items: center;"> <div style="text-align: center;">  <input type="checkbox"/> </div> <div style="text-align: center;">  <input type="checkbox"/> </div> <div style="text-align: center;">  <input type="checkbox"/> </div> </div>	<p>المقارنة بين المخلوقات الحية الأشياء غير الحية وتصنيفها</p>
اجتاز	○					
لم يجتاز	○					
<table border="1"> <tr> <td>اجتاز</td> <td>○</td> </tr> <tr> <td>لم يجتاز</td> <td>○</td> </tr> </table>	اجتاز	○	لم يجتاز	○	<p>س٢ / أيّ الصور التالية تمثل بذرة:</p> <div style="display: flex; justify-content: space-around; align-items: center;"> <div style="text-align: center;">  <input type="checkbox"/> </div> <div style="text-align: center;">  <input type="checkbox"/> </div> <div style="text-align: center;">  <input type="checkbox"/> </div> </div>	<p>وصف دورة حياة نبات.</p>
اجتاز	○					
لم يجتاز	○					
<table border="1"> <tr> <td>اجتاز</td> <td>○</td> </tr> <tr> <td>لم يجتاز</td> <td>○</td> </tr> </table>	اجتاز	○	لم يجتاز	○	<p>س٣ / صل الحيوان بمكان عيشه :</p> <div style="display: flex; justify-content: space-around;"> <div style="text-align: center;">  <input type="checkbox"/> </div> <div style="text-align: center;">  <input type="checkbox"/> </div> <div style="text-align: center;">  <input type="checkbox"/> </div> <div style="text-align: center;">  <input type="checkbox"/> </div> </div>	<p>وصف مواطن اليابسة.</p>
اجتاز	○					
لم يجتاز	○					
<table border="1"> <tr> <td>اجتاز</td> <td>○</td> </tr> <tr> <td>لم يجتاز</td> <td>○</td> </tr> </table>	اجتاز	○	لم يجتاز	○	<p>س٤ / ضع دائرة حول الإجابة الصحيحة: من مواطن المياه المالحة (المحيط - البحيرة)</p> <div style="text-align: center;">  <input type="checkbox"/> </div>	<p>وصف مواطن الماء</p>
اجتاز	○					
لم يجتاز	○					

س٥ / صل الصورة بما يناسبها:

التعرف على الموارد الطبيعية
ووصفها

اجتاز	<input type="radio"/>
لم يجتاز	<input type="radio"/>



س٦ / أكتب الكلمة المناسبة في الفراغ :

(الصيف - الخريف - الشتاء)



١- أشد الفصول برودة فصل

وصف كيفية تغير
الفصول مع تغير الطقس

اجتاز	<input type="radio"/>
لم يجتاز	<input type="radio"/>

س٧ / أكتب رقم كل عبارة في العمود (أ) أمام ما يناسبها في العمود(ب):

اجتاز	<input type="radio"/>
لم يجتاز	<input type="radio"/>

(ب)	(أ)
 <input type="checkbox"/>	(١) مادة صلبة شكلها ثابت.
 <input type="checkbox"/>	(٢) سوائل تنساب بسرعة.

تحديد بعض خصائص المادة.

مديرة المدرسة:











اسم المعلمة:










المشرفة التربوية:

*يرجى الاحتفاظ بالشواهد في ملف خاص بالمعلمة

اختبار تشخيصي مادة العلوم للصف الأول نموذج (٣)

الاسم/

<table border="1"> <tr> <td>اجتاز</td> <td><input type="radio"/></td> </tr> <tr> <td>لم يجتاز</td> <td><input type="radio"/></td> </tr> </table>	اجتاز	<input type="radio"/>	لم يجتاز	<input type="radio"/>	<p>س١ / اختر الإجابة الصحيحة: أي مما يلي مخلوق حي:</p> <div style="display: flex; justify-content: space-around; align-items: center;"> <div style="text-align: center;">  <input type="radio"/> </div> <div style="text-align: center;">  <input type="radio"/> </div> <div style="text-align: center;">  <input type="radio"/> </div> </div>	<p>المقارنة بين المخلوقات الحية الأشياء غير الحية وتصنيفها</p>
اجتاز	<input type="radio"/>					
لم يجتاز	<input type="radio"/>					
<table border="1"> <tr> <td>اجتاز</td> <td><input type="radio"/></td> </tr> <tr> <td>لم يجتاز</td> <td><input type="radio"/></td> </tr> </table>	اجتاز	<input type="radio"/>	لم يجتاز	<input type="radio"/>	<p>س٢ / حدد جزء النبات الذي ينبت ثم ينمو ويصبح نباتا جديدا:</p> <div style="display: flex; justify-content: space-around; align-items: center;">    </div>	<p>وصف دورة حياة نبات.</p>
اجتاز	<input type="radio"/>					
لم يجتاز	<input type="radio"/>					
<table border="1"> <tr> <td>اجتاز</td> <td><input type="radio"/></td> </tr> <tr> <td>لم يجتاز</td> <td><input type="radio"/></td> </tr> </table>	اجتاز	<input type="radio"/>	لم يجتاز	<input type="radio"/>	<p>س٣ / ضع علامة (✓) تحت الموطن الذي يتميز بكثرة أعشابه:</p> <div style="display: flex; justify-content: space-around; align-items: center;">    </div> <div style="display: flex; justify-content: space-around; align-items: center; margin-top: 20px;"> <input type="checkbox"/> <input type="checkbox"/> <input type="checkbox"/> </div>	<p>وصف مواطن اليابسة.</p>
اجتاز	<input type="radio"/>					
لم يجتاز	<input type="radio"/>					
<table border="1"> <tr> <td>اجتاز</td> <td><input type="radio"/></td> </tr> <tr> <td>لم يجتاز</td> <td><input type="radio"/></td> </tr> </table>	اجتاز	<input type="radio"/>	لم يجتاز	<input type="radio"/>	<p>س٤ / ضع دائرة حول الإجابة الصحيحة: من مواطن المياه العذبة . (المحيط - البحيرة)</p> <div style="text-align: center;">  </div>	<p>وصف مواطن الماء</p>
اجتاز	<input type="radio"/>					
لم يجتاز	<input type="radio"/>					

<table border="1"> <tr> <td>اجتاز</td> <td><input type="radio"/></td> </tr> <tr> <td>لم يجتاز</td> <td><input type="radio"/></td> </tr> </table>	اجتاز	<input type="radio"/>	لم يجتاز	<input type="radio"/>	<p>س٥ / اختر الإجابة الصحيحة: من الموارد الطبيعية الحية: (القلم - الحيوانات - الكتاب)</p>	<p>التعرف على الموارد الطبيعية ووصفها</p>						
اجتاز	<input type="radio"/>											
لم يجتاز	<input type="radio"/>											
<table border="1"> <tr> <td>اجتاز</td> <td><input type="radio"/></td> </tr> <tr> <td>لم يجتاز</td> <td><input type="radio"/></td> </tr> </table>	اجتاز	<input type="radio"/>	لم يجتاز	<input type="radio"/>	<p>س٦ / أكتب الكلمة المناسبة في الفراغ: (الخريف - الشتاء) ١ - يصبح الطقس معتدلاً وتتساقط أوراق بعض النباتات في فصل</p>	<p>وصف كيفية تغير الفصول مع تغير الطقس</p>						
اجتاز	<input type="radio"/>											
لم يجتاز	<input type="radio"/>											
<table border="1"> <tr> <td>اجتاز</td> <td><input type="radio"/></td> </tr> <tr> <td>لم يجتاز</td> <td><input type="radio"/></td> </tr> </table>	اجتاز	<input type="radio"/>	لم يجتاز	<input type="radio"/>	<p>س٧ / صل العبارة في العمود (أ) بما يناسبها في العمود(ب):</p> <table border="1"> <thead> <tr> <th data-bbox="359 862 782 918">(ب)</th> <th data-bbox="782 862 1236 918">(أ)</th> </tr> </thead> <tbody> <tr> <td data-bbox="359 918 782 1108">  </td> <td data-bbox="782 918 1236 1518" rowspan="3"> <p>مادة صلبة شكلها ثابت.</p> </td> </tr> <tr> <td data-bbox="359 1108 782 1294">  </td> </tr> <tr> <td data-bbox="359 1294 782 1518">  </td> </tr> </tbody> </table>	(ب)	(أ)		<p>مادة صلبة شكلها ثابت.</p>			<p>تحديد بعض خصائص المادة.</p>
اجتاز	<input type="radio"/>											
لم يجتاز	<input type="radio"/>											
(ب)	(أ)											
	<p>مادة صلبة شكلها ثابت.</p>											
												
												

مديرة المدرسة:

اسم المعلمة:

المشرفة التربوية:

*يرجى الاحتفاظ بالشواهد في ملف خاص بالمعلمة