



بسم الله الرحمن الرحيم  
ورقة عمل درس ( المواطنة )

اسم الطالب : ..... / الصف : سادس / .....

س / عرف مفهوم المواطنة ؟

ج / .....

س / اذكر اربعة من حقوق المواطن ؟

حقوق المواطن

٤  
.....


٣  
.....

٢  
.....

١  
.....

س / اذكر مظاهر انتماء الإنسان إلى وطنه ؟

مظاهر انتماء الإنسان إلى وطنه



بسم الله الرحمن الرحيم  
ورقة عمل درس ( المواطنة )

اسم الطالب : ..... / الصف : سادس / .....

س / عرف مفهوم المواطنة ؟

ج / .....

س / اذكر اربعة من حقوق المواطن ؟

حقوق المواطن

٤  
.....


٣  
.....

٢  
.....

١  
.....

س / اذكر مظاهر انتماء الإنسان إلى وطنه ؟

مظاهر انتماء الإنسان إلى وطنه





بسم الله الرحمن الرحيم

ورقة عمل درس ( الأمانة والصدق )

اسم الطالب : ..... الصف : سادس / .....

س / اذكر اثنين من مظاهر الأمانة ؟

- ج / ١ / .....
- ٢ / .....

س / ضع علامة ( √ ) أمام العبارة الصحيحة وعلامة ( × ) أمام العبارة الخاطئة فيما يلي :

- ١ - الأمانة ضد الخيانة
- ٢ - إهمال الأمانة يقود إلى عقاب دنيوي وعقاب في الآخرة
- ٣ - خيانة الوطن مخالف للأمانة

س / أكمل الفراغات الآتية بالكلمات المناسبة :

- الفساد      الأمن      الاستقرار      الغلاء

الأمانة تحقق ..... للوطن ، وتحافظ على الدين ، وتمنع .....  
وتؤدي إلى .....



بسم الله الرحمن الرحيم

ورقة عمل درس ( الأمانة والصدق )

اسم الطالب : ..... الصف : سادس / .....

س / اذكر اثنين من مظاهر الأمانة ؟

- ج / ١ / .....
- ٢ / .....

س / ضع علامة ( √ ) أمام العبارة الصحيحة وعلامة ( × ) أمام العبارة الخاطئة فيما يلي :

- ١ - الأمانة ضد الخيانة
- ٢ - إهمال الأمانة يقود إلى عقاب دنيوي وعقاب في الآخرة
- ٣ - خيانة الوطن مخالف للأمانة

س / أكمل الفراغات الآتية بالكلمات المناسبة :

- الفساد      الأمن      الاستقرار      الغلاء

الأمانة تحقق ..... للوطن ، وتحافظ على الدين ، وتمنع .....  
وتؤدي إلى .....



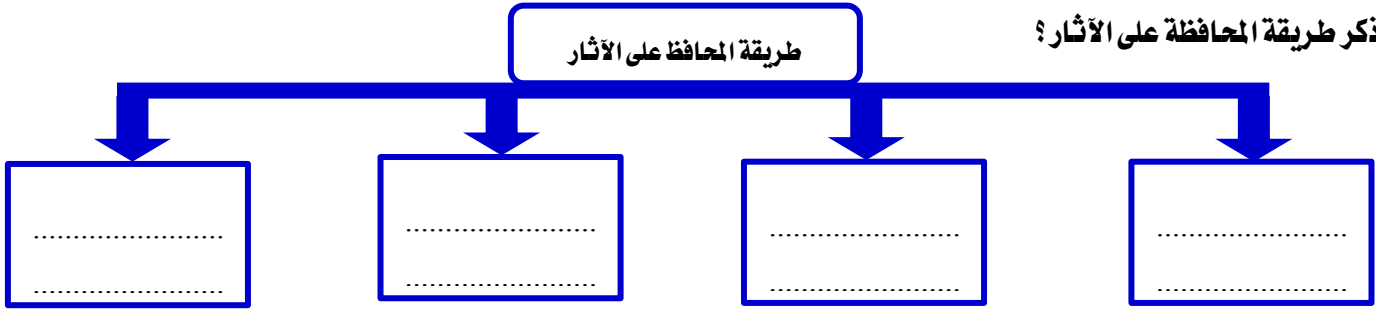
بسم الله الرحمن الرحيم  
ورقة عمل درس ( الآثار التاريخية الوطنية )

اسم الطالب : ..... الصف : سادس / .....

س / أكمل الفراغات التالية :

- أ - الآثار سجل ..... مهم للوطن .
- ب - من أمثلة أعمال التنقيب الأثري في وطني .....
- ج - الآثار ثروة وطنية والحفاظ عليها ..... وطني .

س / اذكر طريقة المحافظة على الآثار؟



س / ماذا يستفيد الوطن من الآثار :

- أ - .....
- ب - .....



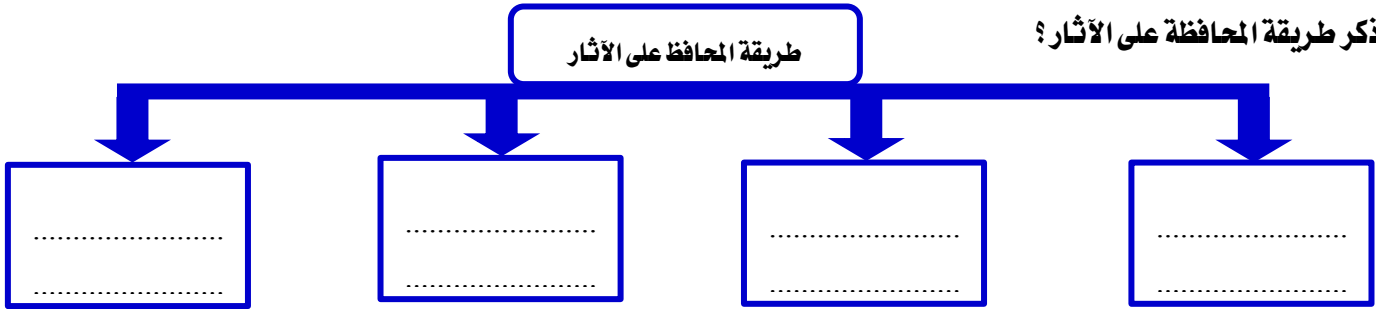
بسم الله الرحمن الرحيم  
ورقة عمل درس ( الآثار التاريخية الوطنية )

اسم الطالب : ..... الصف : سادس / .....

س / أكمل الفراغات التالية :

- أ - الآثار سجل ..... مهم للوطن .
- ب - من أمثلة أعمال التنقيب الأثري في وطني .....
- ج - الآثار ثروة وطنية والحفاظ عليها ..... وطني .

س / اذكر طريقة المحافظة على الآثار؟



س / ماذا يستفيد الوطن من الآثار :

- أ - .....
- ب - .....

بسم الله الرحمن الرحيم

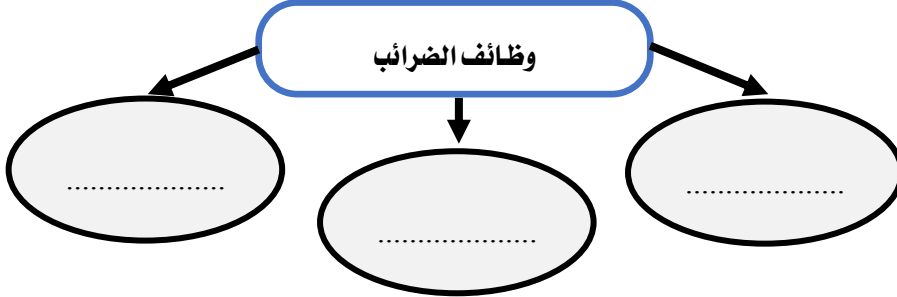
ورقة عمل درس ( الضرائب )

اسم الطالب : ..... / الصف : سادس / .....

س / عرف الضريبة ؟

ج / .....

س / اذكر وظائف الضرائب :



س / ضع علامة ( √ ) أمام العبارة الصحيحة وعلامة ( × ) أمام العبارة الخاطئة فيما يلي :

- ١ - الجهة التي تتولى تحصيل الضرائب في وطني هي الهيئة العامة للزكاة والدخل
- ٢ - ضريبة القيمة المضافة في وطني ١٠٪
- ٣ - تأسست الهيئة العامة للزكاة والدخل في عهد الملك عبدالعزيز عام ١٣٥٥هـ
- ٤ - أنشأ برنامج حساب المواطن لحماية المواطنين والأسر من ذوي الدخل المنخفض أو المتوسط

بسم الله الرحمن الرحيم

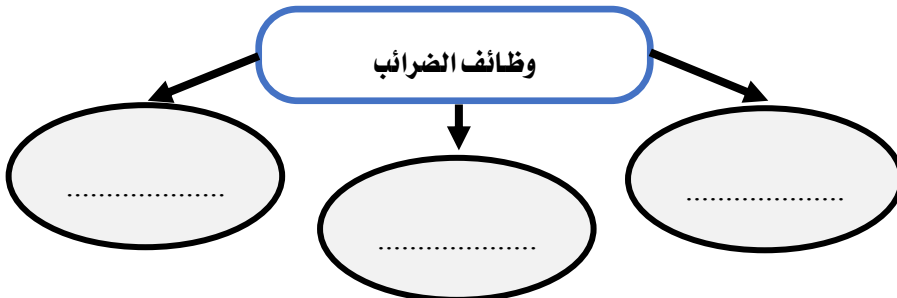
ورقة عمل درس ( الضرائب )

اسم الطالب : ..... / الصف : سادس / .....

س / عرف الضريبة ؟

ج / .....

س / اذكر وظائف الضرائب :



س / ضع علامة ( √ ) أمام العبارة الصحيحة وعلامة ( × ) أمام العبارة الخاطئة فيما يلي :

- ١ - الجهة التي تتولى تحصيل الضرائب في وطني هي الهيئة العامة للزكاة والدخل
- ٢ - ضريبة القيمة المضافة في وطني ١٠٪
- ٣ - تأسست الهيئة العامة للزكاة والدخل في عهد الملك عبدالعزيز عام ١٣٥٥هـ
- ٤ - أنشأ برنامج حساب المواطن لحماية المواطنين والأسر من ذوي الدخل المنخفض أو المتوسط



بسم الله الرحمن الرحيم

ورقة عمل درس ( خطوط الطول ودوائر العرض )

اسم الطالب : ..... الصف : سادس / .....

س / ما المقصود بخطوط الطول ودوائر العرض ؟

ج / .....

س / اذكر مزايا خطوط الطول ؟

مزايا خطوط الطول

.....

.....

س / ضع علامة (  $\checkmark$  ) أمام العبارة الصحيحة وعلامة (  $\times$  ) أمام العبارة الخاطئة فيما يلي :

١ - الخط الرئيسي لدوائر العرض هو خط الاستواء

٢ - يبلغ عدد دوائر العرض ٣٦٠ دائرة

٣ - تمكننا دوائر العرض من تحديد المناخ



بسم الله الرحمن الرحيم

ورقة عمل درس ( خطوط الطول ودوائر العرض )

اسم الطالب : ..... الصف : سادس / .....

س / ما المقصود بخطوط الطول ودوائر العرض ؟

ج / .....

س / اذكر مزايا خطوط الطول ؟

مزايا خطوط الطول

.....

.....

س / ضع علامة (  $\checkmark$  ) أمام العبارة الصحيحة وعلامة (  $\times$  ) أمام العبارة الخاطئة فيما يلي :

١ - الخط الرئيسي لدوائر العرض هو خط الاستواء

٢ - يبلغ عدد دوائر العرض ٣٦٠ دائرة

٣ - تمكننا دوائر العرض من تحديد المناخ

بسم الله الرحمن الرحيم  
ورقة عمل درس ( موقع وطني )

اسم الطالب : ..... الصف : سادس / .....

س / ما الفرق بين موقع وطني الفلكي وموقع وطني الجغرافي ؟

ج / .....

س / صنف سمات الموقع الجغرافي لوطني المملكة العربية السعودية في الجدول الآتي :

أول بيت وضع للناس	وجود بيت الله الحرام وقبلة المسلمين	تتوسط حضارات الصين والهند والحيشة	تتوسط شبه الجزيرة العربية
وجود مسجد الرسول محمد صلى الله عليه وسلم	تحيط بها ثمان دول عربية	مهد الحضارات	تقع في قلب قارات العالم آسيا وأوروبا وإفريقيا

سمات حضارية وتاريخية

.....

.....

.....

سمات دينية

.....

.....

.....

سمات سياسية واقتصادية

.....

.....

.....

بسم الله الرحمن الرحيم  
ورقة عمل درس ( موقع وطني )

اسم الطالب : ..... الصف : سادس / .....

س / ما الفرق بين موقع وطني الفلكي وموقع وطني الجغرافي ؟

ج / .....

س / صنف سمات الموقع الجغرافي لوطني المملكة العربية السعودية في الجدول الآتي :

أول بيت وضع للناس	وجود بيت الله الحرام وقبلة المسلمين	تتوسط حضارات الصين والهند والحيشة	تتوسط شبه الجزيرة العربية
وجود مسجد الرسول محمد صلى الله عليه وسلم	تحيط بها ثمان دول عربية	مهد الحضارات	تقع في قلب قارات العالم آسيا وأوروبا وإفريقيا

سمات حضارية وتاريخية

.....

.....

.....

سمات دينية

.....

.....

.....

سمات سياسية واقتصادية

.....

.....

.....



بسم الله الرحمن الرحيم  
ورقة عمل درس ( مناخ وطني )

اسم الطالب : ..... / الصف : سادس / .....

س / صف مناخ وطني المملكة العربية السعودية ؟

ج / .....

س / عدد العوامل المؤثرة في مناخ وطني المملكة العربية السعودية ؟

..... / ١

..... / ٢

س / اذكر سبب ما يأتي :

١ - اعتدال المناخ في المناطق الجنوبية الغربية من وطني المملكة العربية السعودية ؟

..... -

٢ - تفاوت نزول الأمطار في مناطق طني المملكة العربية السعودية ؟

..... -



بسم الله الرحمن الرحيم  
ورقة عمل درس ( مناخ وطني )

اسم الطالب : ..... / الصف : سادس / .....

س / صف مناخ وطني المملكة العربية السعودية ؟

ج / .....

س / عدد العوامل المؤثرة في مناخ وطني المملكة العربية السعودية ؟

..... / ١

..... / ٢

س / اذكر سبب ما يأتي :

١ - اعتدال المناخ في المناطق الجنوبية الغربية من وطني المملكة العربية السعودية ؟

..... -

٢ - تفاوت نزول الأمطار في مناطق طني المملكة العربية السعودية ؟

..... -



بسم الله الرحمن الرحيم  
ورقة عمل درس ( سكان وطني )

اسم الطالب : ..... الصف : سادس / .....

س / ما المقصود بالسكان ؟

ج / .....

س / اذكر اثنين من أسباب إجراء الدولة للتعداد السكاني ؟

ج / ١ / .....

٢ / .....

س / اختر الاجابة الصحيحة من بين الأقواس فيما يلي :

- |                                     |   |
|-------------------------------------|---|
| ١ - توزيع السكان في جميع مناطق وطني | ( متساوي - متغير باستمرار - متفاوت )    |
| ٢ - أكثر فئة من السكان في وطني      | ( صغار السن - متوسطو السن - كبار السن ) |
| ٣ - الأماكن التي يقل فيها السكان    | ( المدن - الصحراء - المحافظات )         |



بسم الله الرحمن الرحيم  
ورقة عمل درس ( سكان وطني )

اسم الطالب : ..... الصف : سادس / .....

س / ما المقصود بالسكان ؟

ج / .....

س / اذكر اثنين من أسباب إجراء الدولة للتعداد السكاني ؟

ج / ١ / .....

٢ / .....

س / اختر الاجابة الصحيحة من بين الأقواس فيما يلي :

- |                                     |   |
|-------------------------------------|---|
| ١ - توزيع السكان في جميع مناطق وطني | ( متساوي - متغير باستمرار - متفاوت )    |
| ٢ - أكثر فئة من السكان في وطني      | ( صغار السن - متوسطو السن - كبار السن ) |
| ٣ - الأماكن التي يقل فيها السكان    | ( المدن - الصحراء - المحافظات )         |





بسم الله الرحمن الرحيم  
ورقة عمل درس ( المشاركة المجتمعية )

اسم الطالب : ..... الصف : سادس / .....

س / اذكر فوائد المشاركة في المجتمع :

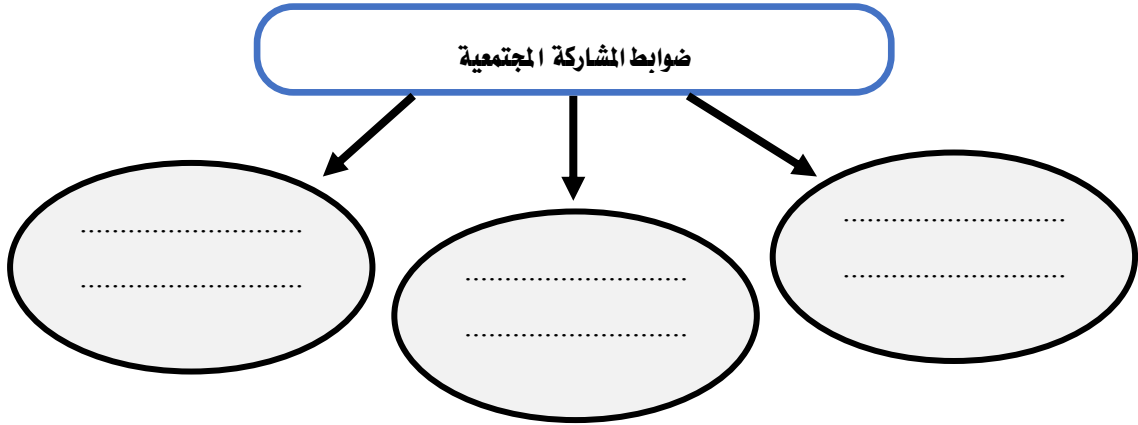
..... / ٢

..... / ١ ج

..... / ٤

..... / ٣

س / عدد ثلاثاً من ضوابط المشاركة المجتمعية :



بسم الله الرحمن الرحيم  
ورقة عمل درس ( المشاركة المجتمعية )

اسم الطالب : ..... الصف : سادس / .....

س / اذكر فوائد المشاركة في المجتمع :

..... / ٢

..... / ١ ج

..... / ٤

..... / ٣

س / عدد ثلاثاً من ضوابط المشاركة المجتمعية :

