

اختبار محاكي للاختبارات الوطنية (نافس) لمادة الرياضيات للصف الثالث الابتدائي

الاسم /

الثالث

١٠

اختر الإجابة الصحيحة فيما يلي:

١- لكي أتأكد من عملية الجمع استخدم

أ	الجمع	ب	الطرح	ج	الضرب	د	القسمة
---	-------	---	-------	---	-------	---	--------

٢- $٤+٤+٤$ أي من العمليات تمثلها؟

أ	٢×٣	ب	١×٤	ج	٧×٢	د	٣×٤
---	--------------	---	--------------	---	--------------	---	--------------


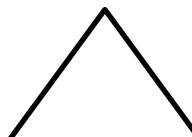
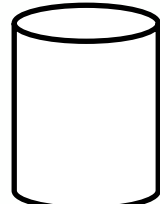

٣- $٣ \times ٢ =$

أ	٦	ب	٣	ج	٢٤	د	١٢٨
---	---	---	---	---	----	---	-----

٤- اذكر عدد الأضلاع والزوايا في الدائرة.

أ	٤	ب	٢	ج	١	د	٠
---	---	---	---	---	---	---	---

٥- حدد الشكل المختلف من بين الأشكال التي أمامك.

أ		ب		ج		د	
---	---	---	--	---	---	---	---

معلمة المادة: نهاده الحجابي

مديرة المدرسة : نقوا المولد