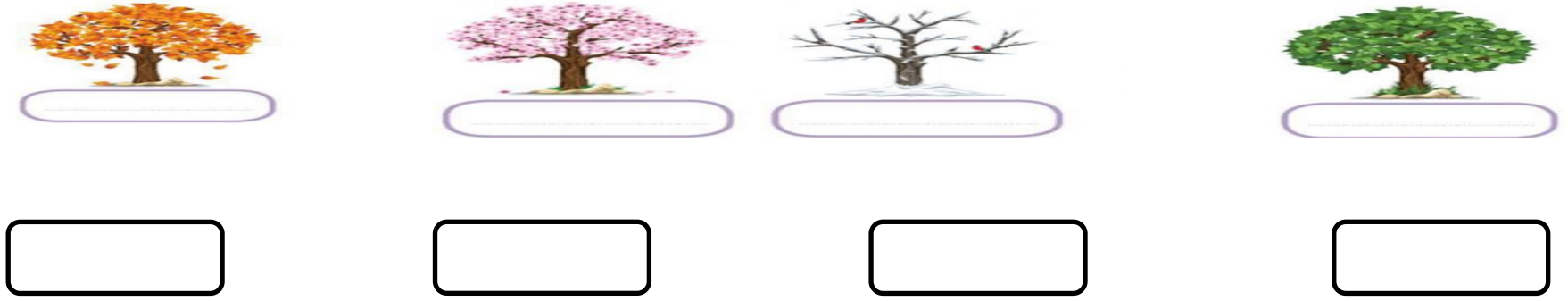


التاريخ:	 وزارة التعليم Ministry of Education	المملكة العربية السعودية
المادة: العلوم		وزارة التعليم
الصف: الأول الابتدائي		الإدارة العامة للتعليم بمنطقة .....
الفصل / .....		اسم الطالب/ة.....

## تقويم ختامي لمهارات علوم الصف الأول – (الفصل الدراسي الثالث) عام ١٤٤٤


السؤال الأول: نكتب (الصيف\_ الشتاء\_ الربيع\_ الخريف) تحت صورة كل فصل:



السؤال الثاني: نصل كل كلمة بالصورة المناسبة:



السؤال الثالث: نحدد موقع الأشياء ب (تحت \_ يمين - فوق \_ خلف ) تحت كل صورة :

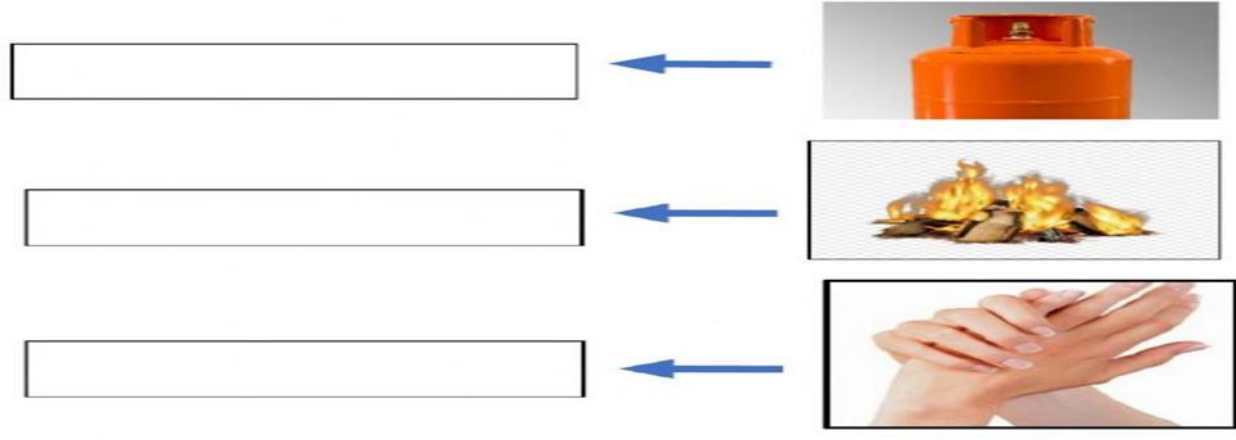


السؤال الرابع: \* نضع إشارة صح تحت الجسم الذي يسمح بمرور الضوء من خلاله :




ب/ ايهما نلبس في فصل الشتاء؟

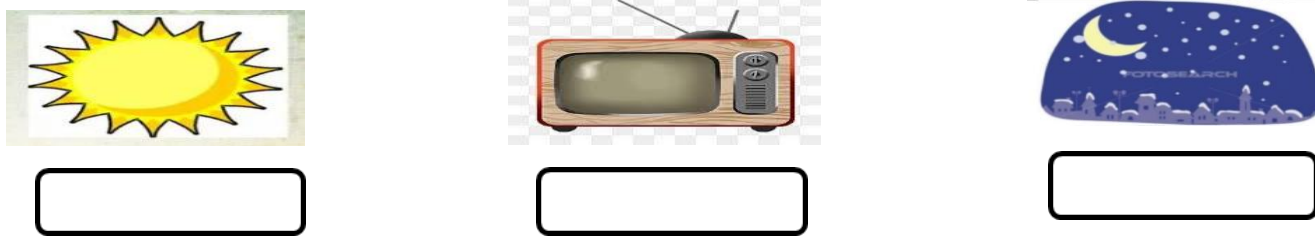
السؤال الخامس: نكتب مصادر الحرارة بجانب كل صورة ( الاحتكاك \* احتراق الخشب \* الغاز )



السؤال السادس: ١- أيهما يصدر صوت:



٢ / ما مصادر الضوء الطبيعية على الأرض:



السؤال السابع: ١- نصف نوع الحركة في الصور التالية ( دورانية \* مستقيم \* متعرج):



.....

ب- نصل كل مفردة بمعناها

مقدار البعد بين جسمين

السرعة

وصف حركة الجسم سريعة او بطيئة

المسافة



بالتوفيق يا صغاري

سكره الشمري