



موقع اجاباتكم

Google

للمزيد اكتب
في جوجل



موقع اجاباتكم

موقع اجاباتكم التعليمي يوفر كل ما يحتاجه الطالب
والمعلم من حلول الكتب توزيع المنهج. اختبارات
نهائية وفترية ملخصات. أوراق عمل والكثير



السؤال الأول: اختر الإجابة الصحيحة

١. يحدث الليل والنهار بسبب دوران الأرض حول

• القمر

• نفسها

٢. تدور الأرض حول الشمس في مدة قدرها

• سنة

• يوم

٣. المادة التي لها شكل محدد وثابت

• سائلة

• صلبة

٤. تحول الثلج الى ماء سائل يسمى

• انصهار

• تبخر

٥. القوة التي تسحب الاجسام نحو الارض

• الاحتكاك

• الجاذبية

السؤال الثاني: ضع علامة (✓) أو (✗)

١. الهواء له كتلة وحجم. ()

٢. القمر يدور حول الارض. ()

٣. قوة الدفع هي القوة التي تسحب الأشياء نحو. ()

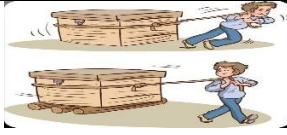









٤. الحرارة شكل من اشكال الطاقة تجعل الأشياء ساخنة ()

٥. التغير الكيميائي هو الذي ينتج عنه مادة جديدة ()

معلمة المادة / وفاء الزهراني

الاختبار التشخيصي لمادة العلوم الصف الثاني الابتدائي - الفصل الثاني

اسم الطالب / الصف /

 <p>ماذا نطلق على عملية دفع أو سحب الأجسام؟</p>			
الجاذبية	الاحتكاك	السرعة	القوة
 <p>أي قوة هي التي تجعل الكرة تسقط نحو الأرض بعد رميها عالياً؟</p>			
قوة المغناطيسية	قوة الدفع	قوة السحب	قوة الجاذبية
 <p>عندما يفرك الشخص يديه معاً في الشتاء، فإنه يشعر بالدفع بسبب قوة:</p>			
جاذبية	دفع	سحب	احتكاك
 <p>ما هي المادة التي تنجذب للمغناطيس؟</p>			
الحديد	الخشب	الورق	القماش
 <p>ماذا نسمي الطاقة التي تجعل الأجهزة مثل التلفاز والثلاجة تعمل؟</p>			
الكهرباء	المغناطيس	الحرارة	الصوت
 <p>من أين تأتي معظم الحرارة التي تدفئ سطح الأرض؟</p>			
النجوم	الرياح	النجوم	الشمس
 <p>أي مما يلي يعتبر مصدراً للضوء؟</p>			
المرآة	المصباح الكهربائي	الطاولة	الكتاب
 <p>كيف يحدث الصوت؟</p>			
عن طريق الاهتزاز	عن طريق السكون	عن طريق الضوء	عن طريق التبريد
 <p>أي من هذه الأشياء يحتاج إلى دفع لتحريكه؟</p>			
فتح الدرج	فتح السيارة	عربة التسوق	الركض
 <p>ماذا يحدث عند تقريب قطبين شماليين لمغناطيسين من بعضهما؟</p>			
يتجاذبان	يتنافران (يبتعدان)	يصدران صوتاً	يتحولان إلى خشب

من إعداد المعلمة: سمية العباد



اسم الطالبة/.....

الصف/ الثاني الابتدائي

المادة/ العلوم



المملكة العربية السعودية

وزارة التعليم

الإدارة العامة للتعليم بمنطقة


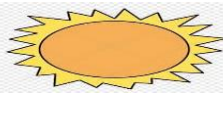


اختبار تشخيصي لمادة العلوم الصف الثاني لعام ١٤٤٥ هـ

(درجتان لكل فقرة)

١٠ درجات

* / نضع علامة (٤) تحت الأجوبة الصحيحة :





١ / أي المراحل التالية تمثل بداية السلسلة الغذائية :

أ	ب	ج	د
			

٢ / كيف تختلف النباتات عن باقي المخلوقات ؟

أ	ب	ج	د
تحتل مكان صغير	تحتاج للهواء لتنمو	تحتاج للماء لتعيش	تنتج غذاءها من الشمس

٣ / أي من هذه المواطن تعيش فيها السحلية :

أ	ب	ج	د
			

٤ / ما الخاصية التي ساعدت الدب القطبي على العيش في المنطقة القطبية :

أ	ب	ج	د
الفرو السميك	العيون الحادة	الحراشيف	الأسنان الحادة

٥ / المرحلة الأخيرة من دورة حياة الفراشة هي :

أ	ب	ج	د
