

التاريخ : / / 1444هـ
الفصل الدراسي: الأول (الدور الأول)
الزمن : ساعة



المملكة العربية السعودية
وزارة التعليم
إدارة التعليم بمنطقة
مكتب التعليم بمحافظة

اختبار مادة الدراسات الاجتماعية للصف الرابع الابتدائي لعام 1444هـ

اسم الطالب: رقم الجلوس ()

المراجع	المصحح	الدرجة رقماً	الدرجة كتابة	رقم السؤال
				السؤال الأول 15
				السؤال الثاني 15
				السؤال الثالث 10
	كتابة		رقماً	الدرجة النهائية
				40

استعن بالله أولاً، ثم أجب على الأسئلة الآتية وتأكد من إجابتك على جميع الأسئلة قبل تسليم ورقة الإجابة

اختر الإجابة الصحيحة فيما يلي :

يقع وطني المملكة العربية السعودية في :			1
جنوب العالم	شمال العالم	وسط العالم	
من عناصر التاريخ :			2
الانتاج	الموقع	الشخصيات	
من عناصر الجغرافيا :			3
التبادل التجاري	الأحداث	البيئة	
من عناصر الاقتصاد:			4
الزمن	الحركة	الموارد والاستهلاك	
من عناصر الحكومة :			5
البيئة	الأحداث	نظام الحكم	
يوم التأسيس لبلادي يوافق يوم :			6
22 فبراير	25 مايو	15 يناير	
اليوم الوطني لبلادي يوافق يوم:			7
23 سبتمبر	3 مايو	15 يناير	
علم وطني لونه :			8
أخضر	أصفر	أبيض	
عاصمة المملكة العربية السعودية هي مدينة:			9
الرياض	مكة المكرمة	جدة	
يقع المسجد الحرام في مدينة :			10
مكة المكرمة	المدينة المنورة	جدة	
هو الشخص الذي يدرس الماضي ويكتب عنه :			11
السياسي	المؤرخ	الجغرافي	
كان الناس قديما يكتبون ويرسمون أحداثهم التاريخية على :			12
جهاز الحاسب	الحجر	الجوال	
يتكون وطني المملكة العربية السعودية من :			13
11 منطقة	13 منطقة	10 مناطق	
هو الشخص الذي يدرس مظاهر الأرض وطبيعتها :			14
السياسي	الجغرافي	المؤرخ	
التعامل السليم مع البيئة :			15
رمي النفايات	أنظف المكان قبل أن أتركه	قطع الأشجار	

السؤال الثاني:

15

ضع علامة (√) أمام الإجابة الصحيحة وعلامة (x) أمام الإجابة الخاطئة :

1	نظام الحكم في المملكة العربية السعودية نظام ملكي .
2	من طرق المحافظة على العلم الوطني السعودي رفعه عاليا .
3	الشعار السعودي الرسمي هو سيفان متقاطعان وسطهما نخلة.
4	من الرموز الوطنية في المملكة العربية السعودية العلم .
5	النشيد الوطني هو النشيد الرسمي للمملكة العربية السعودية .
6	الحكومة : النظام الذي يدار به الوطن .
7	التاريخ هو دراسة أحداث الماضي وتفسيرها لتوضيح أثرها في الحاضر والمستقبل
8	الإشاعة هي نقل الكلام دون التثبت من صحته.
9	جميع أحداث التاريخ تقوم على الترتيب الزمني وتتابعه.
10	من طرق المحافظة على البيئة ترك بقايا الطعام في مكان جلوسى.
11	الشرق والغرب من الجهات الفرعية .
12	ينكس العلم السعودي مثل غيره من أعلام الدول الأخرى.
13	مما نعمله في اليوم الوطني تخريب الممتلكات العامة.
14	من فروع الدراسات الاجتماعية الرياضيات .
15	الإشاعة لاتضر المجتمع .

10

السؤال الثالث:

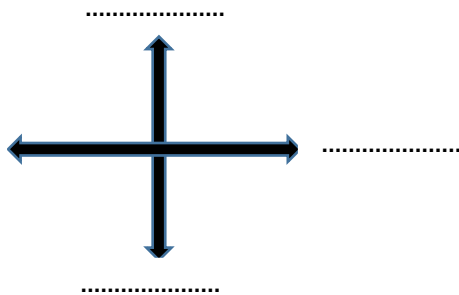
(أ) املأ الفراغات بما يناسبها من الكلمات التالية:

(الدليل - التاريخ - أولية - المكان - بشرية - البضائع)

- 1- يبحث المؤرخ عن من أجل أن يدرس
- 2- الآثار والشواهد القديمة هي مصادر
- 3- الجزء المحدد على الأرض صغيرا كان أو كبير يسمى
- 4- الحركة هي انتقال الناس و من مكان إلى آخر.
- 5- للجغرافيا فرعان : طبيعية و

(ب) حدد الجهات الأصلية في الشكل الذي أمامك :

(الشمال - الجنوب - الشرق - الغرب)



تمنياتي لكم بالتوفيق والنجاح

بسم الله الرحمن الرحيم

اسم الطالب:		المملكة العربية السعودية
المادة: الدراسات الاجتماعية		وزارة التعليم
الصف: الرابع الابتدائي		إدارة تعليم
الزمن : ساعة		مدرسة
40		الدرجة كتابة:
توقيعه		اسم المصحح
توقيعه		اسم المراجع
إختبار نهاية الفصل الدراسي الأول (الدور الأول) لعام 1444هـ		

استعن بالله ثم أجب عن الأسئلة التالية:

20

السؤال الأول: ضع علامة (√) أمام العبارة الصحيحة وعلامة (X) أمام العبارة الخاطئة:

1	الجهات الأصلية هي : الشمال والجنوب والشرق والغرب
2	رسم الإنسان الخرائط واستعملها منذ آلاف السنين
3	كان الناس قديماً يكتبون على الحجر
4	كان وطني قبل التوحيد جهات متفرقة
5	تستعمل الخرائط لمعرفة الأماكن
6	يجب الفخر والإعتزاز بالوطن وتراثه
7	توفر لنا حكومة وطني التعليم والصحة
8	تشرق الشمس من جهة الشرق
9	تغرب الشمس من جهة الغرب
10	يحتوي علم وطني على السيف الدال على الحق
11	العلم هو رمز الدولة وهويتها
12	العدل أساس الحكم في وطني
13	الحكومة: النظام الذي يدار به الحكم
14	العرضة السعودية من الفنون الشعبية في المملكة العربية السعودية
15	الثقافة الوطنية : هي أساليب حياة الناس وطريقة معيشتهم وتفاعلهم مع المجتمع
16	معرفة السبب والنتيجة تساعدنا على فهم أحداث التاريخ
17	يتكون وطني من 100 منطقة
18	الجهات الأصلية والفرعية لا نستفيد منها
19	أترك بقايا الطعام في المكان الذي أجلس فيه
20	من فروع الدراسات الاجتماعية الرياضيات

السؤال الثاني : اختر الإجابة الصحيحة:

20

1- يقع وطني المملكة العربية السعودية في قارة:			
آسيا	أوروبا	إفريقيا	أستراليا
2- نظام الحكم في وطني هو نظام:			
ملكي	رئاسي	برلماني	فيدرالي
3- من نماذج الدراسات الاجتماعية التي تهتم بدراسة الخرائط:			
جغرافيا	تاريخ	حكومة	اقتصاد
4- دراسة الماضي للإستفادة منه:			
تاريخ	اقتصاد	كيمياء	فيزياء
5- الشخص الذي يدرس الماضي ويكتب عنه:			
مؤرخ	سياسي	اقتصادي	جغرافي
6- إذا كانت الشمس أمامك في الصباح واتجهت إلى اليمين فأتجاهك يكون لل:			
الجنوب	الشمال	الشرق	الغرب
7- هو شكل يرمز إلى معانٍ ترتبط بالوطن :			
الشعار الوطني	مصر	السياسية	الاقتصاد
8- من الكلمات التي لها علاقة بالتاريخ:			
الأمس	الآن	اليوم	غدا
9- عندما أسأل ما هو ؟ فإنني أسأل عن:			
الطبيعية	المدن	القطارات	الطائرات
10- كل ما يتعلق بالكرة الأرضية وتكوينها والظواهر الطبيعية والبشرية هو:			
الرياضيات	الاقتصاد	الجغرافيا	الحكومة
11- الجهة الفرعية التي تقع بين الشمال والشرق هي :			
الجنوب	الغرب	الشمال الشرقي	الشرق
12- المكان الذي يعيش فيه الانسان فيتأثر به ويؤثر فيه هو :			
الإشاعة	المصادر	البيئة	الخرائط
13- يسمى تحول الأراضي الخصبة إلى أراضي صحراوية مع مرور الزمن:			
زلازل	مجاعة	تصحّر	محمية
14- يسمى يوم توحيد البلاد ب :			
اليوم المشمس	اليوم الرياضي	اليوم الوطني	السياحة
15- هو رسم تخطيطي يوضح الترتيب الذي وقعت فيه الأحداث وفق تسلسلها الزمني:			
الفلك	رأس المال	الخط الزمني	المستهلك
16- من واجبات المواطن:			
السرقه	تخريب الممتلكات	احترام الاخرين	نقل الاشاعة
17- هو رموز وأسماء لمكان محدد بحيث يسهل الوصول إليه :			
البحر	الوادي	العنوان الوطني	السحب
18- يتميز العلم السعودي بأنه:			
كبير	صغير	لاينكس أبدا	أسود
19- هي نقل الكلام دون التثبت من صحته:			
الوحدة	الحضارة	الإشاعة	الآثار
20- من مظاهر التعامل السليم مع البيئة أن:			
رمي النفايات	قطع الأشجار	أنظف المكان قبل تركه	أقتل الحيوانات

السؤال الأول : أ) ضعِي إشارة (√) امام الإجابة الصحيحة وإشارة (×) أمام الإجابة الخاطئة:

1	تشرق الشمس من جهة الشمال
2	الإشاعة ضارة بالمجتمع ونهانا عنها الله ورسوله
3	كان وطني قبل التوحيد جهات متفرقة
4	المؤرخ هو الشخص الذي يدرس الماضي ويكتب عنه
5	تستعمل الخرائط لمعرفة الأماكن
6	من التفاعل السليم مع البيئة أنظف المكان قبل تركه
7	يجب الفخر والاعتزاز بالوطن وتراثه
8	يجب علينا أن نرفع علم الوطن ونحترمه
9	توفر لنا حكومة وطني التعليم والصحة
10	من مكونات الثقافة في وطني اللغة والدين
11	الحكومة هي النظام الذي يدار به الوطن
12	يحتوى علم بلادي على السيف الدال على الحق

(ب) : اختاري الإجابة الصحيحة فيما يلي بوضع دائرة عليها:

1	تتكون بلادي المملكة العربية السعودية من منطقة
أ	14 ب 13 ج 15
2	يقع وطني المملكة العربية السعودية العالم
أ	وسط ب قلب ج شمال
3	من عناصر التاريخ

أ	الإنتاج	ب	الشخصيات	ج	البيئة
4	هي كل ما يتعلق بالكرة الأرضية وتكويناتها				
أ	الاقتصاد	ب	الجغرافيا	ج	الرياضيات
5	الشخص الذي يدرس الجغرافيا هو				
أ	اقتصادي	ب	جغرافي	ج	سياسي
6	الشمال الشرقي هي الجهة الواقعة بين الشمال و				
أ	الشرق	ب	الغرب	ج	الجنوب
7	هو تحول الأرض الخصبة إلى صحراء				
أ	التصحّر	ب	الحدائق	ج	الغابات
8	انتقال الناس والبضائع من مكان الى اخر يسمى				
أ	الحركة	ب	سياسة	ج	الإنتاج
9	تقسم الجهات الأصلية إلى جهات				
أ	4	ب	5	ج	6
10	نظام الحكم في وطني				
أ	ملكي	ب	جمهوري	ج	دستوري
11	عاصمة بلادي المملكة العربية السعودية				
أ	الرياض	ب	الطائف	ج	تبوك
12	الشعار السعودي الرسمي هو سيفان متقاطعان و وسطها				
أ	نخلة	ب	صقر	ج	درع

السؤال الثاني: (أ) أملئ الفراغ بالكلمات المساعدة :

الآثار	الحجر	أين هو
	الإشاعة	النتيجة

- (1) هي نقل الكلام دون التثبت من صحته.....
- (2) كان الناس قديماً يكتبون على
- (3) من المصادر الأولية التي يعتمد عليها المؤرخ
- (4) هي ما ينتج عن الحدث
- (5) من أسئلة الجغرافي

ب) صلي العمود الأول بما يناسبه من العمود الثاني (باستخدام الأرقام)

(أ)	(ب)
(1) من أسئلة التاريخ	الوطن
(2) من فروع الدراسات الاجتماعية	العلم
(3) رمز الدولة و هويتها	الاقتصاد
(4) بقعة الأرض التي تنتمي إليها	ماذا حدث

السؤال الثالث: أ) ضعي التاريخ المناسب في مكانه (23 سبتمبر - 22 فبراير)

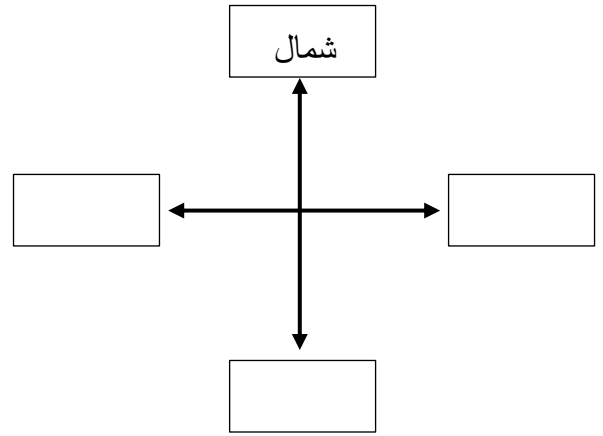
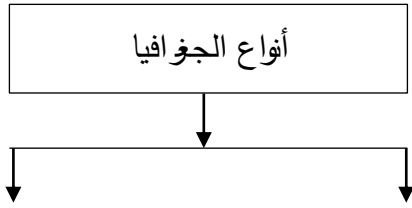
2

1- يوم التأسيس يوافق من كل عام

2- اليوم الوطني يوافق من كل عام

ب) أكملِي الرسم التالي (الجهات الأصلية)

5



تمت الأسئلة

تمنياتي لكم بالتوفيق