

اختبار الفترة الأولى للفصل الدراسي الثالث لمادة الرياضيات (الصف الرابع) عام 1444هـ


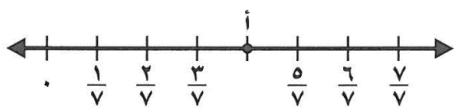
٢٠

الاسم:

اختر الإجابة الصحيحة فيما يلي (إجابة واحدة فقط)

1- التقدير الأنسب لقياس سعة عبوة عصير هو:							
أ	10 مللتر	ب	200 مللتر	ج	10 لتر	د	200 لتر
2- حجم الجسم في الشكل المجاور هو:							
أ	4 وحدة مكعبة	ب	8 وحدة مكعبة	ج	12 وحدة مكعبة	د	24 وحدة مكعبة
3- التقدير الأنسب لقياس كتلة جمل هو:							
أ	3 كجم	ب	300 كجم	ج	3 جم	د	300 جم
4- أفضل تقدير لقياس سمك خيط صوف هو :							
أ	2 ملم	ب	2 سم	ج	2 م	د	2 كلم
5- صبغ سعد $\frac{2}{5}$ من حائط غرفته . وصبغ والده $\frac{1}{5}$ من الحائط نفسه . الجزء المصبوغ من الحائط هو:							
أ	$\frac{1}{5}$	ب	$\frac{2}{5}$	ج	$\frac{3}{5}$	د	$\frac{1}{10}$
6- تكون الساعة بعد 25 دقيقة:							
أ	11:00	ب	10:00	ج	9:00	د	8:00

أكمل الفراغات الآتية بما يناسبها:

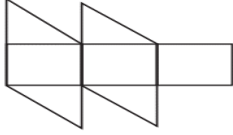
	1	الكسر الذي يمثل الجزء المظلل في الشكل المجاور هو
	2	الكسر الذي يمثل النقطة (i) على خط الأعداد هو

3 مربع طول ضلعه 4 سم فإن محيطه =

4 الوحدة المناسبة لقياس المسافة من الرياض إلى مكة المكرمة هي

5 = $\frac{3}{\sqrt{}}$ - $\frac{4}{\sqrt{}}$

6 العدد المناسب لوضعه في $\frac{3}{4}$ = $\frac{9}{\square}$ ببح الجملة $\frac{3}{4}$ هو م \square حة هو



7 تقدير مساحة الشكل المجاور =

● صورة مستطيلة الشكل ، طولها 11 سم وعرضها 8 سم . إذا اردنا أن نعلقها على حائط ، فما المساحة التي ستشغلها الصورة على الحائط ؟



أقارن بين الكسور مستعملاً (= ، < ، >) :



$\frac{1}{3}$ ● $\frac{2}{6}$

$\frac{5}{6}$ ● $\frac{2}{3}$

$\frac{1}{4}$ ● $\frac{4}{8}$

كتب أحمد على البطاقات أسماء 4 حيوانات الزرافة و الأسد و الفيل و الديك ، حيث كتب على البطاقة الأخيرة اسم الحيوان الأطول ، وعلى البطاقة الثانية الحيوان المفترس ، وعلى البطاقة الأولى الحيوان الأكبر حجماً، إذا كيف كتب الأسماء على البطاقات ؟



انتهت الأسئلة