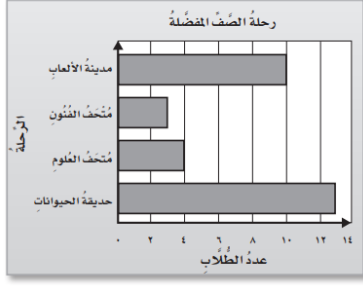


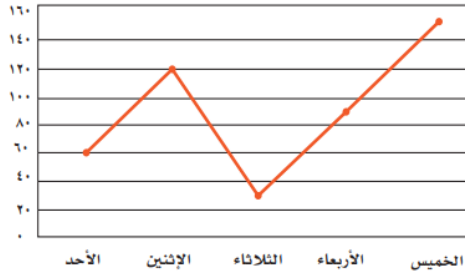
اختبار الرياضيات _ رابع _ الفصل ٣ و ٤

أسم الطالب :



التمثيل بالأعمدة للرحلات المفضلة لطلاب الصف الرابع

- 1 : ما مجموع عدد الطلاب لكل الرحلات (.....)
- 2 : ما الفرق بين عدد طلاب حديقة الحيوانات و مدينة الألعاب (.....)
- 3 : كم يزيد طلاب حديقة الحيوانات على طلاب متحف الفنون (.....)



التمثيل بالخطوط للدقائق التي يقضيها فهد على التلفاز

- 1 : اليوم الذي يجلس فيه أكثر دقائق على التلفاز (.....)
- 2 : أقل الدقائق التي يجلس فيها على التلفاز (.....)
- 3 : كم الدقائق التي يجلسها يوم الأربعاء (.....)

المشروبات المفضلة لطلاب الصف الرابع



- 1 : المشروب الأكثر تفضيلاً هو (.....) والجزء الذي يمثله هو ($\frac{1}{4}$ أم $\frac{1}{3}$ أم $\frac{1}{2}$)
- 2 : ربع ($\frac{1}{4}$) الطلاب يفضلون عصير (.....)

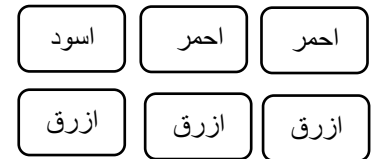
الألوان المفضلة للطلاب	
الألوان	التكرار
احمر	
اخضر	
ابيض	

الألوان المفضلة للطلاب	
الألوان	الاشارات
احمر	
اخضر	
ابيض	

مثل الألوان المفضلة لدى الطلاب في الجداول

احمر احمر احمر
اخضر أخضر اخضر
اخضر اخضر اخضر
أبيض ابيض


لدى المعلم بطاقات ملونة كما التالي



- | | |
|----------------|----------------------|
| الأرقام | الكلمات |
| من | أخضر |
| من | أزرق |
| من | أزرق أو أسود أو أحمر |

صف بالكلمات والأرقام احتمال السحب منها دون النظر

أكتب الجملة والعبارة العددية للتمثيل



الجملة العددية :
العبارة العددية :



الجملة العددية :
العبارة العددية :

ضع العملية (+ أو -) في لتكون الجمل العددية صحيحة

$15 = 7 \bigcirc 22$

$20 > 9 \bigcirc 18$

$14 = 11 \bigcirc 3$

في حديقة سارة ٣٠ وردة ، غرست إضافة لما في الحديقة ٧ ، وذبلت ١٥ وردة ، فكم وردة بقية في الحديقة ؟
العبارة العددية : (.....)
الجملة العددية (.....)
بالكلمات (.....)
التمثيل بالرسم :

أكتشف وأكتب القاعدة واكمل المدخلات والمخرجات

القاعدة: $3 \div \Delta$	
المخرجة □	المدخلة Δ
■	٢٧
■	٢٤
■	٢١
■	١٨

القاعدة: $9 - \Delta$	
المخرجة □	المدخلة Δ
■	١٧
■	١٨
■	١٩
■	٢٠

القاعدة:			
عدد القوارب	٣	٤	٧
عدد الأسرعة	١٨	■	٦٣

صف النمط الذي تلاحظه في الجدول

.....

أختر الإجابة الصحيحة :

الخطوة الثالثة لحل المسألة
أخطئ
أحل

$14 = 2 \times \Delta$ = المدخلة =
٦
٧

$2 + 23$
عبارة عددية
جملة عددية

الدرجة

 /

مع تمنياتي لكم بالتوفيق المعلم : عبدالرحمن الفيافي