



اختبار منتصف الفصل الدراسي الثالث مادة العلوم للصف السادس ابتدائي للعام الدراسي ١٤٤٥ هـ

اسم الطالبة: الصف:

السؤال الأول: اختيار الإجابة الصحيحة



١- أي التغيرات التالية تغير كيميائي؟

أ	تبخر الماء	ب	تقطيع الخشب	ج	ذوبان السكر	د	حرق الخشب
٢- المادة التي تحول ورقة تباع الشمس الى اللون الأزرق هي.....							
أ	الاحماض	ب	القواعد	ج	التفاعلات	د	البناء الضوئي
٣- تسمى التفاعلات التي تطلق طاقة.....							
أ	تفاعلات ماصة	ب	تفاعلات طاردة	ج	الكواشف	د	القاعدة
٤- المواد التي تنتج عن التغير الكيميائي تسمى.....							
أ	مواد متفاعلة	ب	مواد ناتجة	ج	عناصر	د	كواشف
٥- المواد المتعادلة ومنها الماء يكون الرقم الهيدروجيني لها.....							
أ	صفر	ب	٧	ج	١٢	د	١٤

السؤال الثاني: اضع علامة ✓ او ✗ امام العبارات التالية



١. تتكون المواد من ذرات ترتبط معاً.	<input type="radio"/>
٢. الحمض مادة ذات طعم لاذع.	<input type="radio"/>
٣. القواعد لها رقم هيدروجيني اكبر من ٧	<input type="radio"/>
٤. الصيغة الكيميائية للماء هي H ₂ O	<input type="radio"/>
٥. وزني على القمر أقل من وزني على الأرض.	<input type="radio"/>

السؤال الثالث: اضع المصطلحات التالية في مكانها المناسب



الكتلة

الذائبية

الموصلات

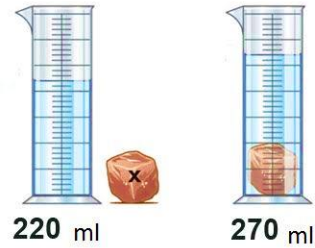
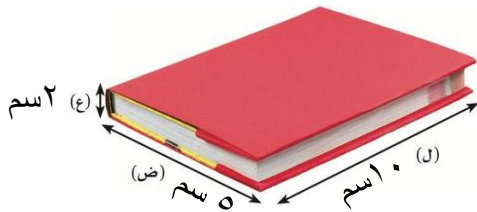
الكاشف

العوازل

قانون حفظ الكتلة

١.	أكبر كمية من المذاب يمكن إذابتها في كمية معينة من المحلول.
٢.	مادة يتغير لونها مع وجود الحمض أو القاعدة.
٣.	لا فلزات تقاوم انتقال الكهرباء والحرارة من خلالها.
٤.	الكتلة لا تزيد ولا تنقص في عملية اعداد المخاليط.
٥.	هي مقدار ما في الجسم من مادة.

السؤال الرابع: أكمل الفراغات التالية بما يناسبها




حجم الكتاب

حجم الحجرة

احدد نوع التفاعلات التالية:



”ليس العلم ما حُفِظَ،
إنما العلم ما نَفَعَ“



انتهت الاسئلة
دعواتي لكن بالتوفيق والنجاح
العلماء: أملي الزهراني