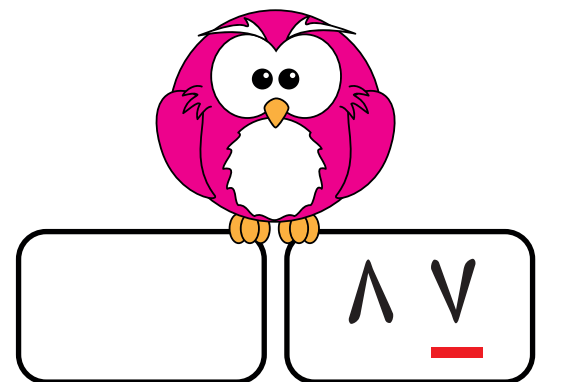
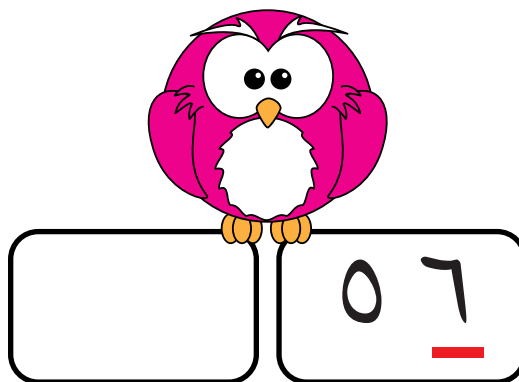

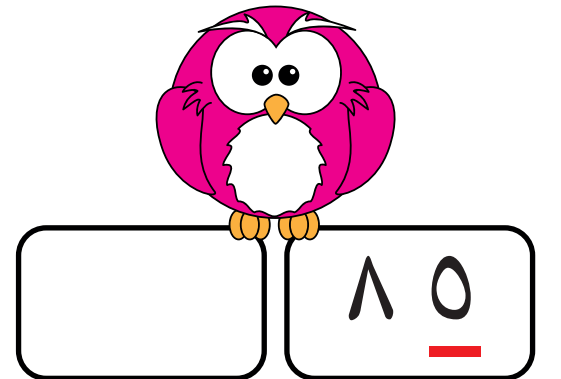
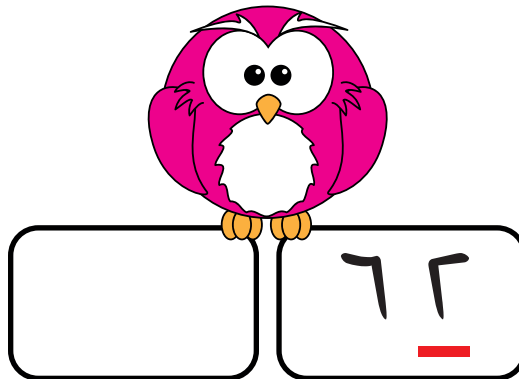
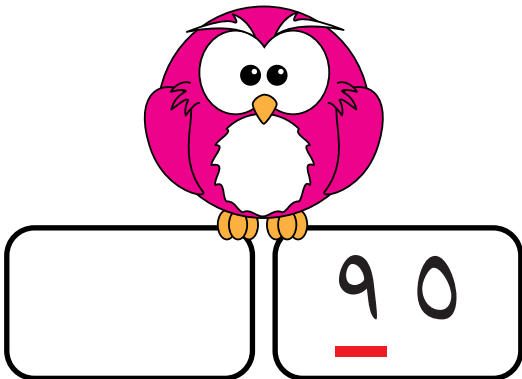
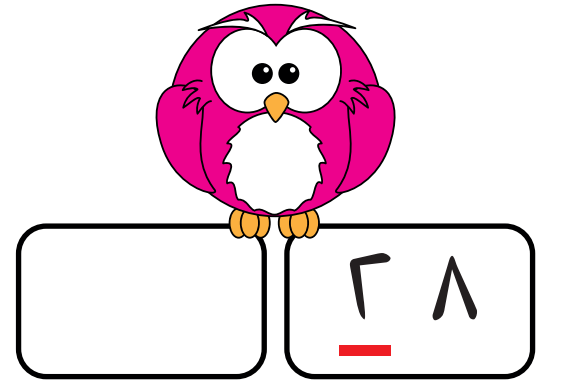
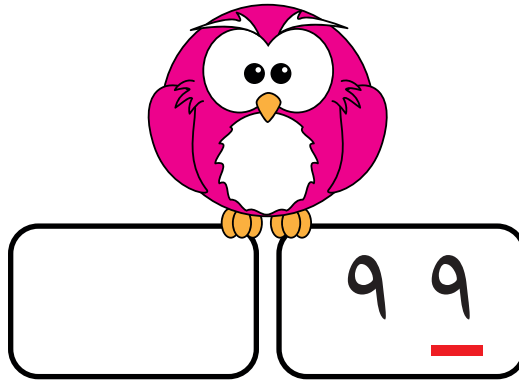
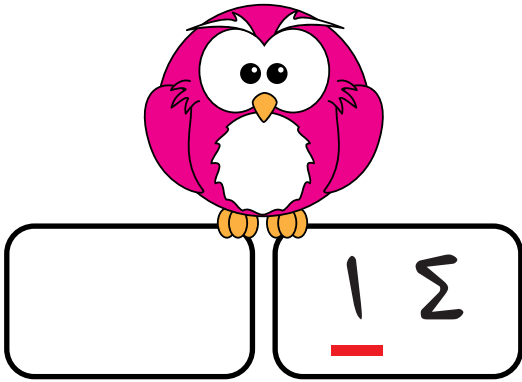
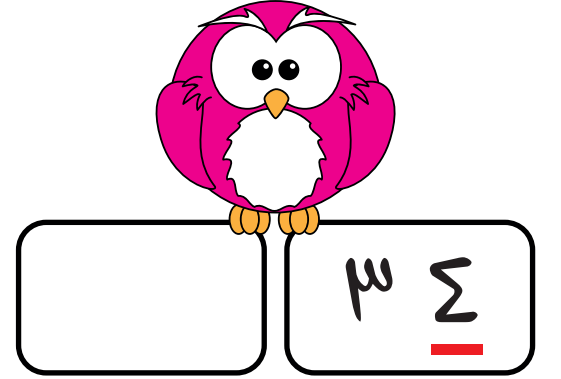
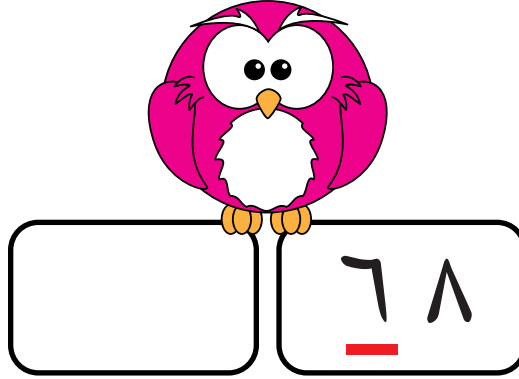
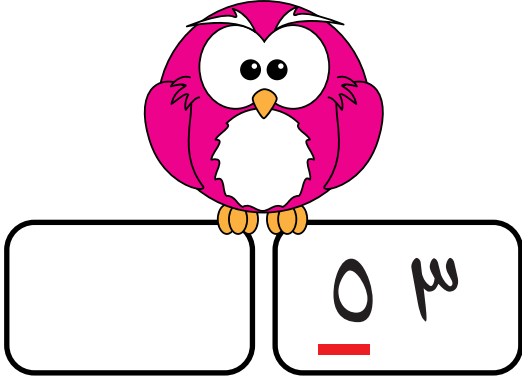


ما هي قيمة العدد الذي تحته خط؟



تمارين الآحاد والعشرات إملاء البطاقات



• أنا العدد

• رقم الآحاد

• رقم العشرات

• عدد الوحدات

• عدد العشرات

• قيمة الرقم ٥

• قيمة الرقم ٧

• $\boxed{} \text{ آحاد} + \boxed{} \text{ عشرات}$



• أنا العدد

• رقم الآحاد

• رقم العشرات

• عدد الوحدات

• عدد العشرات

• قيمة الرقم ٩

• قيمة الرقم ٣

• $\boxed{} \text{ آحاد} + \boxed{} \text{ عشرات}$

اكتب عدد الآحاد والعشرات

عشرات --- آحاد ---

1 ten rod and 5 one units.

عشرات --- آحاد ---

3 ten rods and 10 one units.

عشرات --- آحاد ---

5 ten rods and 3 one units.

عشرات --- آحاد ---

6 ten rods and 7 one units.

عشرات --- آحاد ---

4 ten rods and 6 one units.

عشرات --- آحاد ---

2 ten rods and 7 one units.