

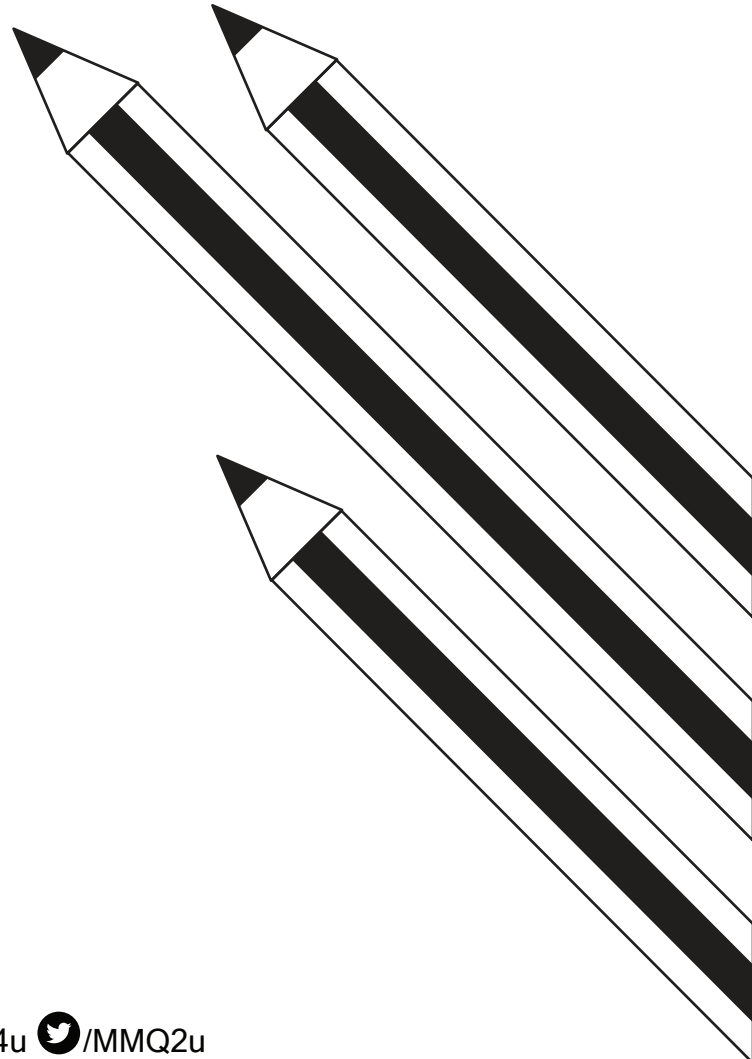
1441

الفترة الأولى

الاختبار المحاكي

يحتوي هذا الاختبار على نموذج محاكي لاختبار القدرات العامة، تم تصميم الملف لملاءمة الطباعة. وتم إرفاق نموذجي تظليل إحداهما محلول والآخر غير محلول.

قم بضبط مؤقت ساعتك لـ ٢٥ دقيقة قبل كل قسم



روابط مُهمّة

قم بالضغط أو المسح على رابط ال QR.



تجميع ١٤٤١-١



النسخة المخصصة للطباعة



الاختبارات الإلكترونية



شرح تجميع ١٤٤١-١



الاختبار

الأول

القسم الأول: كمي ولفظي

القسم الأول

عدد الأسئلة: (٢٤) سؤال.

الزمن: (٢٥) دقيقة.

تذكر:

- أن هناك إجابة صحيحة واحدة لكل سؤال.
- أن تظلل إجابات كل سؤال أمام الرقم المقابل له في ورقة الإجابة.

أسئلة الاختيار من متعدد:

فيما يلي عدد من الأسئلة، يتبع كلاً منها أربعة اختيارات، المطلوب هو: اختيار الإجابة الصحيحة، ثم تظليل دائرة الحرف المقابل لها في ورقة الإجابة.

مثال: بدأ سباق الساعة ١١، ووصل أول متسابق الساعة ١١:٣١، وثالث متسابق ١١:٤١، ووصل الثاني في المنتصف، فما زمن وصول المتسابق الثاني؟

أ- ١١:٣١ ب- ١١:٣٦ ج- ١١:٤١ د- ١١:٤٦

الشرح: الفرق بين المتسابق الأول والثالث ١٠ دقائق، ووصل المتسابق الثاني في منتصف الزمن بين المتسابق الأول و المتسابق الثالث.

إذا بين ٣١ و ٤١ زمن يقدر بمقدار ١٠ دقائق،

$$١٠ \div ٢ = ٥ \text{ دقائق.}$$

إذا وصل الساعة: ١١:٣٦

فالإجابة الصحيحة هي (ب).

١- ٤ س - ١١ = ٧- س، فما قيمة (س)؟

أ- ١- ب- ٢

ج- ٢- د- ١

٢- تنخفض قيمة حاسوب بمعدل ثابت سنوياً، فإذا

اشتريت هند حاسوب بـ (٤٠٠٠) ريال، وبعد

سنتين أصبح بـ (٢٥٠٠) ريال، فكم عدد

التخفيض في السنة الواحدة؟

أ- ٧٥٠ ب- ٨٠٠

ج- ٨٥٠ د- ٩٠٠

٣- إذا سافر محمد اليوم الجمعة، وبعد (٢٣) يوم

سافر خالد، ففي أي يوم سافر خالد؟

أ- الأحد ب- الاثنين

ج- الثلاثاء د- الخميس

٤- عُمر محمد يساوي (٤) أمثال عُمر خالد، و عُمر

عامر يساوي عُمر محمد، فما هو عمر خالد،

علمًا بأن مجموع أعمارهم (١١٧)؟

أ- ١٣ ب- ٥٢

ج- ٢٤ د- ٧٠

أسئلة المقارنة:

في كل من الأسئلة الآتية قيمتان: الأولى في الجهة اليمنى والثانية في الجهة اليسرى، المطلوب هو: المقارنة بين القيمتين ثم اختيار الإجابة الصحيحة من الاختيارات الأربعة المعطاة أدناه، ثم تظليل دائرة الحرف المقابل لها في ورقة الإجابة.

مثال: اشترى محمد (٥) أقلام و (٤) دفاتر وتبقى معه (٥) ريال، واشترى أحمد (٤) أقلام و (٥) دفاتر وتبقى معه ريالان.

قارن بين:

القيمة الأولى: سعر القلم. القيمة الثانية: سعر الدفتر

أ- القيمة الأولى أكبر. ب- القيمة الثانية أكبر.

ج- القيمتان متساويتان. د- المعطيات غير كافية.

الشرح: المعطيات غير طافية لأنه لم يذكر أن ما معهما

متساو..

فالإجابة الصحيحة هي (د).

قارن بين

٥-

القيمة الأولى	القيمة الثانية
$\frac{١٢٣٥٦٧٤٤}{٥}$	$\frac{١٢٣٥٦٧٤٤}{٥}$

أ- القيمة الأولى أكبر

ب- القيمة الثانية أكبر

ج- القيمتان متساويتان

د- المعطيات غير كافية

-٦ ج < ب < أ < صفر

كلها أعداد صحيحة متتالية

قارن بين

القيمة الأولى	القيمة الثانية
ج-ب	ب-أ

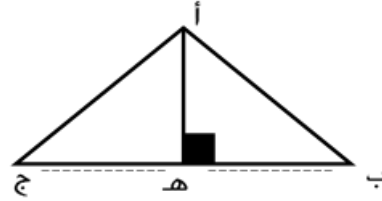
أ- القيمة الأولى أكبر

ب- القيمة الثانية أكبر

ج- القيمتان متساويتان

د- المعطيات غير كافية

-٧ قارن بين



القيمة الأولى	القيمة الثانية
طول (ه ب)	طول (ه ج)

أ- القيمة الأولى أكبر

ب- القيمة الثانية أكبر

ج- القيمتان متساويتان

د- المعطيات غير كافية

التناظر اللفظي:

في بداية كل سؤال مما يأتي كلمتان ترتبطان بعلاقة معينة، تتبعهما أربعة أزواج من الكلمات، واحد منها ترتبط فيه الكلمتان بعلاقة مشابهة للعلاقة بين الكلمتين في بداية السؤال، المطلوب هو: اختيار الإجابة الصحيحة ثم تظليل دائرة الحرف المقابل لها في ورقة الإجابة.

مثال توضيحي:

رواية : فيلم

أ- مستشفى : مدينة ب- غذاء : جسم

ج- ثبوت : ركون د- سيارة : وقود

الشرح: صُنِعَ الفيلم يحتاج إلى رواية، والجسم يحتاج إلى غذاء.

أي أن العلاقة: احتياج "معكوسة".

فالإجابة الصحيحة هي (ب).

-٨ نظيف : متسخ

أ- ذكي : غبي ب- نار : هواء

ج- إنسان : حيوان د- حار : دافئ

-٩ إبهام : قدم

أ- لهب : نار ب- طالب : فهم

ج- ورقة : ممحاة د- قصيدة : وزن

-١٠ جناحان : نعامة

أ- جناحان : حمامة ب- جناحان : عصفور

ج- جناحان : صقر د- جناحان : دجاجة

-١١ غذاء : جسم

أ- محبة : قلب ب- تربة : نبات

ج- زوجة : رجل د- نوم : ليل

-١٢ نار : ماء

أ- نجم : كوكب ب- غضب : جلوس

ج- برد : ثلج د- زيت : حريق

الارتباط والاختلاف:

تلي كل جملة من الجمل الآتية أربعة خيارات، أحد هذه الخيارات يحقق العلاقة المطلوبة، المطلوب تحديد هذا الخيار، ثم تظليل دائرة الحرف المقابل له في ورقة الإجابة.

السؤال يحتمل ثلاثة مطالب:

١/ الجملة المرتبطة: المطلوب تحديد أي الجمل الآتية يرتبط مع السؤال.

٢/ الجملة المختلفة: المطلوب تحديد أي الجمل الآتية لا يتوافق مع السؤال.

٣/ الكلمة الزائدة: المطلوب تحديد الكلمة الزائدة في الجملة.

مثال توضيحي:

أوروبا

أ/ ليبيا ب/ الجزائر ج/ تركيا د/ الهند
الشرح: الإجابة الصحيحة هي (ج)، لأن تركيا دولة أوروبية.

الشخص

١٣-

أ- الكريم ب- الضعف
ج- القوة د- الشجاعة

سيارات

١٤-

أ- فرنسا ب- اليابان
ج- السعودية د- الصين

إكمال الجمل:

تلي كل جملة من الجمل الآتية أربعة اختيارات، أحدها يكمل الفراغ أو الفراغات في الجملة إكمالاً صحيحاً، المطلوب هو: اختيار الإجابة الصحيحة، ثم تظليل دائرة الحرف المقابل لها في ورقة الإجابة.

مثال توضيحي:

الإسراف سلوك فتجنب الوقوع فيه.

أ/ منتشر ب/ مذموم ج/ متوقد د/ وقتي

الشرح: الإجابة الصحيحة هي (ب)؛ لأن النهي لا يكون إلا عن أمر مذموم.

الخطأ السياقي:

في كل جملة مما يأتي أربع كلمات، كل منها مكتوبة بخط غليظ، المطلوب هو: تحديد الكلمة التي لا يتفق معناها مع المعنى العام للجملة، ثم تظليل دائرة الحرف المقابل لها في ورقة الإجابة. (الخطأ ليس إملائياً ولا نحوياً).

مثال توضيحي:

حصل الطالب على نتائج عالية وتفوق في كل المواد التي

اختبر فيها، وهذا حصاد التعمق في الإهمال.

أ/ نتائج ب/ تفوق ج/ اختبر د/ الإهمال

الشرح: الإجابة الصحيحة هي (د)، لأن الجملة تتحدث عن التفوق، والإهمال ينافي التفوق.

تؤثر في القدرات العقلية، إذ أن تناولها يرفع من كمية الأدرينالين، الذي بدوره يمكّننا من التفكير والتّركيز بطريقة جيدة.

- ٢١- ماذا يحتاج الدماغ؟
- أ- تنوع الغذاء ب- أغذية معينة
- ج- تناول الأدرينالين د- تركيز الدهون الأمينية
- ٢٢- ما الذي يؤثر في قلة التركيز لدى أغلب الناس؟
- أ- الدورة الدموية ب- ضعف القدرات
- ج- تناول البروتينات د- انخفاض السكريات
- ٢٣- أفضل عنوان للقطعة:
- أ- طاقة الإنسان ب- حاجة الدماغ إلى الغذاء
- ج- خلايا الدماغ د- قدرات الإنسان العقلية والطاقات
- ٢٤- كم عدد الأسباب التي تؤدي إلى فقدان الخلايا العصبية؟
- أ- ٢ ب- ٣
- ج- ٤ د- ٥

انتهى القسم!

ويمكنك فيما تبقى من وقته مراجعة إجاباتك فيه فقط.

- ١٩- جاهد ذاتك كما تجاهد صديقك.
- أ- جاهد ب- ذاتك
- ج- تجاهد د- صديقك
- ٢٠- تنخفض قيمة السلع عند انتشارها، لذلك فإن البائع يخفض قيمة السلعة فور عرضها.
- أ- تنخفض ب- انتشارها
- ج- يخفض د- عرضها

استيعاب المقروء:

الأسئلة التالية تتعلق بالنص الذي يسبقها، بعد كل سؤال أربعة اختيارات، أحدها صحيح، والمطلوب هو: قراءة النص بعناية، واختيار الإجابة الصحيحة عن كل سؤال.

مثال توضيحي:

مهما تقدمت بالعم، لا تجعل ذكريات الماضي تتفوق في أحاديثك على أحلام المستقبل.

*-- كم مقابلة ذكرت فالنص؟

- أ- ١ ب- ٢ ج- ٣ د- ٤

الشرح: المقابلة هي التضاد

ومن النص نجد انه يوجد تضاد واحد فقط وهو (الماضي، المستقبل).

فالإجابة الصحيحة هي (أ).

النص الأول:

يحتوي الدماغ على ملايين الخلايا الدماغية، ويستهلك ٣٠٪ من إجمالي طاقة جسم الإنسان، ويفقد الآلاف منها كل يوم وذلك لأسباب منها: السموم التي يتعرض لها جسم الإنسان، وسوء التغذية، والضغط النفسي.

وتقوم الدورة الدموية بتزويد الدماغ بالمواد التي يحتاجها، كالأكسجين، والسكر، والأحماض الدهنية والأمينية، والمعادن، والفيتامينات، فأى نقص في هذه المواد الضرورية يتسبب في انخفاض القدرات الدماغية، وقد يؤدي جرمانه من الأكسجين لدقائق قليلة إلى موته جزئياً أو كلياً، وتوصل الباحثون إلى أن الأغذية الغنية بالبروتينات ودهون الأوميغا

القسم الثاني: كمي ولفظي

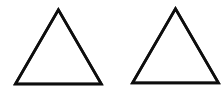
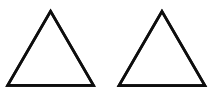
القسم الثاني

عدد الأسئلة: (٢٤) سؤال.

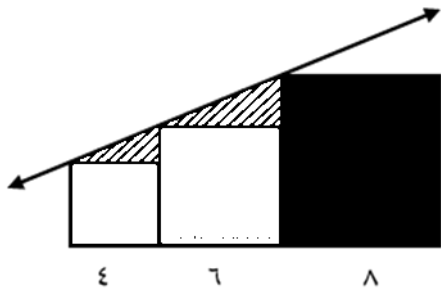
الزمن: (٢٥) دقيقة.

تذكر:

- أن هناك إجابة صحيحة واحدة لكل سؤال.
- أن تظلل إجابات كل سؤال أمام الرقم المقابل له في ورقة الإجابة.

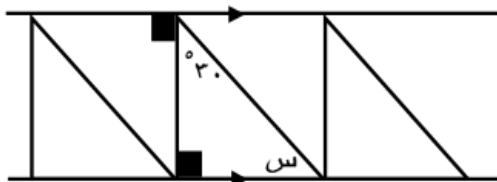


٣٠- احسب مساحة الجزء المظلل.



- أ- ١٠ ب- ٦
ج- ٤ د- ٨

٣١- من الشكل المجاور، أوجد قيمة (س).



- أ- ٦٠° ب- ١٢٠°
ج- ٧٥° د- ٤٥°

٣٢- أي الزوايا التالية لا يمكن أن تكون زاوية مثلث؟

- أ- ١٨١° ب- ١٧٠°
ج- ٦٨° د- ١٤٠°

٣٣- $s > ٠$

فإن $|٣س - ٢س|$

- أ- $|٢س|$ ب- $|٢س|$
ج- $س \times ٢س$ د- $س \times |٢س|$

$$= \sqrt{١٣}$$

- أ- ١٣ ب- ١٤
ج- ١٨ د- ٢٠

٢٥- $٦٢٥ = ٤٩ + \dots + ٧ + ٥ + ٣ + ١$

أوجد $٥٠ + \dots + ٦ + ٤ + ٢$

- أ- ٦٢٥ ب- ٦٥٠
ج- ٦٧٥ د- ٧٠٠

٢٦- إذا كانت $س٣ = س٢ = س١$ ، أوجد قيمة $س٢$.

- أ- ١ ب- ٤
ج- ٥ د- ٦

٢٧- راكب في الطائرة نظر إلى شاشة، فوجد

سرعة الطائرة (٩٠٠ كم/س)، وقد قطعت

الطائرة مسافة (٦٣٥) كم، وتبقى لها (٦٠)

دقيقة للوصول، فما هي المسافة الكلية؟

- أ- ١٦٣٥ ب- ١٥٣٥
ج- ١٣٣٠ د- ١٤٥٠

٢٨- إذا كانت فاطمة توزع أزرار، ووضعت في

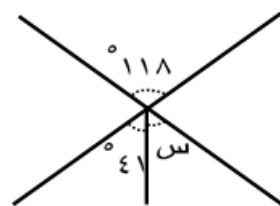
الصندوق الأول (٥)، والصندوق الثاني (٧)،

والثالث (١١)، والرابع (١٧)، كم يوجد في

الصندوق الخامس؟

- أ- ٢٥ ب- ٢٠
ج- ١٥ د- ١٠

٢٩- أوجد قيمة (س).



- أ- ٥٦٦ ب- ٥٧٧
ج- ٥٧٨ د- ٥٩٠

٤٣- من المؤلم أن نرى شبابنا يهدرون أوقاتهم
في القراءة.

- أ- المؤلم ب- يهدرون
ج- أوقاتهم د- القراءة

٤٤- الأب الناجح هو الذي يكون قدوة طيبة، وأسوة
حسنة لأبنائه وزملائه.

- أ- الأب ب- قدوة
ج- لأبنائه د- زملائه

٤٥- ضمير مُتَعَبٌ وأقدام متعبة خير من ضمير
متعب وأقدام مستريحة.

- أ- مُتَعَبٌ ب- أقدام
ج- ضمير د- مستريحة

٤٦- لا أستخدم صوتي ما دام لا يجدي صمتي.

- أ- أستخدم ب- صوتي
ج- ما دام د- صمتي

المفردة الشاذة:

في الأسئلة التالية أربع كلمات، ثلاث منها تربط بينها علاقة
معينة، أما الرابعة فلا ترتبط مع الكلمات الثلاث بنفس
العلاقة، المطلوب هو: اختيار المفردة الشاذة، ثم تظليل
دائرة الحرف المقابل لها في ورقة الإجابة.

مثال توضيحي:

أ- بطاطس ب- قمح ج- أرز د- عدس

الشرح: الكلمة المختلفة هي كلمة (بطاطس) لأنها من

الخضراوات والباقي حبوب.

فالإجابة الصحيحة هي (أ).

٣٥- ستائر : نافذة

- أ- زجاج : برواز ب- كتاب : غلاف
ج- باب : غرفة د- جراب : جوال

٣٦- فجر : ضوء

- أ- غسق : ظلام ب- ليل : نوم
ج- نهار : عمل د- أصيل : ضوء

٣٧- نظارة : رؤية

- أ- مكبر : صوت ب- سماعة : أذن
ج- حذاء : قدم د- رجل : امرأة

٣٨- أسد : شجاعة

- أ- غزال : حكمة ب- قمر : جمال
ج- ليل : نهار د- منشار : نجار

٣٩- طويل : قصير

- أ- قوي : ضعيف ب- أسود : أبيض
ج- نحيل : سمين د- جَزُر : مد

٤٠- الوحدة تكون دواء عندما تلين على ذاتك،

وتصبح داء عندما تبرر لك تصرفاتك.

- أ- تلين ب- دواء
ج- داء د- تبرر

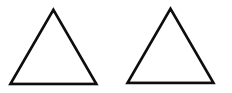
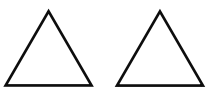
٤١- لا أستخدم صوتي مادام صمتي لا يجدي.

- أ- أستخدم ب- صوتي
ج- صمتي د- لا يجدي

٤٢- الحكمة متوفرة كالسلع التجارية، والعلماء

هم من يحتقرونها ويتغاضون عنها.

- أ- الحكمة ب- التجارية
ج- العلماء د- يتغاضون



- ٤٧- اختر المفردة الشاذة مما يلي
أ- جمل ب- حمار
ج- حصان د- بقرة

- ٤٨- اختر المفردة الشاذة مما يلي
أ- كتاب ب- دفتر
ج- ورقة د- سطر

انتهى القسم!

ويمكنك فيما تبقى من وقته مراجعة إجاباتك فيه فقط.



القسم الثالث : ٣٣٣٣.أ



القسم الثالث: كمي ولفظي

القسم الثالث

عدد الأسئلة: (٢٤) سؤال.

الزمن: (٢٥) دقيقة.

تذكر:

- أن هناك إجابة صحيحة واحدة لكل سؤال.
- أن تظلل إجابات كل سؤال أمام الرقم المقابل له في ورقة الإجابة.



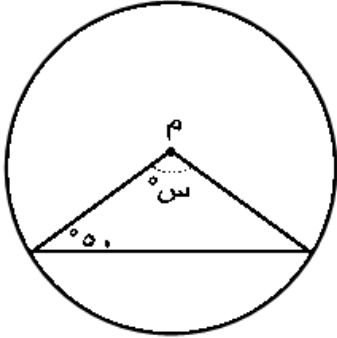
القسم الثالث : أ.٣٣٣٣



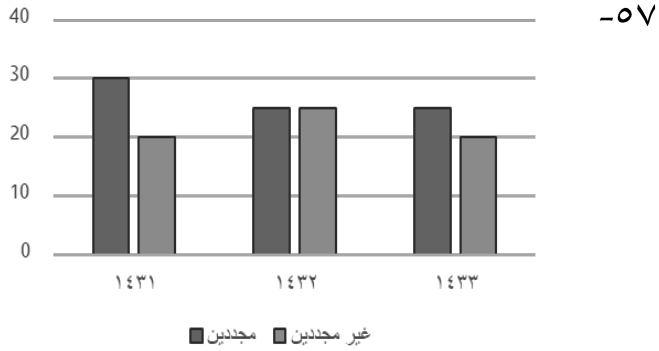
٥٥- دائرة مساحتها ٣.١٤، فإن محيطها هو؟

- أ- ٣.١٤ ب- ٦.٢٨
ج- ١٠ د- ١٢

٥٦- أوجد قيمة (س).



- أ- ٨٠ ب- ٧٠
ج- ٦٠ د- ٥٥



في أي عام كان أقل فرق بين المجددين وغير المجددين؟

- أ- ١٤٣١ ب- ١٤٣٢
ج- ١٤٣٣ د- غير ذلك

٤٩- (س + ٣) = ٩٩، أوجد قيمة (س).

- أ- ٣ ب- ٤
ج- ٥ د- ٦

٥٠- أوجد قيمة: $\frac{٤٩+٥٩}{٨١}$

- أ- ٨١٠ ب- ٨١
ج- ٩٢٠ د- ٩

٥١- أكمل المتتابعة التالية: ٢٥، ٣٦، ٤٩، ...

- أ- ٦٤ ب- ٨١
ج- ١٠٠ د- ١٢١

٥٢- باع شخص سيارته بمبلغ ٤٥٠٠٠ ريال، وقد

- خسر فيها ١٠٪ فبكم اشتراها؟
أ- ٤٦ ألف ب- ٤٨ ألف
ج- ٥٠ ألف د- ٥٤ ألف

٥٣- قارن بين

القيمة الأولى	القيمة الثانية
$+١١ + ٠٢ + ٠٣ + ٠٤$	٢٢
$٠٦ + ٠٥$	

- أ- القيمة الأولى أكبر
ب- القيمة الثانية أكبر
ج- القيمتان متساويتان
د- المعطيات غير كافية

٥٤- فصل به (٢٥) طالب، قسّم المعلم الطلاب

إلى قسمين: قسم به (١١) طالب، وقسم به

(١٩) طالب، كم عدد الطلاب الذين في

القسمين؟

- أ- ٢٥ ب- ٥
ج- ٤ د- ١٢



القسم الثالث : ٢٢٢٢.أ



٦١- س < ٠ و ص > ٠

قارن بين

القيمة الأولى	القيمة الثانية
س - ٢ ص	س + ٢ ص

- أ- القيمة الأولى أكبر
ب- القيمة الثانية أكبر
ج- القيمتان متساويتان
د- المعطيات غير كافية

٦٢- قارن بين

القيمة الأولى	القيمة الثانية
س	٣٠

- أ- القيمة الأولى أكبر
ب- القيمة الثانية أكبر
ج- القيمتان متساويتان
د- المعطيات غير كافية

النص الثاني:

هناك ثلاث طرق لعمل مراكز التعلم عن بُعد، إحداها أن تقوم الجامعة الانتظامية بفتح مكتب تابع لها، بالإضافة إلى احتفاظها بالشكل التقليدي للدراسة الجامعية في مقرها الرئيس، وذلك مثل جامعة (بوسطن) المعروفة ببرنامجهما النظامي، فقد أكملته عام (٢٠٠٠) م بافتتاح مكتب التعلم عن بُعد؛ لتقديم برامج أكاديمية معتمدة للتعليم العالي، من خلال تقنية الإنترنت والفيديو والأقراص المضغوطة. نوع آخر يعمل على تقديم خدمات التعلم عن بُعد من خلال جامعة عادة ما تُسمى بالجامعة المفتوحة، تتواصل مع الطلبة عن طريق المراسلات والأقمار الصناعية والإنترنت، وتفتح مكاتب لها في دول المتعلمين عن بُعد، وقد افتتحت جامعات مفتوحة في العديد من دول العالم، مثل: جامعة فونيكس (Phoenix) التي تُعد من أكبر الجامعات في أمريكا وأفضل

٥٨- إذا كان خالد يبيع القلم بنصف ريال، وباع

(٦٠) قلم،

ومحمد يبيع القلم بربع ريال، وباع (١٠٠)

قلم.

قارن بين

القيمة الأولى	القيمة الثانية
ما ربحه خالد	ما ربحه محمد

- أ- القيمة الأولى أكبر
ب- القيمة الثانية أكبر
ج- القيمتان متساويتان
د- المعطيات غير كافية

٥٩- صندوق به (٦٠) تفاحة، بين كل (١٢) تفاحة

يوجد (٨) تفاحات صالحة، فكم عدد التفاح

الفاسد؟

- أ- ٢٠
ب- ٣٠
ج- ٤٠
د- ٤٥

٦٠- قارن بين

القيمة الأولى	القيمة الثانية
١٠ + ٢٠ + ٣٠ + ٤٠ + ٥٠	٢٢

- أ- القيمة الأولى أكبر
ب- القيمة الثانية أكبر
ج- القيمتان متساويتان
د- المعطيات غير كافية



٦٧- تتحدث الفقرة الأولى عن التعليم عن بُعد من حيث:

- أ- صعوبة دراسته ب- استحالة تنفيذه
ج- سهولة دراسته د- ارتفاع تكاليفه

٦٨- يفهم من الفقرة الثالثة أن الجامعة المفتوحة:

- أ- لها مقر رئيسي ب- ليس لها مقر واحد رئيسي
ج- كل جامعة لها مقر رئيسي د- لها مقرات رئيسية متعددة

٦٩- أُسس التعليم عن بُعد لـ :

- أ- الذين يحضرون ب- خدمة جميع الناس للجامعة
ج- الذين لا يستطيعون الحضور د- ليس مما سبق

٧٠- الجامعة المذكورة في الفقرة الثانية تجمع بين:

- أ- التعليم عن بُعد والتعليم النظامي
ب- التعليم عن بُعد والتعليم اليومي
ج- التعليم الإلكتروني والتعليم عن بُعد
د- التعليم في الماضي والحاضر

٧١- تتحدث الفقرة الثالثة عن التعليم عن بُعد من حيث:

- أ- تعدد طرائقه ب- اندماجه
ج- مقره الرئيسي د- تكاليفه

جامعة معروفة ومُنخَصَّة في التعلُّم عن بُعد، وتأسَّست مبدئيًّا لتُتيح فُرصة إكمال التعلُّم للبالغين العاملين، الذين تمنعُهُم ظُرُوفُهُم من مواصلة الدِّراسة، لذلك تشترط لقبول الطلبة ألا تُقل أعمارُهُم عن (٢٣) عامًا، وأن يَكُونوا مُوظَّفين، ولها أكثر من (٢٣٩) مبنىً تعليميًّا ومركزًا حول العالم، وطُرق التعلُّم فيها عبارة عن خليط من التعلُّم عن بُعد والتعلُّم النِّظامي والتعلُّم الإلكترونيّ. (جامعة بلا أسوار): هو شعار النُّوع الثالث من هذه الأنظمة، وتكوّن فيه الجامعة الإلكترونية ١٠٠٪، تُقدِّم خدماتها عن طريق الإنترنت والمكتبات الإلكترونية والبريد الإلكترونيّ، مثل: جامعة جونز الدَّولية (Jones)، وهي الجامعة الأولى المُعتمَدة بالكامل على الإنترنت. وهذه الجامعة ليس لها مقر رئيسي للدِّراسة.

٦٣- (التعليم الجامعي) و (التعليم عن بُعد) علاقتهما بما قبلهما:

- أ- تمثيل ب- محاكاة
ج- تناقض د- تشبيه

٦٤- أيُّ مما يلي لفظ مختلف؟

- أ- محاكاة ب- تمثيل
ج- نوع د- فن

٦٥- معنى (يَحُول):

- أ- يُعَيِّق ب- يتوقف
ج- يستمر د- يتنافى

٦٦- جامعة أمريكا تعتبر:

- أ- أكبر الجامعات ب- أكبر مصادر التعليم عن بُعد
ج- أقل الجامعات د- أصغر الجامعات شهرة مساحة



القسم الثالث : أ.٣٣٣٣



٧٢- الجامعة المذكورة في الفقرة الرابعة:

- أ- ليس لها وجود -ب- جامعة ليست متطورة
ج- تأسست منذ قديم الزمان -د- من أكبر جامعات أمريكا وأفخمها

انتهى القسم!

ويمكنك فيما تبقى من وقته مراجعة إجاباتك فيه فقط.

القسم الرابع: كمي ولفظي

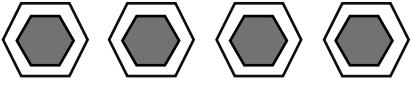
القسم الأول

عدد الأسئلة : (٢٤) سؤال.

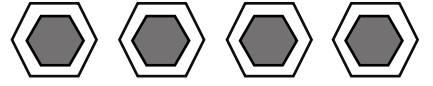
الزمن: (٢٥) دقيقة.

تذكر:

- أن هناك إجابة صحيحة واحدة لكل سؤال.
- أن تظلل إجابات كل سؤال أمام الرقم المقابل له في ورقة الإجابة.



القسم الرابع : ٤٤٤٤٤أ



قارن بين

-٧٨

القيمة الأولى	القيمة الثانية
$\sqrt[3]{2}$	$\sqrt{2} + \sqrt{1}$


- أ- القيمة الأولى أكبر
ب- القيمة الثانية أكبر
ج- القيمتان متساويتان
د- المعطيات غير كافية

-٧٩ ص = س - ٢ = ١

قارن بين

القيمة الأولى	القيمة الثانية
قيمة ص عندما س = ٢	قيمة ص عندما س = -٢

- أ- القيمة الأولى أكبر
ب- القيمة الثانية أكبر
ج- القيمتان متساويتان
د- المعطيات غير كافية



قارن بين

-٨٠

القيمة الأولى	القيمة الثانية
مساحة المثلث	مساحة الغير مظل

- أ- القيمة الأولى أكبر
ب- القيمة الثانية أكبر
ج- القيمتان متساويتان
د- المعطيات غير كافية

-٨١ س - س = ع = ٣٢، علماً بأن ص = ع + ٤،
أوجد قيمة س.

- أ- ٨
ب- ١٠
ج- ١٢
د- ١٤

-٧٣ إذا كان: $١١١ \times ٩٩٩ = ٣ \times ٣ \times ٣ \times ٣ \times ٣$ ، أوجد قيمة (ن).

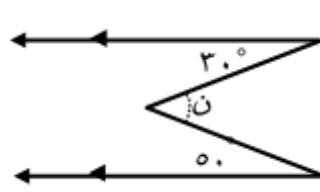
- أ- ٣
ب- ٣٣٣
ج- ١١١
د- ١١

-٧٤ عددين حاصل ضربهما = ٨، والفرق بين تربيعهما = ١٢، فما هما العددين؟

- أ- ١ و ٨
ب- ٢ و ٤
ج- ٤ و ٦
د- ٢ و ١٠

-٧٥ إذا صافح (٥) أشخاص بعضهم، فكم مصافحة تمت؟

- أ- ٥
ب- ١٠
ج- ١٥
د- ٢٠



ما قيمة (ن)؟

-٧٦

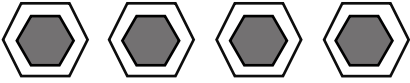
- أ- ٨٠
ب- ٧٠
ج- ٦٠
د- ٥٠

قارن بين

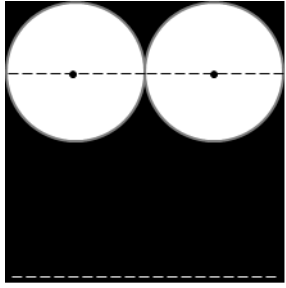
-٧٧

القيمة الأولى	القيمة الثانية
٣×٢٣	٢×٣٣

- أ- القيمة الأولى أكبر
ب- القيمة الثانية أكبر
ج- القيمتان متساويتان
د- المعطيات غير كافية



القسم الرابع : ٤٤٤٤٤٤ أ



٨٧- الشكل مربع وطول ضلعه (٤)، والدائرتان متطابقتان، فأوجد مساحة المنطقة المظللة.

- أ- ٢ (٨-ط) ب- ٤ (٤-ط)
ج- ١٦-ط د- ٨-ط

الشخص	الراتب	بدل نقل	بدل سكن
الأول	٨٠٠٠	%١٠	%٢٥
الثاني	١٠٠٠٠	%١٠	%٢٥
الثالث	١٢٠٠٠	%١٠	%٢٥
الرابع	١٤٠٠٠	%١٠	%٢٥

استعمل الجدول المجاور للإجابة عن السؤالين التاليين.

- ٨٨- أيهم يبلغ بدل السكن له (٣٠٠٠)؟
أ- الشخص الأول ب- الشخص الثاني
ج- الشخص الثالث د- الشخص الرابع

- ٨٩- كم يبلغ معدل النقل للشخص الرابع؟
أ- ٨٠٠ ب- ١٠٠٠
ج- ١٢٠٠ د- ١٤٠٠

- ٩٠- مصنع للعصائر يحتاج لكل (٥٠) لتر ليمون (١٥٠) لتر برتقال، فإذا استُخدم (٦٠٠) لتر برتقال، فكم لتر يلزم من الليمون؟
أ- ٢٠٠ لتر ب- ٢٥٠ لتر
ج- ٣٠٠ متر د- ٤٠٠ لتر


٨٢- إذا كان: $\frac{1}{س} + ٢ = \frac{1}{٢} + ٢$ ، فأوجد قيمة (س).

- أ- ٢ ب- ٣
ج- $\frac{1}{٤}$ د- $\frac{1}{٢}$

- ٨٣- يطلي وليد غرفته في ساعتين، ويطلي صديقه الغرفة في ٣ ساعات، فكم تستغرق الغرفة من وقت إذا عملا معاً؟
أ- ٩٠ دقيقة ب- ٦٠ دقيقة
ج- ٧٢ دقيقة د- ٥٦ دقيقة

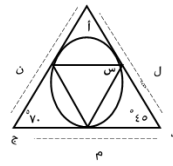
- ٨٤- مجموعة أشخاص ذهبوا لمشاهدة التلفاز عند الساعة (١٠:٢٠)، وشاهدوا لمدة ساعتين و ٥٥ دقيقة، ثم ذهبوا للعب الكرة مدة ساعتين و ٣٠ دقيقة، فكم تكون الساعة عندما ينتهون؟

- أ- ٣:١٠ ب- ٢:٢٥
ج- ٣:٤٥ د- ٤:٠٠



٨٥- أوجد مساحة المستطيل:

- أ- ٣ ب- ٩
ج- ١٢ د- ١٨




٨٦- أوجد قيمة (س)، إذا كانت الدائرة تمس أضلاع المثلث.

- أ- ٥٥٥ ب- ٥٥٨
ج- ٥٦٠ د- ٥٧٠



٩١-



مساحة المثلث = ٦٠ ،
أوجد مساحة المظلل.

- أ- ١٥ ب- ٣٠
ج- ٤٥ د- ٥٠

٩٢-

جذور : أشجار

- أ- قواعد : أبنية ب- سوارى : أعلام
ج- منصة : صاروخ د- أعمدة : جدار

٩٣-

صيف : خريف

- أ- شرق : شمال ب- عاصمة : دولة
ج- سيف : مهند د- رماح : خنجر

٩٤-

سرقة : لص

- أ- زراعة : فلاح ب- كلب : نباح
ج- عامل : عمل د- منزل : كبير

٩٥-

نجاح : تفان

- أ- فشل : تقاعس ب- حسر : اقتصر
ج- تأكيد : تحقيق د- تقاعس : فشل

٩٦-

خوف : فزع

- أ- قعد : استلقى ب- ضحك : تبسم
ج- أخبر : أنبأ د- كريم : بخيل

انتهى القسم!

ويمكنك فيما تبقى من وقته مراجعة إجاباتك فيه فقط.

القسم الخامس: كمي ولفظي

القسم الأول

عدد الأسئلة : (٢٤) سؤال.

الزمن: (٢٥) دقيقة.

تذكر:

- أن هناك إجابة صحيحة واحدة لكل سؤال.
- أن تظلل إجابات كل سؤال أمام الرقم المقابل له في ورقة الإجابة.

قارن بين

القيمة الأولى	القيمة الثانية
٦٣	٨٢

- أ- القيمة الأولى أكبر
ب- القيمة الثانية أكبر
ج- القيمتان متساويتان
د- المعطيات غير كافية
- ١٠٢- في جريدة، إذا كانت صفحة ٤٠ تقابل ٤١، فإن صفحة ١٨ تقابل أي صفحة؟
أ- ٦١ ب- ٦٣ ج- ٦٥ د- ٦٧
- ١٠٣- أبعاد غرفة مستطيلة هي (٢) م و (٣) م، نريد تبليطها ببلاط مربع، طول ضلعه (٢٥) سم، فكم عدد البلاط؟
أ- ٤٨ ب- ٩٦ ج- ١٠٢ د- ١١٢
- ١٠٤- مصنع ينتج علب عصير على الترتيب: فراولة - مانجو - تفاح - أناناس، ماهي العلبة رقم (٩٥)؟
أ- مانجو ب- فراولة ج- تفاح د- اناناس
- ١٠٥- النمو الجسمي والنفسي السليم للطفل..... إلى حد كبير على مقدار بين الوالدين.
أ- يتوقف - الوفاق ب- يتوقف - المساعدة ج- يساعد - التسامح د- يهتم - الألفة
- ١٠٦- النمو الجسمي والنفسي السليم للطفل..... إلى حد كبير على مقدار بين الوالدين.
أ- يتوقف - الوفاق ب- يتوقف - المساعدة ج- يساعد - التسامح د- يهتم - الألفة

$$-٩٧ \quad \sqrt{ص^2 + ٥} = ص، \quad \frac{١}{٣} = ص$$

فما قيمة (ص)؟

- أ- $\sqrt{٥}$
ب- $\sqrt{٥}$
ج- $\sqrt{١٠}$
د- $\sqrt{٥٠}$

٩٨- (٤) أعداد فردية متتالية، ناتج ضرب العدد الأول في العدد الأخير = ٢٧.

فما ناتج ضرب العدد الثاني في الثالث؟

- أ- ٣٥
ب- ٢٥
ج- ٤٢
د- ٢٤

٩٩- رجل اشترى بمبلغ (٨١٦) ريال بالتقسيط، على أن يدفع (٣٤) ريال لكل شهر، فإذا تبقى عليه (٢٧٢) ريال، فكم دفعة قد دفع؟

- أ- ١٤
ب- ١٥
ج- ١٦
د- ١٧

$$-١٠٠ \quad ص \times ص = ١٥، \quad ص \times ع = ٥، \quad ع \times ع = ٣$$

كم يساوي ص^٢؟



- أ- ٢٥
ب- ١٦
ج- ٩
د- ٢٠

١٠١- إذا كانت (م) عدد صحيح موجب

قارن بين

القيمة الأولى	القيمة الثانية
$\frac{١}{٣} + \frac{١}{٢(١+م)} + \frac{١}{م}$	١

- أ- القيمة الأولى أكبر
ب- القيمة الثانية أكبر
ج- القيمتان متساويتان
د- المعطيات غير كافية



- ١١١- فكرة النص كانت:
- أ- من الإجمال إلى التفصيل
ب- من التفسير إلى الإجمال
- ج- من العموم إلى الخصوص
د- من الخصوص إلى العموم
- ١١٢- علاقة (العناء) ب (المشقة):
- أ- الأولى معنوية والثانية مادية
ب- الأولى معنوية والثانية تحمل معنى الأولى
- ج- الأولى مادية والثانية معنوية
د- الأولى جزء من معنى الأولى
- ١١٣- أنسب عنوان للنص:
- أ- أهمية اللؤلؤ لأهل الخليج قديماً
ب- اللؤلؤ
- ج- رحلة البحث عن اللؤلؤ
د- أهل الخليج
- ١١٤- كم تضاداً في النص؟
- أ- ١
ب- ٢
- ج- ٣
د- ٤



النص الرابع:

السيف هو السلاح الرئيسي في القتال، لأنه يستعمل في الهجوم والدفاع، ويكون ذا حدٍ واحدٍ أو ذا حدّين، ورُبّما يكون له رأسٌ مُدبَّبٌ حادٌ يستعمل للطعن مثلاً، والسيف الجيد هو المصنوع من الحديد النقي ومن الفولاذ، وفي العربية: لفظُ (فولاذ) أي: نوعٌ مُميزٌ من أنواع الحديد، يعني أنّه الحديد المنقّى خبثه، ويُقال لحديد السيف: (النصل)، أما حدّه فيقال له: (ظبة)، وجمّعه: (ظبي).. (الطباء حدّ السيف)، ومُنذُ العصر الجاهليّ تمّ إثقان صناعة السيف، وعمل أصحاب جرفة صناعة السيوف على توشيتها وتخليتها بالذهب والفضة.

- ١٠٧- إن احترمتني سوف أحترمك، وإن لم تحترمني فسوف أنا أمثل نفسي، وأنت تمثل نفسك.
- أ- أحترمك
ب- أتجاهلك
- ج- أعاتبك
د- أواجهك
- ١٠٨- قد يبعد الله عنك ما تتمناه ليجعل حياتك وقد يؤخر الله الجميل ليجعله
أ- أفضل - أجمل
ب- أحسن - أسوء
- ج- أفضل - أقبح
د- أسود - أبيض
- ١٠٩- ما كان لك سيأتيك رغم وما كان لغيرك لن يأتيك رغم
- أ- ضعفك - قوتك
ب- قوتك - ضعفك
- ج- منصبك - شهرتك
د- صيتك - نفوذك
- ١١٠- لكي تصبح صديقاً حقيقياً عن الزلة وتغاض عن
- أ- ارض - هفوة
ب- تغاض - العثرة
- ج- ابعدهم - الغلظة
د- تغافل - الإساءة

النص الثالث:

كان الناس قديماً يهتمون باستخراج اللؤلؤ وخاصةً أهل الخليج، فكان من يمتنون هذه المهنة من أهل الخليج يتركون أهلهم وكل ما يخصهم ويذهبون إلى الخليج العربي، يغوصون فيه بحثاً عن اللؤلؤ وخاصةً أنه كان من أهم مصادر الدخل، ولمدة بعدهم الطويلة عن أهلهم، كانوا يخافون عليهم ويتمنون لهم الأمن والأمان والسلامة.



انتهى الاختبار!

نقدّر لك الالتزام بالتعليمات،
ونتمنى لك مستقبلاً مشرقاً.

- ١١٥- مما ورد، أيُّ الآتي صحيح؟
أ- الحد جزء من النَّصْل ب- النَّصْل جزء من الحد
ج- الحد يقابل النَّصْل د- الحد لا يقابل النَّصْل
- ١١٧- مما ورد، أيُّ الآتي صحيح؟
أ- كل حديد فُولاذ ب- كل فُولاذ حديد
ج- الفُولاذ حديد مُصنَّع د- الفُولاذ مختلط بالحديد
- ١١٦- مما ورد، أيُّ الآتي صحيح؟
أ- كل حديد فُولاذ ب- كل فُولاذ حديد
ج- الفُولاذ حديد مُصنَّع د- الفُولاذ مختلط بالحديد
- ١١٧- معنى (خبث الحديد) الواردة في الفقرة السابقة:
أ- أردأ الحديد ب- الحديد الذي يسبب أذى
ج- بالشوائب / الحديد د- الحديد اللين المختلط بمواد أخرى
- ١١٨- ما العلاقة بين (الحد) و (النصل)؟
أ- جزئية ب- ارتباطية
ج- تتالي د- تكامل
- ١١٩- معنى (تَوْشِيَّتْهَا بِالذَّهَبِ وَالْفِضَّةِ):
أ- تزيينها ب- طليها
ج- زخرفتها د- تخريبها
- ١٢٠- (وفي العَرَبِيَّةِ)، تعني:
أ- اللغة العربية ب- في أراضي العرب
ج- في السيارة د- من ما يعاب قوله في اللغة

فريق الإعداد

- محمد محروس
- نانسي عسكر
- إسلام جاد
- عبدالله جامع

وختاماً

لو أمسكت بالحلم، لا تحدّق إليه، هذا الذي عثاك دهرًا، لا يستحق غير التفاتة واثقة منك لتمسكه بين يديك، ثم انطلق لحلم جديد.. هي الأحلام تحبّ الذين يأخذونها تبعًا! والنجاح يرافق أولئك الذين يؤمنون بحقهم في الحلم، أولئك الذين وضعوا هدفًا نصب أعينهم ثم عملوا جاهدين لتحقيقه، ليكون الفخر من نصيبهم بعدما نالوا مرادهم.. هذا حصاد جهدنا، وضعناه بين أيديكم، وحرصًا منا على تحقيق الاستفادة الكبرى، والنعف الأعظم لكم، قمنا بإعداد اختبار إلكتروني شامل للقسم الكمي، للتأكد من استيعابكم الكامل لجميع المعلومات والأسئلة، ننصحكم بحله للتحقق من مذاكرتكم، ولكي يساعدكم في استرجاع معلوماتكم بطريقة أفضل .

هذا ما وفّقنا له، راجين أن ينال استحسانكم، وأن تغفروا ما كان فيه من تقصير أو خطأ أو سهو، فما كان من خطأ فمن أنفسنا والشيطان، وما كان من صواب فمن الله وحده، والله من وراء القصد.

ولأننا هنا دومًا لأجلكم، ولأنكم الدافع الأقوى والوحيد الذي يحرك هممنا ويشد عزائمنا، ويدفعنا دومًا للمضي قُدّمًا، وتحسين ما لم يلقَ استحسانًا ليصبح أفضل، وجعل الأفضل يبدو أفضل وأفضل.. يسرنا ويثلج قلوبنا أن نستقبل آرائكم واقتراحاتكم، ليبقى المميز مميزًا كما عهدتموه دائمًا.



ساعدنا في تحسين خدماتنا المقّمة إليكم
من خلال مشاركتك في استبيان التجميع

نموذج التظليل

أ	ب	ج	د	أ	ب	ج	د	أ	ب	ج	د	أ	ب	ج	د				
○	○	○	○	٧٩	○	○	○	○	٥٣	○	○	○	○	٢٧	○	○	○	○	١
○	○	○	○	٨٠	○	○	○	○	٥٤	○	○	○	○	٢٨	○	○	○	○	٢
○	○	○	○	٨١	○	○	○	○	٥٥	○	○	○	○	٢٩	○	○	○	○	٣
○	○	○	○	٨٢	○	○	○	○	٥٦	○	○	○	○	٣٠	○	○	○	○	٤
○	○	○	○	٨٣	○	○	○	○	٥٧	○	○	○	○	٣١	○	○	○	○	٥
○	○	○	○	٨٤	○	○	○	○	٥٨	○	○	○	○	٣٢	○	○	○	○	٦
○	○	○	○	٨٥	○	○	○	○	٥٩	○	○	○	○	٣٣	○	○	○	○	٧
○	○	○	○	٨٦	○	○	○	○	٦٠	○	○	○	○	٣٤	○	○	○	○	٨
○	○	○	○	٨٧	○	○	○	○	٦١	○	○	○	○	٣٥	○	○	○	○	٩
○	○	○	○	٨٨	○	○	○	○	٦٢	○	○	○	○	٣٦	○	○	○	○	١٠
○	○	○	○	٨٩	○	○	○	○	٦٣	○	○	○	○	٣٧	○	○	○	○	١١
○	○	○	○	٩٠	○	○	○	○	٦٤	○	○	○	○	٣٨	○	○	○	○	١٢
○	○	○	○	٩١	○	○	○	○	٦٥	○	○	○	○	٣٩	○	○	○	○	١٣
○	○	○	○	٩٢	○	○	○	○	٦٦	○	○	○	○	٤٠	○	○	○	○	١٤
○	○	○	○	٩٣	○	○	○	○	٦٧	○	○	○	○	٤١	○	○	○	○	١٥
○	○	○	○	٩٤	○	○	○	○	٦٨	○	○	○	○	٤٢	○	○	○	○	١٦
○	○	○	○	٩٥	○	○	○	○	٦٩	○	○	○	○	٤٣	○	○	○	○	١٧
○	○	○	○	٩٦	○	○	○	○	٧٠	○	○	○	○	٤٤	○	○	○	○	١٨
○	○	○	○	٩٧	○	○	○	○	٧١	○	○	○	○	٤٥	○	○	○	○	١٩
○	○	○	○	٩٨	○	○	○	○	٧٢	○	○	○	○	٤٦	○	○	○	○	٢٠
○	○	○	○	٩٩	○	○	○	○	٧٣	○	○	○	○	٤٧	○	○	○	○	٢١
○	○	○	○	١٠٠	○	○	○	○	٧٤	○	○	○	○	٤٨	○	○	○	○	٢٢
○	○	○	○	١٠١	○	○	○	○	٧٥	○	○	○	○	٤٩	○	○	○	○	٢٣
○	○	○	○	١٠٢	○	○	○	○	٧٦	○	○	○	○	٥٠	○	○	○	○	٢٤
○	○	○	○	١٠٣	○	○	○	○	٧٧	○	○	○	○	٥١	○	○	○	○	٢٥
○	○	○	○	١٠٤	○	○	○	○	٧٨	○	○	○	○	٥٢	○	○	○	○	٢٦

نموذج الحلول

أ	ب	ج	د	رقم السؤال	أ	ب	ج	د	رقم السؤال	أ	ب	ج	د	رقم السؤال	أ	ب	ج	د	رقم السؤال
<input type="radio"/>	<input checked="" type="radio"/>	<input type="radio"/>	<input type="radio"/>	٧٩	<input type="radio"/>	<input type="radio"/>	<input type="radio"/>	<input checked="" type="radio"/>	٥٣	<input type="radio"/>	<input type="radio"/>	<input checked="" type="radio"/>	<input type="radio"/>	٢٧	<input checked="" type="radio"/>	<input type="radio"/>	<input type="radio"/>	<input type="radio"/>	١
<input checked="" type="radio"/>	<input type="radio"/>	<input type="radio"/>	<input type="radio"/>	٨٠	<input type="radio"/>	<input type="radio"/>	<input checked="" type="radio"/>	<input type="radio"/>	٥٤	<input type="radio"/>	<input type="radio"/>	<input type="radio"/>	<input checked="" type="radio"/>	٢٨	<input type="radio"/>	<input type="radio"/>	<input type="radio"/>	<input checked="" type="radio"/>	٢
<input type="radio"/>	<input type="radio"/>	<input type="radio"/>	<input checked="" type="radio"/>	٨١	<input type="radio"/>	<input type="radio"/>	<input checked="" type="radio"/>	<input type="radio"/>	٥٥	<input type="radio"/>	<input type="radio"/>	<input checked="" type="radio"/>	<input type="radio"/>	٢٩	<input type="radio"/>	<input type="radio"/>	<input type="radio"/>	<input checked="" type="radio"/>	٣
<input type="radio"/>	<input type="radio"/>	<input type="radio"/>	<input checked="" type="radio"/>	٨٢	<input type="radio"/>	<input type="radio"/>	<input type="radio"/>	<input checked="" type="radio"/>	٥٦	<input type="radio"/>	<input type="radio"/>	<input type="radio"/>	<input checked="" type="radio"/>	٣٠	<input type="radio"/>	<input type="radio"/>	<input type="radio"/>	<input checked="" type="radio"/>	٤
<input type="radio"/>	<input checked="" type="radio"/>	<input type="radio"/>	<input type="radio"/>	٨٣	<input type="radio"/>	<input checked="" type="radio"/>	<input type="radio"/>	<input type="radio"/>	٥٧	<input type="radio"/>	<input type="radio"/>	<input type="radio"/>	<input checked="" type="radio"/>	٣١	<input type="radio"/>	<input type="radio"/>	<input type="radio"/>	<input checked="" type="radio"/>	٥
<input type="radio"/>	<input checked="" type="radio"/>	<input type="radio"/>	<input type="radio"/>	٨٤	<input checked="" type="radio"/>	<input type="radio"/>	<input type="radio"/>	<input type="radio"/>	٥٨	<input type="radio"/>	<input type="radio"/>	<input type="radio"/>	<input checked="" type="radio"/>	٣٢	<input type="radio"/>	<input checked="" type="radio"/>	<input type="radio"/>	<input type="radio"/>	٦
<input checked="" type="radio"/>	<input type="radio"/>	<input type="radio"/>	<input type="radio"/>	٨٥	<input type="radio"/>	<input type="radio"/>	<input type="radio"/>	<input checked="" type="radio"/>	٥٩	<input type="radio"/>	<input type="radio"/>	<input checked="" type="radio"/>	<input type="radio"/>	٣٣	<input checked="" type="radio"/>	<input type="radio"/>	<input type="radio"/>	<input type="radio"/>	٧
<input type="radio"/>	<input type="radio"/>	<input type="radio"/>	<input checked="" type="radio"/>	٨٦	<input type="radio"/>	<input type="radio"/>	<input checked="" type="radio"/>	<input type="radio"/>	٦٠	<input type="radio"/>	<input type="radio"/>	<input type="radio"/>	<input checked="" type="radio"/>	٣٤	<input type="radio"/>	<input type="radio"/>	<input type="radio"/>	<input checked="" type="radio"/>	٨
<input type="radio"/>	<input type="radio"/>	<input type="radio"/>	<input checked="" type="radio"/>	٨٧	<input type="radio"/>	<input type="radio"/>	<input type="radio"/>	<input checked="" type="radio"/>	٦١	<input checked="" type="radio"/>	<input type="radio"/>	<input type="radio"/>	<input type="radio"/>	٣٥	<input type="radio"/>	<input type="radio"/>	<input type="radio"/>	<input checked="" type="radio"/>	٩
<input type="radio"/>	<input checked="" type="radio"/>	<input type="radio"/>	<input type="radio"/>	٨٨	<input type="radio"/>	<input type="radio"/>	<input type="radio"/>	<input checked="" type="radio"/>	٦٢	<input type="radio"/>	<input type="radio"/>	<input type="radio"/>	<input checked="" type="radio"/>	٣٦	<input checked="" type="radio"/>	<input type="radio"/>	<input type="radio"/>	<input type="radio"/>	١٠
<input checked="" type="radio"/>	<input type="radio"/>	<input type="radio"/>	<input type="radio"/>	٨٩	<input type="radio"/>	<input type="radio"/>	<input checked="" type="radio"/>	<input type="radio"/>	٦٣	<input type="radio"/>	<input checked="" type="radio"/>	<input type="radio"/>	<input type="radio"/>	٣٧	<input type="radio"/>	<input type="radio"/>	<input checked="" type="radio"/>	<input type="radio"/>	١١
<input type="radio"/>	<input type="radio"/>	<input type="radio"/>	<input checked="" type="radio"/>	٩٠	<input checked="" type="radio"/>	<input type="radio"/>	<input type="radio"/>	<input type="radio"/>	٦٤	<input type="radio"/>	<input type="radio"/>	<input checked="" type="radio"/>	<input type="radio"/>	٣٨	<input type="radio"/>	<input type="radio"/>	<input checked="" type="radio"/>	<input type="radio"/>	١٢
<input type="radio"/>	<input type="radio"/>	<input checked="" type="radio"/>	<input type="radio"/>	٩١	<input type="radio"/>	<input type="radio"/>	<input type="radio"/>	<input checked="" type="radio"/>	٦٥	<input type="radio"/>	<input type="radio"/>	<input type="radio"/>	<input checked="" type="radio"/>	٣٩	<input type="radio"/>	<input type="radio"/>	<input type="radio"/>	<input checked="" type="radio"/>	١٣
<input type="radio"/>	<input type="radio"/>	<input type="radio"/>	<input checked="" type="radio"/>	٩٢	<input type="radio"/>	<input type="radio"/>	<input checked="" type="radio"/>	<input type="radio"/>	٦٦	<input type="radio"/>	<input type="radio"/>	<input type="radio"/>	<input checked="" type="radio"/>	٤٠	<input checked="" type="radio"/>	<input type="radio"/>	<input type="radio"/>	<input type="radio"/>	١٤
<input type="radio"/>	<input type="radio"/>	<input type="radio"/>	<input checked="" type="radio"/>	٩٣	<input type="radio"/>	<input checked="" type="radio"/>	<input type="radio"/>	<input type="radio"/>	٦٧	<input checked="" type="radio"/>	<input type="radio"/>	<input type="radio"/>	<input type="radio"/>	٤١	<input type="radio"/>	<input type="radio"/>	<input type="radio"/>	<input checked="" type="radio"/>	١٥
<input type="radio"/>	<input type="radio"/>	<input type="radio"/>	<input checked="" type="radio"/>	٩٤	<input type="radio"/>	<input type="radio"/>	<input checked="" type="radio"/>	<input type="radio"/>	٦٨	<input type="radio"/>	<input checked="" type="radio"/>	<input type="radio"/>	<input type="radio"/>	٤٢	<input type="radio"/>	<input type="radio"/>	<input type="radio"/>	<input checked="" type="radio"/>	١٦
<input type="radio"/>	<input type="radio"/>	<input type="radio"/>	<input checked="" type="radio"/>	٩٥	<input type="radio"/>	<input checked="" type="radio"/>	<input type="radio"/>	<input type="radio"/>	٦٩	<input checked="" type="radio"/>	<input type="radio"/>	<input type="radio"/>	<input type="radio"/>	٤٣	<input checked="" type="radio"/>	<input type="radio"/>	<input type="radio"/>	<input type="radio"/>	١٧
<input type="radio"/>	<input checked="" type="radio"/>	<input type="radio"/>	<input type="radio"/>	٩٦	<input type="radio"/>	<input type="radio"/>	<input checked="" type="radio"/>	<input type="radio"/>	٧٠	<input checked="" type="radio"/>	<input type="radio"/>	<input type="radio"/>	<input type="radio"/>	٤٤	<input type="radio"/>	<input checked="" type="radio"/>	<input type="radio"/>	<input type="radio"/>	١٨
<input type="radio"/>	<input type="radio"/>	<input type="radio"/>	<input checked="" type="radio"/>	٩٧	<input type="radio"/>	<input type="radio"/>	<input type="radio"/>	<input checked="" type="radio"/>	٧١	<input type="radio"/>	<input type="radio"/>	<input type="radio"/>	<input checked="" type="radio"/>	٤٥	<input checked="" type="radio"/>	<input type="radio"/>	<input type="radio"/>	<input type="radio"/>	١٩
<input type="radio"/>	<input type="radio"/>	<input type="radio"/>	<input checked="" type="radio"/>	٩٨	<input type="radio"/>	<input type="radio"/>	<input type="radio"/>	<input checked="" type="radio"/>	٧٢	<input type="radio"/>	<input type="radio"/>	<input type="radio"/>	<input checked="" type="radio"/>	٤٦	<input type="radio"/>	<input checked="" type="radio"/>	<input type="radio"/>	<input type="radio"/>	٢٠
<input type="radio"/>	<input checked="" type="radio"/>	<input type="radio"/>	<input type="radio"/>	٩٩	<input type="radio"/>	<input checked="" type="radio"/>	<input type="radio"/>	<input type="radio"/>	٧٣	<input checked="" type="radio"/>	<input type="radio"/>	<input type="radio"/>	<input type="radio"/>	٤٧	<input type="radio"/>	<input type="radio"/>	<input type="radio"/>	<input checked="" type="radio"/>	٢١
<input type="radio"/>	<input type="radio"/>	<input type="radio"/>	<input checked="" type="radio"/>	١٠٠	<input type="radio"/>	<input type="radio"/>	<input checked="" type="radio"/>	<input type="radio"/>	٧٤	<input checked="" type="radio"/>	<input type="radio"/>	<input type="radio"/>	<input type="radio"/>	٤٨	<input checked="" type="radio"/>	<input type="radio"/>	<input type="radio"/>	<input type="radio"/>	٢٢
<input checked="" type="radio"/>	<input type="radio"/>	<input type="radio"/>	<input type="radio"/>	١٠١	<input type="radio"/>	<input type="radio"/>	<input checked="" type="radio"/>	<input type="radio"/>	٧٥	<input checked="" type="radio"/>	<input type="radio"/>	<input type="radio"/>	<input type="radio"/>	٤٩	<input checked="" type="radio"/>	<input type="radio"/>	<input type="radio"/>	<input type="radio"/>	٢٣
<input type="radio"/>	<input type="radio"/>	<input type="radio"/>	<input checked="" type="radio"/>	١٠٢	<input type="radio"/>	<input type="radio"/>	<input type="radio"/>	<input checked="" type="radio"/>	٧٦	<input type="radio"/>	<input type="radio"/>	<input type="radio"/>	<input checked="" type="radio"/>	٥٠	<input type="radio"/>	<input type="radio"/>	<input type="radio"/>	<input checked="" type="radio"/>	٢٤
<input type="radio"/>	<input type="radio"/>	<input checked="" type="radio"/>	<input type="radio"/>	١٠٣	<input type="radio"/>	<input type="radio"/>	<input checked="" type="radio"/>	<input type="radio"/>	٧٧	<input type="radio"/>	<input type="radio"/>	<input type="radio"/>	<input checked="" type="radio"/>	٥١	<input type="radio"/>	<input type="radio"/>	<input type="radio"/>	<input checked="" type="radio"/>	٢٥
<input type="radio"/>	<input type="radio"/>	<input checked="" type="radio"/>	<input type="radio"/>	١٠٤	<input type="radio"/>	<input type="radio"/>	<input type="radio"/>	<input checked="" type="radio"/>	٧٨	<input type="radio"/>	<input checked="" type="radio"/>	<input type="radio"/>	<input type="radio"/>	٥٢	<input type="radio"/>	<input type="radio"/>	<input type="radio"/>	<input checked="" type="radio"/>	٢٦

