



تقويم ختامي لمهارات العلوم من الصف الثاني - ١٤٤٥

المهارات الأساسية

تسمية بعض أشكال اليابسة

تعداد بعض مصادر الماء على الأرض

تقديم كتابة حول ترشيد استهلاك الماء

تعداد بعض الأنواع المختلفة من التربة

ذكر سبب حدوث الليل والنهار

عمل نموذج بسيط يوضح حركة الشمس في السماء

المقارنة بين خصائص الفصول الأربعة

ذكر سبب حدوث الفصول الأربعة

ترتيب أطوار القمر من خلال الصور

تعداد مكونات النظام الشمسي



تقويم فئامي لمهارات العلوم - للصف الثاني ١٤٤٥ الفصل الدراسي الثاني

من خلال الصور التالية نحدد أشكال اليابسة :



نصل بين المفردة والعبارة المناسبة لها :

أجزاء صغيرة من اليابسة محاطة بالماء

أجزاء كبيرة من اليابسة محاطة بالمحيط

أجزاء غير حية تتكون منها الصخور

أشياء غير حية موجودة في الأرض

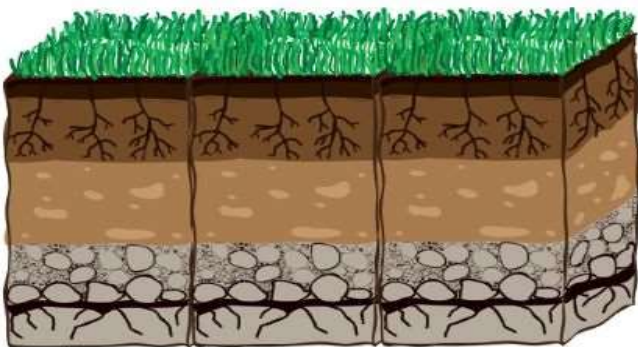
> قارة

> جزيرة

> الصخور

> المعادن

ما تتكون التربة :



.....

.....



نجيب على العبارات التالية بـ



من مصادر الماء العذب الآبار




تختلف التربة في لونها ولمسها



نظامنا الشمسي فيه عشرة كواكب

نحدد نوع التربة (رملية - زراعية - طينية) من خلال الصور :



ماذا ينتج عن دوران الارض حول الشمس :



تحت كل صورة نكتب اسم الفصول الاربعة :






ما يتكون نظامنا الشمسي :



1

2

الشكل التالي يمثل اي طور من أطوار القمر :



نرتب الكواكب التالية من ١ - ٤ حسب قربها من الشمس :

الزهرة

عطارد

مريخ

الأرض



بالتوفيق يا صغاري

محببتكم :

سكّره الشمري