

الاختبار الفترتي لمادة العلوم / الصف الثاني / الفصل الثاني

٥

**السؤال الأول :**

اختاري الإجابة الصحيحة مما بين القوسين :

١- تربة تحتوي على الكثير من بقايا النباتات والحيوانات .	١- (الدبال )	٢- (الصخور)
٢- خليط من فتات الصخور وقطع من بقايا الحيوانات والنباتات الميتة .	١- (المعدن)	٢- (التربة)
٣- النباتات والماء والصخور والمعادن أمثلة على .	١- (الموارد الطبيعية )	٢- (الموارد الصناعية)
٤- التربة ..... هي أفضل أنواع التربة للزراعة .	١- (الرملية )	٢- (السطحية )
٥- هي أجزاء صلبة غير حية تتكون منها الصخور .	١- (المعادن)	٢- (النباتات )

٥

**السؤال الثاني :**

ضعي علامة √ أمام العبارة الصحيحة وعلامة X أمام العبارة الخاطئة :

- ١- الجبل هي أرض مرتفعة شديدة الانحدار. ( )
- ٢- المحيط تجمع كبير وعميق من الماء المالح. ( )
- ٣- يوجد الماء العذب في الثلوج والأنهار. ( )
- ٤- الوادي أرض منخفضة تقع بين مرتفعين. ( )
- ٥- الفلوريت معدن يستخدم في صنع معجون الأسنان. ( )

الدرجة المستحقة:

١٠

مع تمنياتي لكم بالتوفيق  
المعلمة : هندا فرحان العززي

<p>المادة : العلوم الصف : الثاني الابتدائي الزمن : ٤٥ دقيقة</p>	 <p>وزارة التعليم Ministry of Education</p>	<p>المملكة العربية السعودية وزارة التعليم الإدارة العامة للتعليم بمنطقة ابتدائية مكتب التعليم</p>
---	--	---

- ١ - تتكون الكرة الأرضية من :  
- ثلاث أغلفة - أربع أغلفة - خمس أغلفة - ست أغلفة
- ٢ - من أشكال اليابسة التي نعيش عليها :  
- سهولاً منبسطة - ودياناً منخفضة - جبلاً وتلالاً مرتفعة - كل ذلك صحيح
- ٣ - مناطق مرتفعة ولكنها أقل ارتفاعاً من الجبال :  
- السهول - التلال - الجبال - الأنهار
- ٤ - تسمى الأجزاء الكبيرة من اليابسة :  
- جزيرة - سهول - وديان - قارات
- ٥ - توجد معظم مياه الأرض في :  
- المحيطات - البحار - الأنهار - البحيرات
- ٦ - يغطي الماء من الأرض :  
- الربع - النصف - ثلاثة أرباع - الثلث
- ٧ - يأتي الماء الجاري في الأنهار والجداول من ذوبان الثلوج على :  
- الآبار - الجبال - البحار - الأشجار
- ٨ - الأجزاء الصلبة غير الحية من الأرض هي :  
- الأشجار - الماء - الصخور - الهواء
- ٩ - خليط من فئات الصخور وبقايا النباتات والحيوانات الميتة :  
- الصخور - التربة - الدبال - الماء
- ١٠ - نباتات وحيوانات متحللة في التربة :  
- الصخور - التربة - الدبال - الماء
- ١١ - أجزاء غير حية تتكون منها الصخور :  
- الخشب - الماء - التربة - المعادن
- ١٢ - النبات والماء والصخور والمعادن أمثلة على :  
- التربة - المعادن - الدبال - الموارد الطبيعية
- ١٣ - تعد الطبقة السطحية من التربة الأفضل لنمو النباتات لأنها تحتوي على :  
- المعادن - الهواء في حبيباتها - صخور مفتتة - بقايا نباتات وحيوانات متحللة

اسئلة اختبار منتصف الفصل ( الفترة ) لمادة العلوم للصف الثاني ابتدائي  
الفصل الدراسي الثاني ١٤٤٤ هـ

١٠

الاسم: ..... الشعبة: .....

السؤال الأول : اختاري الإجابة الصحيحة من بين الخيارات التالية :

المهارة : تسمية بعض اشكال اليابسة		
١- من اشكال اليابسة		
الانهار	البحيرات	الجبال
المهارة : تعداد بعض مصادر الماء على الارض		
٢- من مصادر الماء على الارض		
الجبال	التلال	المحيطات
المهارة : معرفة مفهوم ( الصخور - المعادن )		
٣- أجزاء صلبة غير حية تتكون منها الصخور		
الصخور	المعادن	التربة
المهارة : تعداد بعض الأنواع المختلفة من التربة		
٤- نوع من أنواع التربة يحتفظ بالماء اكثر		
التربة الطينية	التربة الداكنة	التربة الرملية
المهارة : ذكر سبب حدوث الليل والنهار		
٥- سبب حدوث الليل والنهار هو		
دوران الارض	دوران الشمس	دوران القمر

انتهت الأسئلة  
مع تمنياتي لك بالتوفيق

المعلمة : نوره محمد الشهراني

اسم الطالب الثلاثي :	2030	المملكة العربية السعودية وزارة التعليم
شعبة		علوم الصف الثاني

السؤال الاول

اكمل الجمل التالية باستخدام الكلمة المناسبة

١-..... تربة تحوي الكثير من بقايا النباتات والحيوانات

٢-.....أجزاء صلبة غير حية تتكون منها الصخور

٣-النباتات والماء والصخور والمعادن أمثلة على .....


المعادن -  
الموارد الطبيعية -  
الدهال

السؤال الثاني : صل كل صورة بما يناسبها ؟

تربة طينية

تربة رملية

تربة زراعية









اسم الطالب الثلاثي :	2030	المملكة العربية السعودية وزارة التعليم
شعبة		علوم الصف الثاني السؤال الاول

المعادن -  
الموارد الطبيعية -  
الدبال

- اكمل الحمل التالية باستخدام الكلمة المناسبة
- ١-... تربة تحوي الكثير من بقايا النباتات والحيوانات **الدبال**
- ٢-... أجزاء صلبة غير حية تتكون منها الصخور **المعادن**
- ٣- النباتات والماء والصخور والمعادن أمثلة على .. الموارد الطبيعية

السؤال الثاني ؛ صل كل صورة بما يناسبها ؟

تربة طينية	
تربة رملية	
تربة زراعية	
	الجزائيت
	المجناثيت
	المترايز

## اختبار مادة العلوم للصف الثاني الابتدائي - منتصف الفصل الدراسي الثاني

٥

اكتب كل كلمة مما يأتي في الفراغ المناسب :

( الجبل - الوادي - التلال - السهل ) - في الأرض

١ - منطقة مُنْبَسِطَةٌ وَوَاسِعَةٌ ( .. السهل ..... )

 ٢ - منطقة مُرْتَفَعَةٌ جِدًّا مِنَ الْيَابِسَةِ ( ..... **الجبل** ..... )

 ٣ - مناطق مُرْتَفَعَةٌ وَ لَكِنْ أَقْلَ ارْتِفَاعًا مِنَ الْجِبَالِ ( .. **التلال** .. )

 ٤ - أرضٌ مُنْحَفِضَةٌ بَيْنَ الْجِبَالِ ( ..... **الوادي** ..... )

 ٥ - النَّبَاتَاتُ وَ الصُّخُورُ مِنَ الْمَوَارِدِ الطَّبِيعِيَّةِ ( ..... **في الأرض** ..... )

٥

أضع علامة ( ✓ ) أو علامة ( ✗ ) :

١ - تَسْتَطِيعُ الْحَيَوَانَاتُ الشَّرْبَ مِنْ مَاءِ الْبَحْرِ ( ✓ )

٢ - الدُّبَالُ ضَارٌّ لِلنَّبَاتَاتِ ( ✗ )

٣ - عِنْدَ النَّظَرِ إِلَى الْأَرْضِ مِنَ الْفُضَاءِ يَبْدُو الْمَاءُ بِاللُّوْنِ الْأَزْرَقِ ( ✓ )

٤ - يُمَكِّنُ لِلْأَسْمَاكِ أَنْ تَعِيشَ خَارِجَ الْمَاءِ ( ✗ )

٥ - مِنْ مَصَادِرِ الْمَاءِ الْعَذْبِ الْآبَارُ ( ✓ )

قياس أداء طالب/ة للصف الثاني الابتدائي لمادة العلوم للعام الدراسي 1443هـ (الاختبار البعدي) ن (2)

	اسم الطالب/ة: .....
	الصف/ .....
10	المدرسة/ .....

3

❖ السؤال الأول :

☒ أكمل الجمل بما يناسبها من الكلمات التالية ( دورة الحياة - يرقة - أرنب )

- يسمى صغير الفراشة.....
- تبين.....كيف ينمو المخلوق الحي ويتغير.
- السلسلة الغذائية ( شمس - جزر - ..... - ثعلب )

2

❖ السؤال الثاني:

ضعي علامة ( ✓ ) أمام العبارة الصحيحة وعلامة ( x ) أمام العبارة الصحيحة :

- 1- يوجد الماء العذب في المحيط ( ..... )
- 2- يطلق على الشمس اسم النجم الحار المتوهج ( ..... )
- 3- سبب حدوث الليل والنهار دوران الأرض حول محورها ( ..... )
- 4- الغابة المطيرة موطن تسقط فيه الأمطار كل يوم تقريباً ( ..... )

2

❖ السؤال الثالث :

☒ إختار الإجابة الصحيحة :

- 1- الكواكب والأقمار والشمس تشكل ( النظام الشمسي - الكواكب - الأرض )
- 2- نظامنا الشمسي فيه ( ستة كواكب - سبعة كواكب - ثمانية كواكب )
- 3- خليط من فتات الصخور وبقايا النباتات والحيوانات الميتة ( التربة - الصخور - المعادن )

\*سبب حدوث الليل والنهار

دوران الأرض حول الشمس

دوران الأرض حول محورها

دوران الكواكب

السؤال الرابع:

أرتب الصور التالية بحيث تظهر دورة حياة نبات الفاصوليا، استخدم الأرقام من ١-٤:



انتهت الأسئلة بالتوفيق للجميع



الصف : الثاني ابتدائي		المملكة العربية السعودية وزارة التعليم مكتب التعليم بمحافظة مكتب الفيحاء الطفولة المبكرة بإبتدائية ٦٢
الفصل الدراسي الثاني		
المادة : علوم		
اسئلة تقييم مادة العلوم للصف الثاني الابتدائي ( الفصل الدراسي الثاني)		

اسم الطالبة : \_\_\_\_\_

رقم المعيار	مسمى المعيار	متقن		
		متفوق ٪١٠٠	متقدم ٩٠٪ الى اقل من ١٠٠٪	متمكن ٨٠٪ الى اقل من ٩٠٪
غير متقنة	غير مجتاز اقل من ٨٠٪			
١	تسمية بعض أنواع اليابسة			
٢	تعداد بعض مصادر الماء على الأرض			
٤	مفهوم الصخور والمعادن			

السؤال الأول : من خلال الصور التالية تحدد أشكال اليابسة ( وادي - جبال - صحراء ) :






السؤال الثاني : نصل بين المفردة والعبارة المناسبة لها :

أشياء غير حية موجودة في الأرض
أجزاء غير حية تتكون منها الصخور
تجمع كبير وعميق من الماء المالح
ماء غير مالح مياه البحيرات والانهار والعيون

ماء عذب
المحيط
الصخور
المعادن