



مدونة المناهج السعودية

<https://eduschool40.blog>

الموقع التعليمي لجميع المراحل الدراسية

في المملكة العربية السعودية

تجميع يوم السبت

للفترتين الصباحي والمسائي

أنزل تحت لمشاهدة الاسئلة

تجميع أبداع بقدراتك اليومي - السبت 6-2-1441 هـ

أوروبا

ب

السعودية

أ

كازاخستان

د

تركيا

ج

ليبيا

د

رواية : فلم

ب

حليب: جين

أ

ممثل : انتاج

د

.

ج

لاعب:مدرب

ب

الغبى هو من يتكلم ببطئ ويفهم
بسرعه

ب

يتكلم

أ

الغبى

د

.

ج

يفكر

أ

جاهد نفسك كما تجاهد صديقك

ب

نفسك

أ

جاهد

د

.

ج

صديقك

ج

ما يأتي بسهولة يذهب بـ.. وماتجلبه
الرياح .. الزوابع

ب

.

أ

سهولة - تاخذه

د

.

ج

.

أ

مينااء: بضائع

ب

مطار: مسافرين

أ

طريق: سفر

د

.

ج

.

ب

سبب .. الكثيرين انهم يجهلون نقاط

..... فيهم

ب

.

أ

اخفاق-الضعف

د

.

ج

.

أ

المفردة الشاذة

ب

نمر

أ

أسد

د

فهد

ج

ذئب

ج

من يطلب .. قدره فانه يستحق ... ؟

ب

.

أ

فوق-الحرمان

د

.

ج

.

أ

صحة

ب

نوم

أ

جلوس

د

وقوف

ج

مشي

ج

خشب: ورق

ب

.

أ

.

د

رمل: زجاج

ج

.

د

المفردة الشاذة

ب

عواء

أ

فحيح

د

نقيق

ج

زئير

د

المفردة الشاذة

ب

غصن

أ

شجرة

د

ثمرة

ج

ورقة

أ

اذا ضاع العظيم بين الناس فكيف
لا يضيع بينهم القائد

ب

الناس

أ

العظيم

د

.

ج

القائد

ج

برد: زكام

ب

أرتفاع: علو

أ

سرب: سراب

د

حر: حمي

ج

ضيقة: أزدحام

د

قطعة برج ايفل + الحوت

ب

.

أ

.

د

.

ج

.

د

المفردة الشاذة

ب

قميص

أ

فستان

د

خلخال

ج

عقد

ب

الخميس: الجمعة

ب

.

أ

.

د

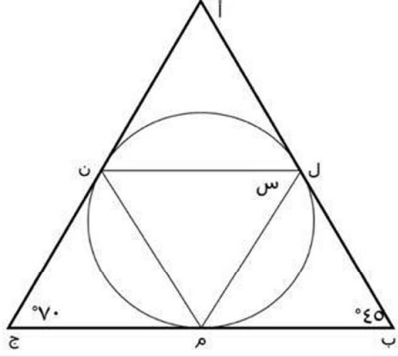
الصيف: الخريف

ج

.

د

دائرة تمس اضلاع المثلث



=س

ب

45°

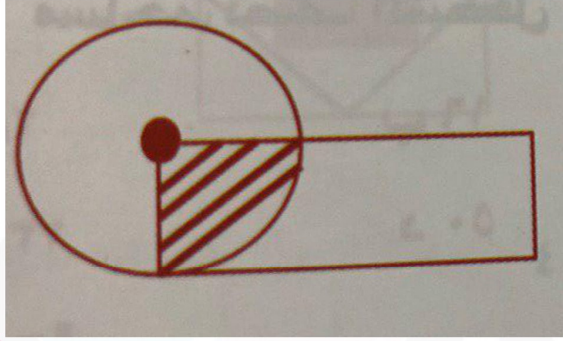
أ

55°

د

ج

أ



إذا كان مساحة الظل تساوي 10
ومساحة المستطيل تساوي
مساحة الدائرة
أوجد مساحة المستطيل

ب

45

أ

30

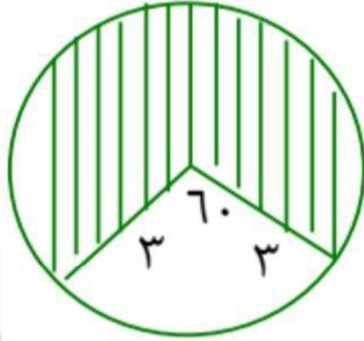
د

55

ج

40

ج



أوجد مساحة المنطقة المظللة

ب $\frac{1}{6}$ ط

أ $\frac{2}{3}$ ط

د $\frac{15}{2}$ ط

ج $\frac{3}{4}$ ط

د

ماهو العدد الذي يقبل القسمة على 6

ب
999997

أ
999996

د
999999

ج
999998

أ

إذا كان $5^{100} - 5^{99} = 5^s \times 4$
أوجد قيمة s

ب

5

أ

1

د

100

ج

99

ج

صندوق فيه 60 تفاحة بين كل 12 تفاحة 8 تفاحات صالحة
فكم عدد التفاحات الفاسدة؟

ب

16

أ

15

د

30

ج

20

ج

اشترك فهد في الأسهم ودفع 4000 ريال ثم صرف النصف
ثم صرف نصف المتبقي ثم صرف الباقي كم يتبقى؟

ب

225

أ

250

د

ج

500

ج

شركة عصير كل 5 دقائق تنتج 100 علبة عصير
كم ساعه تحتاج لانتاج 1200 علبه عصير؟

ب ساعة ونص

أ ساعة

د

ج

أ

اشترى رجل برتقالا وتفاحاً ب 96 ريالاً
إذا كان البرتقال نصف ثمن التفاح فكم ثمن البرتقال؟

ب

32

أ

30

د

24

ج

26

ب

$$\sqrt[3]{\frac{1}{س3}} = س3$$

أوجد قيمة س

ب

9

أ

$\frac{1}{9}$

د

3

ج

$\frac{1}{3}$

ج

اربع اعداد فردية متتالية
ضرب العدد الاول في العدد الأخير = 27
فكم ضرب الثاني في الثالث

ب

25

أ

35

د

30

ج

20

أ

اذا اشترت سلمى جهاز بقيمة 4000 ريال و بعد سنتين
انخفض سعره الى 2500 ريال ف كم قيمه الخفض السنوي ؟

ب
1000

أ
500

د
1500

ج
2000

د

$$\sqrt[3]{27 \times 64}$$

ب

14

أ

12

د

ج

أ

هناك أرض مساحتها 2050 قُسمت
على 5 أبناء فكم نصيب كل ابن؟

ب

410

أ

420

د

ج

ب

قارن بين:
القيمة الاولى 1.40
القيمة الثانية 1.25 ضرب 1.25

ب
القيمة الثانية أكبر

أ
القيمة الأولى أكبر

د
المعطيات غير كافية

ج
القيمتان متساويتان

ب

إذا كانت نسبة الأولاد إلى البنات 6 : 7
وكان عدد الأولاد 18 فما عدد البنات؟

ب

21

أ

18

د

ج

ب

5،15 ،.....،135

ب

45

أ

70

د

ج

ب

اذا كان عمر احمد بعد 10 سنوات
يساوي مثلي عمره قبل 20 سنه
فكم عمر احمد؟

ب

50

أ

30

د

ج

ب

خمس اعداد فرديه متتاليه مجموعها 100
فما هو العدد المتوسط؟

ب

18

أ

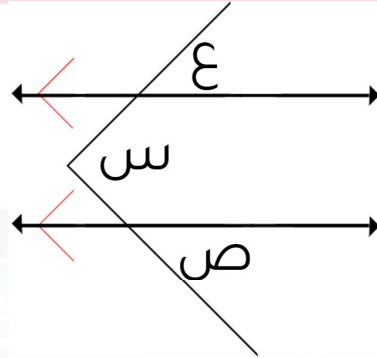
20

د

ج

30

أ



قارن بين

القيمة الأولى: ع + ص
القيمة الثانية: س

ب

القيمة الثانية أكبر

أ

القيمة الأولى أكبر

د

المعطيات غير كافية

ج

متساويتين

ج

فريق التجميع

محمد البدر

البراء حسن

كيان العمري

إيلانا الراجحي

تجميع أبداع بقدراتك اليومي - السبت 6-2-1441 هـ