
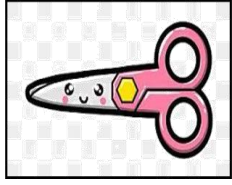


التاريخ:	 وزارة التعليم Ministry of Education	المملكة العربية السعودية
المادة: العلوم		وزارة التعليم
الصف: الأول الابتدائي		الإدارة العامة للتعليم بمنطقة .....
اسم الطالب/ة..... الفصل/.....		

## تقويم ختامي لمهارات علوم الصف الأول – (الفصل الدراسي الثاني) عام ١٤٤٤


السؤال الأول: نضع علامة (صح) تحت الموارد الطبيعية الحية:







السؤال الثاني: نصل كل كلمة بالصورة المناسبة:



الترشيد

صلب

موارد الارض

مخلوط

غاز



السؤال الثالث: نحدد الصورة التي تشير الى تلوث الهواء والماء والتربة:







السؤال الرابع: نكتب تحت كل صورة حالة المادة (صلب , سائل , غاز):



.....  
.....

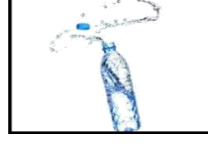
.....  
.....

.....  
.....


السؤال الخامس: نصل كل صورة من صور المواد بخصائصها:



سوائل تنساب بسرعة

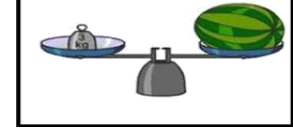


خفيف

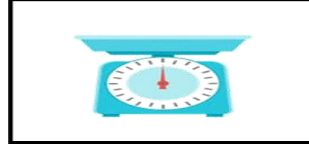


مصنوع من معدن

السؤال السادس: ١\_ نستخدم لقياس طول الأشياء الصلبة:

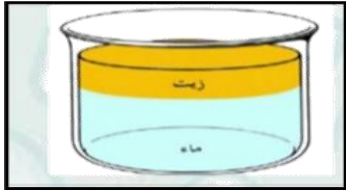


٢\_ يمكن قياس كمية السائل ب.....؟



السؤال السابع:

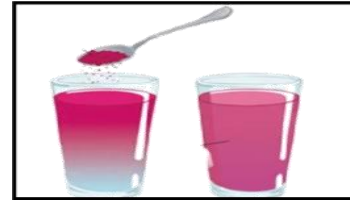
١\_ أيهما مخلوط صلب:



.....



.....



.....



.....

٢\_ نحدد طريقة فصل المخلوط ( المغناطيس ، الطفو):

(.....)



بالتوفيق يا صغاري

سكره الشمري