



جدول الضرب إثراء وثراء
ابتدائية 34 بعنيزة


أوراق عمل بالهدف الوجداني

* احتراماً لآيات الله تذكر الآية قبل الإجابة ويكون تقييم الطالبة ذاتي

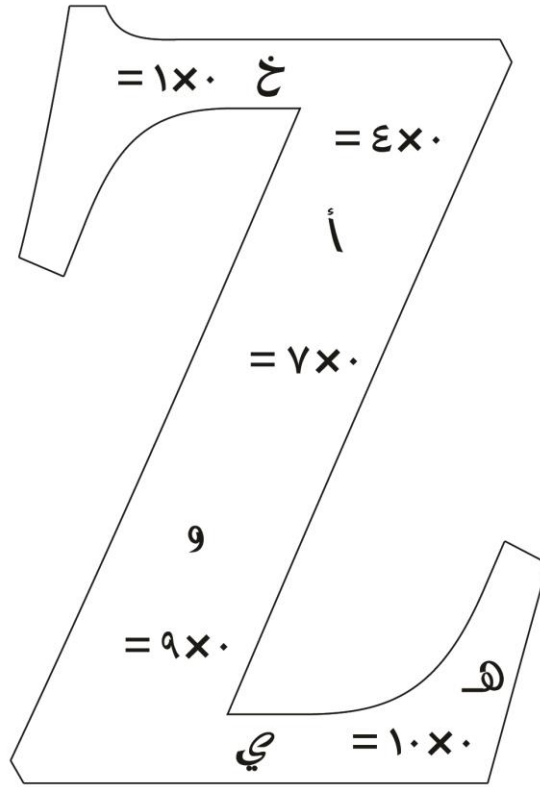
ابتدائية ٣٤ بعنيزة

اعداد المعلمة / الجوهرة علي الدهاسي

قائدة المدرسة / موزي سالم القرزعي


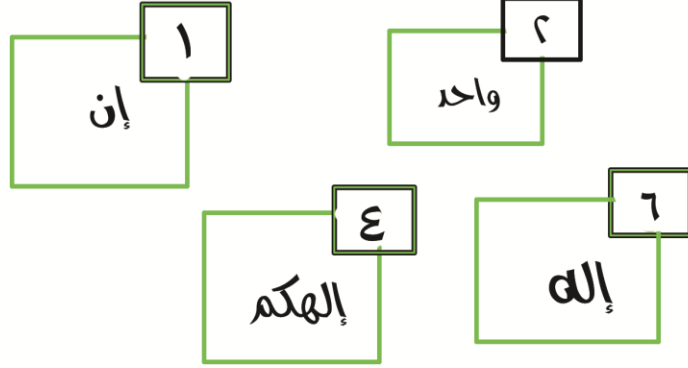


ساعدني السيد ذكي في حل المسائل التي تواجهني في الطريق حتى يلتقط الحروف
ويكون منها كلمة تكتمل بها الآية الكريمة في الأسفل



قال تعالى (وأحيط بثمره فأصبح يقلب كفيه على ما
أنفق فيها وهي على عروشها)

جدول ضرب الرقم واحد



صلي الإشكال التي ينتج عن عملية ضرب الأعداد بداخلها الأعداد التي في المربعات الصغيرة في الأعلى ومن ثم رتب الكلمات في المربعات الكبيرة واكتبها في السطر أدناه وتكوني بذلك قد ساعدتي الضفدع في عبور البحيرة

ابتدائية ٣٤ بعنيزة

اعداد المعلمة / الجوهرة علي الدهاسي

قائدة المدرسة / موزي سالم القرزعي

أجري عمليات الضرب التالية ومن ثم صلي
كل دائرة بالدائرة المناسبة لها

جدول ضرب إثنين



خلقنا

ومن

زوجين

$$= 3 \times 2$$

$$= 6 \times 2$$

شيء

كل

$$= 0 \times 2$$

$$= 1 \times 2$$

$$= 2 \times 2$$

$$= 8 \times 2$$

أثنين

$$2 = \text{شيء}$$

$$8 = \text{أثنين}$$

$$4 = \text{ومن}$$

$$12 = \text{خلقنا}$$

$$10 = \text{زوجين}$$

$$6 = \text{كل}$$

قال تعالى:

ابتدائية ٣٤ بعنيزة


اعداد المعلمة / الجوهرة علي الدهاسي

قائدة المدرسة / موزي سالم القرزعي



جدول ضرب

الرقم ثلاثة



أجري عمليات الضرب الآتية ومن ثم استبدلي
الأرقام بالحرف المناسب لها لتكملي الآية أدناه:

$$= 1 \times 3$$

$$= 3 \times 3$$

$$= 4 \times 3$$

$$= 6 \times 3$$

$$= 9 \times 3$$

ابتدائية ٣٤ بعنيزة

اعداد المعلمة / الجوهرة علي الدهاسي

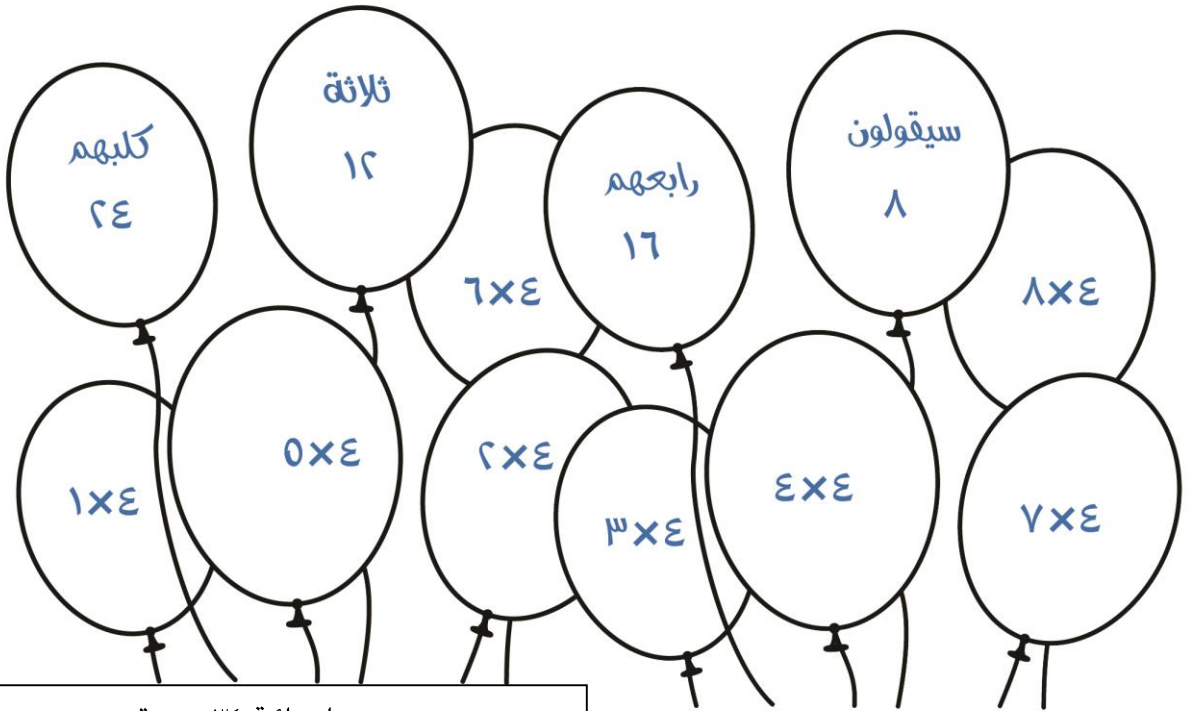
قائدة المدرسة / موزي سالم القرزعي

قال تعالى (لقد كفر الذين قالوا إن الله ثالث...)

جدول ضرب أربعة

لوني كل بالونين متناسبين مع بعضهما ثم رتبي
الكلمات حتى تعرفي الأية الكريمة

قال تعالى:



ابتدائية ٣٤ بعنيزة

اعداد المعلمة / الجوهرة علي الدهاسي

قائدة المدرسة / موزي سالم القرزعي

جول ضرب الرقم خمسة

ابتدائية ٣٤ بعنيزة

اعداد المعلمة / الجوهرة علي الدهاسي


قائدة المدرسة / موزي سالم القرزعي

اصطادي السمكة المناسبة بعد النظر الى جول الأرقام . . ومن ثم أستبدلي كل رقم بالحرف الموجود على السمكة
المناسبة ثم رتبي الحروف لتحصلي على الكلمة المناسبة لتكملي الأية

١٥	٥	٣٠	٢٠

قال تعالى

(مَا يَكُونُ مِنْ حُجْوَى ثَلَاثَةٍ إِلَّا هُوَ رَابِعُهُمْ وَلَا إِلَّا هُوَ سَادِسُهُمْ)



جدول ضرب العدد ستة

ساعدني العصفورة في تجميع كلمات الآية الكريمة ومن ثم كتابتها



$$= 6 \times 6$$

وَمَا بَيْنَهُمَا

$$= 0 \times 6$$

السَّمَاوَاتِ وَالْأَرْضِ

$$= 3 \times 6$$

وَلَقَدْ خَلَقْنَا

$$= 9 \times 6$$

مِنْ لُحُوبٍ

$$= 7 \times 6$$

وَمَا مَسَّنَا

$$= 4 \times 6$$

فِي سِتَّةِ أَيَّامٍ

قال تعالى


ابتدائية ٣٤ بعنيزة

اعداد المعلمة / الجوهرة علي الدهاسي

قائدة المدرسة / موزي سالم القرزعي

جدول ضرب الرقم سبعة

صلي كدلاعب بالكرة المناسبة له . . ثم اجمعي الحروف لتكوني كلمة تكملني بها الآية أدناه



(أَلَمْ تَرَوْا كَيْفَ خَلَقَ اللَّهُ سَبْعَ سَمَاوَاتٍ)

ابتدائية ٣٤ بعنيزة

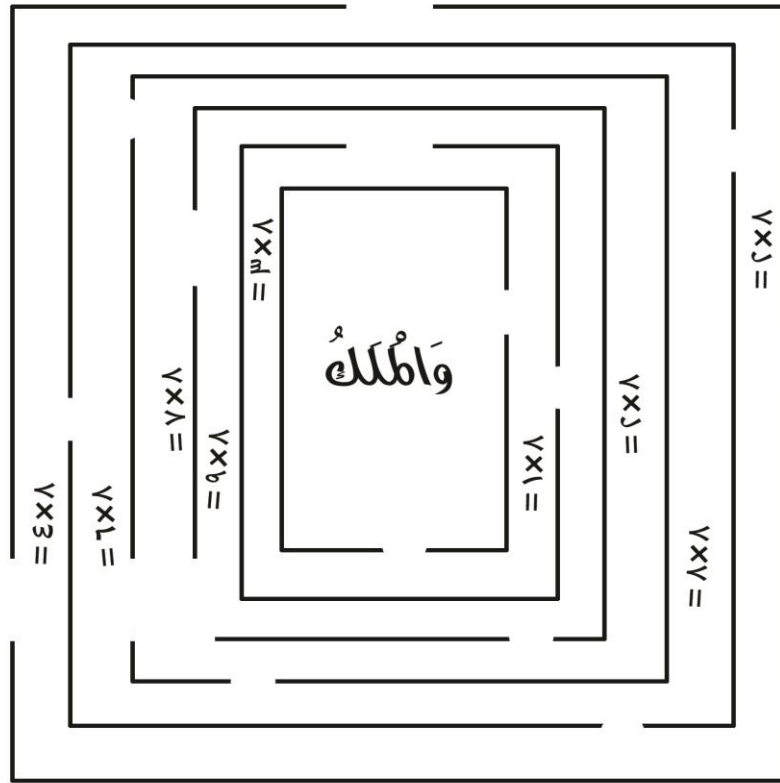
اعداد المعلمة / الجوهرة علي الدهاسي

قائدة المدرسة / موزي سالم القرزعي

جدول ضرب
العدد ثمانية

ابتدائية ٣٤ بعنيزة
اعداد المعلمة / الجوهرة علي الدهاسي
قائدة المدرسة / موزي سالم القرزعي

تجاوزي امتناقة بعد حلك للمسائل التي ستواجهينها في الطريق ومن
ثم خذي الكلمة التي بالوسط معك لتكملي بها الآية الكريمة




(..... عَلَى أَرْجَانِهَا وَجَمِدُ عَرْشِ رَبِّكَ قَوْفُهُمْ يَوْمَئِذٍ ثَمَانِيَةٌ)







قال تعالى




جدول ضرب العدد
تسعة



أجري عمليات الضرب التالية ثم رتب الحروف لتحصلي على الآية الناقصة من النص القرآني الكريم



قال تعالى (وَلْيَتُوبَا فِي كَهْفِهِمْ ثَلَاثَ مِئَةٍ... وَأَزْدَادُوا تَسْعًا)



ابتدائية ٣٤ بعنيزة

اعداد المعلمة / الجوهرة علي الدهاسي

قائدة المدرسة / موزي سالم القرزعي

جدول ضرب العدد عشرة



$= 10 \times 10$
أمثاله

أجيب عن المسائل التالية ثم رتب الكلمات واكتب الأية الكريمة

$$= 6 \times 10$$

عشر

$$= 7 \times 10$$

فله

$$= 3 \times 10$$

بالحسنة

$$= 0 \times 10$$

من جاء

قال تعالى

.....

ابتدائية ٣٤ بعنيزة

اعداد المعلمة / الجوهرة علي الدهاسي

قائدة المدرسة / موزي سالم القرزعي