



موقع اجاباتكم

Google

للمزيد اكتب
في جوجل



موقع اجاباتكم

موقع اجاباتكم التعليمي يوفر كل ما يحتاجه الطالب
والمعلم من حلول الكتب توزيع المنهج. اختبارات
نهائية وفترية ملخصات. أوراق عمل والكثير

٢٠

اختبار الفترة الأولى لمادة العلوم للصف السادس الابتدائي الفترة الدراسية الثانية ١٤٤٧ هـ

اسم الطالب / ة الصف:

(٥ درجات)

السؤال الأول : اختاري الإجابة الصحيحة :

١ - أي من المعالم التالية ليس من معالم سطح القمر :			
المحيطات	الفوهات	الأودية	الجبال
٢- أي الكواكب التالية أقرب الى حجم الأرض :			
المشتري	المريخ	الزهرة	عطارد
٣ - تنشأ الحركة الظاهرية للشمس بسبب :			
تعاقب الفصول	دوران الأرض حول الشمس	تعاقب الليل والنهار	دوران الأرض حول محورها
٤ - يسمى خط الطول الذي يبين التاريخ :			
منطقة التوقيت المعياري	خط التاريخ الدولي	خط العرض	خط الاستواء
٥ - دورة الأرض اليومية تستغرق :			
١٢ ساعة	أسبوع	٢٤ ساعة	شهر

(٥ درجات)

السؤال الثاني : ضعي علامة (√) أو (x) أمام كل عبارة مما يلي :

١	شكل القمر الذي نراه ليلاً في السماء يسمى طور القمر
٢	السنة الضوئية هي المسافة التي يقطعها الضوء في سنة
٣	يحدث المد والجزر بسبب التجاذب بين الأرض والقمر
٤	تنتج عن دورة الأرض اليومية الفصول الأربعة
٥	خط التاريخ الدولي هو خط الطول ١٦٠



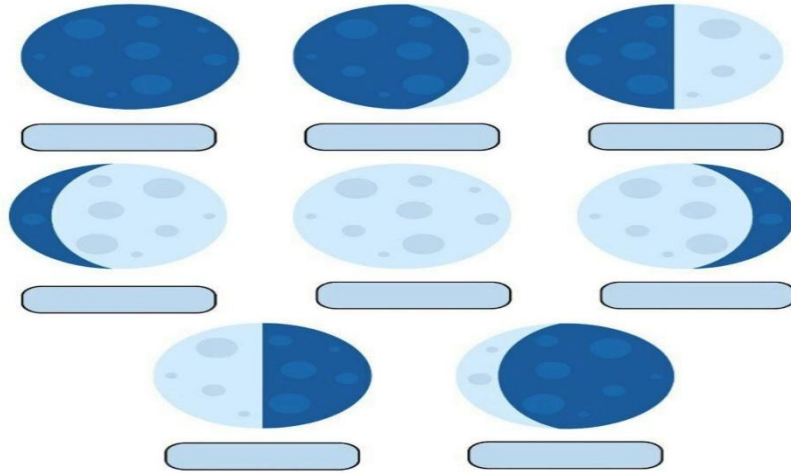
(٥ درجات)

السؤال الثالث : صلي بين العامود (أ) وما يناسبه من العامود (ب) :

العامود (أ)	العامود (ب)
١ الكون	كميات ضخمة من الغازات والغبار .
٢ المنظار الفلكي	هو أن تقع الأرض بين الشمس والقمر .
٣ السديم	جسم يدور حول كوكب .
٤ خسوف القمر	جهاز يجمع الضوء ويكبر الصورة لتبدو الأجسام البعيدة أقرب وأكبر وأكثر لمعاناً .
٥ القمر	جميع الأجرام والكواكب والنجوم والمجرات في الفضاء .

(٣ درجات)

السؤال الرابع : (أ) : سمى كل طور من أطوار القمر :



(٢ درجتان)

(ب) اكمل الفراغات :

- ١ / الكواكب الداخلية و..... و..... و.....
٢ / الكواكب الخارجية و..... و..... و.....

تمنيتي لكن بالتوفيق ،،،،،،،، معلمة المادة / وداد الحري. ♥

نموذج الاجابة

٢٠

اختبار الفترة الأولى لمادة العلوم للصف السادس الابتدائي الفترة الدراسية الثانية ١٤٤٧ هـ

اسم الطالب / ة ((نموذج إجابة)) الصف:

(٥ درجات)

السؤال الأول : اختاري الإجابة الصحيحة :


١ - أي من المعالم التالية ليس من معالم سطح القمر :			
المحيطات	الفوهات	الادوية	الجبال
٢- أي الكواكب التالية أقرب الى حجم الأرض :			
المشتري	المريخ	الزهرة	عطارد
٣ - تنشأ الحركة الظاهرية للشمس بسبب :			
تعاقب الفصول	دوران الأرض حول الشمس	تعاقب الليل والنهار	دوران الأرض حول محورها
٤ - يسمى خط الطول الذي يبين التاريخ :			
منطقة التوقيت المعياري	خط التاريخ الدولي	خط العرض	خط الاستواء
٥ - دورة الأرض اليومية تستغرق :			
١٢ ساعة	أسبوع	٢٤ ساعة	شهر

موقع اجاباتكم

(٥ درجات)

السؤال الثاني : ضعي علامة (√) أو (x) أمام كل عبارة مما يلي :

صح	شكل القمر الذي نراه ليلاً في السماء يسمى طور القمر	١
صح	السنة الضوئية هي المسافة التي يقطعها الضوء في سنة	٢
صح	يحدث المد والجزر بسبب التجاذب بين الأرض والقمر	٣
خطأ	تنتج عن دورة الأرض اليومية الفصول الأربعة	٤
خطأ	خط التاريخ الدولي هو خط الطول ١٦٠	٥



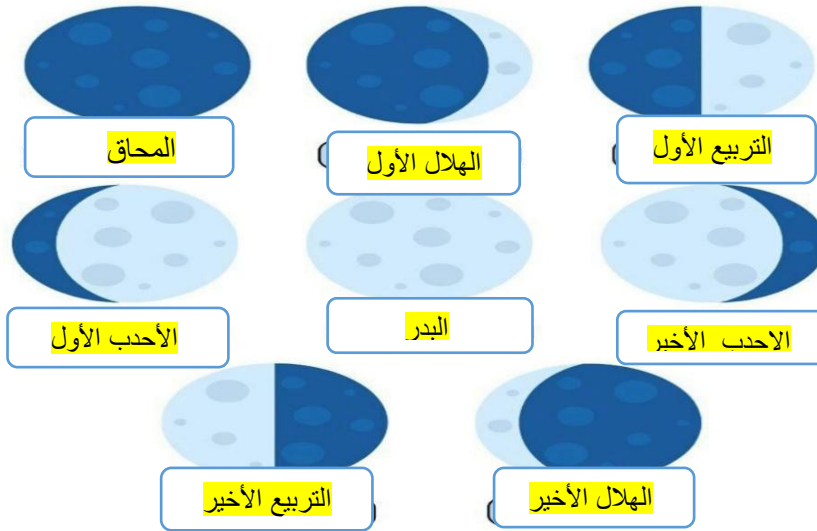
(٥ درجات)

السؤال الثالث : صلي بين العامود (أ) وما يناسبه من العامود (ب) :

العامود (أ)		العامود (ب)
١ الكون	٣	كميات ضخمة من الغازات والغبار .
٢ المنظار الفلكي	٤	هو أن تقع الأرض بين الشمس والقمر .
٣ السديم	٥	جسم يدور حول كوكب .
٤ خسوف القمر	٢	جهاز يجمع الضوء ويكبر الصورة لتبدو الأجسام البعيدة أقرب وأكبر وأكثر لمعاناً .
٥ القمر	١	جميع الأجرام والكواكب والنجوم والمجرات في الفضاء .

(٣ درجات)

السؤال الرابع : (أ) : سمى كل طور من أطوار القمر :



(٢ درجتان)

(ب) اكمل الفراغات :

- ١ / الكواكب الداخلية .. عطارد..و. الزهرة . و.. الأرض..و .. المريخ...
٢ / الكواكب الخارجية .. المشتري ...و... زحل . و.. اورانوس...و ... نبتون ...

تمنياتي لكن بالتوفيق ،،،،،،،، معلمة المادة / وداد الحربي .

(قناة أ . وداد الحربي)

للمزيد من الاختبارات اضغط هنا