

الصف : الثاني الابتدائي		المملكة العربية السعودية
المادة : رياضيات		وزارة التعليم
الزمن : ساعتان و نصف		مدرسة
عدد الأوراق : ٤		

اختبار نهائي لمادة رياضيات الفصل الدراسي الثاني (الدور الأول) لعام 1447هـ-

40

الطالب/ة: الصف: ثاني
رقم الجلوس :

اسم المدققة وتوقيعها	اسم المراجعة وتوقيعها	اسم المصححة وتوقيعها	الدرجة		رقم السؤال
			كتابة	رقما	
					السؤال الأول
					السؤال الثاني
					السؤال الثالث
					المجموع

تعليمات الاختبار :

- اقربي السؤال جيداً قبل البدء في الإجابة.
- اكتبني بخط واضح مع مراعاة نظافة الورقة.
- لا تتركي سؤال بدون إجابة.
- راجعي إجابتك أكثر من مرة قبل التسليم.

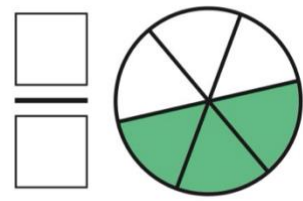
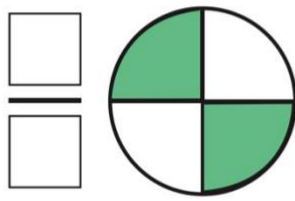
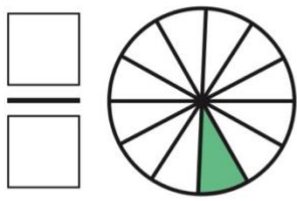
مديرة المدرسة:

معلمة المادة : منار القرني.

(أ) عد النقود ثم اكتب المجموع في البطاقة:



(ب) اكتب الكسر الدال على الأجزاء الملونة:



(ج) قارن بين الأعداد مستعملاً الإشارة المناسبة (= ، < ، >) :

$$٦٨٩ \bigcirc ٧٨٩$$

$$٢١٠ \bigcirc ٢١٠$$

$$٣٠٠ \bigcirc ٢٩٩$$

(د) اكتب الصورة التحليلية للعدد، ثم اكتبه:

٤ آحادٍ ٢ عَشْرَاتٍ ٣ مِئَاتٍ

..... + +
.....

٥ آحادٍ ٣ عَشْرَاتٍ ٦ مِئَاتٍ

..... + +
.....

(هـ) استعملت هند العد بالمئات، فنسيت عددان:

١١٠ ، ٢١٠ ، ٣١٠ ، ، ، ٦١٠



- حوط الإجابة الصحيحة:

١- قدر الوقت اللازم للعب مباراة كرة قدم:

ثانية واحدة - دقيقة واحدة - ساعة واحدة

٢- إذا كان أمس هو الثلاثاء فاليوم.....

الإثنين - الأربعاء - الأحد

٣- شكل مستوي عدد أضلاعه ٦ وعدد رؤوسه ٦ هو

السداسي - الدائرة - المربع

٤- العدد " خمس مئة وستة وثلاثون " يكتب بالأرقام:

٦٥٣ - ٥٣٦ - ٦٣٣

٥- وحدة قياس الطول هي:

اللتز - الجرام - السنتيمتر

٦- القيمة المنزلية للعد المظل ٦٨٥

٦ - ٦٠٠ - ٦٠

٧- كم ورقة نقدية من فئة (١٠ ريال) احتاج لأكون ١٠٠ ريال؟

١٠ ورقات - ٥ ورقات - ١٥ ورقة

٨- ناتج جمع المنات $٧٠٠ + ٣٠٠ = \dots$

١٠ - ١٠٠٠ - ١٠٠



٩- وحدة القياس الأنسب لقياس سعة (قدر الطبخ) هي:

السننيمتر - الملتر - اللتر

١٠- الجسم  يسمى


مكعب - مخروط - كرة

١١- وحدة القياس الأنسب لقياس كتلة (٥ تفاحات) هي:



الكيلوجرام - الملتر - السننيمتر

١٢- مجسم له وجهان وليس لديه أحرف او رؤوس:



١٣- تشير الساعة المجاورة الى:



٤:٣٠ - ١٢:١٥ - ٥:٠٠



(أ) اوجد ناتج العمليات الحسابية التالية:

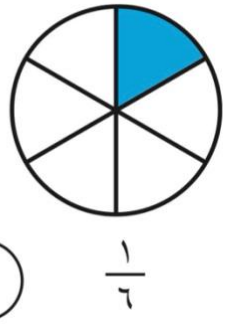
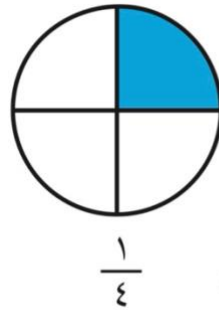
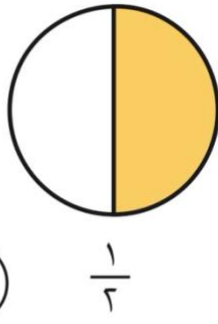
$$\begin{array}{r} 500 \\ 200 - \\ \hline \end{array}$$

$$\begin{array}{r} 399 \\ 112 - \\ \hline \end{array}$$

$$\begin{array}{r} 233 \\ 549 + \\ \hline \end{array}$$

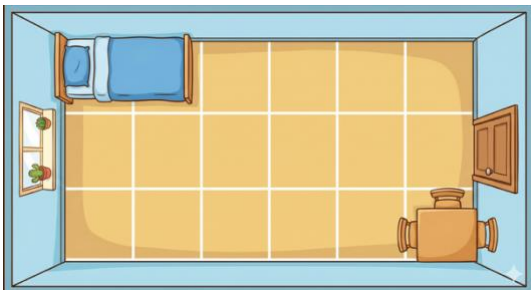
$$\begin{array}{r} 561 \\ 26 + \\ \hline \end{array}$$

(ب) قارن بين الكسرين مستعملًا < أو >:



(ج) مع سارة ٣٠٠ ريال، إذا أعطها والدها ٢٠٠ ريال أخرى، فكم ريالاً يصبح معها؟

$$\dots\dots\dots = \dots\dots\dots + \dots\dots\dots$$



(د) كم تبلغ مساحة غرفة نواف؟

..... وحدات مربعة