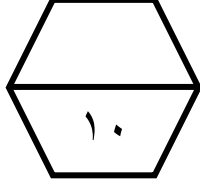


اسم الطالب /

ورقة عمل (الأسبوع العاشر) للصف الرابع الابتدائي الفصل الدراسي الثاني للعام الدراسي ١٤٤٧ هـ




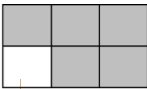
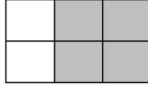

المهارات
الزمن المنقضي
الكسور الاعتيادية

ضع علامة (\checkmark) أمام العبارة الصحيحة وعلامة (\times) أمام العبارة الخاطئة :		١
<input checked="" type="checkbox"/>	أ الزمن المنقضي، وهو مقدار الزمن ما بين بداية النشاط ونهايته.	
<input checked="" type="checkbox"/>	ب الكسر قد يمثل جزءا من الكل، أو جزءا من مجموعة .	
<input checked="" type="checkbox"/>	ج يدل البسط على عدد الأجزاء .	

بدأ نشاط الساعة ٤:٤٥ وانتهى الساعة ٨ . ما الزمن الذي استغرقه هذا النشاط ؟					٢		
٤ ساعات	د	٣ ساعات و ٣٠ دقيقة	ج	٣ ساعات و ١٥ دقيقة		ب	٣ ساعات

ما الزمن الذي استغرقه هذا النشاط					٣				
وقت البدء	وقت الانتهاء	ساعتين	د	ساعة و ١٥ دقيقة		ج	ساعة و ١٠ دقائق	ب	ساعة واحدة

ما الكسر الذي يمثل الجزء المظلل في الشكل المجاور :					٤			
	$\frac{5}{3}$	د	$\frac{5}{2}$	ج		$\frac{3}{5}$	ب	$\frac{2}{5}$

اختر الرسم المظلل الذي يمثل الكسر : $\frac{4}{6}$					٥		
	د		ج			ب	